




جمهورية مصر العربية  
وزارة التربية والتعليم والتعليم الفني  
الإدارة المركزية لشئون الكتب

# الرياضيات

الصف الأول الثانوى      الفصل الدراسى الثانى



**للرياضيات** تطبيقات عملية في مجالات متعددة منها إنشاء الطرق والبنى وتخطيط المدن وإعداد خرائطها التي تعتمد على توازي المستقيمتان و المستقيمتان القاطعة لها وفق تناسب بين الطول الحقيقي والطول في الرسم. والصورة للوبرى السلام الذى يربط بينه ضفتي قناة السويس

## إعداد

أ/ عمر فؤاد جاب الله

أ.د/ عفاف أبو الفتوح صالح

أ.م.د/ عصام وصفى روفائيل

أ/ سيرافيم إلياس إسكندر

أ/ كمال يونس كبشة

## مراجعة

أ/ سمير محمد سعداوي

أ/ فتحي احمد شحاتة

إشراف علمي

مستشار الرياضيات

إشراف تربوي

مركز تطوير المناهج والمواد التعليمية

٢٠٢٠-٢٠١٩

غير مصرح بتداول هذا الكتاب خارج وزارة التربية والتعليم



بنك المعرفة المصري  
Egyptian Knowledge Bank

# المقدمة

## بسم الله الرحمن الرحيم

يسعدنا ونحن نقدم هذا الكتاب أن نوضح الفلسفة التي تم في ضوءها بناء المادة التعليمية ونوجزها فيما يلي:

- ١ التأكيد على أن الغاية الأساسية من هذا الكتاب هي مساعدة المتعلم على حل المشكلات واتخاذ القرارات في حياته اليومية، والتي تساعده على المشاركة في المجتمع.
- ٢ التأكيد على مبدأ استمرارية التعلم مدى الحياة من خلال العمل على أن يكتسب الطلاب منهجية التفكير العلمي، وأن يمارسوا التعلم المتميز والمتعة والتشويق، وذلك بالاعتماد على تنمية مهارات حل المشكلات وتنمية مهارات الاستنتاج والتعليل، واستخدام أساليب التعلم الذاتي والتعلم النشط والتعلم التعاوني بروح الفريق، والمناقشة والحوار، وتقبل آراء الآخرين، والموضوعية في إصدار الأحكام، بالإضافة إلى التعريف ببعض الأنشطة والإنجازات الوطنية.
- ٣ تقديم رؤية شاملة متماسكة للعلاقة بين العلم والتكنولوجيا والمجتمع (STS) تعكس دور التقدم العلمي في تنمية المجتمع المحلي، بالإضافة إلى التركيز على ممارسة الطلاب التصرف الواعي الفعال حيال استخدام الأدوات التكنولوجية.
- ٤ تنمية اتجاهات إيجابية تجاه الرياضيات ودراساتها وتقدير علمائها.
- ٥ تزويد الطلاب بثقافة شاملة لحسن استخدام الموارد البيئية المتاحة.
- ٦ الاعتماد على أساسيات المعرفة وتنمية طرائق التفكير، وتنمية المهارات العلمية، والبعد عن التفاصيل والحشو، والابتعاد عن التعليم التلقيني؛ لهذا فلاهتمام بوجه إلى إبراز المفاهيم والمبادئ العامة وأساليب البحث وحل المشكلات وطرائق التفكير الأساسية التي تميز مادة الرياضيات عن غيرها.

### وفي ضوء ما سبق روعي في هذا الكتاب ما يلي:

- ★ تقسيم الكتاب إلى وحدات متكاملة ومتراصة لكل منها مقدمة توضح أهدافها ودروسها ومخطط تنظيمي لها والمصطلحات الواردة بها باللغة العربية والإنجليزية، ومقسمة إلى دروس يوضح الهدف من تدريسها للطلاب تحت عنوان سوف تتعلم، ويبدأ كل درس من دروس كل وحدة بالفكرة الأساسية لمحتوى الدرس وروعي عرض المادة العلمية من السهل إلى الصعب ويتضمن مجموعة من الأنشطة التي تتناول الربط بالمواد الأخرى والحياة العملية والتي تناسب القدرات المختلفة للطلاب وتراعي الفروق الفردية بينهم وتؤكد على العمل التعاوني، وتتكامل مع الموضوع.
- ★ كما قدم في كل درس أمثلة تبدأ من السهل إلى الصعب، وتشمل مستويات تفكير متنوعة، مع تدريبات عليها تحت عنوان حاول أن تحل وينتهي كل درس ببند «تحقق من فهمك».
- ★ تنتهي كل وحدة بملخص للوحدة يتناول المفاهيم والتعليمات الواردة بالوحدة.

وأخيراً.. نتمنى أن نكون قد وفقنا في إنجاز هذا العمل لما فيه خير لأولادنا، ولمصرنا العزيزة.  
والله من وراء القصد، وهو يهدي إلى سواء السبيل

# المحتويات

## المصفوفات

الوحدة  
الأولى

٤	تنظيم البيانات في مصفوفات	١-١
١٥	جمع وطرح المصفوفات	٢-١
١٩	ضرب المصفوفات	٣-١
٢٤	المحددات	٤-١
٣٣	المعكوس الضربي للمصفوفة	٥-١

## البرمجة الخطية

الوحدة  
الثانية

٤٢	المتباينات الخطية	١-٢
٤٨	حل أنظمة من المتباينات الخطية بيانياً	٢-٢
٥٤	البرمجة الخطية والحل الأمثل	٣-٢

## المتجهات

الوحدة  
الثالثة

٦٦	الكميات القياسية والكميات المتجهة، والقطعة المستقيمة الموجهة	١-٣
٧٣	المتجهات	٢-٣
٨٣	العمليات على المتجهات	٣-٣
٩٠	تطبيقات على المتجهات	٤-٣

## الخط المستقيم

الوحدة  
الرابعة

١٠٢	تقسيم قطعة مستقيمة	١-٤
١٠٧	معادلة الخط المستقيم	٢-٤
١١٥	قياس الزاوية بين مستقيمين	٣-٤
١١٩	طول العمود المرسوم من نقطة إلى خط مستقيم	٤-٤
١٢٣	المعادلة العامة للمستقيم المار بنقطة تقاطع مستقيمين	٥-٤

## حساب المثلثات

الوحدة  
الخامسة

١٣٠	المتطابقات المثلثية.	١-٥
١٣٦	حل المعادلات المثلثية.	٢-٥
١٤٠	حل المثلث القائم الزاوية.	٣-٥
١٤٥	زوايا الارتفاع وزوايا الانخفاض	٤-٥
١٤٩	القطاع الدائري	٥-٥
١٥٣	القطعة الدائرية.	٦-٥
١٥٦	المساحات.	٧-٥

الوحدة

الجبر

المصفوفات

Matrices

### أهداف الوحدة

في نهاية الوحدة من المتوقع أن يكون الطالب قادرًا على أن:

- ✚ يتعرف مفهوم المصفوفة ونظمها.
- ✚ يتعرف بعض المصفوفات الخاصة (مصفوفة الصف - مصفوفة العمود - المصفوفة المربعة - المصفوفة الصفرية - المصفوفة القطرية - مصفوفة الوحدة - المصفوفة المتماثلة وشبه المتماثلة).
- ✚ يضرب عددًا حقيقيًا في مصفوفة .
- ✚ يتعرف تساوي مصفوفتين.
- ✚ يوجد مدور المصفوفة.
- ✚ يجري عمليات الجمع والطرح والضرب على المصفوفات.
- ✚ يتحقق من صحة حلول بعض المشكلات التي تتضمن مصفوفات باستخدام البرمجيات المتاحة.
- ✚ يمدج بعض المشكلات الحياتية باستخدام المصفوفات.
- ✚ يوظف استخدام المصفوفات في مجالات أخرى.
- ✚ يتعرف محدد المصفوفة من الرتبة الثانية والرتبة الثالثة.
- ✚ يوجد قيمة المحدد على الصورة المثلية.
- ✚ يوجد معكوس المصفوفة المربعة من الرتبة  $2 \times 2$ .
- ✚ يحل معادلتين آيتين باستخدام معكوس المصفوفة.
- ✚ يحل المعادلات بطريقة كرامر.
- ✚ يوجد مساحة المثلث باستخدام المحددات.

### المصطلحات الأساسية

Determinant	محدد	مصفوفة الثوابت	مصفوفة متماثلة	Matrix	مصفوفة
محدد الرتبة الثانية	محدد الرتبة الثانية	Constant matrix	Symmetric matrix	عنصر	Element
Second order determinant	محدد الرتبة الثانية	جمع المصفوفات	مصفوفة شبه متماثلة	مصفوفة الصف	Row matrix
محدد الرتبة الثالثة	محدد الرتبة الثالثة	Adding matrices	Skew-symmetric matrix	مصفوفة العمود	Column matrix
Third order determinant	محدد الرتبة الثالثة	طرح المصفوفات	مصفوفة الوحدة	مصفوفة مربعة	Square matrix
مصفوفة المعاملات	مصفوفة المعاملات	Subtracting matrices	Identity matrix	مصفوفة صفرية	Zero matrix
Coefficient matrix	مصفوفة المعاملات	ضرب المصفوفات	معادلة مصفوفية	مصفوفات متساوية	Equal matrices
معكوس ضربى للمصفوفة	معكوس ضربى للمصفوفة	Multiplying matrices	Matrix equation		
Inverse matrix	معكوس ضربى للمصفوفة	مدور المصفوفة	مصفوفة المتغيرات		
		Transpose of matrix	Variable matrix		



## دروس الوحدة

- الدرس (١ - ١): تنظيم البيانات في مصفوفات.
- الدرس (١ - ٢): جمع وطرح المصفوفات.
- الدرس (١ - ٣): ضرب المصفوفات .
- الدرس (١ - ٤): المحددات .
- الدرس (١ - ٥): المعكوس الضربي للمصفوفة

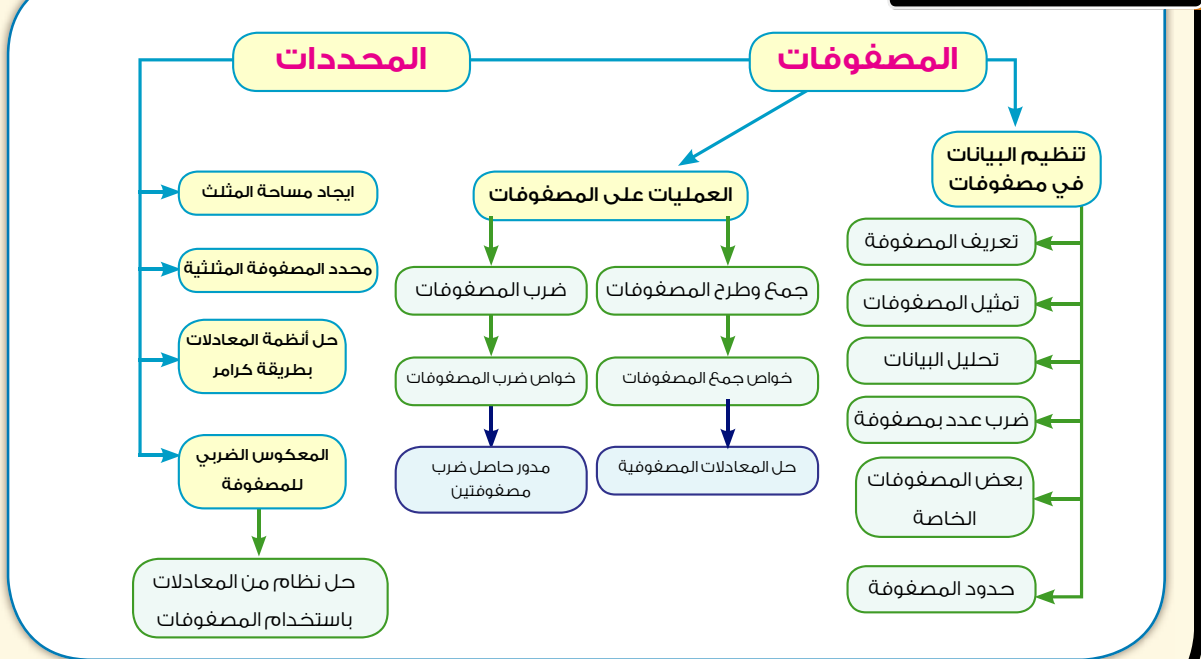
## الأدوات المستخدمة

- آلة حاسبة علمية - برنامج الاكسيل Excel -
- جهاز كمبيوتر.

## نبذة تاريخية

المصفوفات هي جمع كلمة مصفوفة، وهي من المفاهيم الرياضية التي انتشر استخدامها في عصرنا الحاضر، فشملت العديد من فروع المعرفة، فنجد استخداماتها في علوم الاحصاء والاقتصاد، والاجتماع وعلم النفس وغيرها، وذلك لأنها تعرض البيانات، وتخزنها في صورة جداول مستطيلة الشكل، وتنظيم البيانات بهذه الصورة يسهل تذكرها والمقارنة بينها وإجراء العمليات عليها، كما أن للمصفوفات دورًا هامًا في علم الرياضيات وخاصة في فرع الجبر الخطي، وأول من لاحظ المصفوفات واستخدمها هو العالم كيلي (١٨٢١ - ١٨٩٥ م).

## مخطط تنظيمي للوحدة



# تنظيم البيانات في مصفوفات

## Organizing data in Matrices



### الربط بالصناعة



مصنع لإنتاج بعض مكونات شاشات التلفزيون به ٣ أقسام، ينتج ٤ أجزاء رئيسية من الشاشة أ، ب، ج، د على النحو التالي:

**القسم الأول** ينتج يومياً ٧٥ قطعة من أ، ١٣٥ قطعة من ب، ١٥٠ قطعة من ج، ٢١٥ قطعة من د.

**القسم الثاني** ينتج يومياً ١٠٠ قطعة من أ، ١٦٨ قطعة من ب، ٢١٠ قطعة من ج، ٢٨٢ قطعة من د.

**القسم الثالث** ينتج يومياً ٨٠ قطعة من أ، ١٠٠ قطعة من ب، ١٤٤ قطعة من ج، ٦٤ قطعة من د.

واضح أنه من الصعب تذكر هذه المعلومات أو المقارنة بينها، وهي على هذه الصورة والآن هناك سؤالاً يطرح نفسه:

كيف يمكن ترتيب هذه البيانات حتى يمكن تحليلها والاستفادة منها؟

للإجابة عن هذا السؤال فإنه يمكننا كتابة البيانات في صورة جدول يمكننا من معرفة ما ينتجه كل قسم من الأقسام الثلاثة من الأجزاء المختلفة بسرعة ووضوح، كما يسهل لنا المقارنة بين إنتاج الأقسام الثلاثة من الأجزاء المختلفة.

### الأجزاء

د	ج	ب	أ	
٢١٥	١٥٠	١٣٥	٧٥	القسم الأول
٢٨٢	٢١٠	١٦٨	١٠٠	القسم الثاني
٦٤	١٤٤	١٠٠	٨٠	القسم الثالث

الأقسام

فإذا كنا نعلم أن الأعداد بالصف الأول هي إنتاج القسم الأول من الأجزاء أ، ب، ج، د على الترتيب، وبالمثل الأعداد التي بالصف الثاني هي إنتاج القسم الثاني بنفس الترتيب، وكذلك الأعداد التي بالصف الثالث هي إنتاج القسم الثالث بنفس الترتيب، فإننا نستطيع كتابة المعلومات التي بالجدول السابق بصورة أكثر اختصارًا كالآتي:

الصف الأول	٧٥	١٣٥	١٥٠	٢١٥
الصف الثاني	١٠٠	١٦٨	٢١٠	٢٨٢
الصف الثالث	٨٠	١٠٠	١٤٤	٦٤
	↑	↑	↑	↑
	العمود الأول	العمود الثاني	العمود الثالث	العمود الرابع

وتسمى هذه الصورة "مصفوفة" كما تسمى الأعداد داخل القوسين "عناصر المصفوفة"

وهذه المصفوفة لها ثلاثة صفوف وأربعة أعمدة، لذا يقال لها مصفوفة على النظم  $٤ \times ٣$  (أو بالاختصار مصفوفة  $٤ \times ٣$ ) حيث تذكر عدد الصفوف أولاً ثم عدد الأعمدة، كما نلاحظ أن: عدد عناصر المصفوفة  $٤ \times ٣ = ١٢$  عنصرًا.

والآن:

- ١- هل هناك طريقة أخرى لترتيب بيانات المسألة، ووضعها على صورة مصفوفة أخرى؟ فسر إجابتك.
- ٢- من المصفوفة السابقة، ما العنصر في الصف الأول والعمود الثاني؟ وما العنصر في الصف الثاني والعمود الأول؟
- ٣- سؤال مفتوح: اكتب مثالاً من عندك يمكن كتابة المعلومات المتضمنة فيه على صورة مصفوفة  $٣ \times ٢$

تعلم

## Organizing Data in Matrices

## تنظيم البيانات في مصفوفات

المصفوفة هي ترتيب لعدد من العناصر (متغيرات أو أعداد) في صفوف وأعمدة محصورة بين قوسين، وتنظم العناصر في المصفوفة بحيث يكون الموقع في المصفوفة ذا معنى، ويرمز إلى المصفوفة عادة باستخدام الحروف الكبيرة أ، ب، ج، س، ص، ... ولعناصر المصفوفة بالحروف الصغيرة أ، ب، ج، س، ص، ...

إذا أردنا التعبير عن العنصر داخل المصفوفة الذي يقع في الصف **ص** والعمود **ع** فإنه يمكننا كتابته على الصورة **أصع**

فمثلاً العنصر **أ<sub>٢١</sub>** يقع في الصف الأول والعمود الثاني، وكذلك **أ<sub>٣٢</sub>** يقع في الصف الثالث والعمود الثاني.

$$\begin{pmatrix} ٥ & ٦ & ٤ & ١- \\ ٤ & ٢ & ١- & ٢ \\ ١- & ٢- & ٥ & ٣ \end{pmatrix} = \text{في المصفوفة: أ}$$

**العنصر ١-** يقع في الصف ٢ والعمود ٢ ويرمز له بالرمز **أ<sub>٢٢</sub>**

**العنصر ٦** يقع في الصف ١ والعمود ٣ ويرمز له بالرمز **أ<sub>١٣</sub>**

## وبصفة عامة:

المصفوفة المكونة من  $m$  صفًا،  $n$  عمودًا تكون على النظم  $m \times n$  أو من الرتبة  $m \times n$  أو من النوع  $m \times n$  (وتقرأ  $m$  في  $n$ ، حيث  $m$ ،  $n$  أعداد صحيحة موجبة).

## حاول أن تحل

١ استخدم المصفوفة  $B = \begin{pmatrix} 5 & 1 \\ 2 & 3 \\ 7 & 0 \end{pmatrix}$  للإجابة عن ما يلي:

- أ ما نظم المصفوفة  $B$ ؟  
ب ما قيمة  $B_{21}$ ،  $B_{12}$ ؟

## تعلم

### Representing Matrcies

### تمثيل المصفوفات

إذا كانت  $A$  مصفوفة على النظم  $m \times n$  فإنه يمكن كتابة المصفوفة  $A$  على الصورة:

$$A = (أص ع)، \quad ص = 1, 2, 3, \dots, m$$

$$ع = 1, 2, 3, \dots, n$$

وسوف تقتصر دراستنا على الحالات التي فيها  $m \geq 3$ ،  $n \geq 3$

## مثال

١ اكتب جميع عناصر المصفوفات الآتية:

أ  $A = (أص ع)$  ،  $ص = 1, 2$  ،  $ع = 1, 2, 3$

ب  $B = (بص ع)$  ،  $ص = 1, 2, 3$  ،  $ع = 1$

ج  $C = (جص ع)$  ،  $ص = 1, 2$  ،  $ع = 1, 2$

## الحل

أ  $A = \begin{pmatrix} 1 & 1 \\ 2 & 1 \\ 3 & 1 \end{pmatrix}$  مصفوفة على النظم  $3 \times 2$  ب  $B = \begin{pmatrix} 1 & 1 \\ 2 & 1 \\ 3 & 1 \end{pmatrix}$  مصفوفة على النظم  $3 \times 3$

ج  $C = \begin{pmatrix} 1 & 1 \\ 2 & 1 \end{pmatrix}$  مصفوفة على النظم  $2 \times 2$

## حاول أن تحل

٢ اكتب جميع عناصر المصفوفات الآتية:

أ  $A = (أص ع)$  ،  $ص = 1, 2, 3$  ،  $ع = 1, 2, 3$

ب  $B = (بص ع)$  ،  $ص = 1, 2$  ،  $ع = 1$



## مثال

كبير	متوسط	صغير	
١٦	١٢	٨	صدر فراخ
١٧	١٣	٩	جمبرى مقلى
١٥	١١	٧	سمك فيليه

٢ الربط بالمستهلك: يبين الجدول المقابل الأسعار بالجنه

لثلاثة أنواع من الساندويتشات بثلاثة أحجام مختلفة في أحد مطاعم الوجبات الجاهزة.

أ نظم هذه البيانات في مصفوفة، على أن تكون الأسعار مرتبة تصاعدياً.

ب حدد نظم المصفوفة.

ج ما قيمة العنصر  $a_{33}$ ؟



## الحل

صغير	متوسط	كبير	
٧	١١	١٥	سمك فيليه
٨	١٢	١٦	صدر فراخ
٩	١٣	١٧	جمبرى مقلى

ب هناك ٣ صفوف، ٣ أعمدة لذا فإن المصفوفة على النظم  $3 \times 3$

ج قيمة العنصر  $a_{33}$  هي الموجودة بالصف ٣ والعمود ٢ وهي ١٣

## حاول أن تحل



٢ رصد مدرب فريق كرة السلة بالمدرسة، إنجازات ثلاثة لاعبين في مباريات

دورى الفصول فكانت على النحو التالي:

سمير: لعب ١٠ مباريات ، ٢٠ تسديدة ، ٥ أهداف.

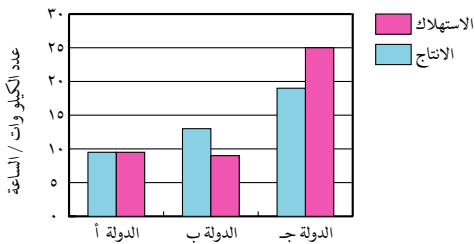
حازم: لعب ١٦ مباراة ، ٣٥ تسديدة ، ٨ أهداف.

كريم: لعب ١٨ مباراة ، ٤١ تسديدة ، ١٠ أهداف.

أ نظم البيانات في مصفوفة على أن ترتب أسماء اللاعبين ترتيباً تصاعدياً تبعاً لعدد الأهداف.

ب حدد نظم المصفوفة، ما قيمة  $a_{33}$ ؟

## مثال تنظيم البيانات الإحصائية باستخدام المصفوفات



٣ الربط بالطاقة: يمكن أن تقاس الطاقة بالكيلو وات / ساعة.

يبين الرسم البياني المقابل إنتاج الطاقة والاستهلاك لبعض

الدول. اكتب مصفوفة تمثل بيانات الرسم البياني المقابل.

## الحل

افرض أن كل صف في المصفوفة يمثل دولة، وكل عمود يمثل مستوى الإنتاج والاستهلاك. استنتج القيم من الرسم.

$$\begin{pmatrix} 9,5 & 9,5 \\ 9 & 13 \\ 20 & 19 \end{pmatrix} \begin{matrix} \text{دولة (أ)} \\ \text{دولة (ب)} \\ \text{دولة (ج)} \end{matrix} \begin{matrix} \text{الإنتاج} \\ \text{الاستهلاك} \end{matrix}$$

## تفكير ناقد

كيف يمكنك تعديل المصفوفة لتمثيل البيانات بإضافة دول أخرى؟

## حاول أن تحل

٤ أعد كتابة البيانات في المثال السابق في صورة مصفوفة  $3 \times 2$ ، ضع عنواناً للصفوف والأعمدة.

٥ وضح الفرق بين المصفوفة التي على النظم  $3 \times 2$ ، والمصفوفة التي على النظم  $2 \times 3$

## تعلم

### Some special Matrices

### بعض المصفوفات الخاصة

أ **المصفوفة المربعة:** هي المصفوفة التي عدد الصفوف فيها يساوي عدد الأعمدة مثل:  $\begin{pmatrix} 2 & 3 \\ 1 & 4 \end{pmatrix}$

(مصفوفة مربعة على النظم  $2 \times 2$ )

ب **مصفوفة الصف:** هي المصفوفة التي تحتوي على صف واحد وأي عدد من الأعمدة مثل:  $(8 \ 6 \ 4 \ 2)$

(مصفوفة صف على النظم  $1 \times 4$ )

ج **مصفوفة العمود:** هي المصفوفة التي تحتوي على عمود واحد، وأي عدد من الصفوف مثل:  $\begin{pmatrix} 2 \\ 5 \\ 1 \end{pmatrix}$

(مصفوفة عمود على النظم  $1 \times 3$ )

د **المصفوفة الصفرية:** هي المصفوفة التي تكون جميع عناصرها أصفار وقد تكون مربعة أو لا تكون

فمثلاً المصفوفات:

(٠) مصفوفة صفرية على النظم  $1 \times 1$ ،  $(0 \ 0)$  مصفوفة صفرية على النظم  $2 \times 1$ ،  $\begin{pmatrix} 0 \\ 0 \end{pmatrix}$  مصفوفة

صفرية على النظم  $2 \times 1$ ،  $\begin{pmatrix} 0 \\ 0 \\ 0 \end{pmatrix}$  مصفوفة صفرية على النظم  $2 \times 2$ ، ويرمز للمصفوفة الصفرية

بمستطيل صغير

هـ **المصفوفة القطرية:** هي مصفوفة مربعة جميع عناصرها أصفار، ما عدا عناصر القطر الرئيسي فيكون،

أحدها على الأقل مغايراً للصفر فمثلاً المصفوفة:

$$\begin{pmatrix} 1 & 0 & 0 \\ 0 & 1 & 0 \\ 0 & 0 & 1 \end{pmatrix} \text{ (مصفوفة قطرية على النظم } 3 \times 3 \text{)}$$

و **مصفوفة الوحدة:** هي مصفوفة قطرية، يكون فيها كل عناصر القطر الرئيسي مساوياً الواحد، ويرمز

لها بالرمز I. فمثلاً كل من المصفوفات:

$$(1), \begin{pmatrix} 1 & 0 \\ 0 & 1 \end{pmatrix}, \begin{pmatrix} 1 & 0 & 0 \\ 0 & 1 & 0 \\ 0 & 0 & 1 \end{pmatrix} \text{ هي مصفوفة وحدة.}$$

## حاول أن تحل

٦ اكتب نوع كل مصفوفة ونظمها.

$$\begin{array}{lll} \text{أ} \quad \begin{pmatrix} ١ & ١ \\ ٢ & . \end{pmatrix} & \text{ب} \quad (٧ \ ٥ \ ٣ \ ١) & \text{ج} \quad \begin{pmatrix} ٣ \\ ٤ \\ ٥ \end{pmatrix} \\ \text{د} \quad \begin{pmatrix} . \\ . \\ . \end{pmatrix} & \text{هـ} \quad \begin{pmatrix} . \\ ٢ \end{pmatrix} & \text{و} \quad \begin{pmatrix} . \\ . \\ . \end{pmatrix} \end{array}$$

٧ اكتب المصفوفة الصفرية على النظم  $3 \times 3$ 

## تعلم

## تساوي مصفوفتين

## Equality of two Matrices

تساوي مصفوفتان أ، ب إذا كانتا على نفس النظم، وكان كل عنصر في المصفوفة أ مساوياً لنظيره في المصفوفة ب أي أن: أ ص ع = ب ص ع لكل ص ولكل ع.

## مثال

غير متساويتين لأنهما ليسا على نفس النظم.

$$\text{٤} \quad \text{أ} \quad \begin{pmatrix} . & ٢ & ١ \\ . & ٥ & ١- \end{pmatrix}, \begin{pmatrix} ٢ & ١ \\ ٥ & ١- \end{pmatrix}$$

إذا فقط إذا كانت س = -٣، ص = ٥

$$\text{ب} \quad \begin{pmatrix} ٢ & ٣- & ١ \\ ٥ & ٦ & ١- \end{pmatrix} = \begin{pmatrix} ٢ & ٣ & ١ \\ ٥ & ٦ & ١- \end{pmatrix}$$

لا يمكن أن يتساويا، وذلك لإختلاف أحد العناصر المناظرة في كل منهما (عناصر الصف الأول والعمود الأول)

$$\text{ج} \quad \begin{pmatrix} ٢ & ١ \\ ١- & ٣ \end{pmatrix}, \begin{pmatrix} ٢ & ١ \\ ١- & ٣ \end{pmatrix}$$

المصفوفتان متساويتان لأن لهما نفس النظم وعناصرهما المتناظرة متساوية.

$$\text{د} \quad \begin{pmatrix} ٥ & ١ & . \\ . & ٧ & ١ \\ ٣ & ٦ & ٢ \end{pmatrix} = \begin{pmatrix} ٥ & ١ & . \\ . & ٧ & ١ \\ ٣ & ٦ & ٢ \end{pmatrix}$$

## حاول أن تحل

$$\begin{array}{ll} \text{٨} \quad \text{أ} \quad \text{إذا كان أ} = \begin{pmatrix} ١ & ٠,٧٥- \\ ٥ & ١ \\ ٢- & ١ \end{pmatrix}, & \text{ب} = \begin{pmatrix} ٠,٢ & ٣- \\ ٢- & ٤ \\ ٥ & ٠,٥ \end{pmatrix} \text{ هل أ = ب؟ فسر إجابتك.} \\ \text{ب} \quad \text{إذا كانت س} = \begin{pmatrix} ٤ & ٣ \\ ٢- & . \end{pmatrix}, & \text{ص} = \begin{pmatrix} ٤ & ٣- \\ ٢- & . \end{pmatrix} \text{ هل س = ص؟ فسر إجابتك.} \end{array}$$

## مثال

## استخدام المصفوفات المتساوية في حل المعادلات

$$\text{٥} \quad \text{إذا كان: } \begin{pmatrix} ٤ & ٢٥ \\ ١٨+ & ٣ \end{pmatrix} = \begin{pmatrix} ٤ & ٥-٢ \\ ١٢+ & ٣ \end{pmatrix} \text{ فأوجد قيمتي س، ص.}$$

## الحل

$$\begin{pmatrix} ٤ & ٢٥ \\ ١٨+ & ٣ \end{pmatrix} = \begin{pmatrix} ٤ & ٥-٢ \\ ١٢+ & ٣ \end{pmatrix}$$

حيث أن المصفوفتين متساويتان، فيكون العناصر المتناظرة متساوية ونكتب:

$$٢٥ = ٥ - س \quad ، \quad ٣ص + ١٢ = ص + ١٨$$

$$٥ + ٢٥ = س \quad ، \quad ٣ص - ١٨ = ص - ١٢$$

$$٣٠ = س \quad ، \quad ٣ = ص$$

$$١٥ = س$$

الحل هو س = ١٥، ص = ٣

حاول أن تحل

٩ إذا كان  $\begin{pmatrix} ٥- & ٣٨ \\ ١٠-ص٤ & ٣ \end{pmatrix} = \begin{pmatrix} ٥- & ٨+س \\ ص- & ٣ \end{pmatrix}$  فأوجد قيمتي س، ص

١٠ **تفكير ناقد:** إذا كان  $\begin{pmatrix} ٥- & ٩- \\ ١٠- & ٤ \end{pmatrix} = \begin{pmatrix} ٤-س & ٩-س \\ ١٠-س & ٤-س \end{pmatrix}$  فأوجد قيم كل من س، ص، ع

١١ **تفكير ناقد:** إذا علم أن:  $\begin{pmatrix} ٣- & ٩- \\ ٥ & ٧ \end{pmatrix} = \begin{pmatrix} ١-ب & ١+ب \\ ٥+ب٢ & ١+ب١-ب٢ \end{pmatrix}$  فأوجد قيم أ، ب، ج، د

تعلم

### Multiplying a Real Number by a Matrix ضرب عدد حقيقي في مصفوفة

ضرب عدد حقيقي في مصفوفة يعني ضرب كل عنصر من عناصر المصفوفة في ذلك العدد الحقيقي أي أن: حاصل ضرب عدد حقيقي ك في مصفوفة أ على النظم م × ن هي مصفوفة ج = ك أ على نفس النظم م × ن وكل عنصر فيها ج ص ع يساوي العنصر المناظر له في المصفوفة أ مضروباً في العدد الحقيقي ك.

أي: ج ص ع = ك أ ص ع حيث ص = ١، ٢، .....، م، ع = ١، ٢، .....، ن

لاحظ أن:

$$\begin{pmatrix} ك١ & ك٢ \\ ك٣ & ك٤ \end{pmatrix} = \begin{pmatrix} ك١ص & ك٢ص \\ ك٣ع & ك٤ع \end{pmatrix}$$

فمثلاً  $\begin{pmatrix} ٢- & ٨- \\ ٢ & ١٠- \end{pmatrix} = \begin{pmatrix} ١ \times ٢- & ٤ \times ٢- \\ ١- \times ٢- & ٥ \times ٢- \end{pmatrix} = \begin{pmatrix} ١ & ٤ \\ ١- & ٥ \end{pmatrix} ٢-$

مثال

٦ تخطط إحدى الكافيتريات لرفع ثمن كل مشروب مرة ونصف المرة. استخدم

لائحة الأسعار في الجدول التالي لإيجاد ثمن كل مشروب بعد الزيادة؟



حجم كبير	حجم صغير	
١,٥٠ من الجنيه	٠,٧٥ من الجنيه	كوب لبن كامل الدسم
١,٧٥ من الجنيه	٠,٨٥ من الجنيه	كوب عصير برتقال
١,٩٠ من الجنيه	٠,٩٠ من الجنيه	كوب عصير مانجو



الحل

$$\begin{pmatrix} 2,25 & 1,125 \\ 2,625 & 1,275 \\ 2,85 & 1,35 \end{pmatrix} = \begin{pmatrix} 1,50 \times 1,5 & 0,75 \times 1,5 \\ 1,75 \times 1,5 & 0,85 \times 1,5 \\ 1,90 \times 1,5 & 0,90 \times 1,5 \end{pmatrix} = \begin{pmatrix} 1,50 & 0,75 \\ 1,75 & 0,85 \\ 1,90 & 0,90 \end{pmatrix} 1,5$$

سوف يصبح ثمن كوب اللبن من الحجم الصغير ١,١٢٥ من الجنيه، ثمن كوب اللبن من الحجم الكبير ٢,٢٥ من الجنيه، وسوف يصبح ثمن كوب عصير البرتقال من الحجم الصغير ١,٢٧٥ من الجنيه، و ثمن كوب البرتقال من الحجم الكبير ٢,٦٢٥، وسوف يصبح ثمن كوب عصير المانجو من الحجم الصغير ١,٣٥ من الجنيه، و ثمن كوب المانجو من الحجم الكبير ٢,٨٥ من الجنيه.

حاول أن تحل

١٢ إذا كان  $A = \begin{pmatrix} 10 & 12 & 15 \\ 7 & 10 & 20 \\ 3 & 1 & 2 \end{pmatrix}$  فأوجد  $A^{-1}$

تعلم

### Transpose of a Matrix

### مدور المصفوفة

في أي مصفوفة  $n \times m$  على النظم  $m \times n$  إذا استبدلنا الصفوف بالأعمدة والأعمدة بالصفوف بنفس الترتيب فإننا نحصل على مصفوفة على النظم  $n \times m$ ، وتسمى مدور المصفوفة  $A^T$ ، ويرمز لها بالرمز  $A^T$  ويتضح من التعريف أن  $(A^T)^T = A$

مثال

٧ أوجد مدور كل من المصفوفات الآتية:

أ  $A = \begin{pmatrix} 1 & 2 & 1 \\ 5 & 1 & 3 \end{pmatrix}$       ب  $B = \begin{pmatrix} 6 & 2 & 1 \end{pmatrix}$       ج  $C = \begin{pmatrix} 4 & 3 \\ 1 & 2 \end{pmatrix}$

الحل

أ  $A^T = \begin{pmatrix} 1 & 5 \\ 2 & 1 \\ 1 & 3 \end{pmatrix}$  مصفوفة على النظم  $3 \times 2$

ب  $B^T = \begin{pmatrix} 6 \\ 2 \\ 1 \end{pmatrix}$  مصفوفة عمود على النظم  $3 \times 1$

ج  $C^T = \begin{pmatrix} 4 & 1 \\ 3 & 2 \end{pmatrix}$  مصفوفة مربعة على النظم  $2 \times 2$

## Symmetric and Semi Symmetric Matrices

## المصفوفات المتماثلة وشبه المتماثلة

إذا كانت أ مصفوفة مربعة فإنها تسمى متماثلة إذا فقط إذا كانت  $A = A^T$  وتسمى شبه متماثلة إذا فقط إذا كانت  $A = -A^T$

مثال

٨ هل المصفوفة ب =  $\begin{pmatrix} 1 & 1 & 0 \\ 3 & 0 & 1 \\ 0 & 3 & 1 \end{pmatrix}$  متماثلة أم شبه متماثلة؟

الحل

$$B = \begin{pmatrix} 1 & 1 & 0 \\ 3 & 0 & 1 \\ 0 & 3 & 1 \end{pmatrix} \quad B^T = \begin{pmatrix} 1 & 3 & 0 \\ 1 & 0 & 3 \\ 0 & 1 & 1 \end{pmatrix}$$

$$B = -B^T = \begin{pmatrix} 1 & 1 & 0 \\ 3 & 0 & 1 \\ 0 & 3 & 1 \end{pmatrix} \times -1 = -B^T$$

∴ B = -B<sup>T</sup> فيكون B = -B<sup>T</sup> فتكون المصفوفة B شبه متماثلة

حاول أن تحل

١٣ هل المصفوفة أ =  $\begin{pmatrix} 1 & 1 & 1 \\ 5 & 3 & 1 \\ 6 & 5 & 1 \end{pmatrix}$  متماثلة أم شبه متماثلة؟

تحقق من فهمك

١ أوجد قيمة كل من س، ص، ع في كل مما يأتي:

$$\begin{pmatrix} 0 & 4 & 2 \\ 3 & 1 & 0 \end{pmatrix} = \begin{pmatrix} 0 & 3 & س \\ ص & 1 & 0 \end{pmatrix} \quad \text{ب} \quad \begin{pmatrix} 0 & 3 \\ 1 & 2 \end{pmatrix} = \begin{pmatrix} 0 & س \\ 1 & 2 \end{pmatrix} \quad \text{أ}$$

٢ بين أيًا من المصفوفات الآتية متماثلة وأيها شبه متماثلة:

$$\begin{pmatrix} 1 & 5 & 0 \\ 1 & 0 & 5 \\ 0 & 1 & 1 \end{pmatrix} \quad \text{ب} \quad \begin{pmatrix} 4 & 1 & 1 \\ 6 & 2 & 1 \\ 5 & 6 & 4 \end{pmatrix} \quad \text{أ}$$

## تمارين (١ - ١)

١ أ، ب، ج، د أربع مدن ، فإذا كانت المسافة بالكيلو مترات بين أي مدينتين موضحة في الجدول المقابل. أكتب مصفوفة تمثل هذه المعلومات.

ج	ب	أ	
٨٠	٧٥	٠	أ
٥٦	٠	٧٥	ب
٠	٥٦	٨٠	ج

ب بفرض أن س هـ هي المصفوفة المطلوبة في (أ) أوجد مايلي:

١- س٣٣، ماذا يعني ذلك؟

٢- س٣٣، ماذا يعني ذلك؟

٣- ما العلاقة بين س٣٣، س٣٣؟

ج اكتب جميع عناصر الصف الثاني للمصفوفة س.

د اكتب جميع عناصر العمود الثاني للمصفوفة س. ماذا تستنتج من البندين ج، د؟

هـ أوجد س ك عندما ك = ١، ٢، ٣ ماذا تلاحظ؟

و أكمل مايتي:

١- س مصفوفة على النظم

٢- س هـ = س هـ ل جميع قيم

٢ ما عدد عناصر كل من المصفوفات الآتية:

أ مصفوفة على النظم  $3 \times 2$

ب مصفوفة على النظم  $2 \times 2$

ج مصفوفة على النظم  $2 \times 3$

٣ أوجد قيم أ، ب، ج، د إذا كان:

$$\begin{pmatrix} 1+2 & 2-1 \\ 16 & ج \end{pmatrix} = \begin{pmatrix} ٥- & ٣ \\ ٢-٥٣ & ٣-١ \end{pmatrix} \quad \text{أ}$$

$$\begin{pmatrix} ١٠ & ١٣ \\ ١٠ & ٢-٥ \end{pmatrix} = \begin{pmatrix} ٢ & ١٥ \\ ٢+١٢ & . \end{pmatrix} \quad \text{ب}$$

المصنوعات	المدينة	
	صناعة الأغذية	الجلدية
٦ أكتوبر	٤٤	٦٨
مدينة السادات	٢٨	٥٢
العاشر من رمضان	٣٧	١٤

٤ الربط بالصناعة: بين الجدول المقابل عدد المصانع الأهلية

العاملة في قطاعي صناعة الأغذية والمصنوعات الجلدية في ثلاث مدن مختلفة من مدن بعض محافظات جمهورية مصر العربية.

أ نظم البيانات في مصفوفة.

ب اجمع عناصر كل عمود، ما تفسيرك للنتائج التي حصلت عليها؟

ج اجمع عناصر كل صف. هل النتائج التي حصلت عليها يمكن أن تزودنا ببيانات ذات معنى؟ فسر إجابتك.

٥) أوجد قيمة كل من  $a$ ،  $b$  إذا كان  $\begin{pmatrix} 1- & 4 \\ 7 & 3 \end{pmatrix} = \begin{pmatrix} 1- & 4 \\ 1+b & 1-12 \end{pmatrix}$

٦) إذا كان  $A = \begin{pmatrix} 3- & 2 \\ 4 & 1- \end{pmatrix}$ ،  $B = \begin{pmatrix} 1- & 52 \\ 4 & 3- \end{pmatrix}$  حيث  $A = B$  مد  
فأوجد قيمة كل من  $x$ ،  $y$ ،  $z$ ،  $h$ .

٧) إذا كانت  $A = \begin{pmatrix} 2 & 0 & 3 \\ 3 & 3 & 2- \\ 5 & 5- & 4- \end{pmatrix}$ ،  $B = \begin{pmatrix} 2 & 0 & 1 \\ 3- & 1 & 2 \\ 1- & 5 & 4 \end{pmatrix}$   
أوجد  $A+B$ ،  $A-B$ ،  $A+2B$ ،  $B-3A$

٨) **تفكير ناقد:** إذا كانت  $A = (A_{ij})$  لكل  $s$ ،  $s \in \{1, 2, 3\}$  اكتب المصفوفة إذا علم أن  $A_{ij} = s - s$ ،  
ثم أوجد  $A$



## جمع وطرح المصفوفات

### Adding and subtracting Matrices

عمل تعاوني

**الربط بالاحصاء:** اعمل مع زميل لك . استخدم المعلومات في الجدول التالي:

الوسط الحسابي للدرجات				
رياضيات		علوم		السنة
إناث	ذكور	إناث	ذكور	
٤٥٧	٥٠٢	٤٢٠	٤٢٨	٢٠١١
٤٦٠	٥٠١	٤٢١	٤٢٥	٢٠١٢
٤٦٣	٥٠٣	٤٢٦	٤٢٩	٢٠١٣

- ١- أ** أوجد مجموع درجات الوسطين الحسابيين للذكور في كل سنة في الجدول.  
**ب** أوجد مجموع درجات الوسطين الحسابيين للإناث في كل سنة في الجدول.
- ٢- أ** اكتب مصفوفة تمثل الوسط الحسابي لدرجات مادة العلوم للذكور والإناث. ضع عنواناً للمصفوفة وصفوفها وأعمدتها.  
**ب** ما نظم المصفوفة؟
- ٣- أ** اكتب مصفوفة تمثل الوسط الحسابي لدرجات الرياضيات للذكور والإناث. ضع عنواناً للمصفوفة وصفوفها وأعمدتها.  
**ب** ما نظم المصفوفة؟
- ٤-** بفحص إجابتك عن السؤال رقم (١) والمصفوفات التي كتبتها في السؤالين (٢)، (٣)، اكتب مصفوفة ثالثة تمثل مجموع درجات الوسطين الحسابيين للذكور والإناث. ضع عنواناً للمصفوفة وصفوفها وأعمدتها، ما نظم المصفوفة؟
- ٥-** استخدم ملاحظتك، وأي أنماط تراها لصياغة طريقة لجمع المصفوفات.

تعلم

### Adding Matrices

### جمع المصفوفات

نريد أحياناً ان نجمع أو نطرح مصفوفات، لكي نحصل على معلومات جديدة. لتحصل على مصفوفة الجمع، اجمع العناصر المتناظرة.  
**أي أن:** إذا كانت  $A$ ،  $B$  مصفوفتين على النظم  $m \times n$ ، فإن  $A+B$  هي مصفوفة أيضاً على النظم  $m \times n$  ويكون كل عنصر فيها هو مجموع العنصرين المتناظرين في  $A$ ،  $B$ .

## مثال

١ إذا كان  $A = \begin{pmatrix} 2 & 0 \\ 3 & -1 \end{pmatrix}$ ،  $B = \begin{pmatrix} 2 & 7 \\ -4 & 1 \end{pmatrix}$  فأوجد:  $A+B$ .

الدل

$$\begin{aligned} & \text{بالتعويض عن } A, B \quad \begin{pmatrix} 2 & 7 \\ -4 & 1 \end{pmatrix} + \begin{pmatrix} 2 & 0 \\ 3 & -1 \end{pmatrix} = A+B \\ & \text{بجمع العناصر المتناظرة} \quad \begin{pmatrix} (2)+2 & 7+0 \\ (-4)+3 & 1+(-1) \end{pmatrix} = \\ & \text{(بسط)} \quad \begin{pmatrix} 4 & 7 \\ -1 & 0 \end{pmatrix} = \end{aligned}$$

## حاول أن تحل

١ إذا كانت  $A = \begin{pmatrix} 1 & -4 \\ 7 & -3 \end{pmatrix}$ ،  $B = \begin{pmatrix} 7 & 2 \\ -1 & 8 \end{pmatrix}$ ،  $C = \begin{pmatrix} 7 \\ 4 \end{pmatrix}$  أوجد كلاً مما يأتي إن أمكن:

أ  $A+B$

ب  $A+C$

## تعلم

### Properties of Adding Matrices

### خواص جمع المصفوفات

نفرض  $A, B, C$  ثلاث مصفوفات من النظم  $m \times n$  وأن  $\square$  مصفوفة صفرية على نفس النظم فإن:

١- **خاصية الإنغلاق:**  $A+B$  تكون مصفوفة على النظم  $m \times n$

إذا كانت  $A = \begin{pmatrix} 2 & 1 \\ 3 & -1 \end{pmatrix}$  مصفوفة على النظم  $2 \times 2$ ،  $B = \begin{pmatrix} 2 & 7 \\ -1 & 2 \end{pmatrix}$  مصفوفة على النظم  $2 \times 2$

فإن  $A+B = \begin{pmatrix} 2 & 1 \\ 3 & -1 \end{pmatrix} + \begin{pmatrix} 2 & 7 \\ -1 & 2 \end{pmatrix} = \begin{pmatrix} 4 & 8 \\ 2 & 1 \end{pmatrix}$  مصفوفة على النظم  $2 \times 2$

٢- **خاصية الإبدال:**  $A+B = B+A$

والآن: إذا كان  $A = \begin{pmatrix} 1 & 3 \\ -1 & 4 \end{pmatrix}$ ،  $B = \begin{pmatrix} 5 & 6 \\ 3 & -2 \end{pmatrix}$  فبين أن  $A+B = B+A$

٣- **خاصية الدمج:**  $(A+B)+C = A+(B+C)$

والآن: إذا كان  $A = \begin{pmatrix} 1 & 3 \\ -1 & 4 \end{pmatrix}$ ،  $B = \begin{pmatrix} 5 & 6 \\ 3 & -2 \end{pmatrix}$ ،  $C = \begin{pmatrix} 4 & 2 \\ 3 & -1 \end{pmatrix}$  فبين أن  $(A+B)+C = A+(B+C)$

٤- **خاصية المحايد الجمعي:**  $A+I = I+A$

$$\text{فمثلاً: } \begin{pmatrix} 3 & 2 & 1 \\ 4 & 0 & 6 \\ 9 & 8 & 7 \end{pmatrix} = \begin{pmatrix} 3 & 2 & 1 \\ 4 & 0 & 6 \\ 9 & 8 & 7 \end{pmatrix} + \begin{pmatrix} 0 & 0 & 0 \\ 0 & 0 & 0 \\ 0 & 0 & 0 \end{pmatrix} = \begin{pmatrix} 0 & 0 & 0 \\ 0 & 0 & 0 \\ 0 & 0 & 0 \end{pmatrix} + \begin{pmatrix} 3 & 2 & 1 \\ 4 & 0 & 6 \\ 9 & 8 & 7 \end{pmatrix}$$

٥- **خاصية المعكوس (النظير) الجمعي:**  $A+(-A) = (-A)+A = I$

حيث  $(-A)$  النظير الجمعي للمصفوفة  $A$

$$\text{فمثلاً } \begin{pmatrix} 2 & 0 & 3 \\ 0 & - & 2 \end{pmatrix} - \begin{pmatrix} 2 & 0 & 3 \\ 0 & - & 2 \end{pmatrix} = \begin{pmatrix} 0 & 0 & 0 \\ 0 & 0 & 0 \end{pmatrix} \text{ حيث } \begin{pmatrix} 2 & 0 & 3 \\ 0 & - & 2 \end{pmatrix} + \begin{pmatrix} -2 & 0 & -3 \\ 0 & - & -2 \end{pmatrix} = \begin{pmatrix} 0 & 0 & 0 \\ 0 & 0 & 0 \end{pmatrix}$$

## طرح المصفوفات

إذا كانت كل من المصفوفتين أ، ب على النظم م × ن فإن المصفوفة ج = أ - ب = أ + (-ب) حيث ج مصفوفة علي النظم م × ن، (-ب) هي معكوس للمصفوفة ب بالنسبة لعملية جمع المصفوفات.

$$\text{فمثلاً: } \begin{pmatrix} 11 & 4 & 7 \\ 1 & 0 & 6 \end{pmatrix} - \begin{pmatrix} 2 & 9 & 0 \\ 3 & 7 & 8 \end{pmatrix} = \begin{pmatrix} 9 & -5 & 7 \\ -2 & -7 & -2 \end{pmatrix} = \begin{pmatrix} 2 & 9 & 0 \\ 3 & 7 & 8 \end{pmatrix} + \begin{pmatrix} -9 & 5 & -7 \\ 2 & 7 & 2 \end{pmatrix} = \begin{pmatrix} 11 & 4 & 7 \\ 1 & 0 & 6 \end{pmatrix}$$

### مثال

٢) إذا كانت أ =  $\begin{pmatrix} 11 & 4 & 7 \\ 1 & 0 & 6 \end{pmatrix}$ ، ب =  $\begin{pmatrix} 2 & 9 & 0 \\ 3 & 7 & 8 \end{pmatrix}$  أثبت أن أ - ب ≠ ب - أ.

### الحل

$$\begin{aligned} \text{ب - أ} &= \begin{pmatrix} 2 & 9 & 0 \\ 3 & 7 & 8 \end{pmatrix} - \begin{pmatrix} 11 & 4 & 7 \\ 1 & 0 & 6 \end{pmatrix} = \begin{pmatrix} -9 & 5 & -7 \\ 2 & 7 & 2 \end{pmatrix} \\ \text{أ - ب} &= \begin{pmatrix} 11 & 4 & 7 \\ 1 & 0 & 6 \end{pmatrix} - \begin{pmatrix} 2 & 9 & 0 \\ 3 & 7 & 8 \end{pmatrix} = \begin{pmatrix} 9 & -5 & 7 \\ -2 & -7 & -2 \end{pmatrix} \end{aligned}$$

من (١)، (٢) نلاحظ أن: أ - ب ≠ ب - أ (عملية طرح المصفوفات ليست إبدالية)

**فكن:** هل عملية طرح المصفوفات دمجية؟

### مثال

٣) إذا كانت أ =  $\begin{pmatrix} 1 & 0 & 2 \\ 6 & 4 & 3 \end{pmatrix}$ ، ب =  $\begin{pmatrix} 3 & 4 & 1 \\ 0 & 2 & 9 \end{pmatrix}$ ، ج =  $\begin{pmatrix} 2 & 1 & 6 \\ 4 & 0 & 3 \end{pmatrix}$  أوجد المصفوفة أ - ب + ج

### الحل

$$\begin{aligned} \text{أ - ب} &= \begin{pmatrix} 1 & 0 & 2 \\ 6 & 4 & 3 \end{pmatrix} - \begin{pmatrix} 3 & 4 & 1 \\ 0 & 2 & 9 \end{pmatrix} = \begin{pmatrix} -2 & -4 & 1 \\ 6 & 2 & -6 \end{pmatrix} \\ \text{أ - ب + ج} &= \begin{pmatrix} -2 & -4 & 1 \\ 6 & 2 & -6 \end{pmatrix} + \begin{pmatrix} 2 & 1 & 6 \\ 4 & 0 & 3 \end{pmatrix} = \begin{pmatrix} 0 & -3 & 7 \\ 10 & 2 & -3 \end{pmatrix} \end{aligned}$$

### حاول أن تحل

٢) إذا كان أ =  $\begin{pmatrix} 1 & 2 \\ 0 & 3 \end{pmatrix}$ ، ب =  $\begin{pmatrix} 4 & 1 \\ 2 & 6 \end{pmatrix}$ ، ج =  $\begin{pmatrix} 3 & 1 \\ 3 & 1 \end{pmatrix}$  فأوجد المصفوفة أ - ب + ج

## تحقق من فهمك

١ أوجد قيمة كل مما يأتي:

$$\text{أ) } \begin{pmatrix} 1 & 2 & 4 \\ 2 & 3 & 1 \end{pmatrix} + \begin{pmatrix} 1 & 3 & 2 \\ 1 & . & 9 \end{pmatrix} \quad \text{ب) } \begin{pmatrix} 4 & 3 \\ 1 & 0 \end{pmatrix} - \begin{pmatrix} 3 & 3 \\ 4 & 0 \\ 2 & 5 \end{pmatrix}$$

٢ إذا كانت  $\text{أ} = \begin{pmatrix} 1 & 3 & 2 \\ . & 0 & 4 \end{pmatrix}$  ،  $\text{ب} = \begin{pmatrix} 3 & 2 & 1 \\ 1 & 2 & . \end{pmatrix}$

أ) أوجد  $\text{أ} - \text{ب}$  ،  $\text{ب} - \text{أ}$  . ماذا تلاحظ؟  
 ب) تحقق من أن  $(\text{أ} + \text{ب}) - (\text{ب} + \text{أ}) = (\text{أ} - \text{ب}) + (\text{ب} - \text{أ})$

## تمارين (١ - ٢)

١ إذا كان  $\text{أ} = \begin{pmatrix} 1 & 0 & 2 \\ . & 0 & 4 \end{pmatrix}$  وكانت  $\text{ك} = 2$  ،  $\text{ك} = 1$  فأوجد كلاً من المصفوفات الآتية:  $\text{ك} \cdot \text{أ}$  ،  $\text{ك} \cdot \text{ك}$

٢ إذا كان  $\text{أ} = \begin{pmatrix} 0 & 0 & 7 \\ 0 & 7 & 4 \end{pmatrix}$  ،  $\text{ب} = \begin{pmatrix} 4 & 8 \\ 7 & . \\ 0 & 6 \end{pmatrix}$  فأوجد ناتج العمليات الآتية إن أمكن، مع ذكر السبب في حالة تعذر إجراء العملية

أ)  $\text{أ} + \text{ب}$       ب)  $\text{أ} + \text{ب مد}$       ج)  $\text{أ مد} + \text{ب}$

٣ إذا كان  $\text{س} = \begin{pmatrix} 2 & 4 \\ 6 & 3 \\ 4 & . \end{pmatrix}$  ،  $\text{ص} = \begin{pmatrix} 1 & 0 \\ 2 & . \\ 3 & 4 \end{pmatrix}$  ،  $\text{ع} = \begin{pmatrix} 4 & 2 \\ 2 & 3 \\ . & 6 \end{pmatrix}$  فأوجد المصفوفة  $\text{س} - \text{ص} - \text{ع} + \text{ع}$

٤ إذا كان:  $\text{أ} = \begin{pmatrix} 6 & 8 & 4 \\ 8 & 4 & 2 \\ . & 12 & 6 \end{pmatrix}$  ،  $\text{ب} = \begin{pmatrix} 2 & 6 & 2 \\ . & 1 & 4 \\ 4 & 8 & 1 \end{pmatrix}$  فأوجد المصفوفة  $\text{س} - \text{ب}$  بحيث:  $\text{س} = 3 - 12$

٥ **تفكير ناقد:** أوجد قيم  $\text{أ}$  ،  $\text{ب}$  ،  $\text{ج}$  ،  $\text{د}$  التي تحقق المعادلة:

$$\begin{pmatrix} 3 & 4 \\ 1 & . \end{pmatrix} 2 = \begin{pmatrix} 3 & 4 \\ 2 & 6 \end{pmatrix} 3 - \begin{pmatrix} 5 & 4 \\ 2 & 6 \end{pmatrix} 4 - \begin{pmatrix} 3 & 4 \\ 1 & . \end{pmatrix} 4$$

٦ **مسألة مفتوحة:** اختر من عندك مصفوفتين  $\text{أ}$  ،  $\text{ب}$  لهما نفس النظم ، ثم أثبت أن:

أ)  $\text{أ} - \text{ب} = \text{ب} - \text{أ}$       ب)  $(\text{أ} + \text{ب}) \text{مد} = \text{أ مد} + \text{ب مد}$       ج)  $(\text{أ} - \text{ب}) \text{مد} = \text{أ مد} - \text{ب مد}$

## ضرب المصفوفات

### Multiplying matrices

#### عمل تعاوني

اعمل مع زميل لك. استخدم البيانات في الجدول المقابل:

وجبة (٣)	وجبة (٢)	وجبة (١)	
٢	٢,٧٥	٣,٥٠	ثمن الوجبة بالجنيهات
٧٥	١٠٠	٥٠	عدد الوجبات المباعة

١- ما ثمن وجبات الغذاء (١)؟ وجبات الغذاء (٢)؟ وجبات الغذاء (٣)؟

٢- أ) ما مجموع ثمن جميع الوحدات المباعة من الوجبات الثلاثة؟  
ب) وضح كيف استخدمت بيانات الجدول لإيجاد الإجابة؟

٣- أ) اكتب مصفوفة  $3 \times 1$  لتمثل ثمن كل وجبة مباعة.  
ب) اكتب مصفوفة  $1 \times 3$  لتمثل عدد الوجبات المباعة.

ج) **الكتابة:** استخدم الكلمات صف، عمود، عنصر لوصف إجراءات استخدام المصفوفات التي حصلت عليها لإيجاد عدد الجنيهات التي تبيع بها الكافتيريا الوجبات الثلاث.

**والآن:** لكي نقوم بضرب المصفوفات، اضرب عناصر كل صف من المصفوفة الأولى في عناصر كل عمود من المصفوفة الثانية، ثم اجمع حواصل الضرب.

$$\text{فمثلاً لإيجاد حاصل ضرب: } \begin{pmatrix} 2 & 0 \\ 3 & 2 \\ 4 & 1 \end{pmatrix} = \text{أ}، \begin{pmatrix} 2 \\ 3 \\ 4 \end{pmatrix} = \text{ب}، \begin{pmatrix} 0 \\ 1 \\ 1 \end{pmatrix} = \text{ب}$$

نضرب  $1_1$  في  $1_1$ ، ثم نضرب  $1_1$  في  $1_2$ ، ثم نجمع حاصل الضرب

$$2 = (1) \times 2 + 0 \times (0) \quad \begin{pmatrix} \square & ? \\ \square & \square \\ \square & \square \end{pmatrix} = \begin{pmatrix} 0 \\ 1 \\ 1 \end{pmatrix} \begin{pmatrix} 2 & 0 \\ 3 & 2 \\ 4 & 1 \end{pmatrix}$$

النتيجة هو العنصر في الصف الأول والعمود الأول. كرر الخطوات نفسها مع باقي الصفوف والأعمدة.

$$2 = (1)(2) + (0)(0) \quad \begin{pmatrix} ? & 2 \\ \square & \square \\ \square & \square \end{pmatrix} = \begin{pmatrix} 0 \\ 1 \\ 1 \end{pmatrix} \begin{pmatrix} 2 & 0 \\ 3 & 2 \\ 4 & 1 \end{pmatrix}$$

$$7 = (1)(3) + (0)(2) \quad \begin{pmatrix} 2 & 2 \\ \square & ? \\ \square & \square \end{pmatrix} = \begin{pmatrix} 0 \\ 1 \\ 1 \end{pmatrix} \begin{pmatrix} 2 & 0 \\ 3 & 2 \\ 4 & 1 \end{pmatrix}$$

$$\begin{pmatrix} 2 & 2- \\ 3- & 7- \\ \square & 1 \end{pmatrix} = \begin{pmatrix} 0 & 0 \\ 1 & 1- \end{pmatrix} \begin{pmatrix} 2 & 0 \\ 3- & 2- \\ 4 & 1 \end{pmatrix}$$

$$4 = (1)(4) + (0)(1)$$

$$\begin{pmatrix} 2 & 2- \\ ? & 7- \\ \square & \square \end{pmatrix} = \begin{pmatrix} 0 & 0 \\ 1 & 1- \end{pmatrix} \begin{pmatrix} 2 & 0 \\ 3- & 2- \\ 4 & 1 \end{pmatrix}$$

$$3- = (1)(3-) + (0)(2-)$$

$$\begin{pmatrix} 2 & 2- \\ 3- & 7- \\ 4 & 1 \end{pmatrix} = \begin{pmatrix} 0 & 0 \\ 1 & 1- \end{pmatrix} \begin{pmatrix} 2 & 0 \\ 3- & 2- \\ 4 & 1 \end{pmatrix}$$

$$\begin{pmatrix} 2 & 2- \\ 3- & 7- \\ \square & ? \end{pmatrix} = \begin{pmatrix} 0 & 0 \\ 1 & 1- \end{pmatrix} \begin{pmatrix} 2 & 0 \\ 3- & 2- \\ 4 & 1 \end{pmatrix}$$

$$1 = (1-)(4) + (0)(1)$$

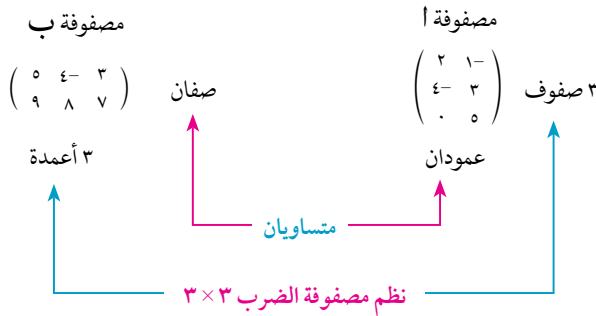
٤- صف نموذجًا للصفوف والأعمدة الملونة.

٥- أ) ما نظم المصفوفات الأصلية في المثال السابق، وما نظم مصفوفة الضرب؟

ب) **تفكير ناقد:** كيف نقارن نظم مصفوفة الضرب بنظم المصفوفات الأصلية؟

تعلم

## Multiplying matrices



## ضرب المصفوفات

يمكنك ضرب مصفوفتين إذا فقط إذا كان عدد أعمدة المصفوفة الأولى يساوي عدد صفوف المصفوفة الثانية، وعند ضرب المصفوفة أ على النظم م × ن بالمصفوفة ب على النظم ن × ل فإن الناتج هو المصفوفة أ ب على النظم م × ل **فمثلاً:**

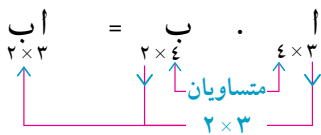
مثال

١) حدد ما إذا كانت مصفوفة حاصل الضرب أ ب معرفة في كل حالة أم لا.

أ) إذا كانت المصفوفة أ على النظم ٤ × ٣، والمصفوفة ب على النظم ٣ × ٢

ب) إذا كانت المصفوفة أ على النظم ٣ × ٥، والمصفوفة ب على النظم ٢ × ٥

الحل



أ) بما أن عدد أعمدة المصفوفة أ يساوي عدد صفوف المصفوفة ب،

فإن مصفوفة حاصل الضرب أ ب معرفة وتكون على النظم ٢ × ٣

ب) بما أن عدد أعمدة المصفوفة أ لا يساوي عدد صفوف المصفوفة ب،

فإن مصفوفة حاصل الضرب أ ب غير معرفة.

حاول أن تحل

١) حدد ما إذا كانت مصفوفة حاصل الضرب أ ب معرفة في كل حالة أم لا موضِّحاً السبب.

أ) إذا كانت المصفوفة أ على النظم ٣ × ٢، والمصفوفة ب على النظم ٣ × ٢

ب) إذا كانت المصفوفة أ على النظم ٣ × ١، والمصفوفة ب على النظم ٣ × ١

من تعريف ضرب المصفوفات يتضح إنه من الممكن أن تكون أ ب معرفة بينما ب أ غير معرفة، وبصفة عامة إذا كانت كل من أ ب، ب أ معرفتين فإن أ ب ليست بالضرورة تساوي ب أ حتى وإن تساويتا في نفس النظم.

## مثال

٢ إذا كان  $A = \begin{pmatrix} 2 & 1 & 1 \\ 3 & 0 & 1 \\ 4 & 1 & 0 \end{pmatrix}$  ،  $B = \begin{pmatrix} 0 & 1 & 2 \\ 1 & 4 & 3 \\ 1 & 0 & 0 \end{pmatrix}$  فأوجد كلا من  $AB$  ،  $BA$ . ماذا تلاحظ؟

الحل

∴ أعلى النظم  $3 \times 3$  ،  $B$  على النظم  $3 \times 3$  فإن  $AB$  معرفة (لأن عدد أعمدة  $A$  يساوي عدد صفوف  $B$ ) وتكون مصفوفة حاصل الضرب على النظم  $3 \times 3$

$$AB = \begin{pmatrix} 2 & 1 & 1 \\ 3 & 0 & 1 \\ 4 & 1 & 0 \end{pmatrix} \begin{pmatrix} 0 & 1 & 2 \\ 1 & 4 & 3 \\ 1 & 0 & 0 \end{pmatrix}$$

$$\begin{pmatrix} 3 & 3 & 9 \\ 3 & 1 & 13 \\ 3 & 4 & 23 \end{pmatrix} = \begin{pmatrix} (1-)\times 2 + 1 \times (1-) + 0 \times 1 & 0 \times 2 + 4 \times (1-) + 1 \times 1 & 0 \times 2 + 3 \times (1-) + 2 \times 1 \\ (1-)\times 3 + 1 \times 0 + 0 \times 1 & 0 \times 3 + 4 \times 0 + 1 \times 1 & 0 \times 3 + 3 \times 0 + 2 \times 1 \\ (1-)\times 4 + 1 \times 1 + 0 \times 0 & 0 \times 4 + 4 \times 1 + 1 \times 0 & 0 \times 4 + 3 \times 1 + 2 \times 0 \end{pmatrix} =$$

∴  $B$  على النظم  $3 \times 3$  ،  $A$  على النظم  $3 \times 3$  فإن  $BA$  معرفة (لأن عدد أعمدة  $B$  يساوي عدد صفوف  $A$ ) وتكون مصفوفة حاصل الضرب على النظم  $3 \times 3$

$$BA = \begin{pmatrix} 2 & 1 & 1 \\ 3 & 0 & 1 \\ 4 & 1 & 0 \end{pmatrix} \begin{pmatrix} 0 & 1 & 2 \\ 1 & 4 & 3 \\ 1 & 0 & 0 \end{pmatrix}$$

$$\begin{pmatrix} 7 & 2 & 1 \\ 22 & 2 & 1 \\ 6 & 7 & 0 \end{pmatrix} = \begin{pmatrix} 4 \times 0 + 3 \times 1 + 2 \times 2 & 1 \times 0 + 0 \times 1 + 1 \times 2 & 0 \times 0 + 1 \times 1 + 1 \times 2 \\ 4 \times 1 + 3 \times 4 + 2 \times 3 & 1 \times 1 + 0 \times 4 + 1 \times 3 & 0 \times 1 + 1 \times 4 + 1 \times 3 \\ 4 \times 1 + 3 \times 0 + 2 \times 0 & 1 \times 1 + 0 \times 0 + 1 \times 0 & 0 \times (1-) + 1 \times 0 + 1 \times 0 \end{pmatrix} =$$

نلاحظ أن  $AB \neq BA$  يمكن استخدام ضرب المصفوفات في بعض المواقف الحياتية.

## مثال

الفندق	غرفة بسريير	غرفة بسرييرين	جناح
الزهرة	٢٨	٦٤	٨
اللؤلؤة	٣٥	٩٥	٢٠
الماسة	٢٠	٨٠	١٥

٣ الربط بالسياحة: لدى شركة سياحية ٣ فنادق بمدينة العردقة

يبين الجدول المقابل عدد الغرف المختلفة في كل فندق، فإذا كانت الأجرة اليومية للغرفة التي تحتوي على سرير واحد ٢٥٠ جنيهاً، وللغرفة التي تحتوي على سريرين ٤٥٠ جنيهاً، وللجناح ٦٠٠ جنيهاً.

- أ اكتب مصفوفة تمثل عدد الغرف المختلفة في الثلاثة فنادق، ثم اكتب مصفوفة أسعار الغرف.  
 ب اكتب مصفوفة تمثل الدخل اليومي للشركة، على فرض أن جميع الغرف تم شغلها.  
 ج ما الدخل اليومي للشركة على فرض أن جميع الغرف تم شغلها؟

الحل

$$A = \begin{pmatrix} 8 & 64 & 28 \\ 20 & 95 & 35 \\ 15 & 80 & 20 \end{pmatrix}$$

أ نكتب مصفوفة عدد الغرف كالتالي:

$$B = \begin{pmatrix} 250 \\ 450 \\ 600 \end{pmatrix}$$

وتكتب مصفوفة أسعار الغرف كالتالي

ونلاحظ أننا قد كتبنا المصفوفتين بحيث يكون عدد الصفوف في المصفوفة  $A$  مساوياً لعدد الأعمدة في المصفوفة  $B$ ، حتى يمكن إجراء عملية الضرب، إيجاد المطلوب في البندين (ب)، (ج).

$$\begin{pmatrix} 250 \\ 450 \\ 600 \end{pmatrix} \begin{pmatrix} 8 & 64 & 28 \\ 20 & 95 & 35 \\ 15 & 80 & 20 \end{pmatrix} = \text{مصفوفة الدخل اليومي للشركة هي المصفوفة أ ب}$$

$$\begin{pmatrix} 40600 \\ 63500 \\ 50000 \end{pmatrix} = \begin{pmatrix} 600 \times 8 + 450 \times 64 + 250 \times 28 \\ 600 \times 20 + 450 \times 95 + 250 \times 35 \\ 600 \times 15 + 450 \times 80 + 250 \times 20 \end{pmatrix} =$$

ج الدخل اليومي للشركة =  $40600 + 63500 + 50000 = 154100$  جنيه

تعلم

## Properties of Matrix Multiplication

## خواص عملية ضرب المصفوفات

من تعريف عمليتي جمع وضرب المصفوفات، مع افتراض تحقق الشروط اللازمة للتعريفين: يمكن استنتاج الخواص التالية:

١- **خاصية الدمج:**  $(أ ب) ج = أ (ب ج)$  **والآن إذا كان:**

$$أ = \begin{pmatrix} 2 & 1 \\ 1 & 3 \end{pmatrix}, ب = \begin{pmatrix} 1 & 2 \\ 2 & 1 \end{pmatrix}, ج = \begin{pmatrix} 1 & 1 \\ 2 & 2 \end{pmatrix}$$

أوجد  $(أ ب) ج$ ،  $أ (ب ج)$ . ماذا تلاحظ؟ هل عملية ضرب المصفوفات دمجية؟

٢- **خاصية المحايد الضربي**  $أ = أ I = I أ$  حيث  $I$  هي مصفوفة الوحدة

$$أ = \begin{pmatrix} 2 & 1 \\ 1 & 3 \end{pmatrix} \text{ إذا كان } أ = أ I = I أ \text{ فبرهن أن: } I = \begin{pmatrix} 1 & 0 \\ 0 & 1 \end{pmatrix} \text{ حيث } I \text{ هي مصفوفة الوحدة}$$

٣- **خاصية توزيع ضرب المصفوفات على جمعها.**

$$\begin{aligned} (أ + ب) ج &= أ ج + ب ج \\ (أ ب) ج &= أ (ب ج) \end{aligned}$$

$$أ = \begin{pmatrix} 2 & 1 \\ 1 & 3 \end{pmatrix}, ب = \begin{pmatrix} 2 & 1 \\ 1 & 3 \end{pmatrix}, ج = \begin{pmatrix} 1 & 3 \\ 1 & 3 \end{pmatrix}$$

$$\text{إثبت أن: } (أ + ب) ج = أ ج + ب ج \quad \text{ب} \quad (أ ب) ج = أ (ب ج)$$

## Transpose of the product of two matrices

## مدور حاصل ضرب مصفوفتين

من تعريف مدور المصفوفة وتعريف ضرب المصفوفات يمكن استنتاج الخاصية التالية:  $(أ ب) مد = ب مد أ$

$$\text{والآن إذا كانت } أ = \begin{pmatrix} 1 & 2 & 1 \\ 0 & 1 & 3 \end{pmatrix}, ب = \begin{pmatrix} 2 & 1 \\ 1 & 1 \\ 1 & 3 \end{pmatrix} \text{ أثبت أن: } (أ ب) مد = ب مد أ$$

تحقق من فهمك

حدد ما إذا كانت مصفوفة حاصل ضرب  $أ ب$  معرفة في كل مما يأتي أم لا، وإذا كانت معرفة فأوجد نظم المصفوفة الناتجة:

أ المصفوفة  $أ$  على النظم  $1 \times 3$ ، والمصفوفة  $ب$  على النظم  $3 \times 2$

ب المصفوفة  $أ$  على النظم  $3 \times 3$ ، والمصفوفة  $ب$  على النظم  $2 \times 2$



## تمارين ( ١ - ٣ )

١ إذا كان  $A = \begin{pmatrix} 1 & 3 \\ 2 & 6 \end{pmatrix}$  ،  $B = \begin{pmatrix} 3 & 1 \\ 9 & 3 \end{pmatrix}$  فأوجد كلاً مما يأتي:

- أ)  $AB$       ب)  $BA$       ج)  $(A+B)A$

٢ إذا كان  $A = \begin{pmatrix} 3 & 2 \\ 5 & 4 \end{pmatrix}$  ،  $B = \begin{pmatrix} 7 & 3 \\ 18 & 11 \end{pmatrix}$  ،  $C = \begin{pmatrix} 8 & 7 \\ 18 & 11 \end{pmatrix}$  أوجد قيمة كل من  $s$  ،  $v$  :

٣ **تفكير ناقد:** إذا كان  $A$  ،  $B$  مصفوفتين ، وكانت  $\square$  هي المصفوفة الصفرية ،  $AB = \square$  ، فهل هذا يعنى دائماً أن  $A = \square$  أو  $B = \square$  ؟ اتخذ  $A = \begin{pmatrix} 3 & 2 \\ 3 & 2 \end{pmatrix}$  ،  $B = \begin{pmatrix} 6 & 3 \\ 4 & 2 \end{pmatrix}$  ثم اعرض لرأيك بعد ذلك.

٤ **الربط بالسياحة:** يستهلك أحد الفنادق في مدينة الغردقة السياحية الكميات الآتية من اللحوم والخضراوات والفاكهة بالكيلو جرام ، في وجبتي الغداء والعشاء ، وذلك تبعاً للجدول التالي:

فاكهة	خضراوات	لحوم	
١٥٠	١٠٠	٢٠٠	وجبة الغداء
١٠٠	٨٠	١٢٠	وجبة العشاء

فإذا كان متوسط سعر الكيلو جرام من اللحوم ٦٥ جنيهاً ومتوسط سعر الكيلو جرام من الخضراوات أربعة جنيهاً ومتوسط سعر الكيلو جرام من الفاكهة هو خمسة جنيهاً ، فأوجد باستخدام ضرب المصفوفات التكاليف الكلية للوجبتين.

## المحددات

## Determinants



- ١- ما المصفوفة المربعة؟
- ٢- اكتب مصفوفة مربعة من النظم  $2 \times 2$ ، ومن النظم  $3 \times 3$
- ٣- إذا كانت أمصفوفة مربعة من النظم  $2 \times 2$  حيث:  $A = \begin{pmatrix} 0 & 2 \\ 7 & 1 \end{pmatrix}$  فإن محدد المصفوفة أ هو العدد المعرف كالتالي:  

$$9 = 0 - 14 = 0 \times 1 - 7 \times 2 = |A|$$
 ما محدد كل من المصفوفات التالية؟

$$B = \begin{pmatrix} 2 & 1 \\ 4 & 3 \end{pmatrix} \text{ ، } C = \begin{pmatrix} 0 & 3 \\ 1 & 3 \end{pmatrix}$$

## تعلم

## Determinants

## المحددات

إذا كانت أمصفوفة مربعة على النظم  $2 \times 2$  حيث:  
 $A = \begin{pmatrix} أ & ب \\ ج & د \end{pmatrix}$  فإن محدد المصفوفة أ يرمز له بالرمز  $|A|$  ويسمى بمحدد الرتبة الثانية، وهو العدد المعرف كالتالي:

$$|A| = \begin{vmatrix} أ & ب \\ ج & د \end{vmatrix} = أ \cdot د - ج \cdot ب$$

القطر الرئيسي      القطر الآخر

ونلاحظ أن قيمة محدد الرتبة الثانية يساوي حاصل ضرب عنصري القطر الرئيسي مطروحًا منه حاصل ضرب عنصري القطر الآخر.

## مثال

١ أوجد قيمة كل محدد ممايلي:

$$\begin{vmatrix} 0 & 1 \\ 7 & 2 \end{vmatrix} \text{ د } \quad \begin{vmatrix} 0 & 1 \\ 1 & 0 \end{vmatrix} \text{ ج } \quad \begin{vmatrix} 0 & 0 \\ 3 & 7 \end{vmatrix} \text{ ب } \quad \begin{vmatrix} 0 & 4 \\ 7 & 3 \end{vmatrix} \text{ أ}$$

## الحل

$$\begin{vmatrix} 0 & 1 \\ 7 & 2 \end{vmatrix} \text{ د } = 0 \times 2 - 7 \times 1 = 0 - 7 = -7$$

$$\begin{vmatrix} 0 & 1 \\ 1 & 0 \end{vmatrix} \text{ ج } = 0 \times 0 - 1 \times 1 = 0 - 1 = -1$$

$$\begin{vmatrix} 0 & 0 \\ 3 & 7 \end{vmatrix} \text{ ب } = 0 \times 7 - 3 \times 0 = 0 - 0 = 0$$

$$\begin{vmatrix} 0 & 4 \\ 7 & 3 \end{vmatrix} \text{ أ } = 0 \times 3 - 7 \times 4 = 0 - 28 = -28$$



بالمثل:

$$\triangleleft \begin{vmatrix} 1 & 1 & 1 \\ 1 & 1 & 1 \\ 1 & 1 & 1 \end{vmatrix} \text{ وهو } \begin{vmatrix} 1 & 1 \\ 1 & 1 \end{vmatrix} \text{ يرمز له بالرمز } |_{11} \text{ وهو}$$

$$\triangleleft \begin{vmatrix} 1 & 1 & 1 \\ 1 & 1 & 1 \\ 1 & 1 & 1 \end{vmatrix} \text{ وهو } \begin{vmatrix} 1 & 1 \\ 1 & 1 \end{vmatrix} \text{ يرمز له بالرمز } |_{11} \text{ وهو}$$

$$\triangleleft \begin{vmatrix} 1 & 1 & 1 \\ 1 & 1 & 1 \\ 1 & 1 & 1 \end{vmatrix} \text{ وهو } \begin{vmatrix} 1 & 1 \\ 1 & 1 \end{vmatrix} \text{ يرمز له بالرمز } |_{11} \text{ وهو}$$

وهكذا، وجميع هذه المحددات هي محددات من الرتبة الثانية:

### ملاحظات هامة

١- إذا كانت أمصفوفة مربعة على النظم  $3 \times 3$  على الصورة:

$$= \begin{vmatrix} 1 & 1 & 1 \\ 1 & 1 & 1 \\ 1 & 1 & 1 \end{vmatrix} \text{، ومحدد } |_{11} \text{ يرمز له بالرمز } |_{11} \text{ حيث:}$$

$$= |_{11} = \begin{vmatrix} 1 & 1 \\ 1 & 1 \end{vmatrix} - \begin{vmatrix} 1 & 1 \\ 1 & 1 \end{vmatrix} + \begin{vmatrix} 1 & 1 \\ 1 & 1 \end{vmatrix}$$

$$= |_{11} = \begin{vmatrix} 1 & 1 \\ 1 & 1 \end{vmatrix} + \begin{vmatrix} 1 & 1 \\ 1 & 1 \end{vmatrix} - \begin{vmatrix} 1 & 1 \\ 1 & 1 \end{vmatrix}$$

٢- لاحظ أننا ضربنا كل عنصر في المحدد الأصغر المناظر له مسبقاً بالإشارات +، -، +، ... على الترتيب،

وإشارة المحدد الأصغر المناظر للعنصر  $|_{11}$  تتعين بالقاعدة:

$$|_{11} \text{ هي نفس إشارة } (-)^{1+1}$$

فمثلاً إشارة  $|_{11}$  هي نفس إشارة  $(-)^{1+1}$  وهي سالبة

إشارة  $|_{11}$  هي نفس إشارة  $(-)^{1+1}$  وهي موجبة

بعبارة أخرى لتحديد إشارة أي محدد أصغر مناظر لعنصر ما نجمع رتبتي الصف، والعمود اللذين يتقاطعان عند هذا العنصر:

$\triangleleft$  فإذا كان مجموع الرتبتين زوجياً كانت الإشارة موجبة.

$\triangleleft$  إذا كان مجموع الرتبتين فردياً كانت الإشارة سالبة.

$$\left| \begin{array}{ccc} + & - & + \\ - & + & - \\ + & - & + \end{array} \right| \text{ ونلاحظ أن قاعدة الإشارات للمحدد الأصغر تكون كالآتي:}$$

٣- يمكن فك المحدد بدلالة عناصر أي صف (أو عمود) ومحددتها الصغرى ولكن بإشارة مناسبة.

## مثال

$$٣ \text{ لإيجاد قيمة المحدد باستخدام عناصر العمود الثاني.} \begin{vmatrix} ٣ & ٢ & ١ \\ ٥ & \cdot & ٤ \\ ١- & ٢- & ٧ \end{vmatrix}$$

نلاحظ أن إشارات المحدد الأصغر المناظر لعناصر العمود الثاني هي -، +، - على الترتيب فيكون:

$$\text{المحدد} = ٢- \begin{vmatrix} ٣ & ١ \\ ٥ & ٤ \end{vmatrix} - (٢-) \begin{vmatrix} ٣ & ١ \\ ١- & ٧ \end{vmatrix} + \begin{vmatrix} ٥ & ٤ \\ ١- & ٧ \end{vmatrix}$$

$$= (١٢ - ٥) ٢ + ٠ + (٣٥ - ٤-) ٢ - =$$

$$= ٦٤ = ١٤ - ٧٨ =$$

## فكرة مفيدة للحل

يمكنك فك المحدد باستخدام أى صف أو عمود فيه أكبر عدد ممكن من الأصفار لتسهيل حصولك على قيمته بعد أخذ الإشارة المناسبة.

## حاول أن تحل

٢ أوجد قيمة كل محدد ممايلي:

$$\begin{vmatrix} ٣- & ٠ & ٢ \\ ٤ & ١- & ٥ \\ ٣ & ٠ & ٢- \end{vmatrix} \text{ ٥} \quad \begin{vmatrix} ٠ & ٤ & ٣ \\ ١ & ٣- & ٢ \\ ٢- & ٠ & ٥ \end{vmatrix} \text{ ٦} \quad \begin{vmatrix} ٧ & ٣ & ٢- \\ ٥ & ٤ & \cdot \\ ٣- & \cdot & \cdot \end{vmatrix} \text{ ب} \quad \begin{vmatrix} ٥ & ٧ & ١- \\ ١ & ٠ & ٣ \\ ٦ & ٠ & ٤ \end{vmatrix} \text{ أ}$$

## تعلم

## Determinant of triangular Matrix

## محدد المصفوفة المثلثة

المصفوفة المثلثة هي مصفوفة جميع عناصرها التي تحت القطر الرئيسي (أو فوقه) أصفار مثل:

$$\begin{pmatrix} \cdot & \cdot & ١- \\ \cdot & ٤- & ٢ \\ ٢ & ١- & ٥ \end{pmatrix}, \begin{pmatrix} ٣ & ٢ & ١ \\ ٥ & ٤ & \cdot \\ ٦ & \cdot & \cdot \end{pmatrix}, \begin{pmatrix} ٣ & ٢ \\ ٤ & \cdot \end{pmatrix}$$

ونلاحظ أن: قيمة محدد المصفوفة المثلثة يساوى حاصل ضرب عناصر قطرها الرئيسي.

أى أن:

$${}_{١١}a_{١١} {}_{٢٢}a_{٢٢} {}_{٣٣}a_{٣٣} = \begin{vmatrix} \cdot & \cdot & \cdot \\ \cdot & {}_{٢٢}a_{٢٢} & \cdot \\ \cdot & \cdot & {}_{٣٣}a_{٣٣} \end{vmatrix}$$

ولبرهان ذلك ن فك المحدد باستخدام عناصر الصف الأول:

$$\text{المحدد} = {}_{١١}a_{١١} \begin{vmatrix} \cdot & {}_{٢٢}a_{٢٢} \\ \cdot & {}_{٣٣}a_{٣٣} \end{vmatrix} = (٠ \times {}_{٢٢}a_{٢٢} - {}_{٣٣}a_{٣٣} \times \cdot) {}_{١١}a_{١١} = {}_{١١}a_{١١} {}_{٢٢}a_{٢٢} {}_{٣٣}a_{٣٣}$$

## مثال

$$٤ \text{ ما قيمة المحدد} \begin{vmatrix} ٣ & ٢ & ١ \\ ٥ & ٣- & \cdot \\ ٦ & \cdot & \cdot \end{vmatrix} ?$$

## الحل

نلاحظ أن المحدد هو محدد مصفوفة مثلثة فيكون:

$$\text{المحدد} = ١٨- = ٦ \times ٣- \times ١-$$

## حاول أن تحل

٣ أوجد قيمة كل محدد مما يلي:

$$\begin{vmatrix} 5 & 2 & 3- \\ 4 & 4 & 0 \\ 0 & 0 & 0 \end{vmatrix} \quad \text{ب}$$

$$\begin{vmatrix} 5 & 2 & 1- \\ 4- & 3 & 0 \\ 2- & 0 & 0 \end{vmatrix} \quad \text{أ}$$

## تعلم

### إيجاد مساحة سطح المثلث باستخدام المحددات

#### Finding area of a triangle by using Determinants

يمكنك استخدام المحددات لإيجاد مساحة سطح المثلث، بمعلومية إحداثيات رؤوس المثلث كالتالي:

مساحة سطح المثلث الذي رؤوسه: س (أ، ب)، ص (ج، د)، ع (هـ، و) هي  $|م|$  حيث:

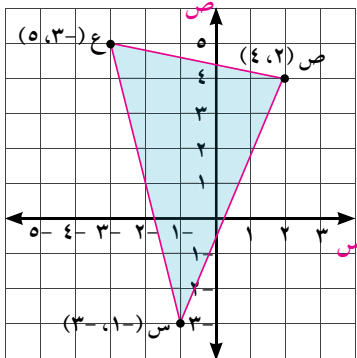
$$|م| = \frac{1}{2} \begin{vmatrix} 1 & ب & أ \\ 1 & د & ج \\ 1 & و & هـ \end{vmatrix}$$

#### تذكر

$|م|$  تعني قيمة م الموجبة.

#### مثال

٥ أوجد مستخدماً المحددات مساحة سطح المثلث الذي إحداثيات رؤوسه  $(5, 3-)$ ،  $(4, 2)$ ،  $(3-، 1-)$

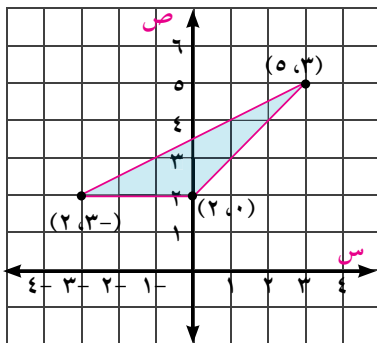


الحل

$$\begin{aligned} |م| &= \frac{1}{2} \begin{vmatrix} 1 & 3- & 1- \\ 1 & 4 & 2 \\ 1 & 5 & 3- \end{vmatrix} \\ &= \frac{1}{2} \left[ \begin{vmatrix} 4 & 2 \\ 5 & 3- \end{vmatrix} + \begin{vmatrix} 1 & 2 \\ 1 & 3- \end{vmatrix} - \begin{vmatrix} 1 & 2 \\ 1 & 4 \end{vmatrix} \right] \\ &= \frac{1}{2} \left[ (12 + 10) + (3 + 2) - (3 + 2) \right] \\ &= \frac{1}{2} (22 + 15 + 1) = 19 \text{ وحدة مربعة} \end{aligned}$$

## حاول أن تحل

٤ أوجد مستخدماً المحددات مساحة سطح المثلث أ ب ج الذي فيه أ  $(2-، 2-)$ ، ب  $(1، 3)$ ، ج  $(3، 4-)$



#### مثال

٦ **الربط بالهندسة:** إذا كانت إحداثيات ثلاث نقاط على المستوى

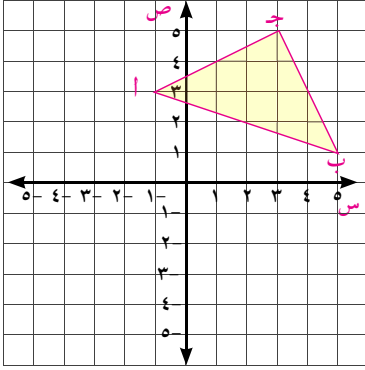
الإحداثيات هي  $(2، 0)$ ،  $(5، 3)$ ،  $(2، 3-)$  وكانت الإحداثيات بالأمتار، فأوجد مساحة سطح المثلث الذي رؤوسه تلك النقاط.

الحل

$$م = \begin{vmatrix} 1 & 2 & 0 \\ 1 & 0 & 3 \\ 1 & 2 & 3 \end{vmatrix} \frac{1}{\Delta} =$$

$$\left[ \begin{vmatrix} 1 & 2 & 0 \\ 1 & 0 & 3 \\ 1 & 2 & 3 \end{vmatrix} (-3) + \begin{vmatrix} 1 & 2 & 3 \\ 1 & 0 & 3 \\ 1 & 0 & 3 \end{vmatrix} + \begin{vmatrix} 1 & 2 & 3 \\ 1 & 0 & 3 \\ 1 & 0 & 3 \end{vmatrix} \cdot 0 \right] \frac{1}{\Delta} =$$

$$= \frac{1}{\Delta} = \left[ (0-2) \cdot 3 - 0 - 0 \right] \frac{1}{\Delta} = 4 \frac{1}{\Delta} = \text{متر مربع}$$



حاول أن تحل

٥ أوجد مستخدماً المحددات مساحة المثلث المبين بالشكل المقابل.

تعلم

## حل نظام من المعادلات الخطية بطريقة كرامر

Solving a system of linear equations by Cramer's method

## ١- حل أنظمة المعادلات الخطية في مجهولين

Solving a system of Linear equations in two unknowns

إذا كان لدينا نظام من المعادلات الخطية في مجهولين كالآتي:

$$م = أ س + ب ص$$

$$ن = ج س + د ص$$

فإن المصفوفة التي عناصرها معامل المجهولين بعد ترتيب النظام تسمى بمصفوفة المعاملات  $\begin{pmatrix} أ & ب \\ ج & د \end{pmatrix}$  ويمكنك استخدام المحددات لحل أنظمة المعادلات الخطية، فإذا كانت قيمة محدد مصفوفة المعاملات  $\begin{vmatrix} أ & ب \\ ج & د \end{vmatrix}$  ويرمز له بالرمز  $\Delta$  (يقراً دلتا) لا يساوي صفراً، فإن للنظام حلاً وحيداً، وإذا كانت قيمة المحدد صفراً، فإما أن يكون للنظام عدد لانهائي من الحلول أو ليس له حل.

ونلاحظ أن معاملي المجهول س تكوّن العمود الأول للمحدد  $\Delta$ ، ومعاملي المجهول ص تكوّن العمود الثاني للمحدد  $\Delta$ .

يسمى  $\begin{vmatrix} م & ب \\ ن & د \end{vmatrix}$  محدد المجهول س ونرمز له بالرمز  $\Delta س$  (يقراً دلتا س)، ونحصل عليه من المحدد  $\Delta$  بعد تغيير عناصر العمود الأول (معاملات س) بالثوابت م، ن.

كما يسمى  $\begin{vmatrix} م & أ \\ ن & ج \end{vmatrix}$  محدد المجهول ص ونرمز له بالرمز  $\Delta ص$  (يقراً دلتا ص)، ونحصل عليه من المحدد  $\Delta$  بعد تغيير عناصر العمود الثاني (معاملات ص) بالثوابت م، ن.

**والآن:** نفرض أن  $\Delta \neq 0$ ، فإن حل النظام هو:

$$ص = \frac{\Delta س}{\Delta} = \frac{\begin{vmatrix} م & أ \\ ن & ج \end{vmatrix}}{\begin{vmatrix} أ & ب \\ ج & د \end{vmatrix}} = \frac{\Delta س}{\Delta} = ص$$

$$س = \frac{\Delta ص}{\Delta} = \frac{\begin{vmatrix} م & ب \\ ن & د \end{vmatrix}}{\begin{vmatrix} أ & ب \\ ج & د \end{vmatrix}} = \frac{\Delta ص}{\Delta} = س$$

## مثال

٧ حل نظام المعادلتين الآتيتين بطريقة كرامر.

$$\begin{aligned} \text{س} - ٣ = \text{ص} - ٤ \\ ٢ = \text{ص} + \text{س} \end{aligned}$$

الحل

$$\text{حيث إن: } \Delta = \begin{vmatrix} ٣ & ١ \\ ١ & ٢ \end{vmatrix} = (٣ \times ٢) - (١ \times ١) = ٦ - ١ = ٥ \neq ٠$$

فيكون

$$\text{س} = \frac{\Delta_{\text{س}}}{\Delta} = \frac{\begin{vmatrix} ٣ & ٤ \\ ١ & ٢ \end{vmatrix}}{\Delta} = \frac{(٣ \times ٢) - (١ \times ٤)}{٥} = \frac{٦ - ٤}{٥} = \frac{٢}{٥}$$

$$\text{ص} = \frac{\Delta_{\text{ص}}}{\Delta} = \frac{\begin{vmatrix} ٤ & ١ \\ ٢ & ٢ \end{vmatrix}}{\Delta} = \frac{(٤ \times ٢) - (٢ \times ١)}{٥} = \frac{٨ - ٢}{٥} = \frac{٦}{٥}$$

$$\text{مجموعة الحل} = \left\{ \left( \frac{٢}{٥}, \frac{٦}{٥} \right) \right\}$$

تحقق:

$$\begin{aligned} \text{س} - ٣ &= \left( \frac{٢}{٥} \right) - ٣ = -\frac{١٤}{٥} \\ \text{ص} - ٤ &= \left( \frac{٦}{٥} \right) - ٤ = -\frac{١٤}{٥} \end{aligned}$$

$$\begin{aligned} ٢ &= \left( \frac{٢}{٥} \right) + \left( \frac{٦}{٥} \right) = \frac{٨}{٥} \\ ٢ &= ٢ \end{aligned}$$

حاول أن تحل

٦ حل نظام المعادلتين الآتيتين بطريقة كرامر:

$$\begin{aligned} ٠ = \text{ص} + ٢ \\ ١ = \text{س} - ٣ \end{aligned}$$

٢- حل أنظمة المعادلات الخطية في ثلاثة مجاهيل

### Solving systems of Linear equations in three unknowns

إذا كان لدينا نظام من المعادلات الخطية في ثلاثة مجاهيل كالاتي:

$$\begin{aligned} \text{أ} \text{ س} + \text{ب} \text{ ص} + \text{ج} \text{ ع} = \text{ك} \\ \text{أ} \text{ س} + \text{ب} \text{ ص} + \text{ج} \text{ ع} = \text{م} \\ \text{أ} \text{ س} + \text{ب} \text{ ص} + \text{ج} \text{ ع} = \text{ن} \end{aligned}$$

فإنه بطريقة مماثلة لما فعلناه في حالة نظام معادلتين خطيتين في مجهولين يكون:

$$\Delta = \begin{vmatrix} \text{أ} & \text{ب} & \text{ج} \\ \text{أ} & \text{ب} & \text{ج} \\ \text{أ} & \text{ب} & \text{ج} \end{vmatrix} = \text{محدد المعاملات}$$

$$\Delta_{\text{س}} = \begin{vmatrix} \text{أ} & \text{ب} & \text{ك} \\ \text{أ} & \text{ب} & \text{م} \\ \text{أ} & \text{ب} & \text{ن} \end{vmatrix} = \text{محدد المجهول س}$$

نحصل عليه بتغيير عناصر العمود الأول (معاملات س) بالثوابت م، ن، ك

$$\Delta_{\text{ص}} = \begin{vmatrix} \text{أ} & \text{ب} & \text{ج} \\ \text{أ} & \text{ب} & \text{ج} \\ \text{أ} & \text{ب} & \text{ج} \end{vmatrix} = \text{محدد المجهول ص}$$

نحصل عليه بتغيير عناصر العمود الثاني (معاملات ص) بالثوابت م، ن، ك

$$\Delta_{\text{ع}} = \begin{vmatrix} \text{أ} & \text{ب} & \text{ج} \\ \text{أ} & \text{ب} & \text{ج} \\ \text{أ} & \text{ب} & \text{ج} \end{vmatrix} = \text{محدد المجهول ع}$$

نحصل عليه بتغيير عناصر العمود الثالث (معاملات ع) بالثوابت م، ن، ك



والآن إذا فرض أن  $\Delta \neq 0$ ، فإن:  $\frac{\Delta}{\Delta} = \text{ع}$ ،  $\frac{\Delta}{\Delta} = \text{ص}$ ،  $\frac{\Delta}{\Delta} = \text{س}$

## مثال

٨ حل نظام المعادلات الخطية التالية بطريقة كرامر.

$$\begin{cases} \text{ع} + \text{ص} + \text{س} = 0 \\ \text{ع} - 2\text{ص} - 3\text{س} = 1 \\ 2\text{ع} + 3\text{ص} - \text{س} = 0 \end{cases}$$

الحل

$$\Delta = \begin{vmatrix} 1 & 1 & 1 \\ 1 & -2 & -3 \\ 2 & 3 & -1 \end{vmatrix} = 1(-2-3) + (1+6)3 - (1+4-2) = 13 - 5 + 21 - 3 = 16$$

$$\Delta_{\text{ع}} = \begin{vmatrix} 0 & 1 & 1 \\ 1 & -2 & -3 \\ 0 & 3 & -1 \end{vmatrix} = 0(-2-3) - (1-6)1 = 5$$

$$\Delta_{\text{ص}} = \begin{vmatrix} 1 & 0 & 1 \\ 1 & 1 & -3 \\ 2 & 0 & -1 \end{vmatrix} = 1(1-2) - (1-6)1 = -1 + 5 = 4$$

$$\Delta_{\text{س}} = \begin{vmatrix} 1 & 1 & 0 \\ 1 & -2 & 0 \\ 2 & 3 & 0 \end{vmatrix} = 1(0-2) - (0-4) = -2 + 4 = 2$$

$$\text{مجموعة الحل} = \left\{ \left( \frac{\Delta_{\text{ع}}}{\Delta}, \frac{\Delta_{\text{ص}}}{\Delta}, \frac{\Delta_{\text{س}}}{\Delta} \right) \right\} = \left\{ \left( \frac{5}{16}, \frac{4}{16}, \frac{2}{16} \right) \right\}$$

حاول أن تحل

٧ حل نظام المعادلات الخطية التالية باستخدام طريقة كرامر:

$$\begin{cases} \text{ع} + \text{ص} - \text{س} = 2 \\ \text{ع} + 2\text{ص} + \text{س} = 7 \\ 3\text{ع} - \text{ص} + \text{س} = 10 \end{cases}$$

تحقق من فهمك

١ حل كل من أنظمة المعادلات الآتية بطريقة كرامر.

أ)  $2\text{ع} - 3\text{ص} + 5\text{س} = 7$

ب)  $1 - \text{ع} - \text{ص} = 1$

ج)  $11 = \text{ع} + 2\text{ص} + 3\text{س}$

د)  $3\text{ع} - \text{ص} - \text{س} = 1$

هـ)  $3 = \text{ع} - 2\text{ص} + 5\text{س}$

و)  $16 = \text{ع} + 2\text{ص} - \text{س}$

٢ الربط بالمستهلك: اشترى فادي ٣ كشاكيل وكتابين بمبلغ ٨٥ جنيهاً، واشترى كريم كشكولين و ٤ كتب من الأنواع نفسها بمبلغ ١١٠ جنية. استخدم طريقة كرامر لإيجاد سعر كل من الكشكول والكتاب.



## تمارين (١ - ٤)



١ أوجد قيمة كل من المحددات الآتية:

$$\begin{vmatrix} ٢- & ٦ \\ ٧- & ١٩ \end{vmatrix} \text{ ج}$$

$$\begin{vmatrix} ٢ & ١ \\ ١- & ٢ \end{vmatrix} \text{ ب}$$

$$\begin{vmatrix} ٥ & ٧ \\ ٢ & ٣ \end{vmatrix} \text{ أ}$$

$$\begin{vmatrix} ٣ & ٢ & ١ \\ ٤ & ٤ & ١- \\ ٨ & ٧ & ٠ \end{vmatrix} \text{ و}$$

$$\begin{vmatrix} ١+٢ & ١+٢ \\ ١+٢ & ١+٢ \end{vmatrix} \text{ هـ}$$

$$\begin{vmatrix} ١+٢ & ١+٢ \\ ١+٢ & ١+٢ \end{vmatrix} \text{ د}$$

$$\begin{vmatrix} ٢٣ & ٣ & ١٣ \\ ٥ & ٧ & ٣٠ \\ ١ & ٠ & ٠ \end{vmatrix} \text{ ط}$$

$$\begin{vmatrix} ٣- & ٤- & ٣ \\ ٣١- & ٠ & ٢ \\ ٢ & ٠ & ٥ \end{vmatrix} \text{ ح}$$

$$\begin{vmatrix} ٣ & ٤٢ & ٠ \\ ٧ & ١٨ & ٢ \\ ٣ & ٢٨ & ٠ \end{vmatrix} \text{ ز}$$

٢ حل كل نظام من المعادلات الخطية التالية بطريقة كرامر:

$$\begin{cases} ٥ = ٣ + ص \\ ٨ = ٥ + ٢ \end{cases} \text{ ج}$$

$$\begin{cases} ٥ = ٣ + ص \\ ١٦ = ٥ + ٢ \end{cases} \text{ ب}$$

$$\begin{cases} ٥ = ٣ - ص \\ ١- = ٤ + ص \end{cases} \text{ أ}$$

$$\begin{cases} ٥ = ٣ + ص \\ ٨ = ٥ + ٢ \end{cases}$$

$$\begin{cases} ٥ = ٣ + ص \\ ١٦ = ٥ + ٢ \end{cases}$$

$$\begin{cases} ٥ = ٣ - ص \\ ١- = ٤ + ص \end{cases}$$

$$\begin{cases} ٥ = ٣ + ص \\ ٨ = ٥ + ٢ \end{cases} \text{ و}$$

$$\begin{cases} ٥ = ٣ + ص \\ ١٦ = ٥ + ٢ \end{cases} \text{ هـ}$$

$$\begin{cases} ٥ = ٣ + ص \\ ١- = ٤ + ص \end{cases} \text{ د}$$

$$\begin{cases} ٥ = ٣ + ص \\ ٨ = ٥ + ٢ \end{cases}$$

$$\begin{cases} ٥ = ٣ + ص \\ ١٦ = ٥ + ٢ \end{cases}$$

$$\begin{cases} ٥ = ٣ + ص \\ ١- = ٤ + ص \end{cases}$$

$$\begin{cases} ٦ = ٤ + ٣ + ص \\ ٣ = ٤ + ص \end{cases} \text{ ط}$$

$$\begin{cases} ٦ = ٤ + ٣ + ص \\ ٣ = ٤ + ص \end{cases} \text{ ح}$$

$$\begin{cases} ١٠ = ٤ + ٢ + ص \\ ١ = ٤ + ٢ + ص \end{cases} \text{ ز}$$

$$\begin{cases} ٦ = ٤ + ٣ + ص \\ ٣ = ٤ + ص \end{cases}$$

$$\begin{cases} ٦ = ٤ + ٣ + ص \\ ٣ = ٤ + ص \end{cases}$$

$$\begin{cases} ١٠ = ٤ + ٢ + ص \\ ١ = ٤ + ٢ + ص \end{cases}$$

$$\begin{cases} ٦ = ٤ + ٣ + ص \\ ٣ = ٤ + ص \end{cases}$$

$$\begin{cases} ٦ = ٤ + ٣ + ص \\ ٣ = ٤ + ص \end{cases}$$

$$\begin{cases} ١٠ = ٤ + ٢ + ص \\ ١ = ٤ + ٢ + ص \end{cases}$$

٣ الربط بالهندسة: أوجد مساحة سطح المثلث أ ب ج الذي فيه أ(٤، ٢)، ب(٤، ٢-)، ج(٢، ٠).

٤ أوجد مساحة سطح المثلث س ص ع الذي فيه س(٣، ٣)، ص(٣، ٣-)، ع(٤، ١-).

٥ باستخدام المحددات أثبت أن النقط (٥، ٣)، (٤، ١-)، (٧، ٥) تقع على استقامة واحدة.

## المعكوس الضربي للمصفوفة

### Multiplicative Inverse of a Matrix

#### عمل تعاوني

اعمل مع زميل لك

١- أوجد كل حاصل ضرب:

$$\text{أ) } \begin{pmatrix} 6 & 0 \\ 2 & 4 \end{pmatrix} \begin{pmatrix} 1 & 1 \\ 1 & 1 \end{pmatrix} \quad \text{ب) } \begin{pmatrix} 1 & 1 \\ 1 & 1 \end{pmatrix} \begin{pmatrix} 6 & 0 \\ 2 & 4 \end{pmatrix}$$

٢- صف أي أنماط تراها في إجابتك عن البند رقم (١).

٣- أوجد كل حاصل ضرب:

$$\text{أ) } \begin{pmatrix} 5 & 3 \\ 2 & 1 \end{pmatrix} \begin{pmatrix} 5 & 2 \\ 3 & 1 \end{pmatrix} \quad \text{ب) } \begin{pmatrix} 5 & 2 \\ 3 & 1 \end{pmatrix} \begin{pmatrix} 5 & 3 \\ 2 & 1 \end{pmatrix}$$

٤- صف أي أنماط تراها في إجابتك عن البند رقم (٣).

٥- **تفكير ناقد:** كيف تربط إجاباتك عن البندين (١)، (٣)؟

#### تعلم

### المعكوس الضربي للمصفوفة $2 \times 2$ :

#### تذكر

١- المصفوفة المحايدة في عملية الضرب هي مصفوفة الوحدة  $I$  وهي مصفوفة مربعة جميع عناصر قطرها الرئيسي ١ وباقي العناصر أصفار.

٢- لأي عددين حقيقيين يكون كل منهما معكوساً ضربياً للآخر (نظرياً ضربياً) إذا كان حاصل ضربهما هو العنصر المحايد الضربي (١).

إذا كان لدينا مصفوفتان مربعتان  $A$ ،  $B$  وكل منهما على النظم  $2 \times 2$  وكان:  $AB = BA = I$  ( $I$  مصفوفة الوحدة) فإن المصفوفة  $B$  تسمى معكوساً ضربياً للمصفوفة  $A$  وكذلك تسمى المصفوفة  $A$  معكوساً ضربياً للمصفوفة  $B$ .

إذا كان للمصفوفة  $A$  معكوساً ضربياً فإننا نرمز إليها بالرمز  $A^{-1}$  حيث:  $I = A^{-1}A = AA^{-1}$

بعض المصفوفات ليس لها معكوساً ضربياً وسوف يساعدك مايلي في استنتاج ما إذا كانت المصفوفة على النظم  $2 \times 2$  لها معكوساً ضربياً أم لا، وكيفية إيجاد هذا المعكوس إن وجد.

إذا كانت  $A = \begin{pmatrix} a & b \\ c & d \end{pmatrix}$  فإن المعكوس الضربي للمصفوفة  $A$  يكون معرفاً (موجوداً) عندما يكون محدد  $A = \Delta \neq 0$ .

وبفرض أن المصفوفة  $A^{-1}$  هي المعكوس الضربي للمصفوفة  $A$ ، وأن محدد  $A = \Delta \neq 0$  فإن:

$$A^{-1} = \frac{1}{\Delta} \begin{pmatrix} d & -b \\ -c & a \end{pmatrix}$$

### مثال

١ إذا كانت  $A = \begin{pmatrix} 1 & - \\ 2 & 8 \end{pmatrix}$  أثبت ان للمصفوفة معكوس ضربى ثم أوجد هذا المعكوس

الحل

$$\text{محدد } A = \begin{vmatrix} 1 & - \\ 2 & 8 \end{vmatrix} = 0 \times 8 - 2 \times 1 = -2$$

$\therefore \Delta \neq 0$  أي انه للمصفوفة معكوساً ضربياً.

$$A^{-1} = \frac{1}{\Delta} \begin{pmatrix} 8 & - \\ -2 & 1 \end{pmatrix} = \frac{1}{-2} \begin{pmatrix} 8 & - \\ -2 & 1 \end{pmatrix} = \begin{pmatrix} -4 & 1 \\ 1 & -\frac{1}{2} \end{pmatrix}$$

### حاول أن تحل

١ إذا كان  $A = \begin{pmatrix} 2 & \\ 3 & 4 \end{pmatrix}$  فأثبت ان للمصفوفة معكوساً ضربياً ثم أوجد.

٢ هل للمصفوفة  $B = \begin{pmatrix} 0 & 0 \\ 3 & 3 \end{pmatrix}$  معكوس ضربى؟ فسر إجابتك.

### تذكر

إذا كان  $\Delta \neq 0$  فإن للمصفوفة معكوساً ضربياً يتعين كالاتى:  
أ) تبادل بين وضعى العنصرين الواقعين على القطر الرئيسى للمصفوفة أ.

ب) نغير كلا من إشارتي العنصرين الواقعين على القطر الآخر للمصفوفة أ

ج) نضرب المصفوفة الناتجة بعد إجراء (أ)، (ب) بالعدد  $\frac{1}{\Delta}$  فنحصل على  $A^{-1}$

### مثال

٢ أوجد قيم  $\alpha$  التي تجعل للمصفوفة  $\begin{pmatrix} 2 & \\ \alpha & 8 \end{pmatrix}$  معكوساً ضربياً.

الحل

المصفوفة ليس لها معكوساً ضربياً عندما يكون محدد المصفوفة يساوى صفراً.

$$\text{أي عندما } \begin{vmatrix} 2 & \\ \alpha & 8 \end{vmatrix} = \text{صفر}$$

$$\text{أي } 2 \times 8 - \alpha = \text{صفر}$$

$$16 - \alpha = \text{صفر}$$

إذن توجد قيمتان لـ  $\alpha$  هما  $16$ ،  $0$  (وهما جذرا المعادلة  $16 - \alpha = 0$ )

تجعلان المصفوفة المعطاة ليس لها معكوس ضربى.

$\therefore$  عندما  $\alpha \in \{0, 16\}$  يكون للمصفوفة المعطاة معكوساً ضربياً.

### حاول أن تحل

٣ أوجد قيم  $s$  التي تجعل للمصفوفة  $\begin{pmatrix} 9 & s \\ s & 4 \end{pmatrix}$  ليس لها معكوس ضربى.

### مثال

٣ إذا كانت  $A = \begin{pmatrix} 1 & 1 \\ 1 & 1 \end{pmatrix}$  فأثبت أن  $A^{-1} = -A$

الحل

$$\Delta = \begin{vmatrix} 1 & 1 \\ 1 & 1 \end{vmatrix} = 1 \times 1 - 1 \times 1 = 0 \neq 1 \therefore A^{-1} = \frac{1}{\Delta} \begin{pmatrix} 1 & - \\ -1 & 1 \end{pmatrix} = -A$$

### حاول أن تحل

٤ إذا كان  $B = \begin{pmatrix} s & s \\ s & s \end{pmatrix}$  فأثبت أن  $B^{-1} = \frac{1}{s} \begin{pmatrix} 1 & \\ 1 & \end{pmatrix}$  علماً بأن  $s \neq 0$

## Cryptography

## التشفير

يمكنك استخدام أى مصفوفه ومعكوسها الضربي لتشفير الرسالة . استخدم معكوس المصفوفة لفك شفرة الرسالة: نكتب الرسالة "في فريق" كمصفوفات على النظم  $1 \times 2$  لتصبح الأرقام الموجودة تباعاً.

ك ٢٢	ض ١٥	د ٨	أ ١
ل ٢٣	ط ١٦	ذ ٩	ب ٢
م ٢٤	ظ ١٧	ر ١٠	ت ٣
ن ٢٥	ع ١٨	ز ١١	ث ٤
هـ ٢٦	غ ١٩	س ١٢	ج ٥
و ٢٧	ف ٢٠	ش ١٣	ح ٦
ي ٢٨	ق ٢١	ص ١٤	خ ٧

$$\text{في } \begin{pmatrix} 20 \\ 28 \end{pmatrix} \text{ فر } \begin{pmatrix} 20 \\ 10 \end{pmatrix} \text{ يق } \begin{pmatrix} 28 \\ 21 \end{pmatrix} \quad (1)$$

عندما تستخدم ضرب المصفوفات وتستخدم مصفوفة مثل  $R = \begin{pmatrix} 2 & 6 \\ 1 & 2 \end{pmatrix}$  فإن الرسالة سوف تصبح هذه المصفوفات:

$$\begin{pmatrix} 210 \\ 77 \end{pmatrix} \begin{pmatrix} 140 \\ 50 \end{pmatrix} \begin{pmatrix} 176 \\ 68 \end{pmatrix} \quad (2)$$

**لاحظ أن:** مصفوفة التشفير  $R^{-1}$  يمكن إيجادها كالآتي:

$$\therefore R = \begin{pmatrix} 2 & 6 \\ 1 & 2 \end{pmatrix}, \Delta = \begin{vmatrix} 2 & 6 \\ 1 & 2 \end{vmatrix} = 2 \cdot 2 - 6 \cdot 1 = -2 \neq 0$$

$$\text{فيكون } R^{-1} = \frac{1}{\Delta} \begin{pmatrix} 2 & -6 \\ -1 & 2 \end{pmatrix} = \begin{pmatrix} -1 & 3 \\ 0.5 & -1 \end{pmatrix}$$

وعند ضرب المصفوفة  $R^{-1}$  في كل من المصفوفات في البند (٢) تحصل على المصفوفات في البند (١) وتستطيع فك الشفرة.

## والآن:

- ١- اكتب رسالة " أرسل طعام " وشفرها باستخدام ضرب المصفوفات والمصفوفة  $R = \begin{pmatrix} 2 & 6 \\ 1 & 2 \end{pmatrix}$ .
- ٢- اكتب رسالة من عندك وشفرها باستخدام ضرب المصفوفات (استخدم مصفوفة تشفير من عندك).

## تعلم

## حل معادلتين آيتين باستخدام معكوس المصفوفة

## Solving two simultaneous equations by using Inverse Matrix

إذا كان لدينا نظام من معادلتين خطيتين كالآتي:

$$a_1s + b_1v = k_1 \quad a_2s + b_2v = k_2$$

فإنه يمكن كتابتهما على الصورة التالية:

$$\begin{pmatrix} a_1 & b_1 \\ a_2 & b_2 \end{pmatrix} \begin{pmatrix} s \\ v \end{pmatrix} = \begin{pmatrix} k_1 \\ k_2 \end{pmatrix}$$

وإذا فرضنا أن:

$$A = \begin{pmatrix} a_1 & b_1 \\ a_2 & b_2 \end{pmatrix}, S = \begin{pmatrix} s \\ v \end{pmatrix}, J = \begin{pmatrix} k_1 \\ k_2 \end{pmatrix}$$

فإن المعادلتين يمكن كتابتهما على صورة معادلة مصفوفية واحدة كالآتي:

$$AS = J \quad \text{حيث } A \text{ هي مصفوفة المعاملات، } S \text{ هي مصفوفة المجاهيل، } J \text{ هي مصفوفة الثوابت.}$$

وإذا كان محدد  $A \neq 0$

فيكون من الممكن إيجاد حل المعادلة  $Ax = b$  كما يأتي:

(بضرب طرفي المعادلة من اليمين في  $A^{-1}$ )

(خاصية التجميع)

(المعكوس الضربي للمصفوفة  $A$ )

$$A^{-1}(Ax) = A^{-1}b$$

$$\therefore (A^{-1}A)x = A^{-1}b$$

$$Ix = A^{-1}b$$

$$\therefore x = A^{-1}b$$

وبهذا يتضح إنه يمكننا إيجاد المجهولين  $x, y$  بدلالة الثوابت العددية  $a, b, c, d, e, f, g, h, i, j, k, l, m, n, o, p, q, r, s, t, u, v, w, x, y, z$ .

### مثال

٤ حل نظام المعادلتين الآتيتين التاليتين باستخدام المصفوفات:

$$3x + 2y = 5 \quad 2x + y = 3$$

الحل

تكتب المعادلة المصفوفية  $Ax = b$  حيث

$$\begin{pmatrix} 3 & 2 \\ 2 & 1 \end{pmatrix} = A, \begin{pmatrix} 5 \\ 3 \end{pmatrix} = b, \begin{pmatrix} x \\ y \end{pmatrix} = X$$

$$\text{محدد } A = \Delta = \begin{vmatrix} 3 & 2 \\ 2 & 1 \end{vmatrix} = 3 - 4 = -1 \neq 0$$

فيكون للمصفوفة  $A$  معكوساً ضربياً ويكون الحل هو  $X = A^{-1}b$  وحيث أن:

$$\begin{pmatrix} 2 & 1 \\ 3 & 2 \end{pmatrix}^{-1} = \frac{1}{\Delta} \begin{pmatrix} 2 & -1 \\ -3 & 1 \end{pmatrix} = \frac{1}{-1} \begin{pmatrix} 2 & -1 \\ -3 & 1 \end{pmatrix} = \begin{pmatrix} -2 & 1 \\ 3 & -1 \end{pmatrix}$$

$$\therefore \begin{pmatrix} x \\ y \end{pmatrix} = \begin{pmatrix} -2 & 1 \\ 3 & -1 \end{pmatrix} \begin{pmatrix} 5 \\ 3 \end{pmatrix} = \begin{pmatrix} -5 \\ 12 \end{pmatrix}$$

أي أن  $x = -5, y = 12$

مجموعة الحل  $\{(1, 1)\}$

التحقق:  $5 \stackrel{?}{=} (1)2 + (1)3$

(✓)

$$5 = 5$$

$$3 \stackrel{?}{=} 1 + (1)2$$

(✓)

$$3 = 3$$

### حاول أن تحل

٥ حل كل نظام من المعادلات الخطية التالية باستخدام المصفوفات.

أ  $3x + 7y = 2$

(تحقق من صحة إجابتك)  $2 = 5 + 3x$

ب  $3x + 5y = 0$

(تحقق من صحة إجابتك)  $2 = 8 - 5y$

## مثال



٥ **معرض الكتاب:** ذهبت هدى ومريم إلى معرض القاهرة الدولي للكتاب، فاشترت هدى من إحدى المكتبات ٥ كتب علمية و ٤ كتب تاريخية ودفعت ثمنًا لها مبلغ ١٢٠ جنيهاً، واشترت مريم من نفس المكتبة ٥ كتب علمية، ١٠ كتب تاريخية، ودفعت ثمنًا لها مبلغ ١٥٠ جنيهاً، فإذا كانت الكتب العلمية لها نفس الثمن، وكذلك الكتب التاريخية لها نفس الثمن، استخدم المصفوفات في إيجاد سعر كل من الكتاب العلمي والكتاب التاريخي.

## الحل

نفرض أن س ثمن الكتاب العلمي، ص ثمن الكتاب التاريخي فيكون:

$$\begin{aligned} ١٢٠ &= ٤س + ١٠ص \\ ١٥٠ &= ٥س + ١٠ص \end{aligned}$$

نكون المعادلة المصفوفية على الصورة:  $أس = ج$  فيكون:

$$\begin{pmatrix} ١٢٠ \\ ١٥٠ \end{pmatrix} = \begin{pmatrix} ٤ & ١٠ \\ ٥ & ١٠ \end{pmatrix} \begin{pmatrix} س \\ ص \end{pmatrix}$$

$$\text{نوجد محدد } \Delta = \begin{vmatrix} ٤ & ١٠ \\ ٥ & ١٠ \end{vmatrix} = ٤٠ - ٥٠ = -١٠ \neq ٠$$

$$\therefore \text{المصفوفة لها معكوس ضربى } A^{-1} \text{ حيث } A^{-1} = \frac{1}{\Delta} \begin{pmatrix} ١٠ & -١٠ \\ ٥ & -٤ \end{pmatrix} = \begin{pmatrix} -١ & ١ \\ ٥ & -٤ \end{pmatrix}$$

$$\begin{pmatrix} ٢٠ \\ ٥ \end{pmatrix} = \begin{pmatrix} ١٢٠ \\ ١٥٠ \end{pmatrix} \begin{pmatrix} -١ & ١ \\ ٥ & -٤ \end{pmatrix} = \begin{pmatrix} -١٢٠ + ١٥٠ \\ -٦٠ - ٦٠ \end{pmatrix} = \begin{pmatrix} ٣٠ \\ -١٢٠ \end{pmatrix}$$

أي أن: س = ٢٠، ص = ٥

فيكون ثمن الكتاب العلمي ٢٠ جنيهاً  
و ثمن الكتاب التاريخي ٥ جنيهاً.

التحقق:  $١٢٠ \stackrel{?}{=} (٥)٤ + (٢٠)١٠$

(✓)  $١٢٠ = ١٢٠$

$١٥٠ \stackrel{?}{=} (٥)١٠ + (٢٠)٥$

(✓)  $١٥٠ = ١٥٠$

## حاول أن تحل

٦ **الربط بالمستهلك:** اشترت أمل ٨ كجم من الدقيق، ٢ كجم من الزبد، بمبلغ ١٤٠ جنيهاً، واشترت صديقتها ريم ٤ كجم من الدقيق، ٣ كجم من الزبد، بمبلغ ١٧٠ جنيهاً، استخدم المصفوفات في إيجاد سعر الكيلو جرام الواحد من كلا النوعين.

## تحقق من فهمك

١ إذا كان  $B = \begin{pmatrix} ٤ & ٢ \\ ١ & ٣ \end{pmatrix}$ ،  $A = I$  فأوجد المصفوفة  $A$ .

٢ إذا كان  $A = \begin{pmatrix} ٢ & ٢ \\ ٣ & ١ \end{pmatrix}$ ،  $B = \begin{pmatrix} ٢ & ٤ \\ ٧ & ٤ \end{pmatrix}$  فأوجد المصفوفة  $B$ .

٣ **تفكير ناقد:** باستخدام المصفوفات، أوجد عددين مجموعهما ١٠، والفرق بينهما ٤

## تمارين (١ - ٥)

١ بين المصفوفات التي لها معكوسات ضربية، والمصفوفات التي ليس لها معكوسات ضربية فيما يلي، وأوجد المعكوس إن وجد.

أ  $\begin{pmatrix} ١ & ٢ \\ ١ & -١ \end{pmatrix}$       ب  $\begin{pmatrix} ٦ & ٢ \\ ٣ & -١ \end{pmatrix}$       ج  $\begin{pmatrix} ٠ & -١ \\ ٤ & ٣ \end{pmatrix}$       د  $\begin{pmatrix} ٢ & ٢ \\ ٢ & ٢ \end{pmatrix}$   
 هـ  $\begin{pmatrix} ٢ & ٤ \\ ١ & ٣ \end{pmatrix}$       و  $\begin{pmatrix} ٠ & ٢ \\ ١ & ٠ \end{pmatrix}$       ز  $\begin{pmatrix} ٩ & ٣ \\ ٦ & ٢ \end{pmatrix}$       ح  $\begin{pmatrix} ٣ & ٢ \\ ٦ & ٥ \end{pmatrix}$

٢ ما قيم  $A$  التي تجعل لكل من المصفوفات التالية معكوساً ضربياً

أ  $\begin{pmatrix} ١ & ١ \\ ٣ & ٦ \end{pmatrix}$       ب  $\begin{pmatrix} ٩ & ١ \\ ١ & ٤ \end{pmatrix}$       ج  $\begin{pmatrix} ٤ & ١ \\ ٢-١ & ٢ \end{pmatrix}$       د  $\begin{pmatrix} ٢- & ١-١ \\ ٢-١ & ١ \end{pmatrix}$

٣ إذا كانت  $S = \begin{pmatrix} ٢ & ٠ \\ ٠ & ٢ \end{pmatrix}$  فأثبت أن  $S^{-١} = \begin{pmatrix} ١/٢ & ٠ \\ ٠ & ١/٢ \end{pmatrix}$

٤ أوجد المصفوفة  $A$  إذا كان:  $\begin{pmatrix} ٠ & ١ \\ ١ & ٠ \end{pmatrix} = \begin{pmatrix} ٢- & ٢- \\ ١ & ٣ \end{pmatrix} = A$

٥ إذا كانت  $S = \begin{pmatrix} ٣- & ٢ \\ ١ & ٠ \end{pmatrix}$ ،  $S^{-١} = \begin{pmatrix} ١- & ١ \\ ٣ & -١ \end{pmatrix}$  أثبت أن  $(S^{-١})^{-١} = S^{-١}$

٦ حل كل نظام من المعادلات الخطية التالية باستخدام المصفوفات، ثم تحقق من صحة الناتج:

أ  $٤س + ٣ص = ٢٦$ ،  $٥س - ٣ص = ٤$       ب  $٢س - ٧ص = ٣$ ،  $٣س - ٣ص = ٢$

ج  $٢س + ٣ص = ٧$ ،  $٥ص - ٣س = ٢$       د  $٢ص - ٥س = ٣$ ،  $٣س - ٣ص = ٢$

٧ **الربط بالهندسة:** الخط المستقيم الذي معادلته  $ص + ٥س = ح$  يمر بالنقطتين  $(١, ٥)$ ،  $(٣, ١)$ ، استخدم المصفوفات لإيجاد قيمة الثابتين  $أ$ ،  $ح$ .

٨ **الربط بالحياة:** يشتري سائق دراجة بخارية ٢٤ لترًا من البنزين و ٥ لترات من الزيت بمبلغ ٥٦ جنيهاً لتموين دراجته، بينما يشتري سائق دراجة بخارية أخرى ١٨ لترًا من البنزين، ١٠ لترات من الزيت بمبلغ ٦٧ جنيهاً لتموين دراجته، استخدم المصفوفات في إيجاد ثمن كل من لتر البنزين ولتر الزيت، إذا علمت أنهما يستخدمان نفس النوعية من البنزين والزيت.

٩ **الربط بالهندسة:** يمر المنحنى  $ص = ٢س + ب$  بالنقطتين  $(٢, ٠)$ ،  $(٤, ٨)$ ، استخدم المصفوفات لإيجاد الثابتين  $أ$ ،  $ب$ .

١٠ **تفكير ناقد:** نصف الفرق بين عددين هو ٢ ومجموع العدد الأكبر وضعف العدد الأصغر هو ١٣. باستخدام المصفوفات أوجد العددين.

### تمارين عامة

لمزيد من التمارين قم بزيارة موقع وزارة التربية والتعليم.



## ملخص الوحدة

- المصفوفة هي ترتيب لعدد من العناصر (متغيرات أو أعداد) في صفوف وأعمدة وتكتب بين قوسين، ويرمز لها باستخدام الحروف الكبيرة. كما يرمز لعناصر المصفوفة بالحروف الصغيرة، وإذا أردنا التعبير عن العنصر داخل المصفوفة الذي يقع في الصف  $v$  والعمود  $c$  فإنه يمكننا كتابته على الصورة  $a_{vc}$
- المصفوفة المربعة: هي مصفوفة عدد صفوفها يساوي عدد أعمدها.
- مصفوفة الصف: هي مصفوفة تحتوي على صف واحد، وأي عدد من الأعمدة.
- مصفوفة العمود: هي مصفوفة تحتوي على عمود واحد وأي عدد من الصفوف.
- المصفوفة الصفرية: هي مصفوفة جميع عناصرها أصفار.
- المصفوفة القطرية: هي مصفوفة مربعة جميع عناصرها اصفار، ما عدا عناصر القطر الرئيسي فتكون أحدها على الأقل مغايراً للصفر.
- مصفوفة الوحدة: هي مصفوفة قطرية، يكون فيها كل عناصر القطر الرئيسي مساوياً للواحد، ويرمز لها بالرمز  $I$ .
- المصفوفات المتساوية: هي المصفوفات التي لها نفس النظم وعناصرها المتناظرة متساوية.
- مدور المصفوفة: في أي مصفوفة  $A$  على النظم  $m \times n$  إذا استبدلنا الصفوف بالأعمدة، والأعمدة بالصفوف بنفس الترتيب، فإننا نحصل على مصفوفة من النظم  $n \times m$  وتسمى مدور المصفوفة أو يرمز لها  $A^d$ ،  $(A^d)^d = A$
- المصفوفة المتماثلة: إذا كانت  $A$  مصفوفة مربعة، فإنها تسمى متماثلة إذا وفقط إذا كانت  $A = A^d$
- المصفوفة شبه المتماثلة: تسمى المصفوفة  $A$  شبه متماثلة إذا وفقط إذا كانت  $A = -A^d$
- يمكن جمع أو طرح المصفوفات إذا كان لهما نفس النظم، وذلك بجمع العناصر المتناظرة أو طرحها.
- لضرب مصفوفة في عدد حقيقي  $k$ ، اضرب كل عنصر من عناصر المصفوفة في هذا العدد.
- يمكن ضرب مصفوفتين إذا كان عدد الأعمدة في المصفوفة الأولى يساوي عدد الصفوف في المصفوفة الثانية.
- تكون كل من المصفوفتين معكوساً ضربياً للأخرى إذا كان حاصل ضربهما هو مصفوفة الوحدة  $I$ .
- لحل معادلة مصفوفية على الصورة  $As = b$ ، نوجد المعكوس الضربي لمصفوفة المعاملات، ثم نضرب طرفي المعادلة فيه.

### معلومات إثرائية @

قم بزيارة المواقع الآتية:





## أهداف الوحدة

فى نهاية الوحدة من المتوقع أن يكون الطالب قادرًا على أن:

- ✚ يحل متباينات من الدرجة الأولى فى مجهول واحد مع تمثيل الحل بيانيًا.
- ✚ يحل متباينات من الدرجة الأولى فى مجهولين وتحديد منطقة الحل بيانيًا.
- ✚ يحل نظام من المتباينات الخطية بيانيًا.
- ✚ يحل مسائل حياتية على أنظمة المتباينات الخطية.
- ✚ يستخدم البرمجة الخطية فى حل مشكلات رياضية حياتية.
- ✚ يضع معلومات خاصة بموضوع مشكلة رياضية حياتية فى جدول مناسب، ويترجم البيانات لها فى صورة متباينات خطية، ثم يحدد منطقة الحل بيانيًا.
- ✚ يعين دالة الهدف بدلالة الإحداثيات، مع تحديد النقط التى تنتمى إلى مجموعة الحل، وإعطاء الحل الأمثل لدالة الهدف.

## المصطلحات الأساسية

Feasible region	منطقة الحل	Linear Inequality	متباينة خطية
Graph	رسم بياني	Boundary line	مستقيم حدى
Linear programing	برمجة خطية	Dashed boundary line	مستقيم حدى منقط
Constrains	القيود	Solid boundary line	مستقيم حدى متصل
Optimize	الحل الأمثل	Linear Inequality in two unknowns	متباينة خطية فى مجهولين
		System of linear inequalities	نظام المتباينات الخطية

## دروس الوحدة

الدرس (٢ - ١): المتباينات الخطية.  
الدرس (٢ - ٢): حل أنظمة من المتباينات  
الخطية بيانياً.  
الدرس (٢ - ٣): البرمجة الخطية والحل  
الأمثل.

## دروس الوحدة

شبكة إحداثيات  $10 \times 10$   
ورق مربعات - أقلام ألوان رصاص -  
بعض المواقع الإلكترونية  
مثل [www.phschool.com](http://www.phschool.com)

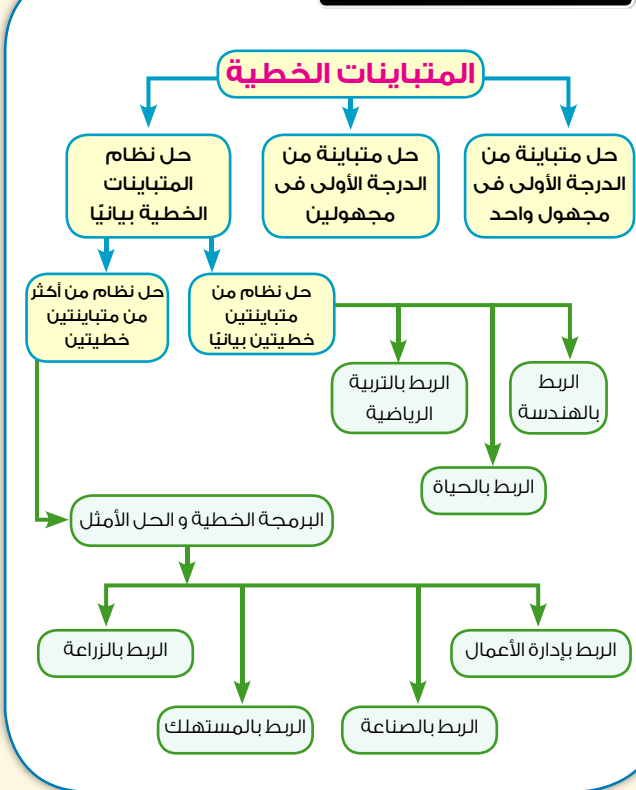


## مقدمة الوحدة

عندما يؤدي تحليل مسألة أو مشكلة ما إلى إيجاد قيمة عظمى أو صغرى لتعبير خطي، يجب أن تخضع متغيراته لمجموعة من المتباينات الخطية. فإنه ربما يمكننا الحصول على الحل باستخدام تكتيكات البرمجة الخطية.

وتاريخياً، فقد ظهرت مشكلات البرمجة الخطية كنتيجة للحاجة لحل مشكلات تتعلق بمرتبات أفراد القوات المسلحة أثناء الحرب العالمية الثانية، ومن أمثال الذين عملوا في حل مثل هذه المشكلات جورج دانترنج George Dantzig الذي توصل لصيغة عامة لمشكلات البرمجة الخطية مع عرض طريقة لحلها تسمى السمبلكس Simplex method، وللبرمجة الخطية تطبيقاتها في كل المجالات مثل الصناعة والتجارة وإدارة الوقت، والزراعة، والصحة، وغيرها، فمثلاً يتطلب النجاح في إدارة الأعمال استخدام البرمجة الخطية، وذلك لتحقيق أقصى ربح ممكن أو تحقيق أقل تكلفة ممكنة وهكذا، وفي هذه الوحدة سوف نتعلم طرق حل مسائل البرمجة الخطية التي تتضمن مجهولين فقط، وتطبيقاتها في مواقف حياتية مختلفة.

## مخطط تنظيمي للوحدة



## المتباينات الخطية

### Linear Inequalities

#### عمل تعاوني

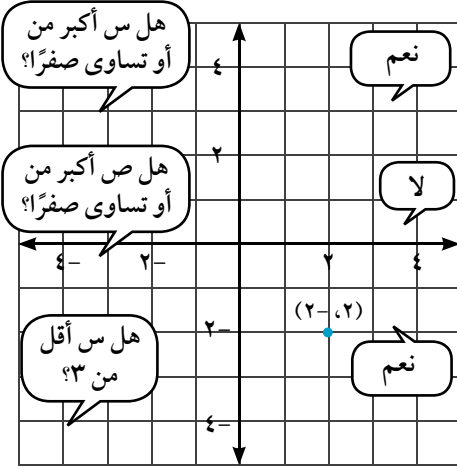
الأدوات المستخدمة: شبكة إحداثيات  $10 \times 10$

١- بالاشتراك مع زميل لك العب لعبة "ما النقطة؟"

#### هدف اللعبة:

تحديد موضع نقطة على المستوى الإحداثي بطرح أقل عدد ممكن من الأسئلة.

#### كيف تلعب؟



◀ يختار اللاعب (أ) نقطة على المستوى الإحداثي، ولا يعلمها اللاعب الآخر (نقطة سرية)، ويكون كل من إحداثيها عددًا صحيحًا من -٥ إلى ٥  
◀ يسأل اللاعب (ب) أسئلة تشمل الكلمات "أقل من" أو "أكبر من"، ويجب اللاعب (أ) عن كل سؤال فقط بـ "نعم" أو "لا".

◀ يسجل اللاعب (أ) عدد الأسئلة المطروحة بينما يُسمى اللاعب (ب) النقطة السرية.  
◀ يتبادل اللاعبان أدوارهما لتكملة جولة واحدة من اللعبة.

#### كيف تفوز؟

اللاعب الذي يحدد النقطة بطرحه عددًا أقل من الأسئلة هو الذي يفوز بالجولة، واللاعب الذي يفوز بأول ثلاث جولات، هو اللاعب الفائز.

٢- كم سؤالًا تحتاج لطرحة لتحديد موضع النقطة السرية؟

٣- إذا كنت محظوظًا بدرجة كبيرة، فما عدد الأسئلة التي تحتاج لطرحتها، لتحديد موضع النقطة السرية؟ فسر إجابتك موضحةً بالأمثلة.

٤- كيف تساعدك المتباينات في تحديد موضع النقطة السرية؟

٥- اقترح إستراتيجية لتفوز في هذه اللعبة.

## حل متباينات الدرجة الأولى في مجهول واحد

## Solving linear inequalities in one unknown

سبق أن درست حل المتباينة من الدرجة الأولى في متغير واحد، ونذكرك بأن حل المتباينات يتوقف على مجموعة التعويض، كما يتوقف على خواص علاقة التباين التالية:

## خواص علاقة التباين في ح

إذا كان  $a$ ،  $b$ ،  $c$   $\exists$  ح فإن:

$$\leftarrow \text{إذا كان } a \leq b \quad \text{فإن } a + c \leq b + c \quad \text{لكل } c < 0$$

$$a \leq b \quad \text{لكل } c < 0$$

$$a \geq b \quad \text{لكل } c > 0$$

$$\leftarrow \text{إذا كان } a \geq b \quad \text{فإن } a + c \geq b + c \quad \text{لكل } c < 0$$

$$a \geq b \quad \text{لكل } c < 0$$

$$a \leq b \quad \text{لكل } c > 0$$

## لاحظ

إذا كانت المتباينة في متغير واحد فإنه يمكن تمثيل مجموعة حلها على خط الأعداد وذلك كما درست مسبقاً.

## مثال

١ أوجد مجموعة حل كل من المتباينتين التاليتين حيث  $s \exists$  ح ثم مثل الحل على خط الأعداد:

ب)  $s + 6 > 3 + 2 \geq s + 14$

أ)  $3s - 9 < 6$

## الحل

أ)  $3s - 9 < 6$

بإضافة (٩ - ٩) لكل من الطرفين.

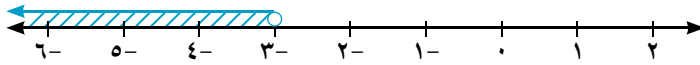
$$\therefore 3s - 9 + 9 < 6 + 9 \quad \text{بضرب الطرفين في } \left(-\frac{1}{3}\right)$$

(بضرب الطرفين في  $-\frac{1}{3}$ )

$$\therefore 3s < 15$$

$$s > 3$$

مجموعة الحل =  $]-3, \infty[$



ب) نقسم المتباينة إلى متباينتين كالتالي:

المتباينة الأولى:  $s + 6 > 3 + 2$

المتباينة الثانية:  $3s + 2 \geq s + 14$

$$\therefore 3s - s \geq 14 - 2$$

$$\therefore 2s \geq 12$$

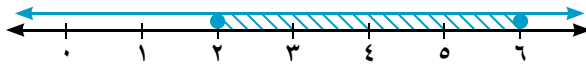
مجموعة الحل =  $[6, \infty[$

$$\therefore 2 - 6 > s - 3$$

$$\therefore s < 2$$

مجموعة الحل =  $]-\infty, 2[$

$$\text{مجموعة الحل} = ]-\infty, 2[ \cap [6, \infty[ = [6, 2[$$



## حاول أن تحل

١ حل المتباينات الآتية في ح ومثل مجموعة الحل بياناً على خط الأعداد:

ج)  $7 + s \geq 2 + 3 > s + 3$

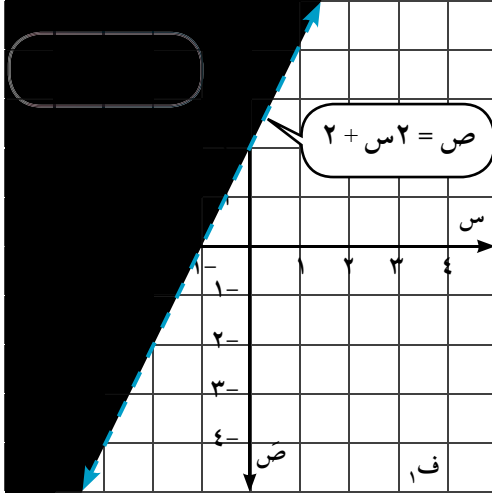
ب)  $5 > 1 - s > 2$

أ)  $2 \leq 5 + s$

## حل متباينات الدرجة الأولى في مجهولين

## Solving linear inequalities in two unknowns

المتباينة من الدرجة الأولى في مجهولين تشبه المعادلة الخطية من الدرجة الأولى في مجهولين، والفرق بينهما هو وضع رمز المتباينة بدلاً من وضع رمز التساوي فمثلاً:  $ص < ٢ + س$  هي متباينة خطية،  $ص = ٢ + س$  هي معادلة خطية مرتبطة بها.



التمثيل البياني للمتباينة  $ص < ٢ + س$  موضح بالمنطقة المظللة في الشكل المقابل.

**ونلاحظ أن** كل نقطة في المنطقة الملونة تحقق المتباينة، والتمثيل البياني للمستقيم  $ص = ٢ + س$  هو حد المنطقة الممثلة للحل، وقد رسم المستقيم بشكل متقطع ليدل على أنه لا يحقق المتباينة. أما إذا احتوت المتباينة على الرمز  $\leq$  أو  $\geq$  فإن النقاط الواقعة على المستقيم الحدي ستحقق المتباينة وعندئذ يكون تمثيل المستقيم خطاً متصلًا.

## مثال

٢) مثل بيانياً مجموعة حل المتباينة:  $ص > ٢ + س$

## الحل

**الخطوة (١):** ارسم المستقيم الحدي  $ص = ٢ + س$

**ولاحظ أن** نقط المستقيم الحدي ليست حلاً للمتباينة لذا يرسم المستقيم الحدي متقطعاً.

س	٠	١	٢
ص	٣	١	١

**الخطوة (٢):** نختار إحدى

النقط في أحد جانبي الخط المرسوم ونعوض بها في الطرف الأيمن، فإذا

حققت هذه النقطة المتباينة نلون هذا الجانب (مجموعة الحل)، وإذا لم تحقق المتباينة نلون الجانب الآخر ويكون هو مجموعة الحل.

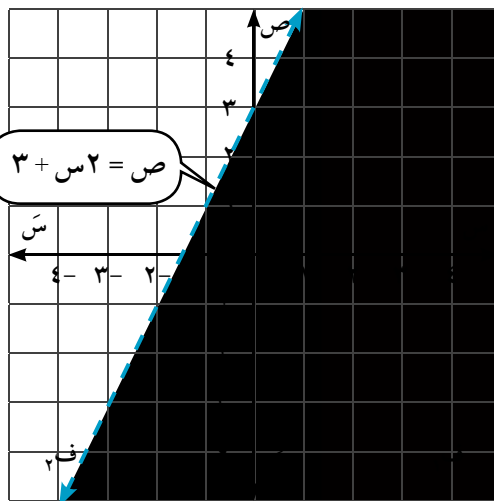
## لأخذ

المستقيم الحدي يقسم المستوى إلى ثلاث مجموعات من النقط.

١- مجموعة نقط المستقيم الحدي.

٢- مجموعة نقط المستوى التي تقع على أحد جانبي المستقيم الحدي وتسمى نصف مستوى ويرمز لها بالرمز (ف١).

٣- مجموعة نقط المستوى التي تقع على الجانب الآخر للمستقيم الحدي وتسمى نصف مستوى ويرمز لها بالرمز (ف٢).



اختر النقطة (٠، ٠) والتي لاتقع على المستقيم الحدى، بل تقع على أحد جانبيه.

ص  $2 > 3 + س$  (المتباينة الأصلية)

نعوض بالنقطة (٠، ٠)  $3 + (٠) > ٠$

(صواب)  $3 > ٠$

التحقق:  
يبين التمثيل البياني أن النقطة (٣، ٢)  
تقع في منطقة الحل.

ظلل المنطقة التي تحتوى على النقطة (٠، ٠)، حيث مجموعة  
الحل هي نصف المستوى الذى تنتمى إليه النقطة (٠، ٠).

ص  $2 > 3 + س$  (المتباينة الأصلية)

نعوض بالنقطة (٣، ٢)  $3 + (٢) > ٣$

(صواب)  $٧ > ٣$  إذن الحل صحيح.

### مثال

٣ مثل بيانياً مجموعة حل المتباينة:  $١٠ \geq ٥ - ٢س$

### الحل

الخطوة (١): نمثل بيانياً المستقيم الحدى (ل).

$١٠ = ٥ - ٢س$  بخط متصل (لأن علاقة التباين  $\geq$ ).

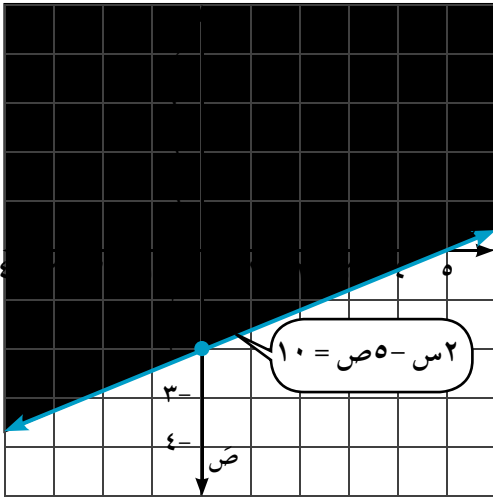
س	٠	٥	$٢ \frac{١}{٢}$
ص	٢-	٠	١-

يمكنك رسم المستقيم الحدى بوضع المستقيم:

$١٠ = ٥ - ٢س$  على الصورة:  $ص = م + ج$

حيث م الميل، ج الجزء المقطوع من محور الصادات.

فيكون:  $٥ - ٢س = ١٠$  ∴  $ص = ٢ - \frac{١}{٢}س$



الخطوة (٢): اختر النقطة (٠، ٠) والتي تقع على أحد جانبي المستقيم الحدى.

ص  $١٠ \geq ٥ - ٢س$  (المتباينة الأصلية)

نعوض بالنقطة (٠، ٠)  $١٠ \geq (٠) ٥ - (٠) ٢$

(صواب)  $١٠ \geq ٠$

لون المنطقة التي تحتوى على النقطة (٠، ٠)، حيث مجموعة الحل هي نصف المستوى الذى تقع فيه النقطة

(٠، ٠) U مجموعة نقط المستقيم الحدى ل.

### حاول أن تحل

٢ مثل بيانياً مجموعة الحل لكل من المتباينات الآتية

ج  $٢ > ٢ - ٣س$

ب  $٥ > ٥ - ٣س$

أ  $٦ \leq ٢ - ٣س$

## مثال



٤ **تطبيقات حياتية:** تسوق الطعام: افترض أنك قررت عدم صرف أكثر من ٤٨ جنيهًا لشراء الحمص والفاول السوداني اللازم لرحلتك أنت وعائلتك إلى حديقة الحيوان بالجيزة، كم كيلو جرامًا يمكنك شراؤه من كل نوع؟

## الحل

**عرف:** نفرض أن س = عدد الكيلو جرامات التي يمكنك شراؤها من الحمص.

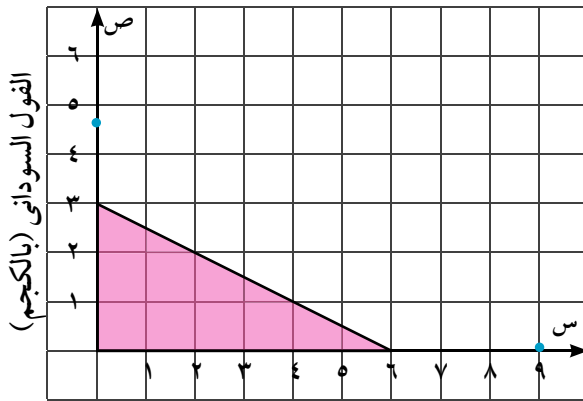
ص = عدد الكيلو جرامات التي يمكنك شراؤها من الفول السوداني.

**اربط:** ثمن شراء الحمص + ثمن شراء الفول السوداني  $\geq$  الحد الأقصى للشراء (انظر إلى الرسم).

**اكتب:** ٨س + ١٦ص  $\geq$  ٤٨

ارسم المستقيم الحدي ٨س + ١٦ص = ٤٨، ويمثل بخط مستقيم متصل (لأن علاقة التباين  $\geq$ ). استخدم الربع الأول فقط من المستوى الإحداثي، حيث إنه لا يمكنك شراء كمية سالبة من المحمصات.

محمصات الرحلة



س	٠	٦	٢
ص	٣	٠	٢

اختبر النقطة (٠، ٠)

$$٤٨ \geq (٠)١٦ + (٠)٨$$

٤٨  $\geq$  (صواب)

لون المنطقة التي تحتوي النقطة (٠، ٠).

يوضح التمثيل البياني كل الحلول الممكنة، على سبيل المثال إذا قمت بشراء ٢ كجم من الحمص، فإنه لا يمكنك شراء أكثر من ٢ كجم من الفول السوداني. والآن هل ٢ كجم حمص، ١ كجم من الفول السوداني حل لهذا المثال؟

## تحقق من فهمك

١ **تفكير ناقد:** عندما نمثل المتباينة  $ص \leq ٢ - ٢س$  بيانيًا، هل ستظل المنطقة فوق أم تحت الخط المستقيم

ص = ٢ - ٢س؟ كيف علمت ذلك؟

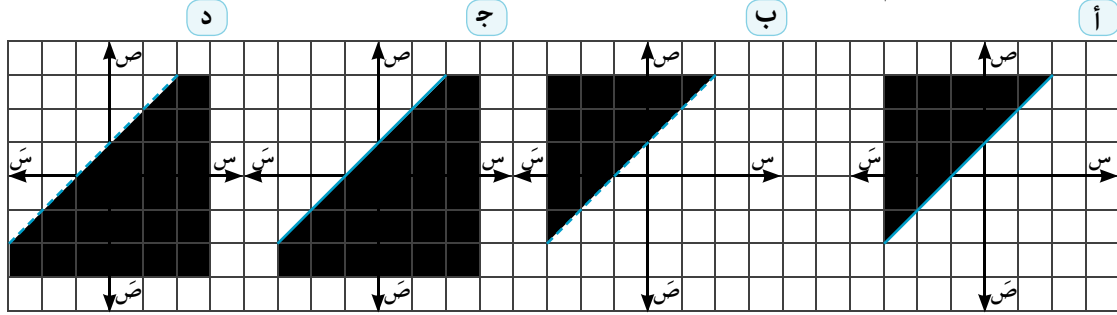
٢ **الربط بالمستهلك:** تبيع مكتبة نوعين من الكشاكيل، النوع الأول سعره ٢٥، ٦ جنيه، والنوع الآخر سعره

٧، ٥ جنيه، فإذا أراد أحمد شراء بعض من هذه الكشاكيل، بحيث لا يدفع أكثر من ٢٥ جنيهًا، فكم عدد الكشاكيل التي يمكنه شراؤها من كل نوع؟



## تمارين (٢ - ١)

١ صل كل متباينة بالرسم البياني الذي يمثل مجموعة حلها (اختبر النقطة (٠، ٠) في كل متباينة).



١-  $ص \geq س + ١$       ٢-  $ص > س + ١$       ٣-  $ص < س + ١$       ٤-  $ص \leq س + ١$

٢ اختبر أيًا من النقط هو حل للمتباينة:

أ  $ص \leq س + ٣$       [ (١، ٠) ، (٩، ٣) ، (٠، ١-) ]

ب  $ص > س + ٣$       [ (١، ٠) ، (٩، ٣) ، (٠، ١-) ]

٣ أوجد مجموعة حل كل من المتباينات التالية:

أ  $ص \geq س + ٢$       ب  $ص < س - ٢$       ج  $س + ٣ \geq ٦$

٤ **الربط بالمستهلک:** افترض أنك تريد شراء ورق زينة؛ لتزين فصلك الدراسي لعمل حفلة لأوائل الطلبة، فإذا كان ثمن اللفة من ورق الزينة ذهبي اللون هو ٥ جنيهاً، وثمان اللفة من ورق الزينة الأزرق اللون هو ٣ جنيهاً، وأنت تريد صرف ٤٨ جنيهاً على الأكثر؛ لشراء ورق الزينة، فكم لفة من كل نوع يمكنك شراؤها؟ فسر إجابتك.

## حل أنظمة من المتباينات الخطية بيانياً

### Solving Systems of Linear Inequalities Graphically

#### عمل تعاوني

اعمل مع زميل لك.

- 1- مثل بيانياً مجموعة حل المتباينة  $s \leq 2$  في مستوى إحداثي متعامد، ولون منطقة الحل باللون الأصفر.
- 2- مثل بيانياً مجموعة حل المتباينة  $s > -1$  في نفس المستوى الإحداثي المتعامد، ثم لون منطقة الحل باللون الأخضر.
- 3- حدد المنطقة التي تداخل فيها اللونين الأصفر والأخضر معاً.
- 4- ماذا تمثل المنطقة التي حددتها في بند (3)؟
- 5- اختر ثلاث نقط مختلفة يمثل كل منها حلاً للمتباينتين معاً. فسر إجابتك.

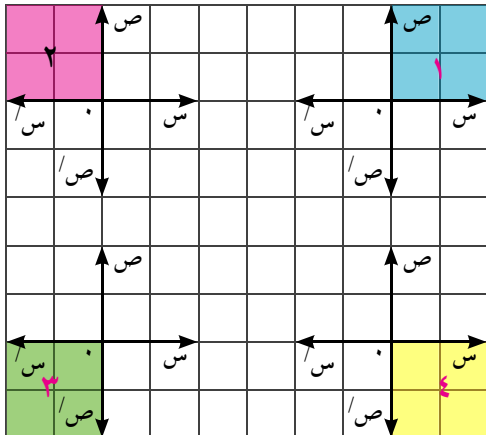
#### تعلم

### نظام المتباينات الخطية

تكون متباينتان خطيتان أو أكثر معاً نظاماً من المتباينات الخطية، ويكون الزوج المرتب (س، ص) حلاً لهذا النظام إذا حقق جميع متبايناته.

#### حاول أن تحل

1 يمكنك وصف كل ربع من أرباع مستوى إحداثي متعامد باستخدام نظام من المتباينات الخطية.



من الشكل المقابل، حدد رقم الربع الذي يمثل مجموعة حل كل نظام مما يأتي

- أ  $s < 0$  ،  $s < 0$
- ب  $s > 0$  ،  $s < 0$
- ج  $s > 0$  ،  $s > 0$
- د  $s > 0$  ،  $s > 0$

## حل نظام من المتباينات الخطية بيانياً

## Solving a system of liner inequalitues graphically


حل نظام المتباينات الخطية يعني إيجاد جميع الأزواج المرتبة التي تحقق متباينات هذا النظام. لتحديد جميع النقاط (الأزواج المرتبة) التي تشكل حلاً للنظام يتم تلوين (تظليل) منطقة حل كل واحدة من المتباينات في مستوى إحداثي واحد، فتكون المنطقة المشتركة بين مناطق حل جميع المتباينات هي منطقة حل هذا النظام

## مثال

١ حل نظام المتباينات الخطية التالي بيانياً:  $ص \leq ٢س + ٦$  ،  $ص + ٣س > ١$

## الحل

**الخطوة (١):** مثل مجموعة حل كل متباينة في النظام بيانياً، ولون منطقة الحل.



(خط متصل)

للمتباينة الأولى:  $ص \leq ٢س + ٦$

نرسم المستقيم الحدي  $ص = ٢س + ٦$

س	٢-	٣-	٠
ص	٢	٠	٦

النقطة  $(٠, ٠)$  لا تحقق المتباينة

∴ مجموعة الحل  $س_١$  هي نصف المستوى الذي لاتقع فيه

نقطة الأصل  $U$

للمتباينة الثانية:  $ص + ٣س > ١$

نرسم المستقيم الحدي  $ص + ٣س = ١$

س	٢-	١-	٠
ص	٥	٢	١-

النقطة  $(٠, ٠)$  لا تحقق المتباينة

∴ مجموعة الحل  $س_٢$  هي نصف المستوى الذي لاتقع فيه نقطة الأصل.

**الخطوة (٢):** حدد المنطقة المشتركة بين مناطق حل متباينات النظام، وهي المنطقة التي تتداخل فيها

الألوان، والتي تمثل منطقة حل النظام، فيكون مجموعة الحل للمتباينتين معاً هي  $س_١ \cap س_٢$

تحقق: لاحظ أن النقطة  $(٢, ٤-)$  تنتمي إلى منطقة حل النظام؛ لذا يمكن استخدامها نقطة اختبار، والتحقق

من صحة الحل بالتعويض عن  $(س, ص)$  بالنقطة  $(٢, ٤-)$  في كلتا المتباينتين:

$$ص + ٣س > ١$$

$$٦ + ٢س \leq ٢$$

$$١ - > (٤-) ٣ + ٢$$

$$٦ + (٤-) ٢ \leq ٢$$

$$١ - > ١٠ -$$

$$٢ - \leq ٢$$

### حاول أن تحل

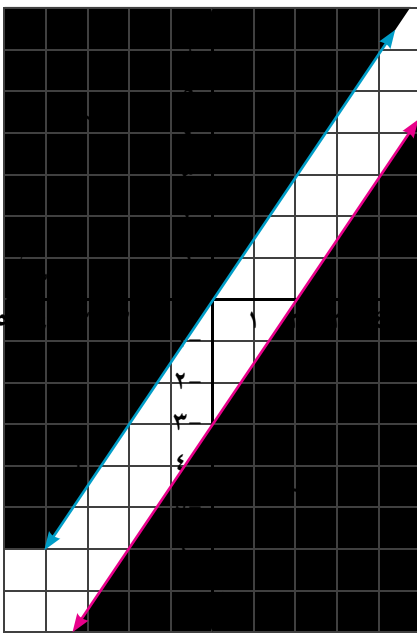
٢ حل النظام الآتي بيانياً:  $3س + 5ص \leq 15$  ،  $ص > س - 1$

### مثال

٢ حل نظام المتباينات الخطية التالي بيانياً:  $ص \leq 6س$   
 $3س + 2ص \geq 6$

### الحل

**الخطوة (١):** مثل مجموعة حل كل متباينة في النظام بيانياً، ولون منطقة الحل.



للمتباينة الأولى:  $ص \leq 6س$

نرسم المستقيم الحدى  $ص = 6س$  (خط متصل)

س	٠	٢	٢-
ص	٠	٣	٣-

النقطة  $(٠, ٠)$  تقع على المستقيم الحدى؛ لذا يختبر باستخدام نقطة أخرى على إحدى جانبي المستقيم الحدى ولتكن  $(٢, ٣-)$

فيكون:  $٤ (٢) \leq ٦ (٣-)$

أي  $١٢- \leq ٨$  (صواب)

فيكون مجموعة الحل  $س_١$ ، و هي نصف المستوى الذي يقع فيه النقطة  $(٢, ٣-)$   $ل \cup ل_١$

للمتباينة الثانية:  $3س + 2ص \geq 6$

نرسم المستقيم الحدى  $3س + 2ص = 6$  (خط متصل)

س	٠	٢	٢-
ص	٣-	٠	٦

النقطة  $(٠, ٠)$  لاتحقق المتباينة

∴ مجموعة الحل  $س_٢$ ، و هي نصف المستوى الذي لاتقع فيه النقطة  $(٠, ٠)$   $ل \cup ل_٢$

**الخطوة (٢):** نحدد المنطقة المشتركة بين مناطق حل متباينات النظام، والتي تمثل منطقة حل النظام. ونلاحظ أن المستقيمين  $ل_١$ ،  $ل_٢$  متوازيان، ولا توجد منطقة مشتركة بين المنطقتين الملونتين كما في الشكل. ∴ مجموعة حل المتباينتين معاً  $\phi$

### حاول أن تحل

٣ أوجد حل نظام المتباينات الخطية التالي بيانياً:  $ص \geq س$   
 $ص \leq س + 1$

مثال

٣ الربط بالحياة يريد مربي حيوانات عمل حظيرة مستطيلة الشكل، يجب أن لا يقل طول الحظيرة عن ٨٠ متراً، وأن لا يزيد محيطها عن ٣١٠ أمتار. فما الأبعاد الممكنة للحظيرة؟

الحل

عرف: س = عرض الحظيرة. ص = طول الحظيرة.

اربط: الطول لا يقل عن ٨٠ متراً. المحيط لا يزيد عن ٣١٠ أمتار

$$ص \leq 80 \quad 2س + 2ص \geq 310$$

لحل نظام المتباينات الخطية:  $ص \leq 80$

$$2س + 2ص \geq 310$$

يمكنك اتباع التالي:

للمتباينة الأولى:

$$ص \leq 80$$

استخدم الميل وطول الجزء المقطوع من محور الصادات لرسم المستقيم الحدي

$$80 = ص$$

(المستقيم الحدي متصل)

س	٢	١	٠
ص	٨٠	٨٠	٨٠

اختبر النقطة (٢٠، ٢٠)

$$80 \leq ص$$

$$20 \leq 80 \text{ (خطأ)}$$

مجموعة الحل  $س_١$  هي نصف المستوى الذي

لاتقع فيه النقطة (٢٠، ٢٠)  $ل \cup (٢٠، ٢٠)$

مجموعة الحل  $س_٢ = س_١ \cap س_٢$  وهي مجموعة النقط في المنطقة المشتركة والموضحة بالرسم.

للمتباينة الثانية:

$$2س + 2ص \geq 310$$

استخدم الأجزاء المقطوعة من محوري الإحداثيات لرسم المستقيم الحدي:

$$310 = 2س + 2ص$$

(المستقيم الحدي متصل)

س	١٥٥	٠
ص	١٤٥	١٥٥

اختبر النقطة (٢٠، ٢٠)

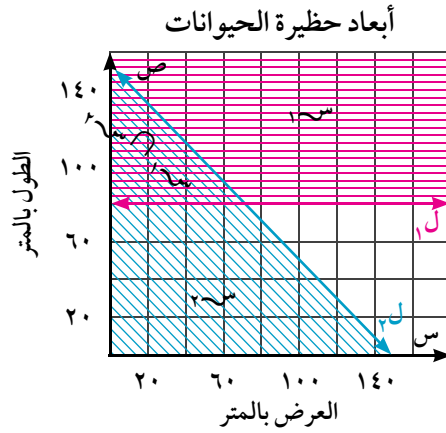
$$310 \geq 2س + 2ص$$

$$310 \geq 2(20) + 2(20)$$

$$310 \geq 80 \text{ (صواب)}$$

مجموعة الحل  $س_٢$  هي نصف المستوى الذي

تقع فيه النقطة (٢٠، ٢٠)  $ل \cup (٢٠، ٢٠)$



حاول أن تحل

من المثال السابق:

٤ أعط ثلاثة أبعاد ممكنة (للطول والعرض) للحظيرة. كم حلاً لهذا النظام؟

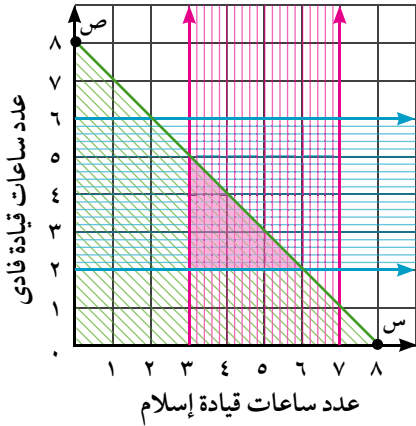
٥ لماذا تم توضيح منطقة الحل في الربع الأول فقط من المستوى الإحداثي؟

٤ **الربط بالحياة** قام إسلام وفادى برحلة لزيارة الآثار الفرعونية بمحافظات الوجه القبلى، فتناوبا قيادة السيارة، فإذا كانت فترات قيادة إسلام للسيارة على نحو متواصل فى اليوم لاتقل عن ٣ ساعات، ولاتزيد عن ٧ ساعات، وكانت فترات قيادة فادى للسيارة على نحو متواصل فى اليوم لاتقل عن ساعتين ولاتزيد عن ٦ ساعات، وكان إجمالى زمن قيادة كليهما يومياً لايزيد عن ٨ ساعات. اكتب نظام متباينات خطية يمثل هذا الموقف، ثم مثل بيانياً منطقة حل هذا النظام.

## الحل

إسلام: عدد ساعات قيادة إسلام للسيارة على نحو متواصل لايقبل عن ٣ ساعات ولايزيد عن ٧ ساعات.

نفرض أن  $s$  هى عدد ساعات قيادة إسلام للسيارة فيكون:  $s \geq 3$  و  $s \leq 7$ .



فادى: عدد ساعات قيادة فادى للسيارة لاتقل عن ساعتين

ولاتزيد عن ٦ ساعات. نفرض أن  $v$  هى عدد ساعات

قيادة فادى للسيارة فيكون:  $v \geq 2$  و  $v \leq 6$

إجمالى زمن قيادة كليهما يومياً لايزيد عن ٨ ساعات فيكون:

$$s + v \geq 8$$

مثل مجموعة حل كل من المتباينات الثلاث بيانياً،

أى زوج مرتب فى منطقة حل النظام يمثل حلاً للنظام؟

من الحلول الممكنة:

ساعتان قيادة لفادى، ٦ ساعات قيادة لإسلام.

٣ ساعات قيادة لفادى، ٥ ساعات قيادة لإسلام.

٢ ساعات قيادة لفادى، ٤ ساعات قيادة لإسلام.

٥ ساعات قيادة لفادى، ٣ ساعات قيادة لإسلام.

## تحقق من فهمك

**الربط بالمهن:** يريد نجار شراء نوعين من المسامير، ولا يريد دفع أكثر من ٤٨ جنيهاً ثمناً للشراء، فإذا كان النجار يحتاج ٣ كيلو جرامات على الأقل من النوع الأول، وكيلو جراماً واحداً على الأقل من النوع الثانى، فما المبلغ الذى سيدفعه النجار ثمناً لكل نوع، إذا علمت أن ثمن الكيلو جرام الواحد من النوع الأول هو ٦ جنيهات، وثمان الكيلو جرام الواحد من النوع الثانى هو ٨ جنيهات؟

أ اكتب نظاماً من المتباينات الخطية يصف هذا الموقف.

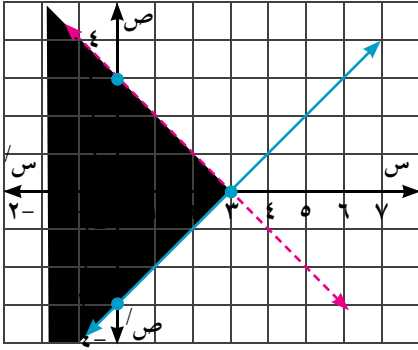
ب مثل بيانياً هذا النظام لتوضيح الحلول الممكنة.

ج سمّ نقطة تكون حلاً لهذا النظام.

د سمّ نقطة لا تكون حلاً لهذا النظام.



## تمارين (٢ - ٢)



١) أى نظام مما يأتي له منطقة الحل الموضحة في

الشكل المقابل:

أ)  $س + ص \geq ٣$       ب)  $س + ص < ٣$

ج)  $س + ص \leq ٣$       د)  $س + ص > ٣$

هـ)  $س - ص \geq ٣$       و)  $س - ص < ٣$

ز)  $س - ص \leq ٣$       ح)  $س - ص > ٣$

٢) حل كل نظام من المتباينات الخطية بيانياً:

أ)  $س \geq ٤$

ب)  $ص - س < ٠$

ج)  $س + ص < ٤$

د)  $س + ص > ٢$

هـ)  $س + ص \geq ١٢$

و)  $س + ص \leq ٢$

ز)  $س + ص \leq ٢$

ح)  $ص > ٢ + ٦$

ط)  $س - ص > ١$

٣) أعطى الأستاذ كريم لتلاميذه زمناً قدره ٦٠ دقيقة لإجابة اختبار في الرياضيات، يجب أن يجيب التلاميذ

عن ٤ أسئلة على الأقل من القسم (أ)، ٣ أسئلة على الأقل من القسم (ب)، بحيث لا تقل عدد الأسئلة المجابة

من القسمين معاً عن ١٠ أسئلة. فإذا استغرقت هناء ٤ دقائق لإجابة كل سؤال في القسم (أ)، ٥ دقائق لإجابة

كل سؤال في القسم (ب). كم سؤالاً في كل قسم حاولت هناء الإجابة عنه؟

### ٤) التفكير الناقد:

أ) اكتب نظاماً من المتباينات الخطية، والتي يكون حلها هو خط مستقيم.

ب) بدون تمثيل بياني، فسر لماذا نقطة تقاطع المستقيمين الحديين في النظام:  $س + ص < ٢$ ،  $س - ص \leq ٣$

ليست حلاً لهذا النظام.

## البرمجة الخطية والحل الأمثل

### Linear programming and Optimization



#### عمل تعاوني

افتراض أنه عرض عليك وظيفة لبعض الوقت، وأنت تفكر ما الوقت الذي يمكنك تخصيصه لهذا العمل. يمكنك استخدام الرياضيات لتساعدك على تنظيم تفكيرك واتخاذ القرار السليم.

اعمل مع زميل لك:

١- أ) اكتب قائمة بالطرق التي تقضي

بها أوقاتك خلال الأسبوع.

ب) نظم قائمتك بحيث لا تزيد عن عشرة طرق.

٢- اعمل تقويمًا شخصيًا للأسبوع الماضي.

أ) حدد وقتًا للطرق التي حددتها في البند رقم (١).

ب) ما الوقت الذي تراه مناسبًا للعمل في وظيفة بعض الوقت؟

ج) ناقش: ما الذي يمكنك الإقلاع عنه أو عدم الإقلاع عنه في جدولك؟

#### تعلم

### Linear Programming

### البرمجة الخطية

يمكنك الإجابة عن أسئلة مثل المطروحة أعلاه باستخدام عملية تسمى البرمجة الخطية Linear programming.

ولحل مسائل البرمجة الخطية فإن أول عمل يجب القيام به هو كتابة البرنامج الخطي للمسألة، ويتكون من:

١- دالة الهدف (وهي ما تهدف إليه المشكلة محل الدراسة لحساب قيمة عظمى أو قيمة صغرى)، وهي دالة خطية تكون على الصورة:

$r = a_s + b_v$  حيث أ، ب عدنان حقيقيان لا يساويان الصفر معًا.

٢- مجموعة القيود التي تفرضها طبيعة المسألة، وهي في صورة متباينات خطية بمتغيرين تمثل الحدود العليا أو الدنيا للعوامل التي تتحكم بمتغيرات المسألة.

٣- القيود التي يفرضها الواقع العلمي للمسألة على المتغيرات عندما لا يمكن أن تأخذ هذه المتغيرات قيمًا سالبة.

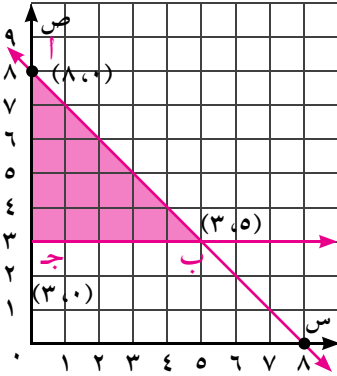


مثال

١ باستخدام البرمجة الخطية أوجد قيمتي  $s$ ،  $v$  التي تجعل قيمة الدالة  $r = 3s + 2v$  قيمة عظمى

ثم قيمة صغرى تحت القيود:  $s \leq 0$  ،  $v \leq 0$  ،  $s + v \geq 8$  ،  $v \leq 3$

الحل



الخطوة (١): ارسم القيود (مثل المتباينات بيانياً)

الخطوة (٢): أوجد إحداثيات رؤوس منطقة الحل.

من الشكل نلاحظ أن رؤوس منطقة الحل هي:

أ  $(8,0)$ ، ب  $(3,5)$ ، ج  $(3,0)$

الخطوة (٣): أوجد قيمة الدالة  $r = 3s + 2v$  عند كل رأس

نكون الجدول التالي:

النقطة	$s$	$v$	$3s + 2v$	قيمة الدالة $r$
أ $(8,0)$	8	0	$3(8) + 2(0) = 24$	١٦
ب $(3,5)$	3	5	$3(3) + 2(5) = 19$	٢١
ج $(3,0)$	3	0	$3(3) + 2(0) = 9$	٦

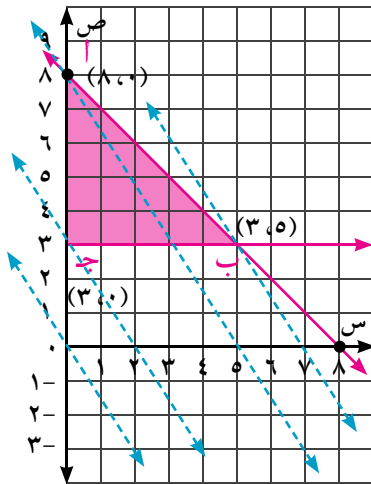
قيمة عظمى  $\rightarrow$

قيمة صغرى  $\rightarrow$

القيمة العظمى للدالة تساوي ٢١ وتكون عند النقطة  $(3,5)$ ، والقيمة الصغرى للدالة تساوي ٦ وتكون عند النقطة  $(3,0)$

فكر: لماذا نتحقق القيمة العظمى أو الصغرى لدالة الهدف عند أحد رؤوس منطقة الحل؟

لتعرف إجابة هذا التساؤل:



١- نضع  $r = 0$  في دالة الهدف  $r = 3s + 2v$  فنجد أن  $3s + 2v = 0$  تمثل مستقيماً يمر بنقطة الأصل، والنقطة  $(2, -3)$ .

٢- إذا رسمت عدة مستقيمات تقطع منطقة الحل وموازية لهذا المستقيم المار بنقطة الأصل فإن:

أول هذه المستقيمات يمر بالنقطة ج  $(3,0)$

وتكون معادلته  $3s + 2v = 6$  أي  $r = 6$

٣- قيمة  $r$  عند جميع النقط التي تنتمي إلى المستقيم الثاني المار بالنقطة أ  $(8,0)$  تساوي ٢٤، وتستمر  $r$  في التزايد حتى نصل إلى

آخر خط يقطع منطقة حل النظام والمار بالنقطة ب  $(3,5)$ ، فنجد أن  $r = 3(3) + 2(5) = 19$

لذلك فإن القيمة الصغرى لدالة الهدف  $r = 6$  عند النقطة  $(3,0)$  وهي أحد رؤوس منطقة الحل، وكذلك القيمة

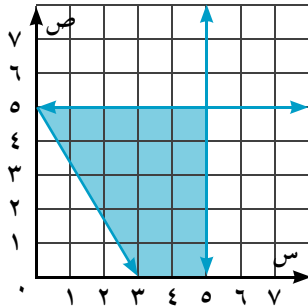
العظمى لدالة الهدف  $r = 19$  عند النقطة  $(3,5)$  وهي أحد رؤوس منطقة الحل أيضاً.

مما سبق نستنتج أن: القيمة العظمى والقيمة الصغرى إن وجدتا لدالة الهدف، فإنهما تتحققان عند رؤوس

المضلع الذي يحيط منطقة الحلول الممكنة للمتباينات التي تشكل مجموعة قيود المسألة أو عند نقط إلتقاء المستقيمات التي تحد منطقة الحلول الممكنة.

## حاول أن تحل

١ باستخدام البرمجة الخطية أوجد كلاً من القيمة الصغرى والقيمة الكبرى للدالة  $r = s + v$  تحت القيود:



$$s \leq 0, \quad v \leq 0, \quad v \leq 2 - s, \quad v \leq 8 + s$$

٢ من الشكل المقابل: أوجد قيمتي  $s, v$

التي تجعل قيمة الدالة  $r = 2s + 5v$  قيمة صغرى.

تعلم

## تطبيقات حياتية على البرمجة الخطية

### Real life applications of linear programming

البرمجة الخطية طريقة رياضية تمكننا من الوصول إلى أفضل قرار لحل مشكلة حياتية أو الوصول إلى الحل الأمثل Optimization: لتحقيق هدف معين مثل تحقيق أقل تكلفة أو أعلى ربح لمشروع معين، مع الالتزام بشروط وقيود آليات الإنتاج والسوق أو المشكلة محل الدراسة، ويمكن تحقيق ذلك من خلال:

- ١- تحليل الموقف أو المشكلة لتحديد المتغيرات، والتعرف على القيود ووضعها في صورة نظام من المتباينات الخطية.
- ٢- كتابة دالة الهدف المراد تحقيقه في المشكلة موضع الدراسة (وهي دالة خطية).
- ٣- تمثيل نظام المتباينات الخطية بيانياً.
- ٤- تحديد رؤوس منطقة الحل.
- ٥- نعوض بإحداثيات الرؤوس في دالة الهدف، ثم نختبر القيمة العظمى أو القيمة الصغرى تبعاً للمطلوب في المسألة.

مثال



٢ إدارة الأعمال يبيع أحد محال المأكولات البحرية نوعين من

الأسماك المطهية أ، ب، ولا تقل الطلبات من صاحب المحل عن ٥٠ سمكة، كما أنه لا يستخدم أكثر من ٣٠ سمكة من النوع (أ)، أو أكثر

من ٣٥ سمكة من النوع (ب)، فإذا علمت أن ثمن شراء السمكة من النوع (أ) هو ٤ جنيهات، ومن النوع (ب) هو ٣ جنيهات، كم سمكة من كل من النوعين أ، ب يجب استخدامها لتحقيق أقل ثمن ممكن للشراء؟

الحل

١- نفرض أن: عدد الأسماك من النوع (أ) هو  $s$ ، عدد الأسماك من النوع (ب) هو  $v$

النوع الأول	النوع الثاني	الحد الأقصى
$s$	$v$	٥٠
٤	٣	$4s + 3v$

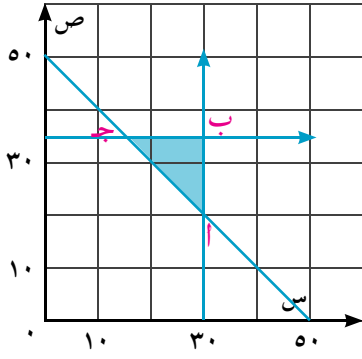
(سوف يشتري أسماكاً من النوع أ)  $0 \leq s$

(سوف يشتري أسماكاً من النوع ب)  $0 \leq v$

(هو يحتاج ٥٠ سمكة على الأقل)  $50 \leq 4s + 3v$

(لا يمكنه استخدام أكثر من ٣٠ سمكة من النوع أ)  $30 \geq s$

(لا يمكنه استخدام أكثر من ٣٥ سمكة من النوع ب)  $35 \geq v$



٢- نكتب دالة الهدف وهي: ثمن الشراء أقل ما يمكن:  $س = ٤س + ٣ص$

٣- نمثل نظام المتباينات بيانياً كما هو موضح بالشكل المقابل.

٤- نحدد رؤوس منطقة الحل وهي:

أ (٢٠، ٣٠)، ب (٣٥، ٣٠)، ج (٣٥، ١٥).

٥- نعوض بإحداثيات الرؤوس في دالة الهدف لتحديد أقل ثمن ممكن للشراء، كما هو موضح بالجدول التالي:

النقطة	س	ص	قيمة الدالة $س$
أ (٢٠، ٣٠)	٢٠	٣٠	١٨٠
ب (٣٥، ٣٠)	٣٥	٣٠	٢٢٥
ج (٣٥، ١٥)	٣٥	١٥	١٦٥

→ أقل قيمة ممكنة لثمن الشراء

يجب على صاحب محل الأسماك شراء ١٥ سمكة من النوع (أ)، ٣٥ سمكة من النوع (ب) ليكون ثمن الشراء أقل ما يمكن.

### حاول أن تحل

٢ الربط بالصناعة: ينتج مصنع صغير للأثاث المعدني ٢٠ دولاراً أسبوعياً على الأكثر من نوعين مختلفين أ، ب، فإذا كان ربحه من النوع (أ) هو ٨٠ جنيهاً وربحه من النوع (ب) هو ١٠٠ جنية، وكان ما يباع من النوع الأول لا يقل عن ثلاثة أمثال ما يباع من النوع الثاني. أوجد عدد الدواليب من كل نوع ليحقق المصنع أكبر ربح ممكن.

### مثال



٣ الربط بالصحة: ينتج مصنع لأغذية الأطفال نوعين من الأغذية ذات

مواصفات خاصة، فإذا كان النوع الأول يحتوي على وحدتين من فيتامين (أ)،

٣ وحدات من فيتامين (ب) والنوع الثاني يحتوي على ٣ وحدات من فيتامين

(أ)، ووحدين من فيتامين (ب)، وإذا كان الطفل يحتاج في غذائه على الأقل ١٢٠ وحدة من فيتامين (أ)،

١٠٠ وحدة من فيتامين (ب) وكانت تكلفة النوع (أ) ٥ جنيهاً، وتكلفة النوع (ب) ٤ جنيهاً، فما الكمية

الواجب شراؤها من كل من النوعين لتحقيق ما يحتاجه الطفل في غذائه بأقل تكلفة ممكنة؟

### الحل

١- نفرض أن: عدد السلع من النوع الأول  $س$

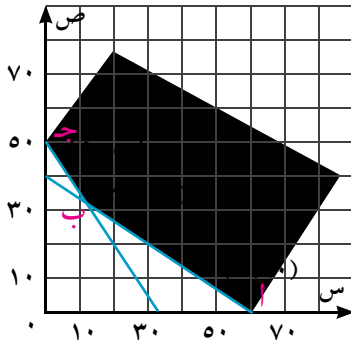
وعدد السلع من النوع الثاني  $ص$  ويكون:

$$س \leq ٠, \quad ص \leq ٠$$

$$٢س + ٣ص \leq ١٢٠$$

$$٣س + ٢ص \leq ١٠٠$$

الحد الأدنى من الوحدات	عدد السلع من النوع الثاني	عدد السلع من النوع الأول	الصف
١٢٠	٣ ص	٢ س	فيتامين أ
١٠٠	٢ ص	٣ س	فيتامين ب
	٤ جنيهاً	٥ جنيهاً	التكاليف



٢- دالة الهدف هي التكلفة أقل ما يمكن:  $س = ٥س + ٤ص$

٣- تمثل نظام المتباينات الخطية كما هو موضح بالشكل المقابل.

٤- رؤوس منطقة الحل هي:

أ (٠، ٦٠)، ب (٣٢، ١٢)، ج (٥٠، ٠).

نوع	النقطة	س	ص	قيمة الدالة $س$
٥- نعوض بإحداثيات الرؤوس في دالة الهدف لتحديد أقل تكلفة ممكنة:	أ (٠، ٦٠)	٦٠	٠	٣٠٠
	ب (٣٢، ١٢)	١٢	٣٢	١٨٨
	ج (٥٠، ٠)	٠	٥٠	٢٠٠

أقل تكلفة ممكنة →

تكون التكلفة أقل ما يمكن عند ب، عدد الأغذية من النوع الأول هو ١٢ وعدد الأغذية من النوع الثاني هو ٣٢

### مثال

٤) **الربط بالمستهلك:** ينتج مصنع نوعين من المكاتب الصاج وكل نوع يقوم بتجميعه أحد العمال ثم يقوم عامل آخر بالدهان. يستغرق العامل الأول ساعتين لتجميع الوحدة من النوع الأول، و٣ ساعات لتجميع الوحدة من النوع الثاني، بينما يستغرق العامل الثاني ساعة ونصف الساعة لدهان الوحدة من النوع الأول وساعتين لدهان الوحدة من النوع الثاني، فإذا كان العامل الأول يعمل ٦ ساعات يومياً على الأقل، بينما يعمل العامل الثاني ٦ ساعات يومياً على الأكثر، وكان ربح المصنع هو ٥٠ جنيهاً في كل وحدة من كل من النوعين، فما عدد الوحدات التي يجب أن ينتجها المصنع يومياً من كلا النوعين ليحقق أكبر ربح ممكن؟

### الحل

عدد الوحدات	ساعات التجميع	ساعات الدهان	الربح بالجنيه
النوع الأول س	٢	$١\frac{1}{2}$	٥٠
النوع الثاني ص	٣	٢	٥٠

نفرض أن عدد الوحدات من النوع الأول س

وعدد الوحدات من النوع الثاني ص

فيكون  $س \geq ٠$ ،  $ص \geq ٠$ .

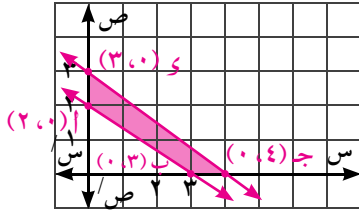
$$٢س + ٣ص \leq ٦$$

$$\frac{1}{3}س + ٢ص \geq ٦ \quad \text{أى} \quad ٣س + ٤ص \geq ١٢$$

دالة الهدف: الربح أكبر ما يمكن  $س = ٥٠س + ٥٠ص$

النقطة	س	ص	قيمة الدالة $س$
أ (٢,٠)	٠	٢	١٠٠
ب (٠,٣)	٣	٠	١٥٠
ج (٠,٤)	٤	٠	٢٠٠
د (٣,٠)	٠	٣	١٥٠

→ أكبر ربح ممكن



∴ أكبر ربح ممكن = ٢٠٠ جنيه عند النقطة (٠,٤)

### حاول أن تحل

٤ **الربط بالمستهلك:** سلعتان غذائيتان تعطى الأولى ٣ سعرات حرارية وبها ٥ وحدات من فيتامين سي والثانية تعطى ٦ سعرات حرارية ولها وحدتان من فيتامين سي. فإذا كان المطلوب هو ٣٦ سعرًا حراريًا على الأقل، ٢٥ وحدة من فيتامين سي على الأقل، وبفرض أن سعر الوحدة من السلعة الأولى ٦ جنيهات ومن الثانية ٨ جنيهات، فما الكمية الواجب شراؤها من كل من السلعتين لتحقيق المطلوب بأقل تكلفة ممكنة؟

### تحقق من فهمك

**الربط بالزراعة:** وجد مزارع أنه يمكن تحسين نوعية مزرعته إذا استخدم على الأقل ١٦ وحدة من النترات، ٩ وحدات من الفوسفات في عملية التسميد للقيراط الواحد. يوجد في الأسواق نوعان من السماد أ، ب موضحة محتوياتها وتكلفة كل منها في الجدول التالي:

التكلفة لكل كيلو جرام	عدد الوحدات لكل كيلو جرام		السماد
	الفوسفات	النترات	
١٧٠ قرشًا	١	٤	أ
١٥٠ قرشًا	٣	٢	ب

أوجد أقل تكلفة من مزيج السمادين أ، ب تمكّن المزارع من توفير العدد الكافي من وحدات النترات والفوسفات لتحسين نوعية مزرعته.

## نشاط

إذا كان المستقيم الذي يمثل دالة الهدف يوازي أحد أضلاع منطقة الحل، هل تتغير قيمة دالة الهدف عند أي نقطة على هذا الضلع؟  
تتبع المثال الآتي ثم أجب عن السؤال المطروح

## مثال

٥ أوجد أقصى قيمة ممكنة للدالة  $س = ٣س + ٦ص$  تحت القيود التالية:

$$س \leq ٥, \quad ص \leq ٥, \quad س + ص \geq ٥, \quad ٢س + ص \geq ٦, \quad س + ٢ص \geq ٨$$

## الحل

نرسم  $ل_١: س = ٥$  ،  $ل_٢: ص = ٥$

س	٥	٥
ص	٥	٥

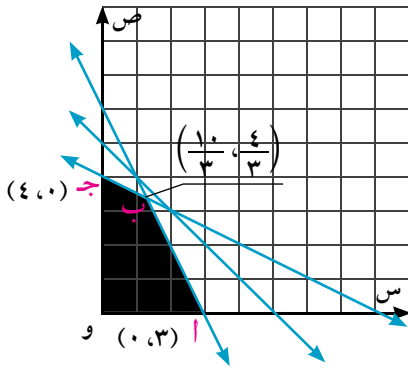
$$ل_٣: س + ص = ٥$$

س	٣	٥
ص	٦	٥

$$ل_٤: ٢س + ص = ٦$$

س	٨	٥
ص	٤	٥

$$ل_٥: س + ٢ص = ٨$$



المنطقة الملونة بالشكل هي و أ ب ج تمثل مجموعة حل النظام حيث: ب  $(\frac{4}{3}, \frac{10}{3})$  لماذا؟

النقطة	س	ص	$٣س + ٦ص$ قيمة الدالة $س$
أ	٣	٥	$٥ + ٣ \times ٣ = ١٤$
ب	$\frac{4}{3}$	$\frac{10}{3}$	$\frac{10}{3} \times ٦ + \frac{4}{3} \times ٣ = ٢٤$
ج	٥	٤	$٤ \times ٦ + ٥ \times ٣ = ٢٤$

**لاحظ أن:** القيمة العظمى لدالة الهدف  $= ٢٤$  تحققت عند النقطتين ب، ج

١- هل المستقيم ب ج يوازي المستقيم الذي يمثل دالة الهدف؟ فسّر إجابتك.

٢- أوجد قيمة دالة الهدف عند منتصف ب ج، ماذا تلاحظ؟

٣- هل العبارة التالية صحيحة؟ فسّر إجابتك.

«إذا وقعت القيمة العظمى (أو الصغرى) عند نقطتين في منطقة حل النظام فهي تقع عند جميع نقاط القطعة المستقيمة الواصلة بينهما.»

## تمارين (٢ - ٣)

١ اختر الإجابة الصحيحة من بين الإجابات المعطاة:

أ النقطة التي تنتمي إلى مجموعة حل المتباينات:  $س < ٢$  ،  $ص < ١$  ،  $س + ص \leq ٣$  هي:

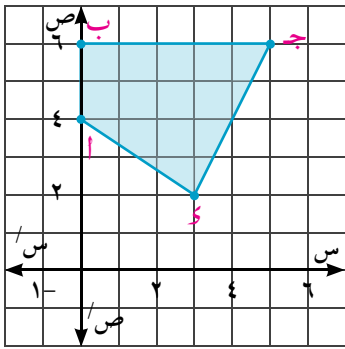
$$(١, ٣) ، (٢, ١) ، (٢, ٣) ، (٣, ١)$$

ب النقطة التي تكون عندها للدالة  $س = ٤٠ + ص$  قيمة عظمى هي:

$$(٠, ٠) ، (٤, ٠) ، (١٠, ١٥) ، (٠, ٢٥)$$

ج النقطة التي تكون عندها للدالة  $م = ٣٥س + ١٠ص$  قيمة صغرى هي:

$$(٠, ٠) ، (١٠, ٠) ، (٤٠, ٠) ، (١٠, ٢٠)$$



٢ باستخدام الرسم البياني المقابل، أوجد قيمتي  $س$ ،  $ص$  التي تجعل قيمة

دالة الهدف  $س = ٣ + ٢ص$  قيمة صغرى، ثم أوجد هذه القيمة.

٣ مثل كلاً من الأنظمة التالية بياناً، ثم أوجد القيمة العظمى أو القيمة

الصغرى لدالة الهدف تبعاً لما هو معطى.

ب  $٢س + ٣ص \geq ٦$

$١ \leq س$

$٢ \leq ص$

قيمة عظمى لدالة الهدف  $س = ٢ + ٣ص$

أ  $س + ٥ص \geq ٥$

$١ \leq ص$

$٢ \leq س$

قيمة صغرى لدالة الهدف  $س = ٢ + ٣ص$

٤ **الربط بالصناعة:** افترض أنك تُصنع وتبيع مربطاً للجلد، وإذا كان تصنيع عبوة المرطب العادي يستلزم

$٢سم^٣$  من الزيت،  $١سم^٣$  من زبدة الكاكاو، وكان تصنيع عبوة المرطب من النوع الممتاز يستلزم  $١سم^٣$

من الزيت،  $٢سم^٣$  من زبدة الكاكاو، سوف يكون ربحك هو ١٠ جنيهات لكل عبوة من النوع العادي، ٨

جنيهات لكل عبوة من النوع الممتاز. فإذا كان لديك ٢٤ سم<sup>٣</sup> من الزيت، ١٨ سم<sup>٣</sup> من زبدة الكاكاو، فما

عدد العبوات التي يمكنك تصنيعها من كل نوع؛ حتى تحصل على أكبر ربح ممكن، وما هذا الربح؟

٥ **الربط بالمهون:** لدى أحد الخياطين ١٠ أمتار من قماش الكتان، ٦ أمتار من قماش قطنى، ويريد الخياط

تفصيل نوعين من الملابس من المواد المتوافرة لديه، النوع الأول من الملابس يحتاج إلى متر واحد من

الكتان، ومتر واحد من القطن، ويحقق ربحاً قدره ٣ جنيهات، بينما يحتاج النوع الثانى إلى ٢ متر من

الكتان ومتر واحد من القطن، ويحقق ربحاً قدره ٤ جنيهات. ما الكمية التي يجب عليه تفصيلها من كل

نوع حتى يحقق الخياط أكبر ربح ممكن؟

٦ **الربط بالموسيقى:** ينتج أحد مصانع الآلات الموسيقية نوعين من آلات النفخ، يحتاج تصنيع النوع الأول إلى ٢٥ وحدة من النحاس، ٤ وحدات من النيكل، ويحتاج تصنيع النوع الثاني ١٥ وحدة من النحاس، ٨ وحدات من النيكل، فإذا كانت الكمية المتاحة في المصنع في أحد الأيام ٩٥ وحدة من النحاس، ٣٢ وحدة من النيكل، وكان ربح المصنع في الآلة من النوع الأول هو ٦٠ جنيهاً وربه في الآلة من النوع الثاني ٤٨ جنيهاً، فما عدد الآلات التي يجب أن ينتجها المصنع من كل نوع حتى يحقق أكبر ربح ممكن؟

٧ **الربط بالسياحة:** أقامت إحدى شركات السياحة جسراً جويّاً لنقل السائحين. ذلك لنقل ١٦٠٠ سائح، ٩٠ طنّاً من الأمتعة بأقل تكلفة، وكان المتاح نوعين من الطائرات أ، ب وكان عدد الطائرات المتاحة من النوع أ، ١٢ طائرة، وعدد الطائرات المتاحة من النوع ب ٩ طائرات، وكانت الحمولة كاملة للطائرة من النوع أ ٢٠٠ شخص، ٦ أطنان من الأمتعة، والحمولة الكاملة للطائرة من النوع ب ١٠٠ شخص، ١٥ طنّاً من الأمتعة، وكان إيجار الطائرة من النوع أ هو ٣٢٠٠٠٠ جنيهاً، ومن النوع ب هو ١٥٠٠٠٠ جنيهاً، فكم طائرة من كل نوع يمكن للشركة استئجارها؟

### تمارين عامة

لمزيد من التمارين قم بزيارة موقع وزارة التربية والتعليم.



# ملخص الوحدة

## Linear Inequality in two unknowns

### المتباينة الخطية في مجهولين

المتباينة من الدرجة الأولى في مجهولين تشبه المعادلة الخطية من الدرجة الأولى في مجهولين، والفرق بينهما هو وضع رمز المتباينة بدلاً من وضع رمز التساوي، فمثلاً:  $ص < ٥س + ١$  هي متباينة خطية في مجهولين س، ص،  $ص = ٥س + ١$  هي معادلة خطية مرتبطة بها.

وتصف المتباينة الخطية منطقة من المستوى الإحداثي، ولتمثيل حل المتباينة الخطية، نرسم أولاً المستقيم الحدى ويرسم منقطعاً إذا كان لا يحقق المتباينة (إذا احتوت المتباينة الرمز  $<$  أو  $>$ )، ويرسم متصلًا إذا كان يحقق المتباينة (إذا احتوت المتباينة الرمز  $\leq$  أو  $\geq$ )، ثم نختبر نقطة لتظليل المنطقة التي تجعل المتباينة صحيحة.

## Solving a system of Linear inequalities

### حل نظام من المتباينات الخطية

تُكوّن متباينتان خطيتان أو أكثر نظامًا من المتباينات الخطية، ولإيجاد حل نظام من المتباينات الخطية، نرسم كل متباينة، ومنطقة الحل هي التي تكون فيها جميع المتباينات صحيحة.

## Linear programming

### البرمجة الخطية

البرمجة الخطية طريقة رياضية تمكننا من الوصول إلى أفضل قرار لحل مشكلة حياتية أو الوصول إلى الحل الأمثل لتحقيق هدف معين، مثل تحقيق أقل تكلفة أو أعلى ربح لمشروع معين مع الالتزام بشروط وقيود آليات الإنتاج والسوق أو المشكلة محل الدراسة، ويمكن تحقيق ذلك من خلال:

- ١- تحليل الموقف أو المشكلة للتعرف على القيود ووضعها في صورة نظام متباينات خطية.
- ٢- تحديد دالة الهدف في صورة خطية (أ س + ب ص).
- ٣- تحديد فضاء حل المشكلة.
- ٤- البحث عن القيمة أو القيم من فضاء الحل التي تحقق دالة الهدف.

### معلومات إثرائية

قم بزيارة المواقع الآتية:



# الوحدة

# ٣

## الهندسة التحليلية

# المتجهات

## Vectors

### أهداف الوحدة

- في نهاية الوحدة من المتوقع أن يكون الطالب قادرًا على:
- يتعرف الكمية القياسية والكمية المتجهة والقطعة المستقيمة الموجبة، ويعبر عنها بدلالة طرفيها في مستوى الإحداثيات.
  - يتعرف متجه الموضع ويضعه في الصورة القطبية.
  - يوجد معيار المتجه، والمتجه الصفري.
  - يتعرف ويحل تمارين على تكافؤ متجهين.
  - يتعرف متجه الوحدة ويعبر عن المتجه بدلالة متجهي الوحدة الأساسيين.
  - يتعرف توازي متجهين وتعامد متجهين.
  - يضرب متجه في عدد حقيقي.
  - يجمع متجهين باستخدام قاعدة المثلث (الإحداثيات - طريقة متوازي الأضلاع) - يطرح متجهين.
  - يثبت بعض النظريات الهندسية باستخدام المتجهات.
  - يحل تطبيقات في الهندسة المستوية على المتجهات.

### المصطلحات الأساسية

Parallelogram Rule	قاعدة متوازي الأضلاع	Orderd Pair	زوج مرتب	Scalar Quantity	كمية قياسية
Subtracting Vectors	طرح المتجهات	Absolute value	قيمة مطلقة	Vector Quantity	(كمية متجهة)
Resultant Force	قوة محصلة (محصلة القوى)	Norm	معيار متجه	Vector	متجه
Relative Velocity	سرعة نسبية	Equivalent Vector	متجه مكافئ	Distance	مسافة
		Adding vectors	جمع المتجهات	Displacement	إزاحة
		The triangle Rule	قاعدة المثلث	Position Vector	متجه موضع

## دروس الوحدة

الدرس (٣ - ١): الكميات القياسية، والكميات المتجهة،  
والقطعة المستقيمة الموجهة.

الدرس (٣ - ٢): المتجهات .

الدرس (٣ - ٣): العمليات على المتجهات .

الدرس (٣ - ٤): تطبيقات على المتجهات.

## الأدوات المستخدمة

حاسب آلي - جهاز عرض بيانات - برامج رسومية - ورق  
مربعات - أدوات هندسية للرسم والقياس - خيوط - أنقال -  
دبايس رسم.

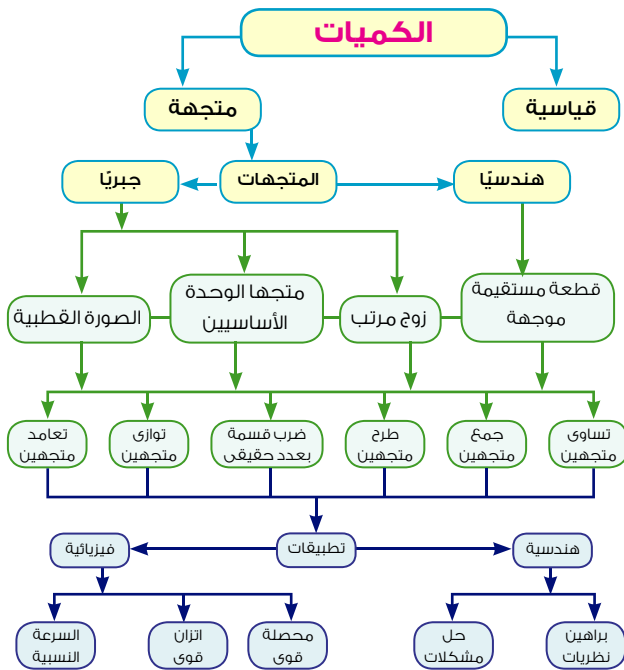


## نبذة تاريخية

وضع العرب اللبنة الأولى للهندسة التحليلية، فقد استخدموا الجبر في حل بعض المشكلات الهندسية، كما استخدموا الهندسة في حل المعادلات الجبرية فقدم ثابت بن قرة (٨٣٥ - ٩٠٠م) حلولاً هندسية لبعض المعادلات كما ربط الكندي في مؤلفاته بين الجبر والهندسة.

ومع بداية القرن السابع عشر ساهم كل من فيرمات Fermat (١٦٠١ - ١٦٦٥م)، ورينييه ديكارت Rene Descartes (١٥٩٦ - ١٦٥٠م) في تبسيط الطرق الجبرية لحل المشكلات الهندسية استناداً إلى أن الهندسة المستوية لها بعدان، فعبيراً عن كل شيء في أي شكل هندسي بدلالة طولين متغيرين رمزا لهما بالرمزين  $s$ ،  $v$  بالإضافة إلى بعض الكميات الثابتة التي يتيحها الشكل، مما ألبس الهندسة ثوباً جديداً عرف بالهندسة التحليلية (الإحداثية) والتي وظفت لاستنباط النظريات والحقائق وبرهنة صحتها بإسلوب جبري، كما كانت من العوامل المساعدة على ظهور علمي التفاضل والتكامل بواسطة نيوتن Newton (١٦٤٢ - ١٧٢٧م) وليبنيز Leibniz (١٦٤٦ - ١٧١٦م)، وابتكار جيس Gibbs (١٨٣٩ - ١٩٠٣م) لتحليل المتجهات في ثلاثة أبعاد.

## مخطط تنظيهم للوحدة



# الكميات القياسية والكميات المتجهة، والقطعة المستقيمة الموجهة

## Scalars, Vectors and Directed Line Segment

### مقدمة

هناك كميات لا يحتاج وصفها إلا إلى معرفة العدد الذي يعبر عن قيمتها مثل الطول والمساحة والحجم والكتلة والكثافة وعدد السكان ..... غير أنه توجد كميات أخرى لا يكفي لوصفها مجرد ذكر العدد الذي يدل على قيمتها، فمعرفة سرعة الرياح ليس كافياً لحركة الطيران بل يجب تحديد اتجاه الرياح أيضاً. فحركة الرياح إذاً تقاس مقداراً واتجاهاً، والقوة المؤثرة على جسم يختلف تأثيرها عليه ليس بمقدارها فحسب، بل باتجاهها أيضاً. وهكذا نجد أننا أمام نوعين من الكميات.

### Scalar quantities

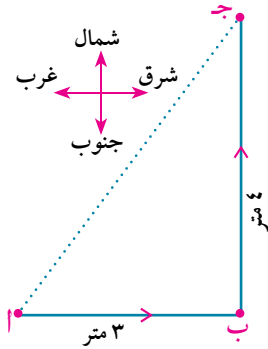
هي كميات تتحدد تماماً بمعرفة مقدارها فقط مثل الطول والمساحة ...

### الكميات القياسية

### Vector quantities

هي كميات تتحدد تماماً بمعرفة مقدارها واتجاهها مثل السرعة والقوة ...

### الكميات المتجهة



إذا تحرك جسم من النقطة أ مسافة 3 أمتار شرقاً ثم غير اتجاهه وسار 4 أمتار شمالاً وتوقف عند النقطة جـ.

كم المسافة التي قطعها الجسم أثناء حركته؟

كم يكون بعد الجسم عن النقطة أ وهي النقطة التي بدأ منها الحركة؟

### لاحظ أن

المسافة Distance هي كمية قياسية وهي ناتج  $أ ب + ب ج$  أو  $ج ب + ب أ$ .

الإزاحة Displacement هي المسافة بين نقطتي البداية والنهاية فقط وفي اتجاه واحد من أ إلى ج، أي أن لوصف الإزاحة يلزم تحديد مقدارها  $أ ج$  واتجاهها من أ إلى ج.

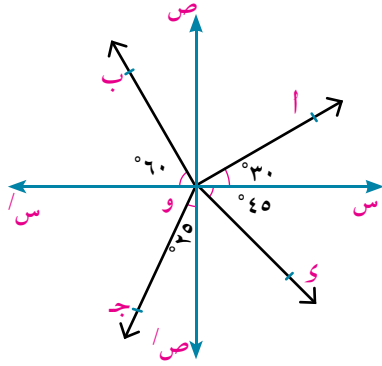
فالإزاحة إذاً كمية متجهة وهي المسافة المقطوعة في اتجاه معين.

### حاول أن تحل



١ في الشكل المقابل: احسب المسافة والإزاحة الحادثة عندما يتحرك جسم من النقطة أ إلى النقطة ج ثم يعود إلى النقطة ب.

### Direction



### الاتجاه

١- كل شعاع في المستوى يعين اتجاهًا، ففي الشكل المقابل:

وس يحدد اتجاه الشرق، و س/ يحدد اتجاه الغرب،

وص يحدد اتجاه الشمال، و ص/ يحدد اتجاه الجنوب.

ما الاتجاهات التي يحددها كل من:

أ، ب، ج، د، هـ، ز؟

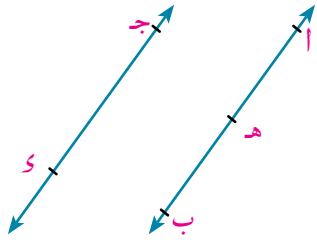
٢- إذا كان  $\vec{AB} // \vec{CD}$ ، هـ  $\vec{AB} \Rightarrow$  فإن:

أ، ب هـ لهما نفس الاتجاه ويحملهما مستقيم واحد.

أ، ج هـ لهما نفس الاتجاه ويحملهما مستقيمان متوازيان.

أ، هـ ب في اتجاهين متضادين ويحملهما مستقيم واحد.

أ، د ج في اتجاهين متضادين ويحملهما مستقيمان متوازيان.

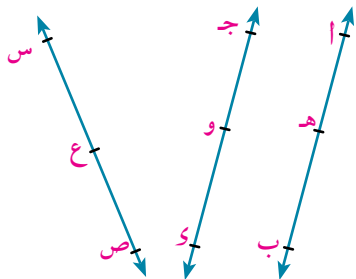


### وبصفة عامة فإن:

الشعاعان المتحدان في الاتجاه أو المتضادان في الاتجاه يحملهما مستقيم واحد أو مستقيمان متوازيان، والعكس صحيح.

الشعاعان المختلفان في الاتجاه لا يمكن أن يحملهما مستقيم واحد أو مستقيمان متوازيان.

### حاول أن تحل



٢ في الشكل المقابل: أ، ب، ج متوازيان وكل منهما لا يوازي س ص،

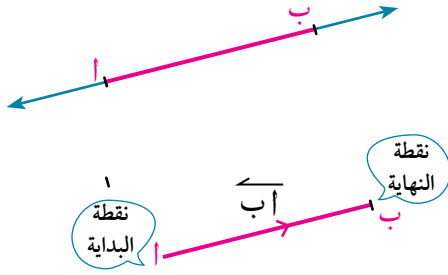
هـ  $\exists$  أ، ب، و  $\exists$  ج، د  $\exists$  ع  $\exists$  س ص.

بين ما إذا كان الشعاعان في كل مما يأتي متحدين في الاتجاه أو متضادين في الاتجاه أو مختلفي الاتجاه.

أ أ، ب، د و ب أ، ب، س ص ج ج، د، هـ ب

د ع، ص، ع س هـ ج، د، ع س و ع، س، ع ص

## The Directed Line Segment



## القطعة المستقيمة الموجهة

النقطتان أ، ب هما طرفا  $\overrightarrow{AB}$  أو  $\overrightarrow{BA}$  إذا حددنا إحدى هاتين النقطتين لتكون نقطة بداية للقطعة، والأخرى لتكون نقطة نهاية لها، فإنه يترتب على ذلك أن يصبح للقطعة المستقيمة اتجاه هو اتجاه الشعاع الذي يحمل هذه القطعة وتكون نقطة بدايته هي نفس نقطة البداية للقطعة. فإذا حددنا النقطة أ لتكون نقطة بداية  $\overrightarrow{AB}$  والنقطة ب هي نهايتها، فإننا نصف هذه القطعة بأنها قطعة مستقيمة موجهة من أ إلى ب ويرمز لها بالرمز  $\overrightarrow{AB}$ .



هل  $\overrightarrow{AB} \equiv \overrightarrow{BA}$ ؟ هل  $\overrightarrow{AB} \equiv \overrightarrow{BA}$ ؟ فسر إجابتك.

هل  $\overrightarrow{AB}$ ،  $\overrightarrow{BA}$  مختلفان أم متضادان في الاتجاه؟ ولماذا؟

**تعريف ١** القطعة المستقيمة الموجهة: هي قطعة مستقيمة لها نقطة بداية، و نقطة نهاية، واتجاه.



**حاول أن تحل**

٣ أ، ب، ج ثلاث نقط في المستوى. اكتب كل القطع المستقيمة الموجهة التي تعينها هذه النقط.

**تعريف ٢** معيار القطعة المستقيمة الموجهة: معيار  $\overrightarrow{AB}$  هو طول  $\overrightarrow{AB}$  ويرمز له بالرمز  $||\overrightarrow{AB}||$ .

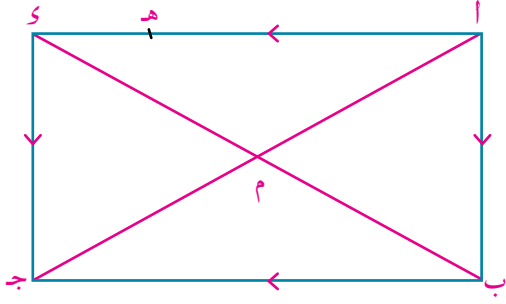


لاحظ أن  $||\overrightarrow{AB}|| = ||\overrightarrow{BA}|| = AB$

**تعريف ٣** تكافؤ قطعتين مستقيمتين موجهتين: تتكافأ القطعتان المستقيمتان الموجهتان إذا كان لهما نفس المعيار ونفس الاتجاه.



مثال



١ في الشكل المقابل:  $\vec{AB}$  و  $\vec{CD}$  مستطيل تقاطع قطراه في م.  $\vec{AD} \equiv \vec{BC}$  فيكون:  
 $\vec{AB} // \vec{CD}$  ويساويه،  $\vec{AD} // \vec{BC}$  ويساويه،  
 $m = n = p = q$

- أ  $||\vec{AB}|| = ||\vec{CD}||$  واتجاه  $\vec{AB}$  هو نفس اتجاه  $\vec{CD}$   $\therefore \vec{AB} \equiv \vec{CD}$
- ب  $||\vec{AM}|| = ||\vec{CM}||$  واتجاه  $\vec{AM}$  هو نفس اتجاه  $\vec{CM}$
- ج  $||\vec{MA}|| = ||\vec{MB}||$  واتجاه  $\vec{MA}$  مختلف عن اتجاه  $\vec{MB}$
- د  $||\vec{AH}|| \neq ||\vec{BD}||$  واتجاه  $\vec{AH}$  هو نفس اتجاه  $\vec{BD}$
- هـ  $\vec{AB}$  تكافئ  $\vec{CD}$
- و  $\vec{AM}$  تكافئ  $\vec{CM}$
- ز  $\vec{MA}$  لا تكافئ  $\vec{MB}$
- ح  $\vec{AH}$  لا تكافئ  $\vec{BD}$

حاول أن تحل

٤  $\vec{AB}$  و  $\vec{CD}$  متوازي أضلاع تقاطع قطراه في م.

أولاً: اذكر القطع المستقيمة الموجهة (إن وجدت) والتي تكافئ:

- أ  $\vec{AB}$     ب  $\vec{CD}$     ج  $\vec{BC}$     د  $\vec{AM}$     هـ  $\vec{CM}$

ثانياً: بين لماذا تكون القطع المستقيمة الموجهة التالية غير متكافئة:

- أ  $\vec{AM}$  ،  $\vec{AJ}$     ب  $\vec{BA}$  ،  $\vec{CD}$     ج  $\vec{BM}$  ،  $\vec{DM}$

تفكير منطقي:

- إذا كان  $\vec{AB}$  تكافئ  $\vec{CD}$  ماذا تستنتج؟
- ما عدد القطع المستقيمة الموجهة التي يمكن رسمها في المستوى وكل منها تكافئ  $\vec{AB}$ ؟
- من نقطة ج في المستوى كم قطعة مستقيمة موجهة يمكن رسمها وتكافئ  $\vec{AB}$ ؟

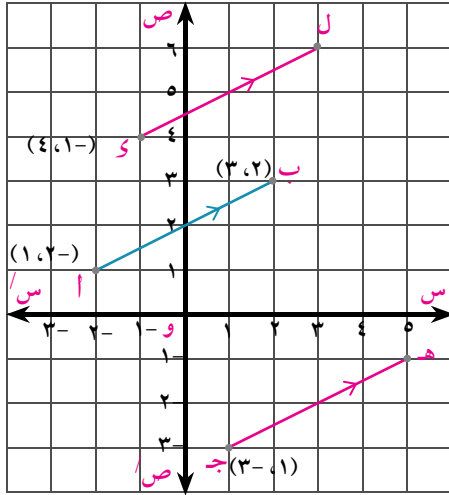
لاحظ أنه:

توجد قطعة مستقيمة موجهة وحيدة يمكن رسمها من النقطة ج (جـ مثلاً) بحيث تكون جـ تكافئ  $\vec{AB}$ .

مثال

٢ القطع المستقيمة الموجهة في المستوى الإحداثي المتعامد:

في مستوى إحداثي متعامد عين النقط أ (٢، -١)، ب (٣، ٢)، ج (١، -٣)، د (-١، ٤) ثم ارسم جـ هـ، ك ل كل منهما تكافئ  $\vec{AB}$ . أوجد إحداثيي كل من هـ، ل.



### الحل

لرسم  $\vec{ج}$  تكافئ  $\vec{ا}$  يجب أن تكون  $\vec{ج}$ ،  $\vec{ا}$  لهما نفس الاتجاه، ونفس المعيار.

أي أن:  $\vec{ج} // \vec{ا}$ ،  $||\vec{ج}|| = ||\vec{ا}|| = \text{طول } \vec{ا}$ .

نرسم  $\vec{ج} // \vec{ا}$  (ميل  $\vec{ا}$  = ميل  $\vec{ج}$  =  $\frac{1}{2}$ )

نحدد طول  $\vec{ج}$  = طول  $\vec{ا}$  باستخدام الفرجار،

أو بحساب عدد المربعات الأفقية والرأسية، فنجد أن

هـ (1، 5). بالمثل نرسم  $\vec{ل}$  فنجد أن: ل (6، 3)

**للحظ أن:** حيث إن الانتقال يحافظ على توازي المستقيمات، وأطوال القطع المستقيمة وباعتبار النقطة جـ

صورة النقطة أ بالانتقال  $(1 - 3, 2 - 1) = (-2, 1)$

∴ لرسم  $\vec{ج}$  تكافئ  $\vec{ا}$  نجد أن  $\vec{ج}$  هي صورة  $\vec{ا}$  بالانتقال  $(-2, 1)$

ويكون إحداثي هـ =  $(2 + 3, 1 + (-2)) = (5, -1)$

باستخدام الانتقال: عين إحداثي النقطة س التي تجعل  $\vec{س}$  تكافئ  $\vec{ا}$

### حاول أن تحل

5 في مستوى إحداثي متعامد عين النقط أ (3، 2)، ب (2، 6)، جـ (5، 3)، د (2، 5) ثم ارسم  $\vec{ج}$ ،  $\vec{ل}$ ،  $\vec{س}$  وكل منها تكافئ  $\vec{ا}$ ، وأوجد إحداثي كل من هـ، ل، س.

### تحقق من فهمك

في الشكل المقابل: أ ب جـ مثلث فيه أ ب = أ جـ

س، ص، ع منصفات أ ب، ب جـ، جـ أ على الترتيب

أولاً: أي العبارات التالية صحيحة؟

- أ  $||\vec{س}|| = ||\vec{ع}||$     ب  $\vec{س} \vec{ص}$  تكافئ  $\vec{ع} \vec{ص}$     ج  $\vec{ب} \vec{ص}$  تكافئ  $\vec{ع} \vec{س}$ .

ثانياً: اكتب القطع المستقيمة الموجهة (إن وجدت) والتي تكافئ كلاً من:

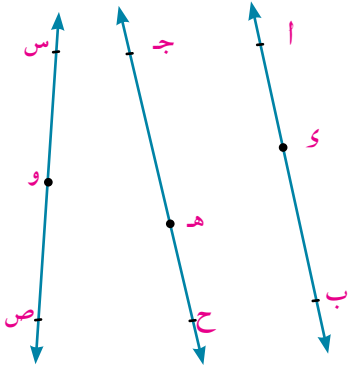
- أ  $\vec{ب} \vec{س}$     ب  $\vec{أ} \vec{ع}$     ج  $\vec{س} \vec{ع}$   
 د  $\vec{ج} \vec{ص}$     هـ  $\vec{س} \vec{ص}$     و  $\vec{ع} \vec{ص}$



## تمارين (٣ - ١)

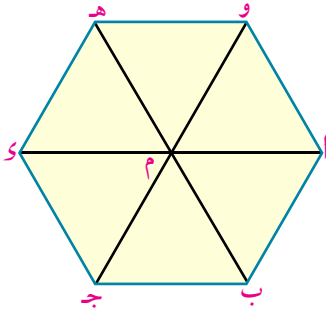
١ أكمل العبارات التالية لتكون صحيحة:

- أ الكمية القياسية يلزم لتعريفها تعريفاً تاماً معرفة .....
- ب الكمية المتجهة يلزم لتعريفها تعريفاً تاماً معرفة .....
- ج القطعة المستقيمة الموجهة هي قطعة مستقيمة لها .....
- د تكافؤ القطعتان المستقيمتان الموجهتان إذا كان لهما .....



٢ في الشكل المقابل:  $\vec{AB}$  يوازي  $\vec{جـهـ}$  وكل منهما لايوازي  $\vec{سـص}$  صل كلاً من العبارات التالية بما يناسبها.

- أ  $\vec{اـو}$  ،  $\vec{اـب}$  ١- متحد الاتجاه ب  $\vec{وـس}$  ،  $\vec{سـص}$
- ج  $\vec{اـو}$  ،  $\vec{هـح}$  ٢- مختلفا الاتجاه د  $\vec{جـهـ}$  ،  $\vec{اـب}$
- هـ  $\vec{بـو}$  ،  $\vec{صـو}$  ٣- متضادا الاتجاه و  $\vec{جـح}$  ،  $\vec{سـص}$



٣ في الشكل المقابل أ ب ج د هـ و، سداسي منتظم، مركزه النقطة م. أكمل ما يأتي:

- أ  $\vec{اـب}$  تكافئ ..... وتكافئ ..... وتكافئ .....
- ب  $\vec{مـو}$  تكافئ ..... وتكافئ ..... وتكافئ .....
- ج  $\vec{جـد}$  تكافئ ..... وتكافئ ..... وتكافئ .....

٤ أ ب ج د مربع تقاطع قطراه في م. اكتب جميع القطع المستقيمة الموجهة والمتكافئة التي يعينها الشكل.

٥ في مستوى إحداثي متعامد: إذا كانت أ (٤، -٣)، ب (٤، ٤)، ج (-٣، -١)، وكانت كل من القطع المستقيمة الموجهة  $\vec{بـا}$ ،  $\vec{جـد}$ ،  $\vec{وـم}$ ،  $\vec{نـو}$  متكافئة، حيث و نقطة الأصل. أوجد إحداثيات كل من  $\vec{م}$ ،  $\vec{ن}$ .

٦ في مستوى إحداثي متعامد: أ(٣، ٢)، ب(٦، ٢)، ج(١، ٣)، د(٤، ٧):  
أ أوجد  $\overline{AB}$ ،  $\overline{JK}$

ب أثبت أن  $\overline{AB}$  تكافئ  $\overline{JK}$

ج إذا كان كل من القطع المستقيمة الموجهة ب  $\overline{JK}$ ،  $\overline{AM}$ ،  $\overline{NK}$ ، و  $\overline{MK}$  متكافئة، أوجد إحداثي كل من م، ن، ر حيث و نقطة الأصل.

٧ في مستوى إحداثي متعامد: أ(٢، ٣)، ب(٣، ١)، ج(٥، ١):  
أ ارسم  $\overline{JK}$ ، تكافئ  $\overline{AB}$  وعين إحداثي النقطة و.

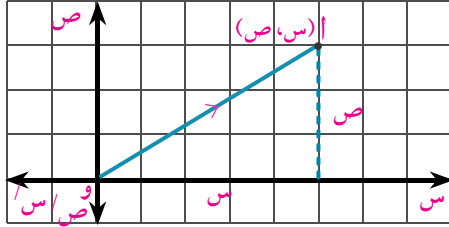
ب عين إحداثي النقطة م منتصف  $\overline{JK}$  ثم حدد القطع المستقيمة الموجهة التي تكافئ كلاً من:  
أولاً:  $\overline{BM}$  ثانياً:  $\overline{AM}$  ثالثاً:  $\overline{AJ}$  رابعاً:  $\overline{KB}$

ج هل الشكل أ ج د ب متوازي أضلاع؟ فسر إجابتك.

## المتجهات

### Vectors

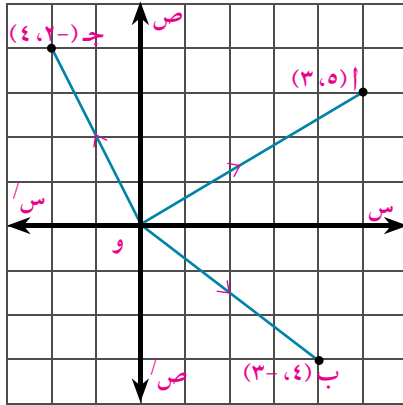
#### مقدمة



يمكن تعيين موضع النقطة أفي المستوى الإحداثي المتعامد بمعرفة الزوج المرتب (س, ص) المناظر لها، حيث إن لكل نقطة في المستوى الإحداثي موضع وحيد بالنسبة لنقطة الأصل و.

متجه الموضع لنقطة معلومة بالنسبة لنقطة الأصل: Position Vector

**تعريف**  
متجه الموضع لنقطة معلومة بالنسبة لنقطة الأصل: هو القطعة المستقيمة الموجهة التي بدايتها نقطة الأصل ونهايتها النقطة المعلومة.



#### مثال

① في الشكل المقابل: أ (3, 5)،

ب (3, -4)، ج (-4, 2) فيكون:

←  $\vec{OA}$  هو متجه الموضع لنقطة أ بالنسبة لنقطة الأصل و، ويناظر الزوج المرتب (3, 5). ويكتب  $\vec{OA} = (3, 5)$ .

←  $\vec{OB}$  متجه الموضع لنقطة ب بالنسبة لنقطة الأصل، حيث  $\vec{OB} = (3, -4)$  كما أن  $\vec{OC} = (-4, 2)$

**ملاحظة:** نظرًا لأن كل متجهات الموضع لها نفس نقطة البداية (و) فإنه يمكننا أن نرمز لمتجه الموضع  $\vec{OA}$  بالرمز  $\vec{A}$  ولمتجه الموضع  $\vec{OB}$  بالرمز  $\vec{B}$  وهكذا وبذلك يكون:  $\vec{A} = (3, 5)$  ،  $\vec{B} = (3, -4)$  ،  $\vec{C} = (-4, 2)$ .

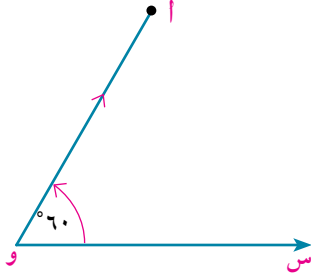
**معياري المتجه:** هو طول القطعة المستقيمة الممثلة للمتجه.

فإذا كان:  $\vec{r} = (س, ص)$

فإن:  $||\vec{r}|| = \sqrt{س^2 + ص^2}$

### حاول أن تحل

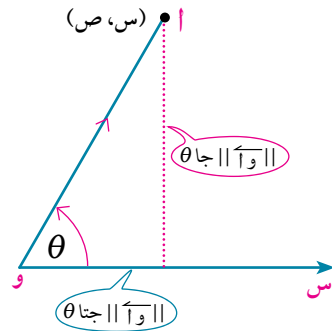
١ في المستوى الإحداثي المتعامد إذا كانت أ(٢، -١)، ب(٥، ٠)، ج(-٢، -٣) فأوجد متجه الموضع لكل منها بالنسبة لنقطة الأصل و، وارسم القطعة المستقيمة الموجهة الممثلة له في المستوى الإحداثي.



يبين الشكل المقابل قطعة مستقيمة موجهة  $\vec{OA}$ ، معيارها  $\sqrt{3}$  واتجاهها يصنع زاوية قياسها  $60^\circ$  مع الاتجاه الموجب لمحور السينات. كيف يمكن إيجاد متجه الموضع لنقطة أ بالنسبة لنقطة الأصل و في مستوى إحداثي متعامد؟

### Polar form of position Vector

### الصورة القطبية لمتجه الموضع



في الشكل المقابل المتجه  $\vec{OA}$  يصنع زاوية قياسها  $\theta$  مع الاتجاه الموجب لمحور السينات كما أن معياره يساوي  $|\vec{OA}|$ . فيمكن التعبير عنه كما يلي:

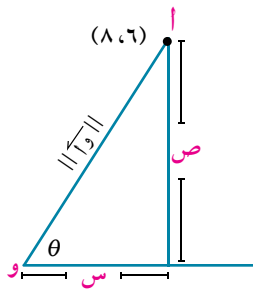
$$\vec{OA} = (|\vec{OA}| \cos \theta, |\vec{OA}| \sin \theta)$$

ويكون إحداثيا النقطة أ في المستوى الإحداثي المتعامد هما:

$$س = |\vec{OA}| \cos \theta, \quad ص = |\vec{OA}| \sin \theta \quad \text{ويكون} \quad \frac{ص}{س} = \tan \theta$$

### مثال

٢ في مستوى إحداثي متعامد إذا كانت أ(٦،  $\sqrt{3}$ ). أوجد الصورة القطبية لمتجه الموضع للنقطة أ بالنسبة لنقطة الأصل و.



$$\therefore \vec{OA} = (6, \sqrt{3}) \quad \therefore \text{طول } \vec{OA} = \sqrt{6^2 + (\sqrt{3})^2} = \sqrt{36 + 3} = \sqrt{39}$$

$$\frac{\sqrt{3}}{\sqrt{39}} = \frac{ص}{س} = \tan \theta, \quad \theta \in [0, \frac{\pi}{2}]$$

$$\therefore \theta = \tan^{-1}(\frac{\sqrt{3}}{6}) = \frac{\pi}{6} \quad \therefore \vec{OA} = (\sqrt{39} \cos \frac{\pi}{6}, \sqrt{39} \sin \frac{\pi}{6})$$

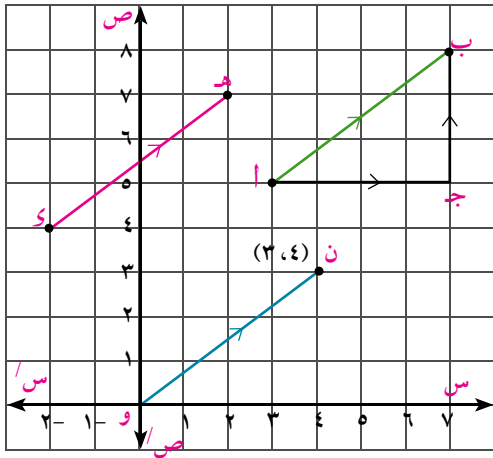
### حاول أن تحل

٢ أ إذا كان  $\vec{OA} = (8, 3\sqrt{8})$  أوجد الصورة القطبية للمتجه  $\vec{OA}$ .  
ب إذا كان  $\vec{OA} = (12, 3\sqrt{12})$  متجه موضع لنقطة ج بالنسبة لنقطة الأصل و، فأوجد إحداثي نقطة ج.

**فكر:** ما متجه الموضع لنقطة الأصل و(٠، ٠) في مستوى إحداثي متعامد؟

**المتجه الصفري:** يعرف  $\vec{0} = (0, 0)$  بالمتجه الصفري  $\vec{0}$ .

ويكون  $||\vec{0}|| = ||\vec{0}|| = 0$ ، والمتجه الصفري غير معين الاتجاه.



## Equivalent Vectors

## المتجهات المتكافئة

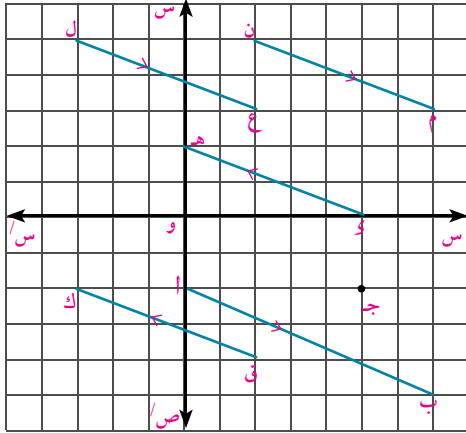
لنفرض أن جسمًا تحرك من أ حتى وصل إلى ب بعد أن قطع ٤ وحدات إلى اليمين، ٣ وحدات إلى أعلى. فإن  $\vec{AB}$  تمثل متجه إزاحة الجسم من أ إلى ب.

يمكننا تمثيل  $\vec{AB}$  في المستوى الإحداثي المتعامد بعدد غير منته من القطع المستقيمة الموجهة المتوازية والتي يكافئ كل منها  $\vec{AB}$ ، ويكون إحداها متجه الموضع  $\vec{ON}$ .

أي إن:  $\vec{AB} = \vec{CD} = \vec{EN} = \vec{ON} = (3, 4)$

ويكون:  $\|\vec{AB}\| = \|\vec{CD}\| = \|\vec{EN}\| = \|\vec{ON}\| = \sqrt{3^2 + 4^2} = 5$  وحدات طول.

## حاول أن تحل



## ٣ في الشكل المقابل:

أ عين متجه الموضع للنقطة ج بالنسبة إلى نقطة الأصل و، ثم أوجد معياره.

ب حدد جميع عناصر مجموعة المتجهات التي يكافئ كل منها  $\vec{ج}$ .

لعلك لاحظت ارتباط المتجهات بعناصر مجموعة الأزواج المرتبة (س، ص) حيث (ص، س)  $\exists$  ح<sup>٢</sup> وعلى ذلك يمكن تعريف المتجهات كما يلي:

**المتجهات:** عناصر المجموعة ح<sup>٢</sup> مع عمليتي الجمع والضرب المعرفتين عليها تسمى متجهات.

تعريف

٥

أضف هذه  
معلوماتك

نرمز لحاصل الضرب  
الديكارتي ح<sup>٢</sup> × ح  
بالرمز ح<sup>٢</sup>  
وتقرأ: ح اثنان

يرمز للمتجهات بأحد الرموز  $\vec{م}$ ،  $\vec{ن}$ ،  $\vec{و}$ ،  $\vec{س}$ ..... مثل:  
 $\vec{م} = (3, 2)$ ،  $\vec{ن} = (2, -7)$ ،  $\vec{و} = (0, 0)$ ..... وهكذا

## جمع متجهين جبريًا Adding two Vectors Algebraically

لكل  $\vec{أ} = (س_١, ص_١) \exists$  ح<sup>٢</sup>،  $\vec{ب} = (س_٢, ص_٢) \exists$  ح<sup>٢</sup>

يكون:  $\vec{أ} + \vec{ب} = (س_١ + س_٢, ص_١ + ص_٢) \exists$  ح<sup>٢</sup>

فمثلاً:  $(5, 8) = (7 + 2, 0 + 3) = (7, 0) + (2, 3)$

### ولعملية الجمع الخواص التالية:

خاصية الانغلاق	لكل $\vec{a}, \vec{b} \in \mathcal{H}^2$ يكون $\vec{a} + \vec{b} \in \mathcal{H}^2$
خاصية الإبدال	لكل $\vec{a}, \vec{b} \in \mathcal{H}^2$ يكون $\vec{a} + \vec{b} = \vec{b} + \vec{a}$
خاصية التجميع أو الدمج	لكل $\vec{a}, \vec{b}, \vec{c} \in \mathcal{H}^2$ يكون $\vec{a} + (\vec{b} + \vec{c}) = (\vec{a} + \vec{b}) + \vec{c}$
خاصية وجود العنصر المحايد	لكل $\vec{a} \in \mathcal{H}^2$ يوجد $\vec{0} = (0, 0) \in \mathcal{H}^2$ حيث: $\vec{a} + \vec{0} = \vec{a} = \vec{0} + \vec{a}$
خاصية توافر المعكوسات	لكل $\vec{a} \in \mathcal{H}^2$ يوجد $-\vec{a} = (s, -v) \in \mathcal{H}^2$ حيث: $\vec{a} + (-\vec{a}) = \vec{0} = (-\vec{a}) + \vec{a}$
خاصية الحذف	لكل $\vec{a}, \vec{b}, \vec{c} \in \mathcal{H}^2$ إذا كان $\vec{a} + \vec{b} = \vec{a} + \vec{c}$ فإن $\vec{b} = \vec{c}$

### Multiplying a vectore by a real number

### ضرب متجهه في عدد حقيقي

لكل  $\vec{a} = (s, v) \in \mathcal{H}^2$  ، ولكل  $k \in \mathcal{H}$  :  $k\vec{a} = (ks, kv)$  (كس، كص) =  $\vec{a}$  ك (كس، كص)  $\in \mathcal{H}^2$   
 فمثلاً:  $(10, -6) = (5, -2) \cdot 2$  ،  $(\frac{9}{4}, 2) = (9, 4) \cdot \frac{1}{4}$  ،  $(0, 0) = (0, 0) \cdot 4$  ،  $(-8, 6) = (4, -3) \cdot (-2)$  ،

### ولعملية الضرب الخواص التالية:

خاصية التوزيع	أولاً: لكل $\vec{a}, \vec{b} \in \mathcal{H}^2$ ، لكل $k \in \mathcal{H}$ يكون: $k(\vec{a} + \vec{b}) = k\vec{a} + k\vec{b}$ ثانياً: لكل $\vec{a} \in \mathcal{H}^2$ ، لكل $k_1, k_2 \in \mathcal{H}$ يكون: $(k_1 + k_2)\vec{a} = k_1\vec{a} + k_2\vec{a}$
خاصية التجميع أو الدمج	لكل $\vec{a} \in \mathcal{H}^2$ ، لكل $k_1, k_2 \in \mathcal{H}$ يكون: $(k_1 k_2)\vec{a} = k_1(k_2\vec{a})$
خاصية الحذف	لكل $\vec{a}, \vec{b} \in \mathcal{H}^2$ ، لكل $k \in \mathcal{H}^*$ فإن: $k\vec{a} = \vec{b}$ والعكس صحيح

**لاحظ أن:** إذا كان  $\vec{m} = (s_1, v_1)$  ،  $\vec{n} = (s_2, v_2)$  يكافئ  $\vec{n} = (s_2, v_2)$  فإن:  $s_1 = s_2$  ،  $v_1 = v_2$  (خاصية تساوي الأزواج المرتبة).  
 ونقول عندئذ أن المتجهين  $\vec{m}$  ،  $\vec{n}$  متساويان.

### مثال

٣ إذا كان  $\vec{a} = (2, -6)$  ،  $\vec{b} = (3, 4)$

أ أوجد  $\vec{a}_2 - \vec{a}_3$  ب عبر عن  $\vec{a} = (5, 11)$  بدلالة  $\vec{a}$  ،  $\vec{b}$

### الحل

أ  $\vec{a}_2 - \vec{a}_3 = (2, -6) - (3, 4) = (-1, -10)$

$(-1, -10) = (9, -12) + (-10, 12) = (13, 0)$

ب بفرض أن  $\vec{a} = k_1\vec{a} + k_2\vec{b}$  حيث  $k_1, k_2 \in \mathcal{H}$

$k_1(2, -6) + k_2(3, 4) = (5, 11)$

$(2k_1 + 3k_2, -6k_1 + 4k_2) = (5, 11)$

ومن خاصية تساوي زوجين مرتبين ينتج أن:

$$١١ = ١ك٤ + ١ك٦ \quad (١) \quad ، \quad ٥ = ١ك٣ + ١ك٢ \quad (٢)$$

بحل المعادلتين (١)، (٢) نجد أن:  $١ك = \frac{١}{٣}$  ،  $١ك = ٢$  .  $\therefore \vec{ج} = \frac{١}{٣} \vec{ا} + ٢ \vec{ب}$

### حاول أن تحل

- ٤ إذا كان  $\vec{ا} = (٢، -٦)$  ،  $\vec{ب} = (-٥، ٢)$  ،  $\vec{ج} = (-٦، ١٤)$
- أ أوجد:  $\vec{ا}$  ،  $\vec{ب}$  ،  $\frac{١}{٣} \vec{ج}$  ،  $\vec{ا} + \vec{ب} - \vec{ج}$
- ب عبر عن  $\vec{ج}$  بدلالة  $\vec{ا}$  ،  $\vec{ب}$ .

### Unit Vector

**متجه الوحدة:** هو متجه معياره الوحدة.

التعبير عن المتجه بدلالة متجهي الوحدة الأساسيين.

ص  
٢  
١  
١ ٢ ٣  
س  
 $(٠، ١) = \vec{s}$

**تعريف**

متجه الوحدة الأساسي  $\vec{s}$ : هو القطعة المستقيمة الموجهة التي مبدؤها نقطة الأصل ومعيارها الوحدة واتجاهها هو الاتجاه الموجب لمحور السينات.

ص  
٢  
١  
١ ٢ ٣  
س  
 $(١، ٠) = \vec{s}$

متجه الوحدة الأساسي  $\vec{ص}$ : هو القطعة المستقيمة الموجهة التي مبدؤها نقطة الأصل ومعيارها الوحدة واتجاهها هو الاتجاه الموجب لمحور الصادات.

إذا كان  $\vec{م} = (س، ص)$

$$\therefore \vec{م} = (س، ص) + (٠، ٠) = (س، ص) + ٠ \vec{ص}$$

$$= (٠، ١) ص + (١، ٠) ص$$

$$= \vec{ص} + \vec{ص}$$

$$\text{ويكون: } \|\vec{م}\| = \sqrt{ص^2 + س^2}$$

من تعريف الجمع.

من تعريف الضرب.

### مثال

٤ عبر عن كل من المتجهات التالية بدلالة متجهي الوحدة الأساسيين:

أ  $\vec{م} = (٧، ٢)$       ب  $\vec{ن} = (-٤، ٣)$       ج  $\vec{ل} = (-٥، ٠)$       د  $\vec{ع} = (٠، \frac{٣}{٤})$

### الحل

ب  $\vec{ن} = ٤ \vec{س} - ٣ \vec{ص}$

أ  $\vec{م} = ٧ \vec{ص} + ٢ \vec{س}$

د  $\vec{ع} = \frac{٣}{٤} \vec{ص}$

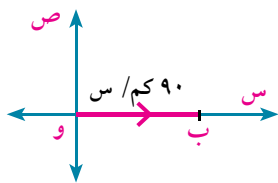
ج  $\vec{ل} = -٥ \vec{ص}$

### حاول أن تحل

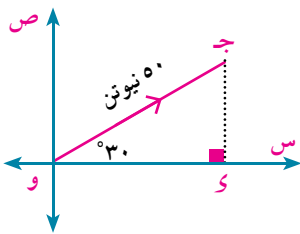
- ٥ عبر عن كل من المتجهات التالية بدلالة متجهى الوحدة الأساسيين ثم أوجد معياره:  
 أ  $\vec{m} = (4, 3-)$     ب  $\vec{n} = (12, 5-)$     ج  $\vec{l} = (6, 3-)$     د  $\vec{e} = (0, 7-)$

### مثال

- ٥ أوجد بدلالة متجهى الوحدة الأساسيين المتجه الذى يعبر عن كل من:  
 أ السرعة المنتظمة لسيارة تقطع ٩٠ كم كل ساعة فى اتجاه الشرق.  
 ب قوة مقدارها ٥٠ نيوتن تؤثر فى نقطة مادية فى اتجاه ٣٠° شمال الشرق.



- ١ الدل  
 أ بفرض أن متجه الموضع لسرعة السيارة و  $\vec{b} = (س, ص)$ .  
 $٠ = ص$  ،  $٩٠ = س$  .  
 $\vec{b} = ٩٠ \vec{s}$



- ب بفرض أن متجه الموضع للقوة المعطاة و  $\vec{c} = (س, ص)$ .  
 $٥٠ = س$  جتا  $٣٠ = ٣٦,٢٥$  ،  
 $٥٠ = ص$  جا  $٣٠ = ٢٥$  ،  
 $\vec{c} = ٣٦,٢٥ \vec{s} + ٢٥ \vec{v}$

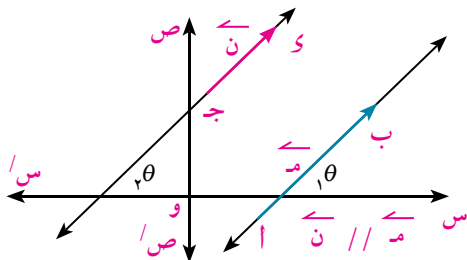
### حاول أن تحل

- ٦ أوجد بدلالة متجهى الوحدة الأساسيين المتجه الذى يعبر عن كل من:  
 أ ازاحة جسم مسافة ٦٠ سم فى اتجاه الجنوب.  
 ب قوة مقدارها ٣٠ كجم تؤثر على جسيم فى اتجاه ٦٠° شمال الغرب.

## Perpendicular and Parallel Vectors

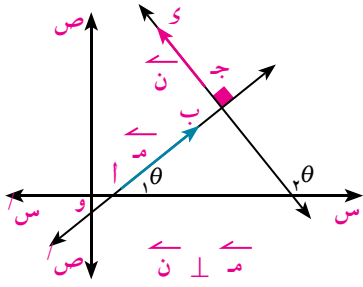
## توازى متجهين وتعامدهما

لكل  $\vec{m}$  ،  $\vec{n}$  متجهين غير صفريين  
 حيث  $\vec{m} = (س١, ص١)$  ،  $\vec{n} = (س٢, ص٢)$



١- إذا كان  $\vec{m} // \vec{n}$   
 فإن:  $\theta_1 = \theta_2$  ،  $\frac{ص١}{س١} = \frac{ص٢}{س٢}$   
 ويكون  $س١ ص٢ - س٢ ص١ = ٠$  والعكس صحيح





٢- إذا كان  $\vec{m} \perp \vec{n}$

فإن:  $\text{ظا } \theta_1 \times \text{ظا } \theta_2 = -1$

$$-1 = \frac{\text{ص}_1}{\text{س}_1} \times \frac{\text{ص}_2}{\text{س}_2}$$

ويكون  $\text{س}_1 \text{س}_2 + \text{ص}_1 \text{ص}_2 = 0$  والعكس صحيح

**لاحظ أن: إذا كان  $\vec{a} = (2, 4)$ ،  $\vec{b} = (-6, 3)$ ،  $\vec{c} = (4, 8)$**

فإن:  $\vec{a} \perp \vec{b}$  لأن:  $2 \times (-6) + 4 \times 3 = -12 + 12 = 0$  صفرًا.

$\vec{a} \parallel \vec{c}$  لأن:  $2 \times 8 - 4 \times 4 = 16 - 16 = 0$  صفرًا.

$\vec{b} \perp \vec{c}$  لأن:  $(-6) \times 8 + 3 \times 4 = -48 + 12 = -36 \neq 0$  صفرًا.

### مثال

٦ إذا كان  $\vec{a} = (2, 5)$ ،  $\vec{b} = (k, -4)$  فأوجد قيمة ك عندما:

أ  $\vec{a} \parallel \vec{b}$       ب  $\vec{a} \perp \vec{b}$

**الحل**

أ عندما  $\vec{a} \parallel \vec{b}$  فإن شرط التوازي هو:  $2 \times (-4) - k \times 5 = 0$  صفرًا

$$-8 - 5k = 0 \Rightarrow k = -\frac{8}{5}$$

ب  $\vec{a} \perp \vec{b}$  فإن شرط التعامد هو:  $2 \times k + 5 \times (-4) = 0$  صفرًا

$$2k - 20 = 0 \Rightarrow k = 10$$

### حاول أن تحل

٧ إذا كان  $\vec{a} = (-4, 6)$ ،  $\vec{b} = (6, -9)$ ،  $\vec{c} = (3, 2)$  أثبت أن:  $\vec{a} \parallel \vec{b}$ ،  $\vec{b} \perp \vec{c}$ ،  $\vec{a} \perp \vec{c}$

**لاحظ أن: إذا كان  $\vec{m} = (s, v)$ ،  $\vec{k} = (k, c)$   $\exists$  ح**

فإن:  $\vec{m} = \vec{k} \iff (s, v) = (k, c)$

وإذا كان  $\vec{m}$  متجه غير صفري،  $k \neq 0$  فإن:  $\vec{m} \parallel \vec{k}$

ويكون:  $\|\vec{m}\| = |k| \cdot \|\vec{k}\|$

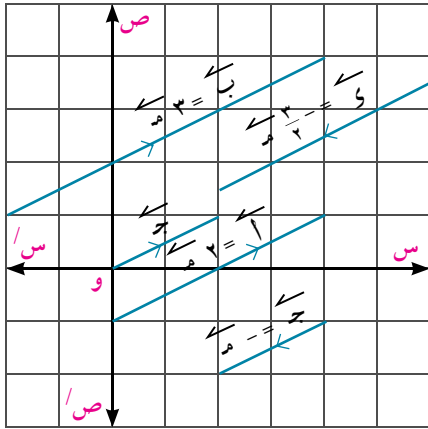
حيث اتجاه  $\vec{m}$  هو نفس اتجاه  $\vec{k}$  لكل  $k > 0$

اتجاه  $\vec{m}$  هو عكس اتجاه  $\vec{k}$  لكل  $k < 0$

فمثلاً:

$$\begin{aligned} \text{إذا كان } \vec{m} = (1, 2) \text{ فإن: } \vec{a} = 2\vec{m} = (2, 4) \\ \vec{b} = 3\vec{m} = (3, 6) \\ \vec{c} = -\vec{m} = (-1, -2) \\ \vec{d} = \frac{3}{2}\vec{m} = \left(\frac{3}{2}, 3\right) \end{aligned}$$

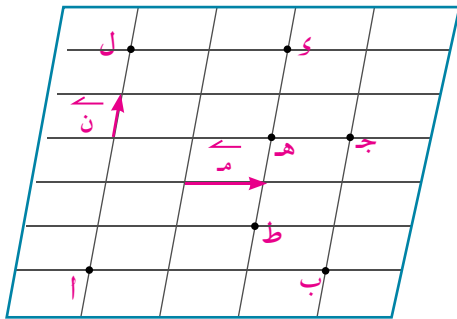
والشكل المقابل يوضح ذلك.



حاول أن تحل

٨ الشبكة المقابلة لمتوازيات أضلاع متطابقة.

أولاً: عبر عن كل من القطع المستقيمة الموجهة التالية بدلالة المتجهين  $\vec{m}$ ،  $\vec{n}$

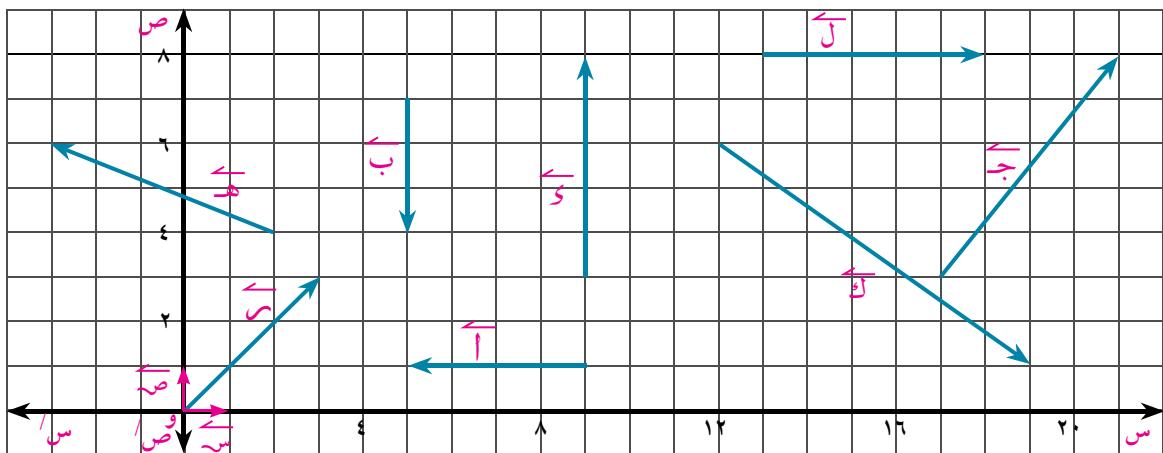


- |   |           |    |           |   |           |
|---|-----------|----|-----------|---|-----------|
| أ | $\vec{a}$ | ب  | $\vec{b}$ | ج | $\vec{c}$ |
| د | $\vec{d}$ | هـ | $\vec{e}$ | و | $\vec{w}$ |
| ز | $\vec{z}$ | ح  | $\vec{h}$ | ط | $\vec{t}$ |

ثانياً: استنتج أن  $\vec{b} = -\vec{a}$  وفسر ذلك هندسياً.

تحقق من فهمك

يبين الشكل التالي تمثيلاً لبعض المتجهات في المستوى الإحداثي المتعامد. اكتب كل متجه بدلالة متجهي الوحدة الأساسيين.



## تمارين (٣ - ٢)

١) في مستوى إحداثي متعامد: أ (٣، -٤)، ب (-١٢، ٥)، ج (-٣، ٦)، أوجد متجه الموضع لكل من النقط أ، ب، ج بالنسبة لنقطة الأصل و (٠، ٠)، ثم أوجد معيار كل منها.

٢) عبر عن كل من المتجهات التالية بدلالة متجهي الوحدة الأساسيين، ثم أوجد معيار كل منها:

أ)  $\vec{m} = (-٤، -٣)$  ..... ب)  $\vec{n} = (٨، -٦)$  .....

ج)  $\vec{w} = (-٥، ١٢)$  ..... د)  $\vec{t} = (٠، ٢٢\sqrt{٢})$  .....

هـ)  $\vec{b} = (-٣\sqrt{٣}، ٠)$  ..... و)  $\vec{g} = (\sqrt{٦}، -٢\sqrt{٣})$  .....

٣) أوجد الصورة القطبية لكل من المتجهات التالية:

أ)  $\vec{m} = ٣\sqrt{٨} = \vec{s} + ٨\vec{v}$

ب)  $\vec{n} = ٢\sqrt{٣} = \vec{s} + ٢\sqrt{٣}\vec{v}$

٤) إذا كان  $\vec{a} = (٣، -٢)$ ،  $\vec{b} = (-٢، ٥)$ ،  $\vec{c} = (٠، ١١)$ :

أ) اكتب كلاً من المتجهات التالية بدلالة متجهي الوحدة الأساسيين

$\vec{b}$ ،  $\vec{c}$ ،  $\vec{a} + \vec{b} - \vec{c}$ ،  $\frac{1}{٣}(\vec{a} + \vec{b})$

ب) عبر عن  $\vec{c}$  بدلالة  $\vec{a}$ ،  $\vec{b}$

٥) أوجد بدلالة متجهي الوحدة الأساسيين المتجه الذي يعبر عن:

أ) سرعة منتظمة مقدارها ٦٠ كم/س في اتجاه الغرب.

ب) قوة مقدارها ٢٠ ث كجم تؤثر على جسم في اتجاه ٣٠° جنوب الشرق.

ج) إزاحة جسم مسافة ٤٠ سم في اتجاه الشمال الغربي.

٦ إذا كان  $\vec{m} = (1, 5)$  ،  $\vec{n} = (4, -2)$  ،  $\vec{l} = (-10, 2)$  أثبت أن:

أ  $\vec{m} \perp \vec{n}$       ب  $\vec{m} // \vec{l}$       ج  $\vec{n} \perp \vec{l}$

٧ إذا كان  $\vec{m} = 3\vec{v} + 4\vec{w}$  ،  $\vec{n} = 6\vec{s} - 8\vec{v}$  ،

$\vec{l} = \vec{a} - \vec{s} - 8\vec{v}$  ،  $\vec{w} = 4\vec{s} + \vec{b}$  ،

أ أثبت أن  $\vec{m} // \vec{n}$

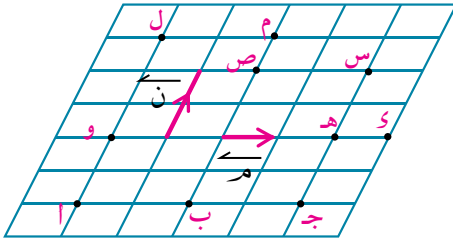
ب أوجد  $\exists$  ح إذا كان  $\vec{m} // \vec{l}$

ج أوجد  $\exists$  ح إذا كان  $\vec{w} \perp \vec{n}$

د هل  $\vec{w} \perp \vec{m}$ ؟ فسر إجابتك

٨ الشبكة المقابلة لمتوازيات أضلاع متطابقة. عبر عن كل من القطع المستقيمة الموجهة التالية بدلالة

المتجهين  $\vec{m}$  ،  $\vec{n}$



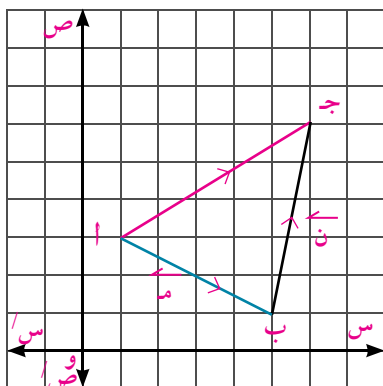
- |       |              |       |             |
|-------|--------------|-------|-------------|
| ..... | أ $\vec{a}$  | ..... | ب $\vec{b}$ |
| ..... | ج $\vec{c}$  | ..... | د $\vec{d}$ |
| ..... | هـ $\vec{e}$ | ..... | و $\vec{w}$ |
| ..... | ز $\vec{z}$  | ..... | ح $\vec{h}$ |
| ..... | ط $\vec{t}$  | ..... | ي $\vec{y}$ |
| ..... | ك $\vec{k}$  | ..... | ل $\vec{l}$ |

## العمليات على المتجهات

### Operations on Vectors

#### Adding vectors geometrically

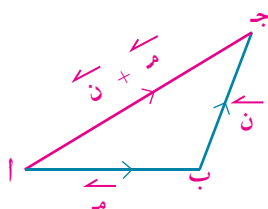
#### أولاً: جمع المتجهات هندسياً



إذا كانت  $\vec{AB}$  تمثل المتجه  $\vec{m}$  ،  $\vec{BC}$  تمثل المتجه  $\vec{n}$  حيث:  
 $\vec{m} = (4, -2)$  ،  $\vec{n} = (1, 5)$   
 اكتب ما يساويه  $\vec{m} + \vec{n}$  .  
 اكتب المتجه الذي تمثله  $\vec{AC}$  .  
 ماذا تلاحظ؟ ماذا تستنتج؟

#### Triangle Rule of Adding two vectors

#### قاعدة المثلث لجمع متجهين



إذا كان  $\vec{AB}$  تمثل المتجه  $\vec{m}$  ،  $\vec{BC}$  تمثل المتجه  $\vec{n}$  حيث النقطة ب نقطة النهاية للمتجه  $\vec{m}$  و هي نفسها نقطة البداية للمتجه  $\vec{n}$  .  
**فإن:** المتجه  $\vec{m} + \vec{n}$  تمثله القطعة المستقيمة الموجهة  $\vec{AC}$

$$\vec{AB} + \vec{BC} = \vec{AC} \quad \text{أى} \quad \vec{m} + \vec{n} = \vec{j}$$

وتعرف هذه العلاقة بعلاقة شال

#### مثال

١) تقطع سفينة ٣٠٠ متر شرقاً، ثم ٤٠٠ متر شمالاً للخروج من الميناء.

احسب إزاحة السفينة حتى خروجها من الميناء.

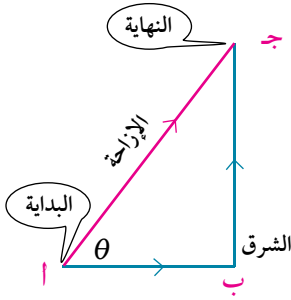
#### الحل

١- نأخذ مقياس رسم مناسب: باعتبار كل ١ سم تمثل ١٠٠ متر.

٣:٠ سم تمثل ٣٠٠ متر، ٤ سم تمثل ٤٠٠ متر.

٢- ارسم مسار الرحلة بمقياس الرسم مستخدماً أدواتك الهندسية، فيكون

متجه الإزاحة  $\vec{AC} = \vec{AB} + \vec{BC}$  .



٣- قس طول  $\overline{أج}$  بالمسطرة (أج = ٥ سم)

٤- معيار الإزاحة = الطول في الرسم  $\times$  مقياس الرسم  
 $٥٠٠ = ١٠٠ \times ٥$  متر.

٥- اتجاه الإزاحة:  $\theta = \text{ط}^{-١} \left( \frac{ج}{ب} \right) \simeq ٥٣^\circ$  لأقرب درجة.

∴ السفينة تبعد عن نقطة إبحارها مسافة ٥٠٠ متر في اتجاه  $٥٣^\circ$  شمال الشرق.

### حاول أن تحل

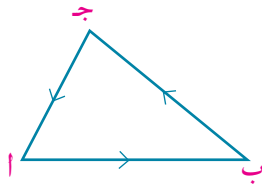
١) تحركت شاحنة من الموقع أ مسافة ٨٠ كم في اتجاه الغرب ثم مسافة ١٢٠ كم في اتجاه  $٦٠^\circ$  شمال الغرب. إلى أن وصلت إلى الموقع ب. أوجد مقدار واتجاه الإزاحة  $\overline{أب}$ .

### ملاحظات هامة:

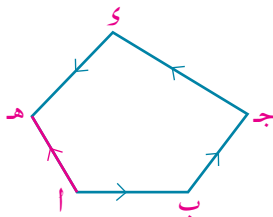
	<p>١- أي متجهين <math>\overline{م}</math>، <math>\overline{ن}</math> يمكن جمعهما (إيجاد محصلتهما) بإنشاء متجهين متتالين ومكافئين للمتجهين <math>\overline{م}</math>، <math>\overline{ن}</math> كما في الشكل المقابل.</p>
	<p>٢- قاعدة شال لجمع متجهين صحيحة إذا كانت النقط أ، ب، ج تنتمي إلى مستقيم واحد.      ففي الأشكال الثلاثة المقابلة يكون <math>\overline{أج} = \overline{أب} + \overline{بج}</math></p>
	<p>٣- <math>\overline{أب} + \overline{بأ} = \overline{أأ} = \overline{٠}</math> (العنصر المحايد لعملية جمع المتجهات)  <math>\therefore \overline{بأ}</math> هو المعكوس الجمعي للمتجه <math>\overline{أب}</math>      أي إن <math>\overline{بأ} = -\overline{أب}</math></p>

فكر: استنتج صحة العبارات التالية:

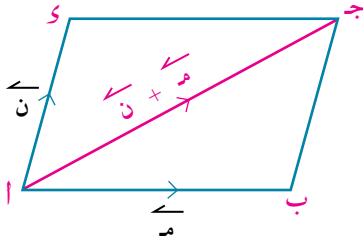
١- في  $\Delta$  أ ب ج:  $\overline{أب} + \overline{بج} + \overline{جأ} = \overline{٠}$



٢- في الشكل أ ب ج د هـ:  $\overline{أب} + \overline{بج} + \overline{ج د} + \overline{د هـ} + \overline{هـ أ} = \overline{٠}$



Parallelogram Rule of Adding two vectors



قاعدة متوازي الأضلاع لجمع متجهين

إذا كان  $\vec{AB}$  تمثل المتجه  $\vec{m}$ ، أو  $\vec{AC}$  تمثل المتجه  $\vec{n}$ ، أي إن للمتجهات  $\vec{m}$ ،  $\vec{n}$  نفس نقطة البداية، فلإيجاد  $\vec{m} + \vec{n}$  نكمل متوازي الأضلاع  $AB$   $AC$  ونرسم قطره  $AD$  فتكون  $\vec{AD}$  تكافئ  $\vec{B} + \vec{C}$ . (لماذا؟)

$$\therefore \vec{m} + \vec{n} = \vec{AB} + \vec{AC}$$

$$\vec{AD} = \vec{AB} + \vec{AC}$$

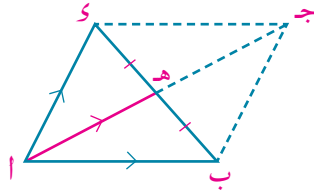
وتعرف هذه القاعدة بقاعدة متوازي الأضلاع لجمع متجهين.

**فكر** استنتج صحة العبارات التالية:

١-  $\vec{m} + \vec{n} = \vec{n} + \vec{m}$

٢- في  $\triangle ABC$  إذا كانت  $H$  منتصف  $BC$

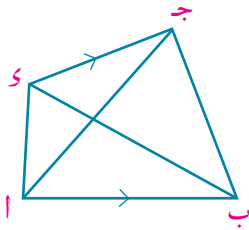
فإن:  $2\vec{AH} = \vec{AB} + \vec{AC}$



مثال

٢) في أي شكل رباعي  $ABCD$  أثبت أن:  $\vec{AC} + \vec{BD} = \vec{AB} + \vec{CD}$

الدل



في  $\triangle ABC$ :  $\vec{AB} + \vec{BC} = \vec{AC}$  (١)

في  $\triangle DCB$ :  $\vec{DC} + \vec{CB} = \vec{DB}$  (٢)

من (١)، (٢) ينتج أن:

$$\vec{AB} + \vec{BC} + \vec{DC} + \vec{CB} = \vec{AC} + \vec{DB}$$

$$= \vec{AB} + \vec{BC} + \vec{CB} + \vec{DC} \quad (\text{خاصية الإبدال})$$

$$= (\vec{AB} + \vec{DC}) + (\vec{BC} + \vec{CB}) \quad (\text{خاصية الدمج})$$

$$= \vec{AB} + \vec{DC} \quad (\text{المعكوس الجمعي})$$

$$= \vec{AB} + \vec{DC} \quad (\text{خاصية المحاييد الجمعي})$$

حاول أن تحل

٢)  $ABCD$  شكل رباعي فيه  $\vec{AC} = 3\vec{AO}$  أثبت أن:

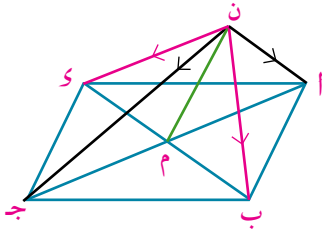
أ)  $\vec{AB} + \vec{CD} = 4\vec{AO}$       ب)  $\vec{AC} + \vec{BD} = 4\vec{AO}$

مثال

٣)  $ABCD$  متوازي أضلاع تقاطع قطراه في  $M$ .  $N$  نقطة في نفس المستوى. أثبت أن:

أ)  $\vec{AB} + \vec{CD} + 2\vec{CM} = \vec{0}$       ب)  $\vec{AN} + \vec{CN} = \vec{NB} + \vec{ND}$

الدل



قاعدة متوازي الأضلاع.  
(جم = م أ).

$$\text{أ) } \vec{أب} + \vec{أد} = \vec{أج} \quad (1)$$

$$\text{ب) } 2\vec{جأ} = \vec{جأ} \quad (2)$$

بجمع (1)، (2) ينتج أن

$$\vec{أب} + \vec{أد} + 2\vec{جأ} = \vec{جأ} + \vec{جأ}$$

$$\vec{أب} + \vec{أد} = 2\vec{جأ}$$

$$\therefore \vec{أب} + \vec{أد} = 2\vec{جأ}$$

ب) ارسم ن م

في  $\triangle ن أ ج$ :  $\therefore م$  منتصف  $\vec{أج}$

في  $\triangle ن ب د$ :  $\therefore م$  منتصف  $\vec{ب د}$

من (3)، (4) ينتج أن:  $\vec{ن أ} + \vec{ن ب} = \vec{ن ج} + \vec{ن د}$

حاول أن تحل

3) أ ب ج د متوازي أضلاع فيه ه منتصف  $\vec{ب ج}$  أثبت أن:  $\vec{أب} + \vec{أد} + \vec{أه} = 2\vec{أه}$

### Subtracting Vectors geometrically

### ثانياً: طرح المتجهات هندسياً

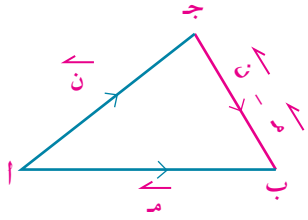
في  $\triangle أ ب ج$  بالشكل المقابل:

$$\vec{أب} - \vec{أج} = \vec{أب} + (-\vec{أج})$$

$$= \vec{أب} + \vec{جأ}$$

$$= \vec{أب} + \vec{جأ}$$

$$= \vec{ج ب}$$



(تعريف الطرح).

(المعكوس الجمعي).

(الإبدال).

(قاعدة المثلث).

$$\boxed{\vec{أب} - \vec{أج} = \vec{ج ب}} \quad \text{أى إن}$$

فإذا كانت  $\vec{أب}$  تمثل المتجه  $\vec{م}$ ،  $\vec{أج}$  تمثل المتجه  $\vec{ن}$

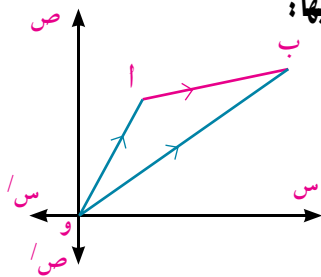
فإن:  $\vec{ج ب}$  تمثل  $\vec{م} - \vec{ن}$  كما أن  $\vec{ب ج}$  تمثل  $\vec{ن} - \vec{م}$

التعبير عن القطعة المستقيمة الموجهة  $\vec{أب}$  بدلالة متجهي الموضع لطرفيها:

إذا كانت أ ( $س_1, ص_1$ )، ب ( $س_2, ص_2$ ).

فإن:  $\vec{أب} = \vec{وب} - \vec{وا}$  (من قاعدة الطرح).

حيث  $\vec{وب}$ ،  $\vec{وا}$  متجهي موضع للنقطتين ب، أ على الترتيب.



$$\boxed{\vec{أب} = \vec{وب} - \vec{وا}} \quad \therefore$$

فمثلاً: إذا كانت أ ( $1, -7$ )، ب ( $5, 2$ ) فإن:  $\vec{أب} = \vec{وب} - \vec{وا} = (5, 2) - (1, -7) = (4, 9)$



مثال

٤) أ ب ج د متوازي أضلاع حيث أ (١، ٢)، ب (١، ٧)، ج (٤، ٤) أوجد إحداثيي نقطة د.

الحل

$$\begin{aligned} \vec{AD} // \vec{BC}, \vec{AD} = \vec{BC} \therefore \vec{AD} &= \vec{BC} \\ \text{ويكون } \vec{D} - \vec{A} &= \vec{C} - \vec{B} \\ \text{أي إن } \vec{D} &= \vec{C} - \vec{B} + \vec{A} = (1, 7) - (4, 4) + (1, 2) = (2, 1) \end{aligned}$$

حاول أن تحل

٤) أ ب ج د شكل رباعي فيه أ (٢، ١)، ب (٠، ٩)، ج (٤، ٨) د (٢، ٠).

أثبت أن: أ)  $\vec{AB} = \vec{CD}$  ب)  $\vec{AB} \perp \vec{BC}$ .

مثال

٥) إذا كان:  $\vec{N} = 3\vec{A} - 2\vec{B} + 3\vec{C} + 5\vec{D}$  أثبت أن  $\vec{N} = \vec{AD}$ .

الحل

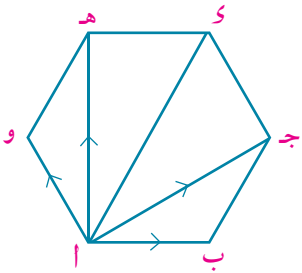
$$\begin{aligned} \vec{N} &= 3\vec{A} - 2\vec{B} + 3\vec{C} + 5\vec{D} \\ \vec{N} &= 3\vec{A} - 2\vec{B} + 3\vec{C} + 3\vec{D} + 2\vec{D} \\ \vec{N} &= 3\vec{A} - 2\vec{B} + 3\vec{C} + 3\vec{D} + 2\vec{D} \\ \vec{N} &= 3(\vec{A} + \vec{C} + \vec{D}) + 2\vec{D} \\ \vec{N} &= 3\vec{AD} + 2\vec{D} \end{aligned}$$

(إضافة ٢  $\vec{D}$  للطرفين).  
(المعكوس الجمعي للمتجهات).  
(عملية الطرح).  
 $\therefore \vec{N} = \vec{AD}$ .

حاول أن تحل

٥) إذا كان:  $\vec{M} = 2\vec{A} + 3\vec{B} - 2\vec{C} - \vec{D}$  أثبت أن  $\vec{M} = \vec{AD}$ .

تحقق من فهمك

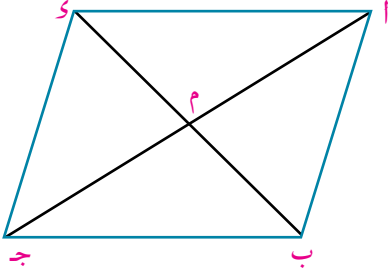


في الشكل المقابل: أ ب ج د سداسي منتظم، أثبت أن:

$$\vec{A} + \vec{B} + \vec{C} + \vec{D} = 2\vec{A}$$

## تمارين (٣ - ٣)

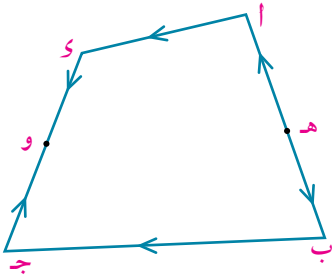
١ في الشكل المقابل:  $\vec{AB}$  و  $\vec{CD}$  متوازي أضلاع ،  $M$  نقطة تقاطع قطراه. أكمل:



- أ  $\vec{AB} = \dots$       ب  $\vec{BC} = \dots$   
 ج  $\vec{AB} + \vec{BC} = \dots$       د  $\vec{AC} + \vec{CD} = \dots$   
 هـ  $\vec{BC} + \vec{CD} = \dots$       و  $\vec{AD} + \vec{DA} = \dots$   
 ز  $\vec{AB} + \vec{AD} = \dots$       ح  $\vec{BC} + \vec{CD} = \dots$   
 ط  $\vec{AD} + \vec{DC} = \dots$       ي  $\vec{AM} + \vec{MC} = \dots$   
 ك  $\vec{AB} + \vec{AD} = 2 \dots$       ل  $\vec{AC} + \vec{CD} = 2 \dots$   
 م  $\vec{AM} + \vec{MC} = \dots$       ن  $\vec{AB} + 2 \vec{BM} = \dots$

٢ في أي مثلث  $ABC$ ، أثبت أن:  $\vec{AB} + \vec{BC} + \vec{CA} = \vec{0}$

٣ في أي شكل رباعي  $ABCD$  أثبت أن:  $\vec{AB} + \vec{BC} + \vec{CD} + \vec{DA} = \vec{0}$



٤ في الشكل المقابل:  $\vec{AB}$  و  $\vec{CD}$  متوازي أضلاع ،  $M$  و  $N$  نقطتا تقاطع قطراه. أثبت أن:  $\vec{AM} + \vec{CN} = \vec{0}$

٥  $\vec{AB}$  و  $\vec{CD}$  متوازي أضلاع إذا كان  $\vec{AB} = 2\vec{CD}$  أثبت أن:

٦  $\vec{AM} + \vec{CN} = \vec{0}$  ،  $M$  و  $N$  منتصف  $\vec{AB}$  و  $\vec{CD}$  أثبت أن:  $\vec{AM} + \vec{CN} = \vec{0}$

٧ في المثلث  $أ ب ج$ :  $ي$ ،  $هـ$ ، ومنتصفات الأضلاع  $أ ب$ ،  $ب ج$ ،  $ج أ$  على الترتيب. أثبت أن:  $\vec{أهـ} + \vec{ب و} = \vec{ج د}$

٨  $أ ب ج د$  شبه منحرف فيه  $أ د // ب ج$ ،  $\frac{أ د}{ب ج} = \frac{٢}{٣}$  أثبت أن:  $\vec{أ ج} + \vec{ب و} = \vec{أ د}$

٩ إذا كان  $\vec{أ} = ٣\vec{س} - ٢\vec{ص}$ ،  $\vec{ب} = \vec{س} - ٤\vec{ص}$

أوجد:

- أ  $\vec{أ} + \vec{ب}$       ب  $\vec{أ} - \vec{ب}$   
 ج  $||\vec{أ} + \vec{ب}||$       د  $\vec{أ} + ٢\vec{ب}$   
 هـ  $\vec{أ} - ٣\vec{ب}$       و  $٣\vec{أ} - \vec{ب}$

١٠  $أ ب ج د$  متوازي أضلاع، حيث  $أ(٠، ٣)$ ،  $ب(٤، ٠)$ ،  $د(١، ٢)$ ،  $ج(٢، ١)$  أوجد إحداثي النقطة  $ج$ .

١١  $أ ب ج د$  شبه منحرف فيه  $أ(٣، ٢)$ ،  $ب(١، ٤)$ ،  $ج(٥، ٢)$ ،  $د(١، ١)$ .

أ إذا كان  $\vec{أ ب} // \vec{ج د}$  أوجد قيمة  $ك$ .

ب أثبت أن  $\vec{ج ب} \perp \vec{أ ب}$

ج أوجد مساحة شبه المنحرف  $أ ب ج د$ .

## تطبيقات على المتجهات

### Applications on Vectos

#### Geometric Applications

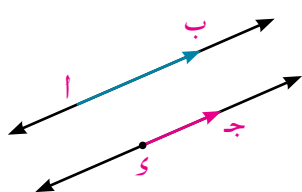
#### أولاً: تطبيقات هندسية



في الشكل الرباعي أ ب ج د:

١- إذا كان  $\vec{AB} = \vec{DC}$  ماذا تستنتج؟

٢- إذا كان  $\vec{AB} = \vec{DC}$  ما العلاقة بين  $\vec{AD}$ ، و  $\vec{BC}$ ؟



**لاحظ أن: إذا كان:**  $\vec{AB} = \vec{DC}$ ،  $k \neq 0$

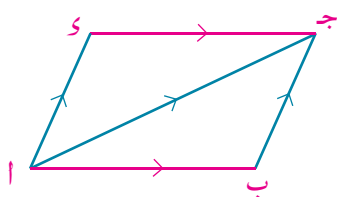
**فإن:**  $\vec{AB} \parallel \vec{DC}$

وعلى ذلك يمكن استخدام المتجهات والعمليات عليها في إثبات بعض النظريات والعلاقات الهندسية كما يلي:

#### مثال

١ باستخدام المتجهات أثبت أن: إذا تساوى وتوازى ضلعان متقابلان في الشكل الرباعي كان الشكل متوازي أضلاع.

#### الدل



المعطيات: في الشكل أ ب ج د:

$$\vec{AB} \parallel \vec{DC}, \vec{AD} = \vec{BC}$$

المطلوب:  $\vec{AD} \parallel \vec{BC}$

البرهان: ارسم أ ج

$$\therefore \vec{AD} = \vec{BC}, \vec{AB} \parallel \vec{DC}$$

$$\therefore \vec{AD} = \vec{BC}$$

في  $\triangle ABC$ :  $\vec{AB} + \vec{BC} = \vec{AC}$  (تعريف الجمع).

في  $\triangle ADC$ :  $\vec{AD} + \vec{DC} = \vec{AC}$  (تعريف الجمع).

$$\therefore \vec{AD} = \vec{BC}$$

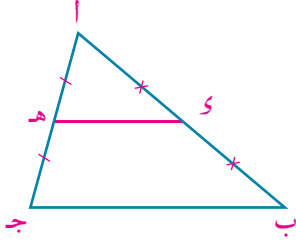
$$\therefore \vec{AD} = \vec{BC} \text{ ويكون } \vec{AD} \parallel \vec{BC}$$

$\therefore$  الشكل أ ب ج د متوازي أضلاع.

## مثال

٢ باستخدام المتجهات أثبت أن: القطعة المستقيمة المرسومة بين منتصفى ضلعين في مثلث توازي الضلع الثالث.

الدل



المعطيات: في  $\Delta$  أ ب ج: و منتصف أ ب، ه منتصف أ ج،  
المطلوب: وه // ب ج

البرهان:  $\therefore$  و منتصف أ ب  $\therefore$  أ و =  $\frac{1}{2}$  أ ب، أ و =  $\frac{1}{2}$  أ ب  
 $\therefore$  ه منتصف أ ج  $\therefore$  أ ه =  $\frac{1}{2}$  أ ج، أ ه =  $\frac{1}{2}$  أ ج

(١) في  $\Delta$  أ ب ج:  $\vec{ب ج} = \vec{ب أ} + \vec{أ ج}$  (تعريف الجمع).

في  $\Delta$  أ و ه:  $\vec{و ه} = \vec{و أ} + \vec{أ ه}$  (تعريف الجمع).

(٢)  $\frac{1}{2} \vec{ب أ} + \frac{1}{2} \vec{أ ج} = \frac{1}{2} (\vec{ب أ} + \vec{أ ج})$ .

من (١)، (٢) ينتج أن:

$\vec{و ه} = \frac{1}{2} \vec{ب ج}$   $\therefore$  وه // ب ج وهو المطلوب

**لاحظ أن**  $\|\vec{و ه}\| = \|\frac{1}{2} \vec{ب ج}\|$  فيكون طول وه =  $\frac{1}{2}$  طول ب ج

## حاول أن تحل

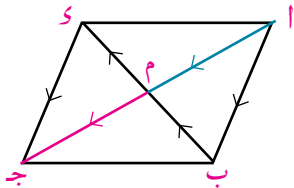
١ أ ب ج و شكل رباعي. س ص ع ل منتصفات الأضلاع أ ب، ب ج، ج د، د أ على الترتيب. باستخدام المتجهات أثبت أن:

أ الشكل س ص ع ل متوازي أضلاع. ب محيط الشكل أ ب ج د يساوي مجموع طولي قطريه.

## مثال

٣ باستخدام المتجهات أثبت أن: قطري متوازي الأضلاع ينصف كل منهما الآخر.

الدل



العمل والبرهان: نفرض أن م نقطة تنصيف ب و  $\therefore \vec{ب م} = \vec{م و}$

ارسم المتجهين  $\vec{أ م}$ ،  $\vec{م ج}$  فيكون:

في  $\Delta$  أ ب م:  $\vec{أ م} = \vec{أ ب} + \vec{ب م}$  (تعريف الجمع).

في  $\Delta$  ج و م:  $\vec{م ج} = \vec{م و} + \vec{و ج}$  (تعريف الجمع).

$\therefore \vec{ب م} = \vec{م و}$  عملاً،  $\vec{أ ب} = \vec{و ج}$  (من متوازي الأضلاع).

$\therefore \vec{أ م} = \vec{م ج}$

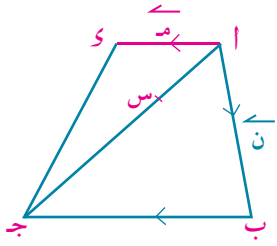
وحيث إن  $\vec{أ م}$ ،  $\vec{م ج}$  لهما نفس الاتجاه وتتشركان في نقطة م.

$\therefore$  كل منهما يقع على نفس المستقيم، أي أن أ، م، ج على استقامة واحدة.

$\therefore \|\vec{أ م}\| = \|\vec{م ج}\|$   $\therefore$  م منتصف أ ج، م منتصف ب و عملاً.

$\therefore$  القطران أ ج، ب و ينصف كل منهما الآخر (وهو المطلوب).

### حاول أن تحل



٢ في الشكل المقابل: أب ج د شبه منحرف،  $\overline{أد} // \overline{بج}$ ،

$$أد = \frac{1}{3} ب ج، \overline{أب} = \overline{أن}$$

أ عبر بدلالة م، ن عن كل من:

$$\overline{بج}، \overline{أج}، \overline{دج}، \overline{وب}$$

ب إذا كانت  $س \in \overline{أج}$  حيث  $أس = \frac{1}{3} أج$ ، أثبت أن النقط د، س، ب تقع على استقامة واحدة.

### مثال

٤ باستخدام المتجهات أثبت أن النقط أ (٤، ١)، ب (٢، -١)، ج (٣، -٢) هي رؤوس مثلث قائم الزاوية في ب.

### الحل

في المثلث أ ب ج:

$$\overline{أب} - \overline{أج} = \overline{بج}$$

$$\overline{أب} - \overline{أج} = \overline{بج}،$$

$$(١، ٣-) = (٣، -٢) - (٢، -١-) =$$

$$(٦، -٢-) = (٤، ١) - (٢، -١-) =$$

$$\therefore \overline{أب} \perp \overline{بج}، \text{ و } (\angle ب) = 90^\circ$$

$$\therefore \text{المثلث أ ب ج قائم الزاوية في ب.}$$

### حاول أن تحل

٣ باستخدام المتجهات أثبت أن النقط أ (٤، ٣)، ب (١، -١)، ج (-٤، -٣)، د (٢، ٢) هي رؤوس معين

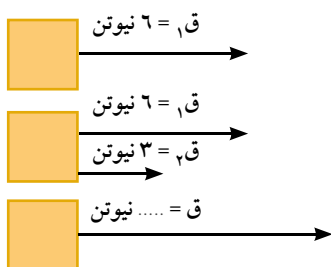
### تحقق من فهمك

أ ب ج د مربع، إذا كانت أ (٢، ٨)، ب (٣، -١)، ج (٤، ٠) فأوجد باستخدام المتجهات إحداثيي نقطة د ومساحة سطح المربع.

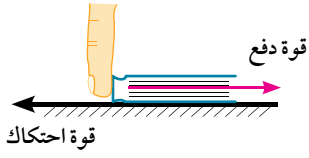
### Physical Applications

### ثانياً: تطبيقات فيزيائية

#### نشاط (١)



١- إذا أثرت قوة مقدارها ٦ نيوتن باتجاه الشرق على مكعب خشبي واخترنا أن تمثل كل ٣ نيوتن على الرسم بقطعة مستقيمة موجهة طولها سنتيمترًا واحدًا، ما طول المتجه الذي يمثل هذه القوة؟ إذا أثرت قوة إضافية مقدارها ٣ نيوتن باتجاه الشرق على المكعب. ما مقدار القوة المؤثرة على الجسم عندئذ؟ وما طول القطعة المستقيمة الموجهة التي تمثل هذه القوة على الرسم؟



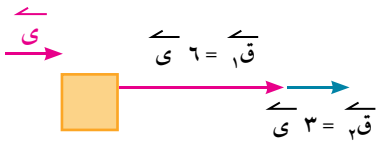
٢- عند محاولتك لتحريك كتاب على سطح نضد أفقى خشن قد تشعر بمقاومة سطح النضد لحركة الكتاب وهى ما تعرف بقوة الاحتكاك. إذا تحرك الكتاب على سطح النضد، فأى القوتين تكون الأكبر: القوة المؤثرة لتحريك الكتاب أم قوة الاحتكاك؟

### Resultant Force

### القوة المحصلة

تخضع القوى المؤثرة على جسم لعملية جمع المتجهات، ويعرف ناتج هذه العملية بمحصلة القوى  $\vec{Q}$  (أو القوة المحصلة) المؤثرة على الجسم حيث  $\vec{Q} = \vec{Q}_1 + \vec{Q}_2 + \dots$

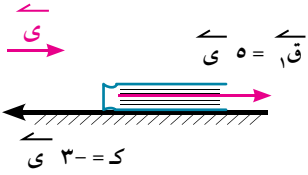
وعلى ذلك: لإيجاد محصلة القوى المؤثرة على المكعب الخشبي:



(١) اعتبر  $\vec{Q}_1$  متجه وحدة فى اتجاه الشرق.

$$\vec{Q} = \vec{Q}_1 + \vec{Q}_2 = \vec{Q}_1 + \vec{Q}_2 = 6\vec{Q}_1 + 3\vec{Q}_1 = 9\vec{Q}_1$$

أى إن:  $Q = 9$  نيوتن، وتعمل فى اتجاه الشرق.



(٢) لإيجاد محصلة القوى المؤثرة على الكتاب عند محاولة تحريكه بقوة  $\vec{Q}_1$

مقدارها ٥ نيوتن وكان مقدار قوة الاحتكاك ٣ نيوتن اعتبر  $\vec{Q}_1$  متجه وحدة فى اتجاه حركة الكتاب.

∴ قوة الدفع:  $\vec{Q}_1 = 5\vec{Q}_1$

قوة الاحتكاك:  $\vec{Q}_2 = -3\vec{Q}_1$

$$\vec{Q} = \vec{Q}_1 + \vec{Q}_2 = 5\vec{Q}_1 - 3\vec{Q}_1 = 2\vec{Q}_1$$

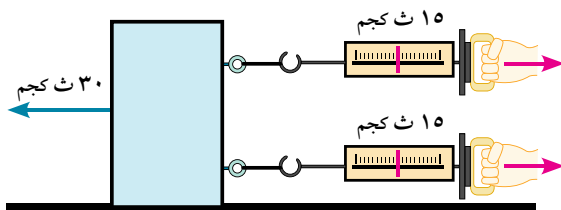

أى إن:  $Q = 2$  نيوتن، وتعمل فى اتجاه حركة الكتاب.



وحدات القوة  
داين - نيوتن  
ثقل الجرام (ث جم)  
ثقل الكيلو جرام (ث كجم).

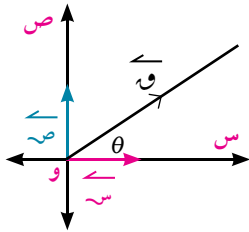
### حاول أن تحل

٤ أوجد محصلة القوى المؤثرة  $\vec{Q}$  فى كل ممايأتى:



٣- إذا أثرت القوى:  $\vec{Q} = \vec{1} + \vec{2} + \vec{3}$  ،  $\vec{Q} = \vec{7} + \vec{8}$  ،  $\vec{Q} = \vec{5} - \vec{6}$  في نقطة مادية.

احسب مقدار واتجاه محصلة هذه القوى (القوى مقاسه بالنيوتن).



**الحل**

$$\begin{aligned} \therefore \text{محصلة القوى } \vec{Q} &= \vec{Q}_1 + \vec{Q}_2 + \vec{Q}_3 \\ \therefore \vec{Q} &= \vec{1} + \vec{2} + \vec{3} + \vec{4} + \vec{5} + \vec{6} + \vec{7} + \vec{8} + \vec{9} \\ &= \vec{3} + \vec{4} \end{aligned}$$

$$\begin{aligned} \text{مقدار المحصلة} &= \|\vec{Q}\| = \sqrt{3^2 + 4^2} = 5 \text{ نيوتن} \\ \text{اتجاه المحصلة: } \theta &= \tan^{-1}\left(\frac{3}{4}\right) \approx 37^\circ \end{aligned}$$

**حاول أن تحل**

٥) القوى:  $\vec{Q} = \vec{2} + \vec{3} + \vec{4}$  ،  $\vec{Q} = \vec{1} + \vec{2} + \vec{3}$  ،  $\vec{Q} = \vec{5} + \vec{6} + \vec{7}$  تؤثر في نقطة مادية. أوجد قيمتي أ، ب إذا كانت محصلة هذه القوى  $\vec{Q}$ :

$$\text{أ) } \vec{Q} = \vec{5} - \vec{2}$$

$$\text{ب) } \vec{Q} = \vec{0}$$

**فكر:** ما معنى أن محصلة عدة قوى متلاقية في نقطة واحدة =  $\vec{0}$ ؟

**نشاط (٢)**

## Relative Velocity

## السرعة النسبية

أثناء جلوسك في سيارة متحركة (أ) ولاحظت سرعة سيارة أخرى (ب) تتحرك في نفس اتجاه حركة السيارة (أ) فإنك تشعر أن سرعة السيارة (ب) أقل من سرعتها الأصلية. أما إذا تحركت السيارة (ب) في عكس اتجاه حركة السيارة (أ) فإنك تشعر أن سرعة السيارة (ب) أكبر من سرعتها الأصلية.

**لاحظ أن:** السرعة النسبية لجسم (ب) بالنسبة إلى جسم آخر (أ) ويرمز لها بالرمز  $\vec{C}_B$ ، هي السرعة التي يبدو الجسم (ب) متحركاً بها إذا اعتبر الجسم (أ) في حالة سكون. **فإذا كان:**  $\vec{C}_A$  سرعة السيارة الفعلية،  $\vec{C}_B$  سرعة السيارة الفعلية.

$$\text{فإن: } \vec{C}_B = \vec{C}_A - \vec{C}_B$$

**فكر** ماذا تعني  $\vec{C}_B$ ؟



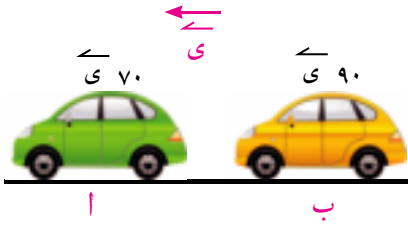
## مثال

- ٥) تتحرك سيارة (أ) على طريقة مستقيم بسرعة ٧٠ كم/س وتتحرك السيارة (ب) على نفس الطريق بسرعة ٩٠ كم/س. أوجد سرعة السيارة (أ) بالنسبة إلى السيارة (ب) عندما:
- أ) تتحرك السيارتان في اتجاه واحد.
- ب) تتحرك السيارتان في اتجاهين متضادين.

## الحل

باعتبار  $\vec{v}_1$  متجه وحدة في نفس اتجاه سرعة السيارة أ

أ) السيارتان تتحركان في اتجاه واحد:



$$\vec{v}_1 = \vec{v}_A$$

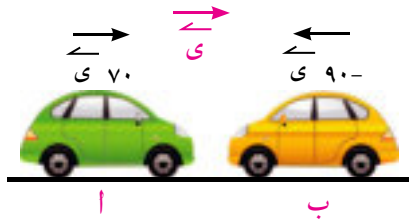
$$\vec{v}_2 = \vec{v}_B$$

$$\vec{v}_B - \vec{v}_A = \vec{v}_{B/A}$$

$$\vec{v}_2 - \vec{v}_1 = \vec{v}_{B/A}$$

أي إن راكب السيارة (ب) يشعر أن السيارة أ تتحرك نحوه بسرعة ٢٠ كم/س.

ب) السيارتان تتحركان في اتجاهين متضادين:



$$\vec{v}_1 = \vec{v}_A$$

$$\vec{v}_2 = -\vec{v}_B$$

$$\vec{v}_B - \vec{v}_A = \vec{v}_{B/A}$$

$$\vec{v}_2 - \vec{v}_1 = \vec{v}_{B/A}$$

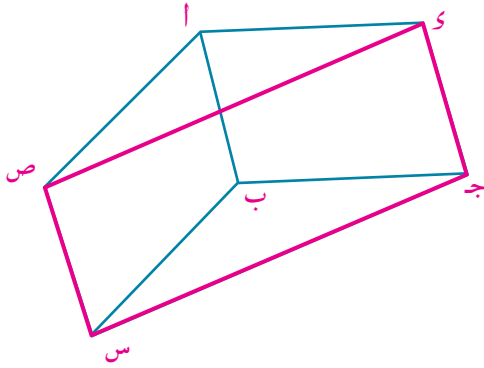
أي إن راكب السيارة (ب) يشعر أن السيارة أ تتحرك نحوه بسرعة ١٦٠ كم/س.

## حاول أن تحل

- ٦) تتحرك سيارة على طريق مستقيم بسرعة ٩٠ كم/س. إذا تحركت دراجة بخارية بسرعة ٤٠ كم/س على نفس الطريق. فأوجد سرعة الدراجة البخارية بالنسبة إلى السيارة عندما يتحركان في نفس الاتجاه.

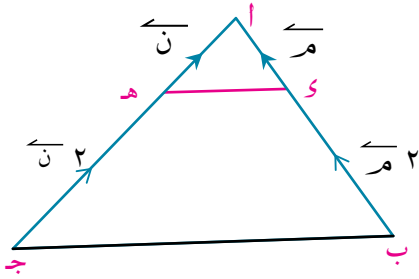


### تمارين (٣ - ٤)



١) في الشكل المقابل:

أ ب ج د، أ ب س ص متوازي أضلاع. أثبت باستخدام المتجهات أن الشكل ج س ص د هو متوازي أضلاع.



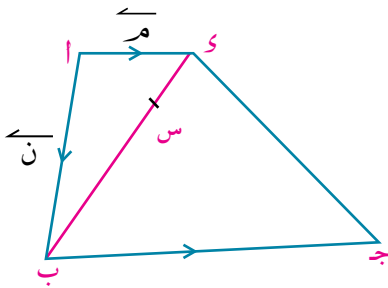
٢) في الشكل المقابل:

أ ب ج مثلث فيه  $\exists$  أ ب، هـ  $\exists$  أ ج.  
 $\vec{ا} = \vec{م}$ ،  $\vec{هـ} = \vec{ن}$ ،  $\vec{ب} = ٢ \vec{م}$ ،  $\vec{ج} = ٢ \vec{ن}$   
 أوجد  $\vec{ب ج}$  بدلالة  $\vec{م}$ ،  $\vec{ن}$   
 ثم برهن أن  $\vec{ب ج} // \vec{د هـ}$

٣) في المثلث أ ب ج،  $\exists$   $\vec{ب ج} = \vec{د}$  حيث  $\vec{ب} = \vec{د} + \vec{ج} = ٣ : ٢$

أثبت أن:  $\vec{٢} = \vec{أ ب} + \vec{٣} = \vec{أ ج} = \vec{٥}$

٤) أ ب ج د شكل رباعي، إذا كان  $\vec{أ ج} = \vec{ب} + \vec{د} = ٢ \vec{ج}$  فأثبت أن: أ ب ج د متوازي أضلاع



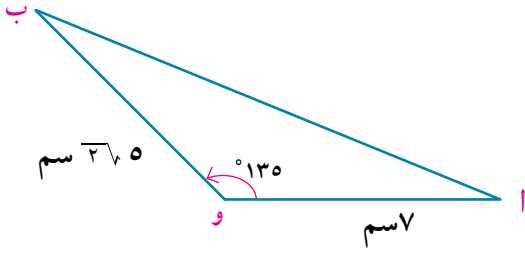
٥) أ ب ج د شبه منحرف فيه  $\vec{أ د} // \vec{ب ج}$

ب ج = ٣ ا،  $\vec{أ} = \vec{م}$ ،  $\vec{ب} = \vec{ن}$

أولاً: عبر بدلالة  $\vec{م}$ ،  $\vec{ن}$  عن كل من:  
 $\vec{ب ج}$ ،  $\vec{أ ج}$ ،  $\vec{ب د}$ ،  $\vec{ج د}$

ثانياً: إذا كانت  $\vec{س} \exists \vec{ب} = \vec{س} + \vec{د} = \frac{١}{٣} \vec{س} + \vec{د}$  حيث  $\vec{س} = \frac{١}{٣} \vec{س} + \vec{د}$   
 أثبت أن النقط أ، س، ج تقع على استقامة واحدة.

٦ في الشكل المقابل:



وأب مثلث فيه  $ا = ٧$  سم ، وب  $= ٣٦٥$  سم  
و  $(\sphericalangle ا و ب) = ١٣٥^\circ$ .  
أوجد باستخدام المتجهات طول  $\overline{ا ب}$

٧ إذا كانت  $ا(٥، ١)$  ،  $ب(٥، ٢)$  ،  $ج(٣، ٢-)$  ، و  $د(٤-، ٥-)$   
فأثبت باستخدام المتجهات أن الشكل  $ا ب ج د$  شبه منحرف.

٨ إذا كانت  $ا(٥، ٦)$  ،  $ب(٣-، ٨)$  ،  $ج(٥-، ٢-)$  هي رؤوس المثلث  $ا ب ج$  ، فأوجد باستخدام المتجهات  
إحداثي نقطة تقاطع متوسطاته.

### تمارين عامة

لمزيد من التمارين قم بزيارة موقع وزارة التربية والتعليم.

## ملخص الوحدة

- ◀ **الكميات القياسية Scalars**: هي كميات تتحدد تمامًا بمعرفة مقدارها فقط مثل الطول والمساحة والكثافة.
- ◀ **الكميات المتجهة Vectors**: هي كميات تتحدد تمامًا بمعرفة مقدارها واتجاهها مثل الإزاحة والسرعة والقوة.
- ◀ **القطعة المستقيمة الموجهة Directed Line Segment**: هي قطعة مستقيمة لها نقطة بداية، نقطة نهاية، اتجاه.
- ◀ معيار القطعة المستقيمة الموجهة  $\overline{AB}$  هو طول  $\overline{AB}$  ويرمز لها بالرمز  $\|\overline{AB}\|$ .
- ◀ تتكافأ القطعتان المستقيمتان الموجهتان إذا كان لهما نفس المعيار ونفس الاتجاه.
- ◀ **متجه الموضع Position Vector**: متجه الموضع لنقطة معلومة بالنسبة لنقطة الأصل هو القطعة المستقيمة الموجهة التي بدايتها نقطة الأصل ونهايتها النقطة المعلومة.
- ◀ **معيار المتجه Norm**: هو طول القطعة المستقيمة الممثلة للمتجه.
- ◀ **الصورة القطبية لمتجه الموضع  $\vec{r}$  Polar Form**:  $\vec{r} = (r, \theta)$  حيث  $\theta$  قياس الزاوية التي يصنعها المتجه مع اتجاه ثابت.
- ◀ **المتجه الصفري** يرمز له بالرمز  $\vec{0}$  أو **Zero Vector**: يعرف  $\vec{0} = (0, 0)$  بالمتجه الصفري حيث:  $\|\vec{0}\| = 0$  وهو غير معين الاتجاه.
- ◀ **المتجهات Vectors**: هي عناصر المجموعة  $\mathbb{R}^2$  مع عمليتي الجمع والضرب في عدد حقيقي المعرفتين عليها.
- ◀ **خواص عملية جمع المتجهات**: مغلقة - إبدالية - دمجية -  $\vec{0}$  عنصر محايد - لكل  $\vec{a} \in \mathbb{R}^2$  يوجد  $-\vec{a} \in \mathbb{R}^2$ .
- ◀ **خواص ضرب متجه في عدد حقيقي**
- ◀ خاصية التوزيع: لكل  $\vec{a}$ ،  $\vec{b} \in \mathbb{R}^2$ ، لكل  $k \in \mathbb{R}$   $k(\vec{a} + \vec{b}) = k\vec{a} + k\vec{b}$
- ◀ ولكل  $\vec{a} \in \mathbb{R}^2$ ، لكل  $k, l \in \mathbb{R}$ ،  $(k+l)\vec{a} = k\vec{a} + l\vec{a}$  يكون:  $(k+l)\vec{a} = k\vec{a} + l\vec{a}$
- ◀ خاصية التجميع: لكل  $\vec{a} \in \mathbb{R}^2$ ، لكل  $k, l \in \mathbb{R}$ ،  $(kl)\vec{a} = k(l\vec{a})$  يكون:  $(kl)\vec{a} = k(l\vec{a})$
- ◀ خاصية الحذف: لكل  $\vec{a}$ ،  $\vec{b} \in \mathbb{R}^2$ ، لكل  $k \in \mathbb{R}$  إذا كان  $k\vec{a} = k\vec{b}$  فإن  $\vec{a} = \vec{b}$  والعكس صحيح.
- ◀ **متجه الوحدة** هو متجه معياره وحدة واحدة
- ◀ **متجه الوحدة الأساسي  $\vec{e}_1$**  وهو القطعة المستقيمة الموجهة التي مبدؤها نقطة الأصل ومعيارها الوحدة واتجاهها هو الاتجاه الموجب لمحور السينات ويكتب  $\vec{e}_1 = (1, 0)$
- ◀ **متجه الوحدة الأساسي  $\vec{e}_2$**  وهو القطعة المستقيمة الموجهة التي مبدؤها نقطة الأصل ومعيارها الوحدة واتجاهها هو الاتجاه الموجب لمحور الصادات ويكتب  $\vec{e}_2 = (0, 1)$ .
- ◀ **التعبير عن المتجه بدلالة متجهي الوحدة الأساسيين** إذا كان  $\vec{a} = (a_1, a_2)$  فإن  $\vec{a} = a_1\vec{e}_1 + a_2\vec{e}_2$ .
- ◀ **المتجهان المتوازيان**: يقال لمتجهين  $\vec{m}$ ،  $\vec{n}$  أنهما متوازيان إذا كانت أي قطعة مستقيمة موجهة تمثل أحدهما توازي أي قطعة مستقيمة موجهة تمثل الآخر أو محتواه معها في مستقيم.
- ◀ **المتجهان المتعامدان**: يقال لمتجهين  $\vec{m}$ ،  $\vec{n}$  أنهما متعامدان إذا كان المستقيم الذي يحمل قطعة مستقيمة موجهة ممثلة لأحدهما عمودي على المستقيم الذي يحمل قطعة مستقيمة موجهة ممثلة للآخر.

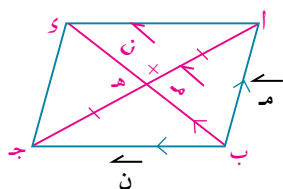
## ملخص الوحدة

◀ **شرطا التوازي والتعامد:** إذا كان  $\vec{m}$ ،  $\vec{n}$  متجهين غير صفريين حيث  $\vec{m} = (s_1, s_2)$ ،  $\vec{n} = (s_3, s_4)$  فإن: (١)  $\vec{m} // \vec{n}$  إذا كان:  $s_1 s_2 - s_3 s_4 = 0$  والعكس صحيح.  
(٢)  $\vec{m} \perp \vec{n}$  إذا كان:  $s_1 s_3 + s_2 s_4 = 0$  والعكس صحيح.

◀ يمكن ضرب متجه بعدد حقيقي، فإذا كان  $\vec{m} = (s_1, s_2)$ ،  $k \in \mathbb{R}$  فإن  $k\vec{m} = (ks_1, ks_2)$  وإذا كان  $k \neq 0$ ،  $\vec{m}$  متجه غير صفري فإن  $\vec{m} // k\vec{m}$   
اتجاه  $k\vec{m}$  هو نفس اتجاه  $\vec{m}$  لكل  $k > 0$ .  
اتجاه  $k\vec{m}$  هو عكس اتجاه  $\vec{m}$  لكل  $k < 0$ .

### Adding Vectors Geometrically

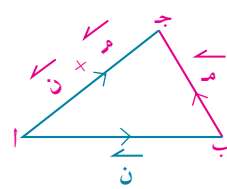
### جمع المتجهات هندسيًا



### قاعدة متوازي الأضلاع

$$\vec{a} + \vec{b} = \vec{c}$$

$$2\vec{b} = \vec{c}$$

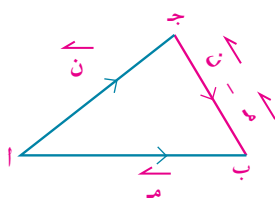


### قاعدة المثلث

$$\vec{a} + \vec{b} = \vec{c}$$

### Subtracting Vectors Geometrically

### طرح المتجهات هندسيًا:



$$\vec{a} - \vec{b} = \vec{c}$$

◀ التعبير عن  $\vec{a} - \vec{b}$  بدلالة متجهي الموضع لطرفيها.

إذا كان  $\vec{a} = (s_1, s_2)$ ،  $\vec{b} = (s_3, s_4)$  فإن:  $\vec{a} - \vec{b} = (s_1 - s_3, s_2 - s_4)$

### تطبيقات على المتجهات:

- (١) تطبيقات هندسية (لإثبات النظريات وحل مشكلات حياتية بنمذجتها).
- (٢) تطبيقات فيزيائية (أنشطة)

### @ معلومات إثرائية

قم بزيارة المواقع الآتية:





# الخط المستقيم

## Straight Line

### أهداف الوحدة

في نهاية الوحدة من المتوقع أن يكون الطالب قادرًا على أن:

- ✚ يوجد إحداثي نقطة تقسيم قطعة مستقيمة من الداخل أو الخارج إذا علمت نسبة التقسيم.
- ✚ يوجد إحداثي نقطة تقسيم قطعة مستقيمة من الداخل أو من الخارج إذا علم إحداثيات نقطة التقسيم.
- ✚ يوجد النسبة التي تنقسم بها قطعة مستقيمة من الداخل أو من الخارج إذا علم إحداثيات نقطة التقسيم.
- ✚ يتعرف الصور المختلفة لمعادلة الخط المستقيم.
- ✚ يوجد معادلة الخط المستقيم بدلالة الأجزاء المقطوعة من محوري الإحداثيات.
- ✚ يوجد قياس الزاوية الحادة بين مستقيمين.
- ✚ يوجد طول العمود المرسوم من نقطة إلى خط مستقيم.
- ✚ يوجد المعادلة العامة للمستقيم المار بنقطة تقاطع مستقيمين.
- ✚ الكارتيزية للخط المستقيم.

### المصطلحات الأساسية

Cartesian Equation	معادلة كارتيزية	point of division	نقطة تقسيم
General Equation	معادلة عامة	direction vector of Straight line direction	متجه اتجاه مستقيم
Angle between two straight lines	زاوية بين مستقيمين	Vector equation	معادلة متجهة
Length of perpendicular	طول عمود	parametric Equation	معادلة بارامترية



## دروس الوحدة

- الدرس (٤ - ١): تقسيم قطعة مستقيمة.
- الدرس (٤ - ٢): معادلة الخط المستقيم.
- الدرس (٤ - ٣): قياس الزاوية بين مستقيمين.
- الدرس (٤ - ٤): طول العمود المرسوم من نقطة إلى خط مستقيم.
- الدرس (٤ - ٥): المعادلة العامة للمستقيم المار بنقطة تقاطع مستقيمين.

## الأدوات المستخدمة

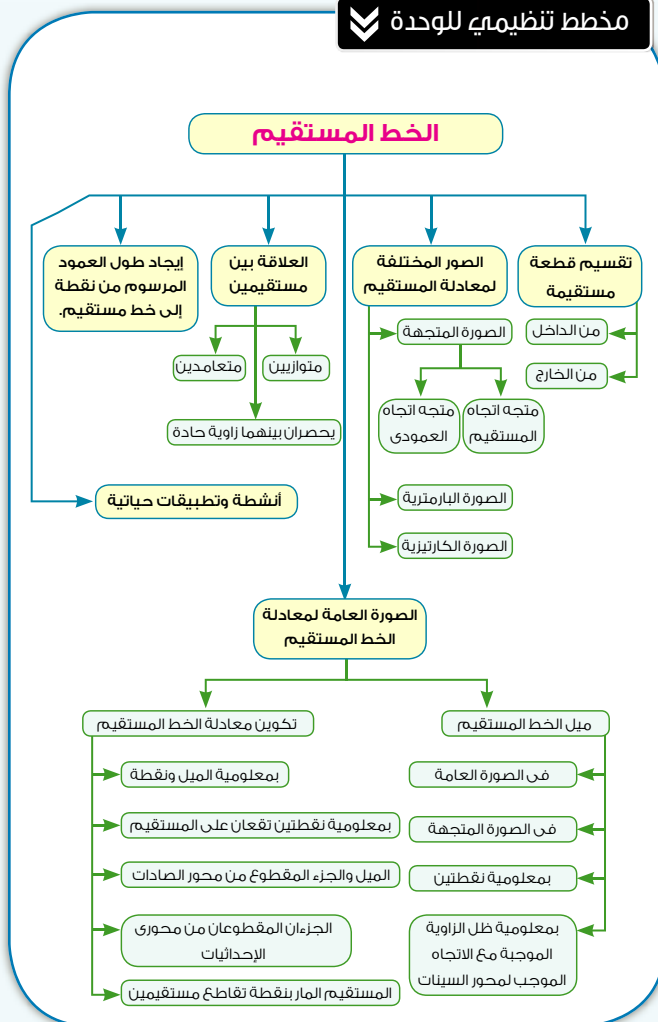
آلة حاسبة علمية - حاسب آلي - برامج رسم بياني.

## نبذة تاريخية

تعد الهندسة التحليلية أحد الفروع الأساسية للرياضيات لما لها من أهمية بالغة عند دراسة معظم العلوم الرياضية والتطبيقات الفيزيائية والعلوم التقنية، ولقد ساعدت على دراسة الفضاء وخواصه الهندسية في العصر الحديث، وترتبط بكل ما هو جديد، حيث إنها تُعتبر الأساس في تفسير الصور في علم الكمبيوتر.

وتعتبر الهندسة التحليلية مدخلاً لدراسة الهندسة التفاضلية (هندسة الحركة) والهندسة الجبرية، حيث إن الهندسة التفاضلية تختص بدراسة الأشكال الهندسية وخاصة المنحنيات والسطوح من حيث خواصها الهندسية، وذلك بتطبيق حساب التفاضل والتكامل، وقد ابتكر العلماء النظام الإحداثي المكون من محورين متعامدين ومقاطعين (محور السينات ومحور الصادات) والذي بواسطته يمكن التعبير عن كل نقطة في المستوى بعددين حقيقيين (س، ص) وباستخدام النظام الإحداثي يمكن إثبات صحة خواص الهندسة الإقليدية معبراً عن المستقيمات والمنحنيات بمعادلات جبرية باعتبارها مسارات لنقط عامة تتحرك بشروط تحكم العلاقة بين (س، ص)، ولقد يسرت الهندسة التحليلية الكثير من المعالجات في فروع الرياضيات المختلفة، كما كانت من عوامل تطورها والتعامل بينها.

## مخطط تنظيمي للوحدة



## تقسيم قطعة مستقيمة

### Division of a line segment

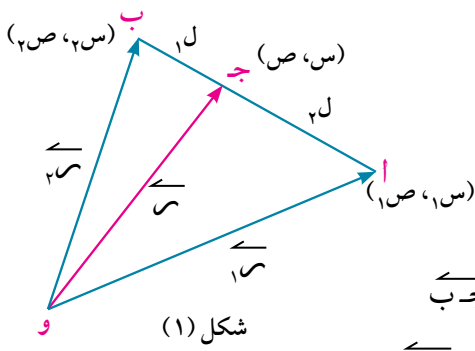


سبق أن درست إيجاد إحداثي نقطة منتصف قطعة مستقيمة، فهل يمكنك إيجاد إحداثي نقطة تقسيم قطعة مستقيمة من الداخل أو الخارج إذا علمت نسبة التقسيم؟

أولاً: إيجاد إحداثي النقطة التي تقسم قطعة مستقيمة معلومة بنسبة معينة:

#### Coordinates of the point of division of a line segment

##### ١- التقسيم من الداخل



إذا كانت ج  $\in$   $\overline{AB}$  فإن النقطة ج

تقسم  $\overline{AB}$  من الداخل بنسبة  $ل_١ : ل_٢$   
حيث  $\frac{ل_٢}{ل_١} < ٠$  فيكون  $\frac{ل_٢}{ل_١} = \frac{ج ب}{أ ج}$

ويكون للقطعتين الموجهتين  $\overrightarrow{أ ج}$ ،  $\overrightarrow{ج ب}$

نفس الاتجاه، أي أن:  $ل_١ \times \overrightarrow{أ ج} = ل_٢ \times \overrightarrow{ج ب}$

وإذا فرضنا أن  $أ(١، ١)$ ،  $ب(٢، ٢)$ ،  $ج(س، ص)$

فإن  $\overrightarrow{أ ب}$ ،  $\overrightarrow{أ ج}$ ،  $\overrightarrow{ج ب}$  هي المتجهات الممثلة بالقطع المستقيمة الموجهة  $\overrightarrow{أ}$ ،

$\overrightarrow{ب}$ ، و  $\overrightarrow{ج}$  على الترتيب، حيث و نقطة الأصل لنظام إحداثي متعامد.

وباستخدام طرح المتجهات:  $ل_١ (\overrightarrow{أ} - \overrightarrow{ب}) = ل_٢ (\overrightarrow{أ} - \overrightarrow{ج})$

$ل_١ (\overrightarrow{أ} - \overrightarrow{ب}) = ل_٢ (\overrightarrow{أ} - \overrightarrow{ج})$

$ل_١ \overrightarrow{أ} - ل_٢ \overrightarrow{ب} = ل_١ \overrightarrow{أ} - ل_٢ \overrightarrow{ج}$

$ل_١ \overrightarrow{أ} - ل_٢ \overrightarrow{ب} + ل_٢ \overrightarrow{ج} = ل_١ \overrightarrow{أ}$

$ل_٢ \overrightarrow{ج} - ل_٢ \overrightarrow{ب} = ل_١ \overrightarrow{أ} - ل_١ \overrightarrow{أ}$

بالتوزيع

فيكون

وتسمى بالصيغة المتجهة

$$\frac{ل_١ \overrightarrow{أ} + ل_٢ \overrightarrow{ب}}{ل_١ + ل_٢} = \overrightarrow{س}$$

أي أن:



مثال

١ إذا كانت أ (٢، ١) ، ب (٤، ٣) فأوجد إحداثيي النقطة ج التي تقسم  $\overline{AB}$  من الداخل بنسبة ٣ : ٢ بالصيغة المتجهة

الحل

بفرض ج (س، ص)

$$\overline{OA} = (٢، ١) \quad \therefore \overline{OB} = (٤، ٣) \quad \therefore \overline{OC} = (س، ص)$$

$$\overline{OC} = \frac{٣}{٣+٢} \overline{OA} + \frac{٢}{٣+٢} \overline{OB} = \frac{٣(٢، ١) + ٢(٤، ٣)}{٣+٢} = \frac{(٦، ٣) + (٨، ٦)}{٥} = \frac{(١٤، ٩)}{٥}$$

$\therefore$  إحداثيا النقطة ج هما (٢، ١)

الصيغة الإحداثية:

$$\overline{OC} = \frac{٣ \overline{OA} + ٢ \overline{OB}}{٣+٢} = \frac{٣(٢، ١) + ٢(٤، ٣)}{٥} = \frac{(٦، ٣) + (٨، ٦)}{٥} = \frac{(١٤، ٩)}{٥}$$

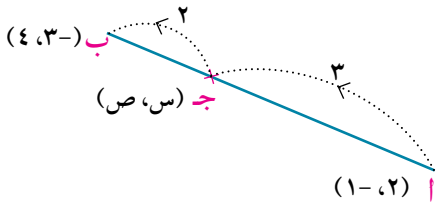
$$\left( \frac{٣ \overline{OA} + ٢ \overline{OB}}{٣+٢} \right) = (س، ص)$$

ومنها ينتج أن:

مثال

٢ حل المثال السابق باستخدام الصيغة الإحداثية.

الحل



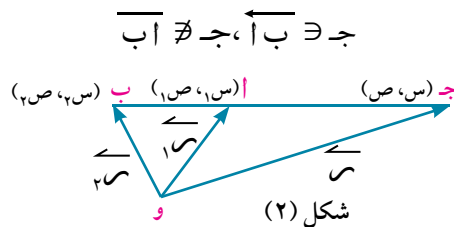
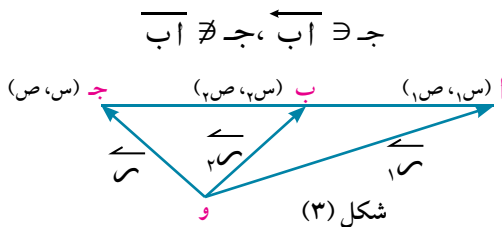
$$(س، ص) = \left( \frac{٤ \times ٣ + ١ \times ٢}{٣+٢} , \frac{٣ \times ٣ + ٢ \times ٢}{٣+٢} \right) = (٢، ١)$$

حاول أن تحل

١ إذا كانت أ (٤، ٢) ، ب (٨، ٦) فأوجد إحداثيي النقطة ج التي تقسم  $\overline{AB}$  من الداخل بنسبة ١ : ٣

٢- التقسيم من الخارج

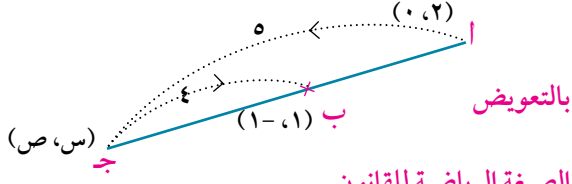
إذا كانت ج  $\notin \overline{AB}$  ، ج  $\notin \overline{AB}$  فإن ج تقسم  $\overline{AB}$  من الخارج بنسبة ل<sub>٢</sub> : ل<sub>١</sub> حيث  $\frac{ل_2}{ل_1} > ٠$  وبالتالي تكون إحدى القيمتين ل<sub>١</sub> أو ل<sub>٢</sub> موجبة والأخرى سالبة، ويكون هناك احتمالان، والأشكال التالية توضح ذلك:



### مثال

٣ إذا كانت أ (٠، ٢)، ب (١، -١) فأوجد إحداثيي النقطة ج التي تقسم  $\overline{AB}$  من الخارج بنسبة ٥ : ٤.

الدل

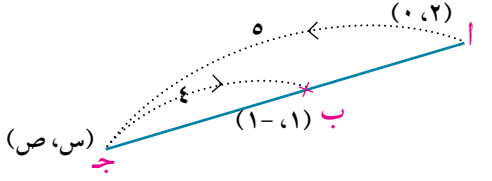


$$\begin{aligned} \therefore \overrightarrow{CA} &= \overrightarrow{CA}, \overrightarrow{CB} = \overrightarrow{CB} \\ \therefore \overrightarrow{CA} &= \overrightarrow{CB} \\ \therefore \overrightarrow{CA} &= \overrightarrow{CB} \\ \therefore \overrightarrow{CA} &= \overrightarrow{CB} \\ \therefore \overrightarrow{CA} &= \overrightarrow{CB} \\ \therefore \overrightarrow{CA} &= \overrightarrow{CB} \end{aligned}$$

بالتوزيع  
بالجمع والتبسيط

الصيغة الإحداثية:

$$\begin{aligned} \left( \frac{1 \times 0 + 0 \times 4 - 1 \times 5 + 2 \times 4}{0 + 4 - 5}, \frac{1 \times 0 + 2 \times 4 - 0 \times 5 + 1 \times 4}{0 + 4 - 5} \right) &= (س, ص) \\ (0 - 3, -) &= \end{aligned}$$



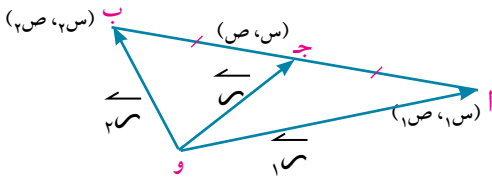
للملاحظة: إذا كانت ج منتصف  $\overline{AB}$  حيث أ (١، ١)، ب (٢، ٢) ص (١، ١) و (٢، ٢) ص (١، ١) و (٢، ٢)

فإن:  $ل = ل = ل$  (ل مثلاً) ويكون

$$\frac{\overrightarrow{CA}}{ل} + \frac{\overrightarrow{CB}}{ل} = \overrightarrow{CA} + \overrightarrow{CB} = \overrightarrow{CA} + \overrightarrow{CB}$$

الصيغة المتجهة

$$\left( \frac{2ص + 1ص}{2}, \frac{2س + 1س}{2} \right) = (س, ص) \text{ الصيغة الإحداثية}$$



حاول أن تحل

٢ إذا كان ج (٤، ٢) منتصف  $\overline{AB}$  حيث أ (٤، ٢)، ب (١، ١) أوجد كلاً من س، ص

### Finding the ratio of Division

ثانياً: إيجاد نسبة التقسيم

إذا كانت النقطة ج تقسم  $\overline{AB}$  بنسبة  $ل : ل$  وكان:

١- نسبة التقسيم  $\frac{ل}{ل} < ٠$  كان التقسيم من الداخل.

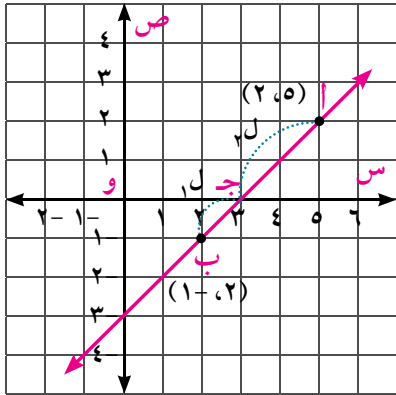
٢- نسبة التقسيم  $\frac{ل}{ل} > ٠$  كان التقسيم من الخارج.

### مثال

٤ إذا كانت أ (٢، ٥)، ب (١، -٢) فأوجد النسبة التي تنقسم بها  $\overline{AB}$  بكل من نقط تقاطع  $\overline{AB}$  مع محوري

الإحداثيات، مبيناً نوع التقسيم في كل حالة، ثم أوجد إحداثيي نقطة التقسيم.

## الحل



أولاً: نفرض أن محور السينات يقطع  $\overline{AB}$  في النقطة جـ (س، ٠).

$$\text{حيث جـ ب} = \frac{\text{جـ ل}}{\text{ل}} = \frac{\text{ل}}{\text{ل}} \text{ فيكون: ص} = \frac{\text{ل}}{\text{ل} + \text{ل}} = \frac{\text{ل}}{\text{ل} + \text{ل}}$$

$$\frac{\text{ل} - \text{ل} \cdot 2}{\text{ل} + \text{ل}} = \frac{(1 - 2) \cdot \text{ل} + (2) \cdot \text{ل}}{\text{ل} + \text{ل}} = 0 \therefore$$

$$\frac{2}{1} = \frac{\text{ل}}{\text{ل}} \therefore \text{ل} = \text{ل} \cdot 2 \therefore$$

$$\frac{\text{ل}}{\text{ل}} < 2 \therefore$$

∴ التقسيم من الداخل بنسبة ٢ : ١ .

$$\therefore \text{إحداثيا جـ هما } \left( 0, \frac{2 \times 2 + 5 \times 1}{2 + 1} \right) \text{ أي } \left( 0, \frac{2 \times 2 + 5 \times 1}{2 + 1} \right)$$

ويكون إحداثيا نقطة جـ هما (٠، ٣)

ثانياً: المستقيم يقطع محور الصادات في النقطة و

نفرض أن إحداثيي النقطة و هما (٠، ص)

$$\text{حيث و ب} = \frac{\text{و ل}}{\text{ل}} = \frac{\text{و}}{\text{ل}} \text{ فيكون } \text{س} = \frac{\text{و ل}}{\text{ل} + \text{ل}}$$

$$\frac{2 \times \text{و ل} + 5 \times \text{و}}{\text{ل} + \text{ل}} = 0 \therefore$$

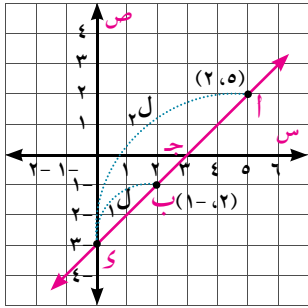
$$\frac{5}{2} = \frac{\text{و ل}}{\text{ل}} \therefore \text{ل} = 2 \cdot \text{و} = 2 \cdot 0 = 0$$

$$\frac{\text{و ل}}{\text{ل}} > 0 \therefore$$

∴ التقسيم من الخارج بنسبة ٢ : ٥ .

$$\therefore \text{إحداثيا نقطة و هما } (0, 0) \text{ أي } \left( \frac{1 - 5 + 2 \times 2}{5 + 2}, 0 \right)$$

∴ إحداثيا و هما (٠، ٣)



**فكر:** في المثال السابق استخدم الصورة المتجهة لإيجاد النسبة التي تنقسم بها  $\overline{AB}$  بمحوري الإحداثيات، ثم أوجد إحداثيي نقطة التقسيم.

## حاول أن تحل

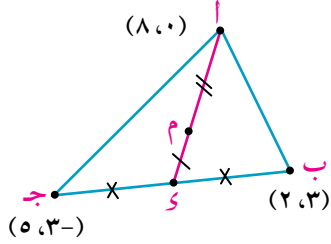
٣ إذا كانت أ (٣، ٤)، ب (٦، ٨)، جـ  $\exists \overline{AB}$  حيث جـ (س، ٠)، فأوجد النسبة التي تنقسم بها  $\overline{AB}$  بالنقطة جـ مبيئاً نوع التقسيم، ثم أوجد قيمة س.

## تحقق من فهمك

- ١ إذا كانت أ (٣، ٠)، ب (٦، ٣) فأوجد إحداثيي النقطة جـ التي تقسم  $\overline{AB}$  من الداخل بنسبة ١ : ٢
- ٢ **الربط بالمسافة:** تتحرك سيارة نقل ركاب في طريقها من المدينة أ إلى المدينة ب حيث أ (٥، ٦)، ب (١، ٠) وتوقفت مرتين أثناء سيرها. أوجد إحداثيات النقطتين التي توقفت عندهما السيارة إذا كانت:
  - أ توقفت في منتصف الطريق.
  - ب توقفت في ثلثي الطريق من جهة النقطة أ.

## تمارين (٤ - ١)

### أولاً: أكمل ما يأتي

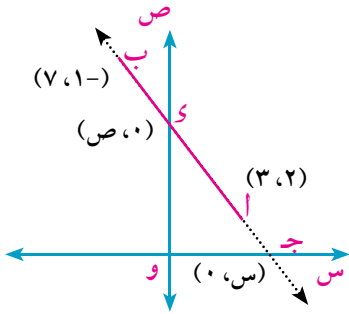


١ في الشكل المقابل:  $\overline{AM}$  متوسط في  $\triangle ABC$ ، م نقطة تلاقي

المتوسطات، حيث أ  $(8,0)$ ، ب  $(2,3)$ ، ج  $(0,3)$

أ إحداثي نقطة م هي (.....،.....)

ب إحداثي نقطة م هي (.....،.....)



٢ في الشكل المقابل: إذا كانت أ  $(3,2)$ ، ب  $(7,-1)$ ، ج، و نقطتين

تقعان على محوري الإحداثيات

أ ج تقسم  $\overline{AB}$  من ..... ونسبة التقسيم هي ..... :

ب و تقسم  $\overline{AB}$  من ..... ونسبة التقسيم هي ..... :

ج إحداثي نقطة ج هي (.....،.....)

د إحداثي نقطة د هي (.....،.....)

### ثانياً: أجب عن الأسئلة الآتية

٣ إذا كانت أ  $(8,-4)$ ، ب  $(2,-1)$  فأوجد إحداثي النقطتين اللتين تقسمان  $\overline{AB}$  إلى ثلاثة أجزاء متساوية في

الطول ..... ، .....

٤ إذا كانت أ  $(1,3)$ ، ب  $(5,2)$  أوجد إحداثيات النقطة ج التي تقسم  $\overline{AB}$  من الداخل بنسبة ٣ : ٢

٥ إذا كانت أ  $(3,1)$ ، ب  $(2,-4)$  أوجد إحداثي النقطة ج إذ كانت ج  $\exists \overline{AB}$  بحيث ٣ أج = ٢ ج ب

٦ إذا كانت أ  $(5,2)$ ، ب  $(1,-7)$ ، أوجد إحداثي النقطة ج التي تقسم  $\overline{AB}$  من الخارج بنسبة ٢ : ٣

٧ إذا كانت ج  $\exists \overline{AB}$ ، ج  $\notin \overline{AB}$  وكانت أ  $(1,3)$ ، ب  $(2,4)$  وكان أج = ٢ أب. أوجد إحداثي نقطة ج.

٨ إذا كانت أ، ب، ج ثلاث نقط تقع على استقامة واحدة حيث أ  $(5,2)$ ، ب  $(2,5)$ ، ج  $(4,ص)$ . أوجد النسبة التي تقسم بها النقطة ج القطعة المستقيمة الموجهة  $\overline{AB}$  مبيئاً نوع التقسيم، ثم أوجد قيمة ص.

## معادلة الخط المستقيم

### Equation of the straight line



سبق أن درست المعادلة العامة للخط المستقيم وهي:

$أس + ب ص + ج = ٠$  حيث  $أ، ب$  (كلاهما معاً)  $٠ \neq$  ومثلتها بيانياً بخط مستقيم.

بين أي من العلاقات التالية تمثل خطاً مستقيماً:

أ  $٣س - ٢ص = ٥$       ب  $ص = \sqrt{س} + ١$       ج  $ص = ٣$

د  $٠ = ٣\sqrt{س} - ٢ص$       ه  $ص + \frac{١}{س} = ٢$       و  $١ = \frac{ص}{٣} - \frac{س}{٣}$

**لاحظ أن** المعادلة  $أس + ب ص + ج = ٠$  حيث  $أ، ب$  لا يساويان الصفر معا تسمى بالصورة العامة لمعادلة الخط المستقيم.

**١-** إذا كان  $ب = ٠$  ،  $أ \neq ٠$  فإن:  $أس + ج = ٠$

**أي أن:**  $س = -\frac{ج}{أ}$  وهي معادلة مستقيم موازي لمحور الصادات

ويمر بالنقطة  $(-\frac{ج}{أ}, ٠)$

**٢-** إذا كان  $أ = ٠$  ،  $ب \neq ٠$  فإن:  $ب ص + ج = ٠$

**أي أن:**  $ص = -\frac{ج}{ب}$  وهي معادلة مستقيم موازي لمحور السينات

ويمر بالنقطة  $(٠, -\frac{ج}{ب})$

**٣-** إذا كان  $ج = ٠$  فإن:  $أس + ب ص = ٠$

وهي معادلة مستقيم يمر بنقطة الأصل.

#### حاول أن تحل

١) أي من المستقيمات الآتية يكون موازيا لمحور الصادات، وأيها يكون موازيا

لمحور السينات، وأيها يمر بنقطة الأصل، ثم أوجد إحداثيات نقاط التقاطع

مع محوري الإحداثيات (إن وجدت).

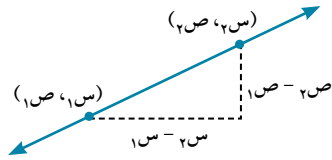
أ  $٠ = ٣ + ٢س$       ب  $٠ = ٣ + س$

ج  $٠ = ٢س + ٣$       د  $٠ = ٥ - ص$

**تفكير ناقد:** إذا كان  $ل$  خطاً مستقيماً، ق نقطة في المستوى، ق  $\neq ل$

فكم عدد المستقيمات التي تمر بالنقطة ق وتوازي الخط المستقيم ل؟ ق

## Slope of a straight line



سبق أن عرفت أنه يلزم لتعيين الخط المستقيم تعييناً تاماً شرطان مثل نقطة معلومة ، ميل الخط المستقيم، كما علمت أن ميل الخط المستقيم (م) المار

$$\frac{ص₂ - ص₁}{س₂ - س₁}$$

بالنقطتين (س₁، ص₁)، (س₂، ص₂) يساوي

**ملاحظة (١)** إذا كان ل<sub>١</sub> // ل<sub>٢</sub> فإن م<sub>٢</sub> = م<sub>١</sub>

أي أنه إذا توازي مستقيمان فإن ميلهما يكونان متساويين، وعكس ذلك صحيح.

**(٢)** إذا كان ل<sub>١</sub> ⊥ ل<sub>٢</sub> فإن م<sub>١</sub> × م<sub>٢</sub> = -١

أي أنه حاصل ضرب ميلي المستقيمين المتعامدين = -١ وعكس ذلك صحيح.

حاول أن تحل

٢ أوجد ميل الخط المستقيم المار بكل زوج من النقط التالية، وبين أيًا من هذه المستقيمات متوازيًا وأيها

متعامد:

- أ (١، ٣)، (٥، ٢-)  
ب (٠، ٤)، (١-، ٢)  
ج (١-، ٧)، (٣-، ٣)  
د (٢-، ٥-)، (٣، ١-)

تعلم

## Direction vector of a straight line

## متجه اتجاه المستقيم

كل متجه غير صفري يمكن تمثيله بقطعة مستقيمة موجهة على خط مستقيم يسمى متجه اتجاه للخط المستقيم ل

فإذا كانت النقاط أ، ب، ج ∃ فإن  $\vec{AB}$ ،  $\vec{BC}$ ،  $\vec{CA}$  متجهات اتجاه للخط المستقيم.



فمثلاً: إذا كان  $\vec{u} = (١، ٢)$  متجه اتجاه للمستقيم

فإن كلاً من المتجهات (٢، ٤)، (١-، ٢-)، (١، ١) ... متجه اتجاه لهذا المستقيم.

وبوجه عام إذا كان  $\vec{u} = (أ، ب)$  متجه اتجاه للمستقيم

فإن ك  $\vec{u}$  حيث  $\exists$  ح - {٠} متجه اتجاه لنفس المستقيم. لماذا؟

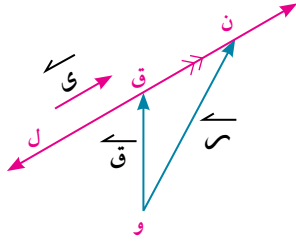
حاول أن تحل

٣ إذا كان  $\vec{u} = (٣، ٢)$  متجه اتجاه لمستقيم فأى مما يأتي يكون متجه اتجاه لنفس المستقيم؟

- أ (٣، ٢-)  
ب (٣-، ٢-)  
ج (٣، ٢)  
د (٩، ٦)

## معادلة المستقيم بمعلومية نقطة عليه و متجه الاتجاه له

## أولاً: الصيغة المتجهة Vector form



لتعيين معادلة الخط المستقيم المار بالنقطة ق، والمتجه  $\vec{u}$  متجه اتجاه له، نفرض نقطة ن تقع على الخط المستقيم ل.

وأن  $\vec{r}$ ،  $\vec{c}$  هما المتجهان الممثلان بالقطعتين المستقيمتين الموجهتين  $\vec{u}$ ،  $\vec{c}$  على الترتيب، حيث و أي نقطة في المستوى.

إذن، يوجد عدد ك  $\in \mathbb{R}$  بحيث أن  $\vec{r} = \vec{c} + k\vec{u}$

$$\vec{r} = \vec{c} + k\vec{u}$$

تسمى هذه الصورة بالمعادلة المتجهة للخط المستقيم ل المار بالنقطة ق، والمتجه  $\vec{u}$  متجه اتجاه له.

## مثال

١ اكتب المعادلة المتجهة للمستقيم الذي يمر بالنقطة  $(2, -3)$  و متجه الاتجاه له  $(1, 2)$ .

## الحل

بفرض أن المستقيم يمر بالنقطة ق  $(2, -3)$ ،  $\vec{c} = (2, -3)$

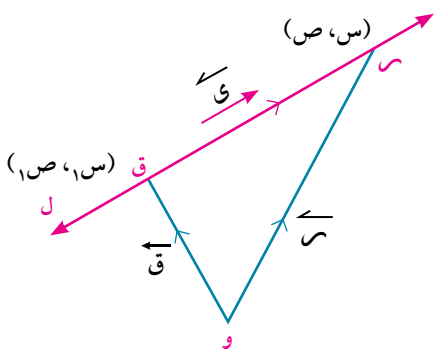
$\therefore \vec{r} = \vec{c} + k\vec{u}$  الصورة المتجهة لمعادلة المستقيم.

$\therefore$  المعادلة المتجهة للمستقيم هي  $\vec{r} = (2, -3) + k(1, 2)$ .

## حاول أن تحل

٤ اكتب المعادلة المتجهة للمستقيم الذي يمر بالنقطة  $(-4, 3)$  و متجه الاتجاه له  $(2, 5)$ .

## The parametric equations



## ثانياً: المعادلات الوسيطية (البارامترية)

المعادلة المتجهة هي  $\vec{r} = \vec{c} + k\vec{u}$

إذا كانت ق  $(s_1, s_2)$ ،  $\vec{r} = (s_1, s_2)$  بالنسبة لنظام إحداثي متعامد،

و نقطة الأصل، وكان  $\vec{u} = (a, b)$

فإن معادلة المستقيم هي  $(s_1, s_2) = (c_1, c_2) + k(a, b)$

ومنها ينتج أن:  $s_1 = c_1 + ka$ ،  $s_2 = c_2 + kb$

وهما المعادلتان الوسيطيتان للخط المستقيم المار بالنقطة  $(s_1, s_2)$

والمتجه  $\vec{u} = (a, b)$  متجه اتجاه له. حيث  $k \in \mathbb{R}$ .

## مثال

٢ اكتب المعادلتين الوسيطيتين (البارامتريتين) للمستقيم الذي يمر بالنقطة (٤، ٣) و متجه اتجاهه له (٢، ٣).

الدل

فترض أن ق (٤، ٣)  $\exists$  للمستقيم ل ،  $\vec{C} = (٣، ٢)$

∴ المعادلة المتجهة للمستقيم ل هي (س، ص) = (٣-٤، ٣) + ك (٢، ٣)

وتكون المعادلتان س = ٤ + ٢ ك ، ص = ٣ + ٣ ك

الصورة المتجهة

المعادلتان البارامتريتان

حاول أن تحل

٥ اكتب المعادلتين البارامتريتين للمستقيم الذي يمر بالنقطة (٠، ٥) و متجه الاتجاه له هو (-١، ٤).

## Cartesian Equation

## ثالثًا: المعادلة الكارتيزية

بحذف ك من المعادلتين البارامتريتين: س = س<sub>١</sub> + ك أ ، ص = ص<sub>١</sub> + ك ب

نحصل على المعادلة:  $\frac{س - س_١}{ب} = \frac{ص - ص_١}{أ}$  أي أن:  $\frac{ب}{أ} = \frac{ص - ص_١}{س - س_١}$

وبوضع  $\frac{ب}{أ} = م$  (حيث م هو ميل المستقيم) فإن المعادلة تصبح على الصورة:  $م = \frac{ص - ص_١}{س - س_١}$

## مثال

٣ أوجد المعادلة الكارتيزية للخط المستقيم الذي يمر بالنقطة (٣، -٤) و متجه الاتجاه له (٢، -١)

الدل

ميل المستقيم م =  $\frac{ب}{أ}$

معادلة المستقيم بمعلومية ميله ونقطة تنتمي إليه.

بالتعويض عن م =  $\frac{١}{٣}$ ، س<sub>١</sub> = ٣، ص<sub>١</sub> = -٤

حاصل ضرب الطرفين = حاصل ضرب الوسطين.

الصورة العامة.

م =  $\frac{١}{٢}$

م =  $\frac{ص - ص_١}{س - س_١}$

$\frac{١}{٢} = \frac{ص - (-٤)}{س - ٣}$

٢ ص + ٨ = ٣ س + ٦

س + ٢ = ٥ + ٠

حاول أن تحل

٦ أوجد المعادلة الكارتيزية للخط المستقيم الذي يمر بالنقطة (٣، -٤) و يصنع زاوية قياسها ٤٥° مع الاتجاه

الموجب لمحور السينات.

**تفكير ناقد:** أوجد المعادلات المتجهة والمعادلات الكارتيزية للخط المستقيم

المر بالنقطة (س<sub>١</sub>، ص<sub>١</sub>) و متجه الاتجاه له  $\vec{C} = (أ، ب)$  في الحالات الآتية:

أولاً: إذا كان المستقيم يوازي محور الصادات.

ثانياً: إذا كان المستقيم يوازي محور السينات.

ثالثاً: إذا كان المستقيم يمر بنقطة الأصل.

معلومات إضافية

متجه اتجاه المستقيم الذي

يمر بنقطة الأصل والنقطة

(س<sub>١</sub>، ص<sub>١</sub>) هو

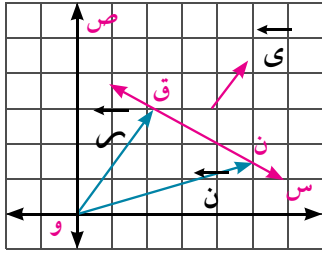
$\vec{C} = (س_١، ص_١)$

وميله هو  $\frac{ص_١}{س_١}$



The perpendicular direction vector of a straight line

## متجه اتجاه العمودي للمستقيم



إذا كان  $\vec{y} = (a, b)$  متجه اتجاه مستقيم فإن أيًا من عائلة المتجهات التي على الصورة  $\vec{z} = (-b, a)$  حيث  $\exists c - \{0\}$  يكون متجه اتجاه العمودي على المتجه  $\vec{y}$ .

وبالعكس إذا كان  $\vec{z} = (-b, a)$  عمودياً على خط مستقيم فإن أيًا من عائلة المتجهات التي على الصورة  $\vec{z} = (-b, a)$  حيث  $\exists c - \{0\}$  يكون متجه اتجاه المستقيم.

فمثلاً: إذا كان  $\vec{y} = (2, 3)$  متجه اتجاه للمستقيم فإن متجه اتجاه العمودي له هو  $(-3, 2)$ ،  $(2, -3)$ ،  $(-6, 4)$ ، ...

## حاول أن تحل

٧ إذا كان  $\vec{y} = (1, \frac{1}{2})$  متجه اتجاه للمستقيم فإن جميع المتجهات التالية عمودية على المستقيم عدا المتجه:

- أ  $(\frac{1}{2}, -1)$     ب  $(1, -2)$     ج  $(\frac{1}{2}, -1)$     د  $(2, -4)$

## مثال

٤ إذا كان المستقيم الذي يمر بالنقطة  $ق(5, 3)$  والمتجه  $(-1, 2)$  عمودي عليه فأوجد:  
أ المعادلة المتجهة للمستقيم.    ب المعادلة الكارتيزية للمستقيم.

## الحل

أ: المستقيم المار بالنقطة  $ق(5, 3)$  عمودي على المتجه  $(-1, 2)$ .

∴ متجه اتجاه المستقيم هو  $\vec{y} = (1, 2)$ .

∴ المعادلة المتجهة للمستقيم هي:  $\vec{r} = \vec{ق} + \vec{ك}$

∴  $\vec{r} = (5, 3) + \vec{ك}(1, 2)$

ب: معادلة المستقيم الذي ميله  $م$  ويمر بالنقطة  $(س_1, ص_1)$  هي:  $م = \frac{ص - ص_1}{س - س_1}$

∴  $\frac{ص - 3}{س + 5} = \frac{1}{2}$  بالتعويض عن  $م = \frac{1}{2}$  وإحداثي النقطة  $(5, 3)$ .

∴  $س + 5 = 2(ص - 3)$

وتكون  $س - 2 = 3 + 5 = 8$  هي المعادلة الكارتيزية للمستقيم.

فكر: أوجد المعادلة الكارتيزية لنفس المستقيم، وذلك بحذف  $ك$  من المعادلتين البارامتريتين.

## حاول أن تحل

٨ إذا كان المستقيم المار بالنقطة  $و(2, 3)$  عمودياً على المتجه  $\vec{y} = (-1, 2)$  فأوجد:

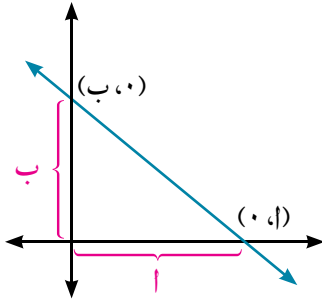
- أ المعادلة المتجهة للمستقيم.    ب المعادلتين البارامتريتين للمستقيم.  
ج المعادلة الكارتيزية للمستقيم.

## معادلة المستقيم بمعلومية الجزئين المقطوعين من محوري الإحداثيات

The Equation of the straight line in terms of the two intercept parts from the two axes

نعلم أن معادلة المستقيم الذي ميله (م) ويقطع جزءاً من محور الصادات طوله ب هي:  $ص = م س + ب$ 

من الشكل المقابل

نجد أن ميل المستقيم المار بالنقطتين (أ، ٠)، (٠، ب) هو:  $م = \frac{ب - ٠}{٠ - ا}$  (لماذا؟)

معادلة المستقيم بمعلومية الميل ونقطة

$$ص - ص_١ = م(س - س_١)$$

بالتعويض عن إحداثي نقاط التقاطع

$$ص - ٠ = م(س - ا)$$

حاصل ضرب الطرفين = حاصل ضرب الوسطين

$$ص = م(س - ا)$$

بقسمة الطرفين على ب

$$\frac{ص}{ب} = \frac{م(س - ا)}{ب}$$

$$١ = \frac{ص}{ب} + \frac{س}{ا}$$

## مثال

٥ أوجد طولى الجزئين المقطوعين من المحورين بالمستقيم:  $٠ = ١٢ - ص + ٤س + ٣$ 

الحل

$$بوضع المعادلة على الصورة  $١ = \frac{ص}{ب} + \frac{س}{ا}$$$

$$\therefore ١ = \frac{ص}{٤} + \frac{س}{٣} \text{ (لماذا؟)}$$

∴ طولوا الجزأين المقطوعين من المحورين السيني والصادى هما ٤، ٣ على الترتيب

## حاول أن تحل

٩ أوجد طولى الجزأين المقطوعين من المحورين بالمستقيم:  $١٥ = ص - ٣س$ 

## تحقق من فهمك

أوجد المعادلة العامة للمستقيم فى الحالات الآتية:

أ يقطع محورى الإحداثيات فى النقطتين (٠، ٣)، (٤، ٠).

ب يمر بالنقطة (١، ٣) ويوازي المستقيم  $٢س - ٣ص + ٧ = ٠$ 

ج يمر بالنقطة (٠، ١) و متجه الاتجاه له (٢، ٣)

## تمارين (٤ - ٢)

أولاً: أكمل ما يأتي:

- ١ إذا توازى المستقيم المار بالنقطتين (٠، ٣) ، (٢، ٠) والمستقيم ص = أ س - ٣ فإن أ تساوي
- ٢ المعادلة المتجهة للمستقيم الذى يمر بالنقطة (٣، ٥) و يوازي محور السينات هي
- ٣ المعادلة الكارتيزية للمستقيم الذى يمر بالنقطة (-٢، ٧) و يوازي محور الصادات هي
- ٤ المعادلة المتجهة للمستقيم الذى يمر بنقطة الأصل و بالنقطة (١، ٢) هي
- ٥ معادلة المستقيم الذى يصنع مع الاتجاه الموجب لمحور السينات زاوية قياسها ٤٥° و يقطع جزءاً موجباً من محور الصادات مقداره ٥ وحدات هي
- ٦ المعادلة الكارتيزية للمستقيم الذى يقطع من المحورين السيني والصادي جزأين موجبين مقدارهما ٢ ، ٣ على الترتيب هي
- ٧ مساحة سطح المثلث المحدد بمحور السينات ومحور الصادات والمستقيم ٢ س + ٣ ص = ٦ تساوي

ثانياً: أجب عن الأسئلة الآتية

- ٨ إذا كانت أ (٢، ٣) ، ب (٦، ٥) ، ج (٢، ١) فأوجد ميل كل من المستقيمات الآتية:  
 $\overleftrightarrow{AB}$  ،  $\overleftrightarrow{AJ}$  ،  $\overleftrightarrow{BJ}$  ، .....
- ٩ إذا كانت معادلتا المستقيمين ل<sub>١</sub> ، ل<sub>٢</sub> هما على الترتيب ٢ س - ٣ ص + ١ = ٠ ، ٣ س + ١ = ٠ ، فأوجد:  
 أ ميل المستقيم ل<sub>١</sub>  
 ب قيمة ب التى تجعل ل<sub>١</sub> ، ل<sub>٢</sub> متوازيين  
 ج قيمة ب التى تجعل ل<sub>١</sub> ، ل<sub>٢</sub> متعامدين  
 د إذا كانت النقطة (٣، ١) تمر بالمستقيم ل<sub>١</sub> فأوجد قيمة أ.
- ١٠ إذا كان المستقيم أ س - ٤ ص + ٥ = ٠ يصنع مع الاتجاه الموجب لمحور السينات زاوية ظلها ٠,٧٥ ، فأوجد قيمة أ.
- ١١ أوجد المعادلة المتجهة للخط المستقيم الذى ميله  $\frac{1}{3}$  و يمر بالنقطة (٢، -١).
- ١٢ أوجد المعادلتين البارامتريتين للمستقيم الذى يصنع مع الاتجاه الموجب لمحور السينات زاوية قياسها ٤٥° و يمر بالنقطة (٣، -٥).

- ١٣ أوجد المعادلة المتجهة للمستقيم الذى يمر بالنقطتين  $(٢، -٣)$ ،  $(٥، ١)$
- ١٤ أوجد المعادلة العامة للمستقيم الذى يمر بالنقطتين  $(٥، ٠)$ ،  $(٠، -٧)$
- ١٥ إذا كانت أ  $(٢، ٠)$ ، ب  $(٢، ١)$ ، ج  $(٢، -٣)$  ثلاث نقط في المستوى، فأوجد المعادلة المتجهة للخط المستقيم  $\overleftrightarrow{AB}$ ، ثم أثبت أن النقط أ، ب، ج تقع على استقامة واحدة.
- ١٦ إذا كانت أ  $(٥، -٦)$ ، ب  $(٣، ٧)$ ، ج  $(١، -٣)$ ، فأوجد معادلة المستقيم الذى يمر بالنقطة أ وينصف  $\overline{BC}$ .
- ١٧ أوجد المعادلة الكارتيزية للمستقيم المار بالنقطة  $(٣، -٥)$  ويوازي المستقيم  $s + ٢ = ٧ - v$ .
- ١٨ أوجد المعادلة المتجهة للمستقيم المار بالنقطة  $(٥، ٧)$  وعمودى على المستقيم  $\overleftrightarrow{MK} = (٣، ٠) + (٤، ٣)$
- ١٩ إذا كانت أ  $(١، ٤)$ ، ب  $(٤، -٦)$  فأوجد معادلة المستقيم الذى يمر بنقطة تقسيم  $\overline{AB}$  من الداخل بنسبة  $٣ : ٢$  ويكون عمودياً على المستقيم  $s - ٥ = ٤ - v = ١٢ = ٠$ .
- ٢٠ **الربط بالهندسة:**  $\overline{AB}$  قطر في دائرة مركزها م فإذا كان ب  $(٧، ١١)$ ، م  $(٢، -٣)$  فأوجد معادلة المماس للدائرة عند نقطة أ.
- ٢١ **الربط بالهندسة:** إذا قطع المستقيم  $s + ٣ = ٤ - v = ١٢ = ٠$  محوري الإحداثيات السيني والصادى في النقطتين أ، ب على الترتيب فأوجد:
- أ مساحة سطح  $\Delta$  وأب حيث و نقطة الأصل.
- ب معادلة المستقيم العمودى على  $\overline{AB}$  ويمر بنقطة منتصفها.

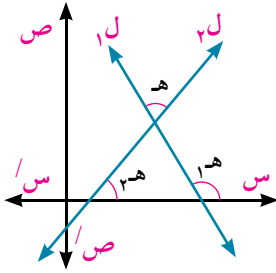
## قياس الزاوية بين مستقيمين

### Measure of the angle between two straight lines

تعلم

#### قياس الزاوية الحادة بين مستقيمين

##### Measure of the acute angle between two straight lines



إذا كانت هـ قياس الزاوية الحادة بين المستقيمين ل<sub>1</sub>، ل<sub>2</sub>،

الذين ميلاهما م<sub>1</sub>، م<sub>2</sub> فإن:

$$\text{ظاه} = \left| \frac{m_2 - m_1}{m_2 m_1 + 1} \right| \quad \text{حيث } m_1 m_2 \neq -1$$

مثال

١ أوجد قياس الزاوية الحادة بين كل زوج من أزواج المستقيمت الآتية

$$3s - 4v - 11 = 0, \quad 5v + 7s + 5 = 0$$

الحل

أ نوجد ميل كل من المستقيمين:

$$m_1 = \frac{3}{4} = \frac{3}{4}$$

$$m_2 = \frac{1}{7} = \frac{1}{7}$$

$$\text{ظاه} = \left| \frac{m_2 - m_1}{m_2 m_1 + 1} \right|$$

$$\text{ظاه} = \left| \frac{\left(\frac{1}{7}\right) - \frac{3}{4}}{\left(\frac{1}{7}\right) \frac{3}{4} + 1} \right| \quad \text{بالتعويض عن قيمتي } m_1, m_2$$

$$1 = \left| \frac{\frac{4+21}{28}}{\frac{3-28}{28} - 1} \right| = \left| \frac{\frac{1}{7} + \frac{3}{4}}{\frac{3}{28} - 1} \right| =$$

$$هـ = 45^\circ$$

تعبير شفهي: اذكر العلاقة بين المستقيمين ل<sub>1</sub>، ل<sub>2</sub> في الحالات الآتية:

أ إذا كان ظل الزاوية بينهما يساوي صفرًا.

ب إذا كان ظل الزاوية بينهما غير معرف.

ج إذا كان ميل الأول م<sub>1</sub> وميل الثاني م<sub>2</sub> فاذا كانت العلاقة بين م<sub>1</sub>، م<sub>2</sub> في (أ)، (ب).

تذكر

ميل الخط المستقيم

$$اس + ب ص + ج = 0$$

يساوي  $-\frac{ب}{ص}$

ميل المستقيم الأول

ميل المستقيم الثاني

صيغة القانون

## حاول أن تحل

١ أوجد قياس الزاوية الحادة بين كل زوج من أزواج المستقيمات الآتية:

أ  $\overleftrightarrow{rs}$  ،  $(2, 0) + \overleftrightarrow{sk} (1, 3)$  ،  $\overleftrightarrow{rs} = (5, 0) + \overleftrightarrow{sk} (2, 1)$

ب  $0 = 3 + 2ص$  ،  $0 = 1 + 3ص$  ،  $3 = 2ص$  ،  $2ص + 3 = 4$

## مثال

٢ الربط بالهندسة: أ ب ج مثلث فيه أ (٥، ٠)، ب (١، ٢)، ج (٣، ٦) أثبت أن المثلث متساوي الساقين،

ثم أوجد قياس زاوية أ.

## الحل

البعد بين نقطتين  $\sqrt{(1ص - 2ص)^2 + (1س - 2س)^2}$  صيغة القانون

$$أ ب = \sqrt{((1-) - 0)^2 + (2 - 0)^2} = \sqrt{1 + 4} = \sqrt{5}$$

$$أ ج = \sqrt{(3 - 0)^2 + (6 - 0)^2} = \sqrt{9 + 36} = \sqrt{45}$$

$$ب ج = \sqrt{(3 - 1)^2 + (6 - 2)^2} = \sqrt{4 + 16} = \sqrt{20}$$

المثلث متساوي الساقين؛ لأن أ ب = أ ج

نلاحظ أن (ب ج) > (أ ب) + (أ ج)

أي أن  $\angle أ$  حادة

$$3 - = \frac{(1-) - 0}{2 - 0} = 1م$$

$$1 - = \frac{3 - 0}{6 - 0} = 2م$$

$$\left| \frac{2م - 1م}{2م + 1م} \right| = \text{ظا هـ}$$

$$\frac{4}{3} = \left| \frac{(\frac{1}{2} -) - 3 -}{(\frac{1}{2} -) (3 -) + 1} \right| = \text{ظا أ}$$

$$ق (\angle أ) = 53^\circ$$

### لادظ

عند استخدام قانون الزاوية بين مستقيمين في إيجاد قياس زاوية داخلية لمثلث يجب أولاً تحديد نوع الزاوية (حادة - قائمة - منفرجة)

ميل أب

ميل أج

صيغة القانون

بالتعويض عن قيمتي ٢م ، ١م

باستخدام الحاسبة

## حاول أن تحل

٢ في المثال السابق أوجد مساحة سطح المثلث أ ب ج لأقرب رقمين عشريين.

## تحقق من فهمك

١ أوجد قياس الزاوية الحادة المحصورة بين المستقيمين  $\overleftrightarrow{sk} (0, 2) + \overleftrightarrow{sk} (1, 2)$  ،  $\overleftrightarrow{rs} = (1, 3) + \overleftrightarrow{sk} (3, 6)$ .

٢ أوجد قياس الزاوية الحادة المحصورة بين المستقيم  $ص - 2ص + 3 = 0$  والمستقيم المار بالنقطتين

$$(1, 2) ، (4, 1)$$

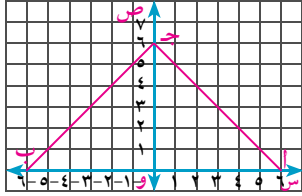
٣ أ ب ج مثلث فيه أ (٢، ٠)، ب (١، ٣)، ج (١، ٢). أوجد قياس زاوية أ

## تمارين (٤ - ٣)

### أولاً: أكمل ما يأتي

- ١ قياس الزاوية الحادة بين المستقيمين الذين ميلهما ٢ ،  $\frac{1}{3}$  تساوى
- ٢ قياس الزاوية بين المستقيمين  $s = 3$  ،  $v = 4$  تساوى
- ٣ قياس الزاوية الحادة بين المستقيم  $s = \sqrt{5}$  ،  $k(2, 2) + k(1, 1)$  والمستقيم  $s = 0$  هي
- ٤ إذا توازى المستقيمان  $s + 3v = 7$  ،  $2s - 3v = 5$  فإن  $0 = 5 + 3v$  تساوى
- ٥ إذا تعامد المستقيمان  $s + 7v = 9$  ،  $7s - 2v = 12$  فإن  $0 = 12 + 2v$  تساوى

### ثانياً: نشاط



يبين الشكل المقابل: قطعة أرض مثلثة الشكل إحداثيات رؤوسها هي  $A(0, 6)$  ،  $B(0, -6)$  ،  $C(6, 0)$  أكمل ما يأتي:

- ٦ قياس الزاوية الحادة بين  $\vec{AJ}$  ومحور السينات تساوى .....
- ٧ قياس الزاوية بين المستقيمين  $\vec{AJ}$  ،  $\vec{BJ}$  تساوى .....
- ٨ المعادلة المتجهة للمستقيم  $\vec{AJ}$  هي .....
- ٩ المعادلة المتجهة للمستقيم  $\vec{BJ}$  هي .....
- ١٠ المعادلة الكارتيزية للمستقيم المار بالنقطة  $J$  ، ويوازي  $\vec{AB}$  هي .....
- ١١ مساحة سطح المثلث  $ABJ$  تساوى .....

### ثالثاً: اختر الإجابة الصحيحة من بين الإجابات المعطاة

١٢ قياس الزاوية الحادة المحصورة بين المستقيم المار بالنقطتين  $(1, 0)$  ،  $(0, -1)$  والاتجاه الموجب لمحور السينات تساوى:

- أ صفر°      ب ٤٥°      ج ٦٠°      د ٩٠°

١٣ قياس الزاوية الحادة بين المستقيم  $s = \sqrt{5}$  ،  $k(3, 0) + k(1, 1)$  والمستقيم  $s = 0$  تساوى:

- أ ٣٠°      ب ٤٥°      ج ٦٠°      د ٩٠°

- ١٤) قياس الزاوية الحادة المحصورة بين المستقيمين  $\sqrt{3}$  س - ص = ٤ ، ص = ٣ تساوى
- أ) ٣٠°      ب) ٤٥°      ج) ٦٠°      د) ٩٠°

- ١٥) المستقيم العمودي على المستقيم  $\sqrt{3}$  س = (٥، ٠) + ك(٣، ١) يصنع مع الاتجاه الموجب لمحور السينات زاوية قياسها
- أ) ٣٠°      ب) ٦٠°      ج) ١٢٠°      د) ١٥٠°

#### رابعاً: أجب عن الأسئلة الآتية

- ١٦) أوجد قياس الزاوية الحادة بين أزواج كل من المستقيمات الآتية:
- أ)  $\sqrt{3}$  س = (٠، ٥) ، س - ص + ٤ = ٠
- ب)  $\sqrt{3}$  س = (١، ٠) + ك(١، ١) ، ٢ س - ص - ٣ = ٠
- ج)  $\sqrt{3}$  س - ٥ = ٠ ، س -  $\sqrt{3}$  ص - ٦ = ٠
- ١٧) أثبت أن المثلث أب ج قائم الزاوية في ب حيث أ(٢، ٥) ، ب(٢، ٢) ، ج(-٢، ١)، ثم احسب مساحة سطحه.

- ١٨) إذا كانت هـ هي قياس الزاوية الحادة بين المستقيمين س - ٦ ص + ٦ = ٠ ، أ س - ٢ ص + ٤ = ٠ وكانت ظا هـ =  $\frac{3}{4}$  فأوجد قيمة أ.

- ١٩) إذا كان ل: ١: ٣ - ص + ٧ = ٠ ، ل: ٢: ٤ + س + ٦ - ص - ٥ = ٠ ، ل: ٣:  $\frac{ص}{٣} - \frac{س}{٣} = ٣$  فأوجد قيمة أ التي تجعل:
- أ)  $ل_١ // ل_٢$
- ب)  $ل_١ \perp ل_٢$

- ٢٠) إذا كان قياس الزاوية الحادة بين المستقيمين س + ك ص - ٨ = ٠ ، ٢ س - ص - ٥ = ٠ يساوى  $\frac{\pi}{٤}$  فأوجد قيمة ك.

- ٢١) إذا كان المثلث أب ج قائم الزاوية في ب حيث أ(٣، ٢) ، ب(٧، ٥) ، ج(١، ص)، فأوجد قيمة ص ، ثم أوجد قياس كل من الزاويتين الأخرين.

- ٢٢)  $\Delta$  أب ج فيه أ(٧، ٥) ، ب(٥، ١) ، ج(٢، ٤)
- أ) أوجد إحداثي نقطة ك التي تقسم ب ج من الداخل بنسبة ١ : ٢
- ب) أثبت أن  $ا ب \perp ا ج$
- ج) أثبت أن  $ا ب = ا ج$
- د) أوجد  $\angle ب$
- هـ) أوجد مساحة سطح المثلث أب ج.



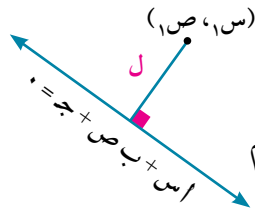
## طول العمود المرسوم من نقطة إلى خط مستقيم

The length of the perpendicular from a point to a straight line

تعلم

### إيجاد طول العمود المرسوم من نقطة معلومة إلى خط مستقيم

The length of the perpendicular from a point to a straight line



إذا كانت النقطة  $(s, s)$  لا تنتمي للمستقيم الذي

$$0 = ax + by + c$$

فإن طول العمود  $(l)$  المرسوم من هذه النقطة إلى المستقيم

$$l = \frac{|as + bs + c|}{\sqrt{a^2 + b^2}}$$

مثال

١ أوجد طول العمود المرسوم من النقطة  $(4, -5)$  إلى الخط المستقيم  $\overleftrightarrow{rs} = (2, 0) + t(3, 4)$ .

الحل

نفرض أن  $(s, s) = (2, 0) + t(3, 4)$

∴  $s = 2 + 3t$  ،  $s = 4t$  (المعادلتان الوسطيتان للمعادلة المتجهة)

$$\frac{s - 2}{3} = \frac{s}{4}$$

بحذف ك

حاصل ضرب الطرفين = حاصل ضرب الوسطين

$$4s - 8 = 3s$$

المعادلة الكارتيزية

$$s = 8$$

صيغة قانون طول العمود

$$l = \frac{|as + bs + c|}{\sqrt{a^2 + b^2}}$$

بالتعويض:  $a = 3$  ،  $b = 4$  ،  $c = -8$  ،  $s = 8$  ،  $t = 2$  ،  $s = -5$

$$l = \frac{|3(8) + 4(-5) - 8|}{\sqrt{3^2 + 4^2}} = \frac{|24 - 20 - 8|}{5} = \frac{4}{5}$$

$$8 = \frac{4}{5} = \frac{|40|}{20} = \frac{|8 + 20 + 12|}{16 + 9} = \frac{40}{25}$$

حاول أن تحل

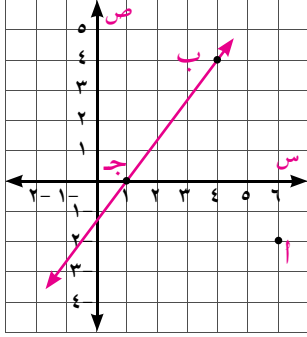
١ أوجد طول العمود المرسوم من النقطة  $(2, -5)$  إلى المستقيم:

$$\overleftrightarrow{rs} = (0, -1) + t(5, 12)$$

٢) **تعبير شفهي:** اكتب طول العمود المرسوم من النقطة إلى المستقيم م في الحالات الآتية:

أ)  $(0, 0)$  ، م :  $س + ب + ج = 0$

ب)  $(1, 1)$  ، م :  $ص = 0$  ج)  $(1, 1)$  ، م :  $س = 0$



صيغة الميل

بالتعويض بالنقطتين  $(0, 1)$  ،  $(4, 4)$

معادلة المستقيم بمعلومية الميل ونقطة عليه

بالتعويض عن  $م = \frac{4}{3}$

المعادلة الكارتيزية

صيغة قانون طول العمود

فيكون طول العمود المرسوم من النقطة  $A(2, -6)$  إلى المستقيم  $م : س - 3ص - 4 = 0$

هو :  $ل = \frac{|4 - 6 + 24|}{\sqrt{25}} = \frac{|4 - 2 - 3 - 6 + 4|}{\sqrt{3 + 24}} = \frac{1}{5}$  وحدة طول

باعتبار  $ب ج$  قاعدة للمثلث  $أ ب ج$

$\therefore ب ج = \sqrt{(1-2)^2 + (0-(-6))^2} = \sqrt{1 + 36} = \sqrt{37}$

$5 = \sqrt{(0-4)^2 + (1-4)^2}$  وحدات

مساحة سطح المثلث  $أ ب ج = \frac{1}{2} \times \text{طول القاعدة} \times \text{الارتفاع}$

$= \frac{1}{2} \times 5 \times \frac{1}{5} = 13$  وحدة مربعة

حاول أن تحل

٣) أوجد طول العمود المرسوم من النقطة  $(2, 5)$  إلى الخط المستقيم المار بالنقطتين  $(0, 4)$  ،  $(3, 0)$

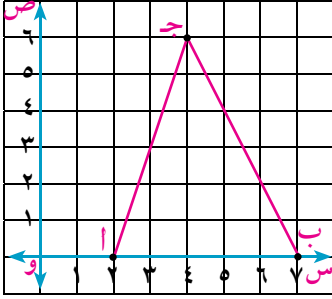
تحقق من فهمك

١) **طرق** طريقان متجاوران مسار الطريق الأول تمثله المعادلة  $س - 4ص - 7 = 0$  ومسار الطريق الثاني

تمثله المعادلة  $س - 3ص + 11 = 0$

أثبت أن الطريقين متوازيان، ثم أوجد أقصر بعد بينهما.

## تمارين (٤ - ٤)



أولاً: أكمل ما يأتي:

١ الشكل المقابل يبين منزل كريم أ (٢، ٠) والمدرسة ب (٧، ٠) والمسجد ج (٤، ٦): أكمل ما يأتي:

- أ معادلة  $\overrightarrow{AB}$  هي
- ب طول  $\overrightarrow{AB}$  يساوي
- ج أقصر بعد من المسجد ج إلى الطريق الواصل بين المنزل والمدرسة يساوي
- د قياس الزاوية الحادة المحصورة بين المستقيمين  $\overrightarrow{AJ}$  ،  $\overrightarrow{CS}$  تساوي ٠
- هـ م  $\triangle ABJ$  تساوي

ثانياً: الاختيار من متعدد

- ٢ طول العمود المرسوم من النقطة  $(-3, 5)$  إلى محور الصادات يساوي
- أ ٢      ب ٣      ج ٥      د ٨
- ٣ البعد بين المستقيمين  $ص - ٣ = ٠$  ،  $ص + ٢ = ٠$  يساوي
- أ ١      ب ٢      ج ٣      د ٥
- ٤ طول العمود المرسوم من النقطة  $(1, 1)$  إلى المستقيم  $س + ص = ٠$  يساوي
- أ ١      ب  $\sqrt{2}$       ج ٢      د  $2\sqrt{2}$
- ٥ إذا كان طول العمود المرسوم من النقطة  $(3, 1)$  إلى المستقيم  $س - ٤ = ص + ج = ٠$  يساوي ٢ وحدة طول فإن ج تساوي
- أ صفرًا      ب ٣      ج ٥      د ٧
- ٦ أوجد طول العمود المرسوم من النقطة أ إلى المستقيم ل في التمارين من أ إلى د
- أ  $(0, 0)$  ، ل :  $\overrightarrow{س} = (5, 0) + ك(4, 3)$
- ب  $(-2, 4)$  ، ل :  $١٢ = س + ٥ - ص - ٤٣ = ٠$
- ج  $(5, 2)$  ، ل :  $٨ = س + ١٥ - ص - ١٩ = ٠$
- د  $(-2, 1)$  ، ل :  $\overrightarrow{س} = (7, 0) + ك(2, 1)$
- ٧ أوجد طول نصف قطر الدائرة التي مركزها النقطة  $(-2, 5)$ ، وتمس المستقيم  $س + ٤ = ص + ١ = ٠$

٨ أوجد بعد النقطة (٥، ١) عن المستقيم الواصل بين النقطتين (٣، ٥)، (٠، ١)

٩ أثبت أن المستقيمين ٣س - ٤ص = ١٢، ٠ = ٦س - ٨ص + ٢١ = ٠ متوازيان، ثم أوجد البعد بينهما.

١٠ إذا كانت أ (٣، ٤)، ب (٥، ٢)، ج (-١، ٢) هي رؤوس المثلث أب ج، رسم  $\overline{ب د} \perp \overline{أ ج}$ .

أ أثبت أن  $\Delta$  أب ج متساوي الساقين

ب أوجد معادلة  $\overline{ب و}$

ج أوجد طول  $\overline{ب و}$

١١ أب ج و متوازي أضلاع، فإذا كانت أ (-٣، ٢)، ب (٣، ٢)، ج (٧، ٥) أوجد إحداثيي الرأس د، ثم أوجد مساحة سطح متوازي الأضلاع.

١٢ **الربط بالهندسة:** دائرة مركزها نقطة الأصل فيها وتران معادلتيهما ٤س - ٣ص + ١٠ = ٠، ٥س - ١٢ص + ٢٦ = ٠ أثبت أن الوترين متساويان في الطول.

١٣ **الربط بالهندسة:** أب ج و شبه منحرف فيه  $\overline{أ و} // \overline{ب ج}$ ، فإذا كانت أ (١، ٢)، ب (٣، ٥)، ج (١، ٦)، و (٤، ٥). أوجد قيمة ص، ثم أوجد مساحة شبه المنحرف أب ج و.

## المعادلة العامة للمستقيم المار بنقطة تقاطع مستقيمين

General equation of the straight line passing through the point of intersection of two lines



سبق أن درست كيفية إيجاد إحداثي نقطة تقاطع مستقيمين غير متوازيين  
 $a_1x + b_1y + c_1 = 0$  ،  $a_2x + b_2y + c_2 = 0$   
فهل يمكنك إيجاد معادلة عدة مستقيمت تمر بنقطة تقاطع المستقيمين السابقين؟



### المعادلة العامة للمستقيم المار بنقطة تقاطع مستقيمين معلومين

General equation of the straight line passing through the point of intersection of two given lines

∴ أى نقطة معلومة يمكن أن يمر بها عدد لانهاى من المستقيمت.  
∴ المعادلة التى تمثل جميع المستقيمت المارة بنقطة تقاطع المستقيمين.  
 $a_1x + b_1y + c_1 = 0$  ،  $a_2x + b_2y + c_2 = 0$  صفر هى:  
 $m(a_1x + b_1y + c_1) + l(a_2x + b_2y + c_2) = 0$  ،  $m \in \mathbb{R}$  ،  $l \in \mathbb{R}$  (1)  
فى حالة  $m = 0$  صفر تنتج معادلة المستقيم الثانى.  
فى حالة  $l = 0$  صفر تنتج معادلة المستقيم الأول.  
أما فى حالة  $m \neq 0$  ،  $l \neq 0$  صفر فنتج معادلة أى مستقيم يمر بنقطة التقاطع  
خلاف المستقيمين الأصليين، ويمكن فى هذه الحالة وضع المعادلة (1) على الصورة:

$$(2) \quad a_1x + b_1y + c_1 + k(a_2x + b_2y + c_2) = 0$$

مثال

١٤ أوجد معادلة المستقيم المار بالنقطة أ (-2، 4) وبنقطة تقاطع المستقيمين:

$$2x + 3y - 4 = 0 \quad ، \quad 2x - 5y = 0$$

## الحل

$$\begin{aligned} & \text{المعادلة العامة} \quad 0 = (أ س + ب ص + ج) \\ & \text{بالتعويض عن معادلة المستقيمين} \quad 0 = (2 س - 3 ص + 4) \\ & \text{بالتعويض عن س = -2 ، ص = 4} \quad 0 = (4 + 4 \times 3 - 2 \times 2) \\ & \text{بالتبسيط} \quad 0 = 12 - 1 \\ & \text{بالتعويض عن قيمة ك} \quad 0 = (4 + 3 ص - 2) \frac{1}{3} + 5 \\ & \text{بضرب طرفي المعادلة في 12} \quad 0 = 4 + 3 ص - 2 \\ & \text{بالتبسيط} \quad 0 = 56 - 21 ص \\ & \text{بقسمة طرفي المعادلة } \div 7 \quad 0 = 8 - 3 ص \end{aligned}$$

## حاول أن تحل

١ أوجد معادلة المستقيم المار بالنقطة أ (٢، ١) وبنقطة تقاطع المستقيمين:  $7س + 3ص = 0$  ،  $5س - 3ص = 0$

## مثال

١٥ أثبت أن المستقيمين  $2س - 3ص + 4 = 0$  ،  $(1، 2) = ك + (3، -2)$  متقاطعان على التعامد، ثم أوجد نقطة تقاطعهما.

## الحل

$$\begin{aligned} & \text{ميل المستقيمين} \quad \frac{2}{3} = \frac{2}{3} = \frac{2}{3} \\ & \text{شرط تعامد مستقيمين} \quad 1 = \frac{2}{3} \times \frac{2}{3} = \frac{4}{9} \\ & \therefore 1 = \frac{4}{9} \times \frac{3}{2} \\ & \therefore \text{المستقيمان متقاطعان على التعامد.} \end{aligned}$$

أ لإيجاد نقطة تقاطع المستقيمين، نوجد المعادلة الكارتيزية للمعادلة الثانية.

$$0 = (س، ص) = (2، 1) ك + (3، -2)$$

$$\begin{aligned} & \text{بحذف الثابت ك} \quad \frac{2ص - 3ص}{3} = \frac{1 - 2س}{2} \\ & \text{حاصل ضرب الطرفين = حاصل ضرب الوسيطين} \quad 4 + 3ص = 3 - 2س \\ & \text{بالتبسيط} \quad 0 = 7 - 2ص + 3س \\ & \text{بحل المعادلتين} \quad 0 = 7 - 2ص + 3س \end{aligned}$$

$$\therefore 2 = ص ، 1 = س$$

وتكون نقطة تقاطع المستقيمين المتعامدين هي (٢، ١)

## حاول أن تحل

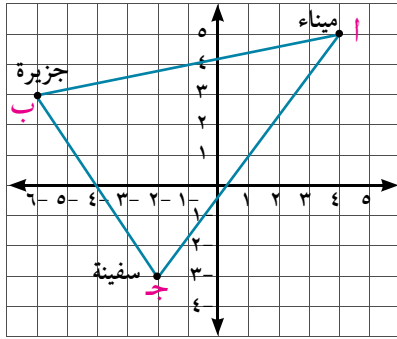
٢ أثبت أن المستقيمين  $4س - 14ص = 0$  ،  $5س + 5ص = 0$  متعامدان ثم أوجد نقطة تقاطعهما ومعادلة المستقيم المار بنقطة التقاطع والنقطة (٢، ١).

## تحقق من فهمك

إذا كان ل<sub>١</sub>: ٣س + ٢ص - ٧ = ٠، ل<sub>٢</sub>: ٣ك + (٠، ٢-) = ٣، (٢، ٣). فأوجد:

- ١ المعادلة الكارتيزية للمستقيم ل<sub>٢</sub>
- ٢ قياس الزاوية بين المستقيمان ل<sub>١</sub>، ل<sub>٢</sub>
- ٣ نقطة تقاطع المستقيمين ل<sub>١</sub>، ل<sub>٢</sub>.
- ٤ معادلة المستقيم الذي يمر بنقطة تقاطع المستقيمين والنقطة (٤، ٣)
- ٥ طول العمود المرسوم من نقطة تقاطع المستقيمين إلى الخط المستقيم الذي معادلته ٣س - ٤ص - ٩ = ٠.
- ٦ مساحة سطح المثلث المحدد بالمستقيمين ل<sub>١</sub>، ل<sub>٢</sub> ومحور السينات.

## نشاط



يبين الشكل المقابل شبكة تربيعة مقسمة بالميل البحرى، مبين عليها إحداثيات كل من: الميناء أ (٤، ٥) والجزيرة ب (٣، ٦-) والسفينة ج (٢-، ٣-).

أوجد:

- ١ المسافة بالميل البحرى بين الميناء والسفينة.
- ٢ الزمن الذى استغرقته السفينة فى قطع المسافة  $\overline{أب}$  إذا كانت سرعتها ٢٠ عقدة.
- ٣ النسبة التى تنقسم بها  $\overline{بج}$  بمحور السينات، ثم أوجد إحداثى نقطة التقسيم.
- ٤ معادلة مسار السفينة إذا كانت تتحرك فى خط مستقيم.
- ٥ أقصر مسافة بين الجزيرة والسفينة.
- ٦ قياس الزاوية المحصورة بين  $\overline{أب}$ ،  $\overline{أج}$
- ٧ مساحة سطح المثلث  $\overline{أبج}$

## تكنولوجيا:

٨ استعن بالشبكة الدولية للمعلومات (الإنترنت).

أ) ابحث عن الخدمات التى تقدمها الهيئة المصرية لسلامة الملاحة البحرية للموانئ والسفن البحرية.

هل تفضل العمل فى الملاحة البحرية؟ لماذا؟

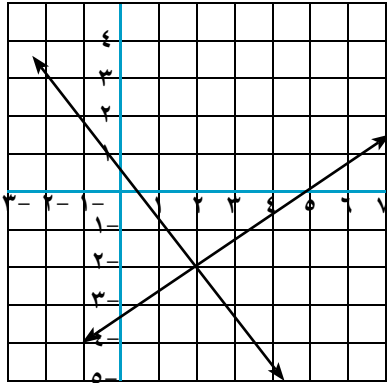
ب) حدد أهم الموانئ البحرية بجمهورية مصر العربية، وحدد مواقعها.



العقدة هى وحدة قياس سرعة السفن فى البحر، وهى تساوى ميل بحرئ لكل ساعة. والميل البحرئ يساوى ١٨٥٢ مترًا علمًا بأن الميل البرئ يساوى ١٦٠٠ مترًا.

## تمارين (٤ - ٥)

- ١ أوجد المعادلة المتجهة للمستقيم الذي يمر بنقطة الأصل وبنقطة تقاطع المستقيمين  $s = 3$  ،  $v = 4$
- ٢ أوجد المعادلة المتجهة للمستقيم الذي يمر بالنقطة  $(1, 3)$  ، وبنقطة تقاطع المستقيمين  $s = 3 + v = 7$  ،  $0 = 7 - v$
- ٣ أوجد معادلة المستقيم المار بنقطة تقاطع المستقيمين  $s = 3 - v = 2$  ،  $s = 3$  ،  $v = 13$  ويوازي محور الصادات .
- ٤ أوجد معادلة المستقيم المار بنقطة تقاطع المستقيمين  $s = 2 + v = 5$  ،  $s = 5$  ، وعمودي على المستقيم  $s - v = 8$
- ٥ أوجد معادلة المستقيم المار بنقطة تقاطع المستقيمين  $s = 2 + v = 7$  ،  $s = 9 + v = 0$  ، والذي يكون عمودياً على المستقيم الأول.
- ٦ أوجد معادلة المستقيم الذي يمر بنقطة تقاطع المستقيمين  $s = 2 + v = 3$  ،  $s = 3 - v = 14$  ، والذي يصنع مع الاتجاه الموجب لمحور الصادات زاوية قياسها  $135^\circ$ .



- ٧ **الربط بالحياة:** طريقان مستقيمان  
 معادلة مسار الأول  $s = 3 - v = 14$  ،  
 ومعادلة مسار الثاني  $s = 3 + v = 2$  ،  
 أثبت أن الطريقتين متعامدان، ثم أوجد:  
 أ نقطة تقاطعهما  
 ب معادلة المستقيم الذي يمر بنقطة التقاطع والنقطة  $(2, 3)$   
 ج طول أقصر بعد من نقطة تقاطع الطريقتين إلى طريق آخر  
 معادلته  $s + v = 3$  ،  
 د مساحة سطح المنطقة المثلثة المحددة بالطريقتين ومحور الصادات

## تمارين عامة

لمزيد من التمارين قم بزيارة موقع وزارة التربية والتعليم.



## ملخص الوحدة

١ إذا كانت جـ تقسم أبـ بنسبة ل<sub>٢</sub>: ل<sub>١</sub> حيث  $\overrightarrow{r_1}$ ،  $\overrightarrow{r_2}$ ،  $\overrightarrow{r}$  هي المتجهات الممثلة بالقطع المستقيمة الموجهة و $\vec{a}$ ، و $\vec{b}$ ، و $\vec{c}$  على الترتيب

$$\text{فإن: } \overrightarrow{r} = \frac{l_2 \overrightarrow{r_1} + l_1 \overrightarrow{r_2}}{l_1 + l_2} = (s, ص) \quad , \quad \left( \frac{l_2 \overrightarrow{r_1} + l_1 \overrightarrow{r_2}}{l_1 + l_2}, \frac{l_2 \overrightarrow{r_1} + l_1 \overrightarrow{r_2}}{l_1 + l_2} \right) = (s, ص)$$

٢ ميل الخط المستقيم (م):

أ الذي يصنع زاوية موجبة (هـ) مع الاتجاه الموجب لمحور السينات: م = ظاهـ

ب الذي يمر بالنقطتين (س<sub>١</sub>، ص<sub>١</sub>)، (س<sub>٢</sub>، ص<sub>٢</sub>):  $m = \frac{ص_2 - ص_1}{س_2 - س_1}$

ج الذي معادلته على الصورة:  $\overrightarrow{r} = (س_1, ص_1) + ك(أ, ب)$  م =  $\frac{ب}{أ}$

د الذي معادلته على الصورة:  $أس + ب ص + ج = ٠$  م =  $-\frac{ج}{ب}$

٣ إذا كان  $\overrightarrow{n} = (أ, ب)$  متجهًا اتجاه العمودي لمستقيم معلوم، فإن متجه الاتجاه لهذا المستقيم هو (ب، -أ) أو (-ب، أ).

٤ إذا كان م<sub>١</sub>، م<sub>٢</sub> هما ميلتا مستقيمين معلومين فإن:

أ م<sub>٢</sub> = م<sub>١</sub> إذا كان المستقيمان متوازيين. ب م<sub>٢</sub> × م<sub>١</sub> = -١ إذا كان المستقيمان متعامدين.

٥ معادلات الخط المستقيم:

أ المعادلة المتجهة هي:  $\overrightarrow{r} = \overrightarrow{و} + ك \overrightarrow{ي}$  أي (س، ص) = (س<sub>١</sub>، ص<sub>١</sub>) + ك(أ، ب)

ب المعادلات البارامترية هي:  $س = س_١ + ك أ$  ،  $ص = ص_١ + ك ب$

ج المعادلة الكارتيزية (بمعلومية الميل ونقطة معلومة):  $م = \frac{ص - ص_١}{س - س_١}$

د بمعلومية الميل (م) وطول الجزء المقطوع من محور الصادات جـ:  $ص = م س + جـ$

هـ بمعلومية طولي الجزئين المقطوعين أ، ب من محوري السينات والصادات على الترتيب:  $١ = \frac{ص}{ب} + \frac{س}{أ}$

و الصورة العامة لمعادلة المستقيم:  $أس + ب ص + ج = ٠$  حيث أ، ب لا يساويان الصفر معًا.

ز المعادلة العامة للمستقيم المار بنقطة تقاطع مستقيمين معلومين هي:

$أ_١ س + ب_١ ص + ج_١ + ك(أ_٢ س + ب_٢ ص + ج_٢) = ٠$  حيث  $ك \neq ٠$

٦ إذا كانت (هـ) هي قياس الزاوية الحادة بين المستقيمين ل<sub>١</sub>، ل<sub>٢</sub> اللذين ميلهما م<sub>١</sub>، م<sub>٢</sub> فإن:  $\left| \frac{م_٢ - م_١}{١ + م_١ م_٢} \right| =$  ظاهـ

حيث م<sub>١</sub> م<sub>٢</sub> ≠ -١

٧ طول العمود (ل) المرسوم من النقطة (س<sub>١</sub>، ص<sub>١</sub>) إلى المستقيم  $أس + ب ص + ج = ٠$  هو:

$$ل = \frac{|أس_١ + ب ص_١ + ج|}{\sqrt{أ^٢ + ب^٢}}$$

@ معلومات إثرائية



قم بزيارة المواقع الآتية:

الوحدة



# حساب المثلثات

## Trigonometry

### أهداف الوحدة

في نهاية الوحدة من المتوقع أن يكون الطالب قادرًا على أن:

- ✚ يستنتج العلاقات الأساسية بين الدوال المثلثية .
- ✚ يثبت صحة متطابقات على الدوال المثلثية .
- ✚ يحل مسائل متنوعة على حساب المثلثات .
- ✚ يحل معادلات مثلثية بسيطة في الصورة العامة في الفترة  $[\pi/2, 0]$
- ✚ يستخدم تكنولوجيا المعلومات في التعرف على التطبيقات المتعددة للمفاهيم الأساسية لحساب المثلثات.
- ✚ يتعرف الحل العام للمعادلة المثلثية.
- ✚ ينمذج بعض الظواهر الفيزيائية والحيوية والتي تمثل بدوال مثلثية.
- ✚ يحل المثلث القائم الزاوية.
- ✚ يستخدم أنشطة لبرامج الحاسب الآلى
- ✚ يحل تطبيقات تشمل زوايا الارتفاع والانخفاض.
- ✚ يتعرف القطاع الدائري وكيفية إيجاد مساحته.
- ✚ يتعرف القطعة الدائرية وكيفية إيجاد مساحتها.

### المصطلحات الأساسية

- |                     |              |                         |                |
|---------------------|--------------|-------------------------|----------------|
| Angle of depression | زاوية انخفاض | Trigonometric identitie | متطابقة مثلثية |
| Circular sector     | قطاع دائري   | Trigonometric equation  | معادلة مثلثية  |
| Circular Segment    | قطعة دائرية  | Angle of elevation      | زاوية ارتفاع   |



## دروس الوحدة

- الدرس (٥ - ١): المتطابقات المثلثية.
- الدرس (٥ - ٢): حل المعادلات المثلثية.
- الدرس (٥ - ٣): حل المثلث القائم الزاوية.
- الدرس (٥ - ٤): تطبيقات تشمل زوايا الارتفاع والانخفاض.
- الدرس (٥ - ٥): القطاع الدائري.
- الدرس (٥ - ٦): القطعة الدائرية.
- الدرس (٥ - ٧): مساحة المثلث، مساحة الشكل الرباعي، مساحة المضلع المنتظم.

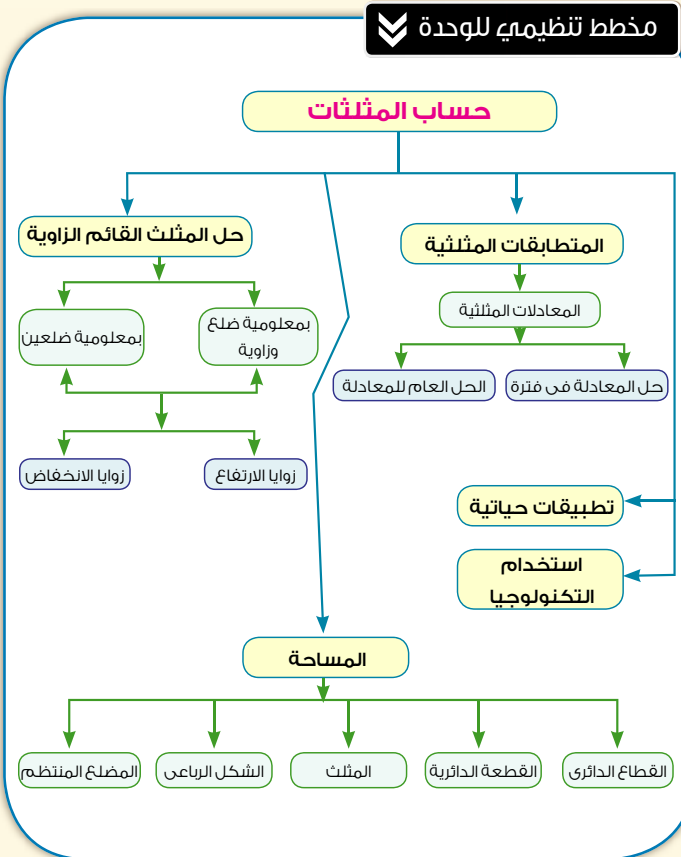
## الأدوات المستخدمة

- آلة حاسبة علمية - ورق مربعات - حاسب آلي متصل بالانترنت
- برامج رسومية

## نبذة تاريخية

حساب المثلثات هو أحد فروع علم الرياضيات، وهذا فرع كما هو واضح من اسمه يتعلق بالحسابات الخاصة بالمثلث من حيث زواياه وأضلاعه. ويذكر بعض المؤرخين أن الرياضى العربى نصير الدين الطوسى هو أول من فصل حساب المثلثات عن الفلك، كما يذكر المؤرخون أن طاليس (٦٠٠ قبل الميلاد) تعرض لحساب المثلثات، عندما تمكن من قياس ارتفاع الهرم عن طريق المقارنة بين طول ظل عصا رأسية وطول ظله فى نفس الوقت.

ولقد كان لحساب المثلثات نصيبه من اهتمامات العرب. ويذكر أن اصطلاح (الظل) قد وصفه العالم العربى أبو الوفا البوزجاني فى القرن العاشر الميلادى. وهذا الاصطلاح مأخوذ من ظلال الأجسام، التى تتكون نتيجة سير الضوء المنبعث من الشمس فى خطوط مستقيمة.



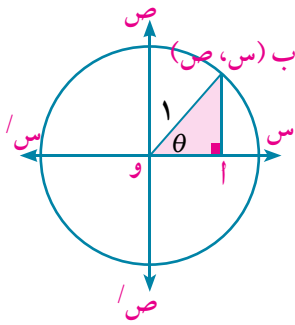
كما أن للعرب إضافات عديدة فى حساب المثلثات المستوى والكُرْوَى أو الكُرْوَى (نسبة إلى سطح الكرة)، وعنهم أخذ الغربيون المعلومات الهامة وأضافوا أيضًا الكثير، حتى أصبح حساب المثلثات متضمنًا فى العديد من الأبحاث الرياضية، وأصبحت تطبيقاته فى شتى المناحي العلمية والعملية. وساهم ذلك فى دفع عجلة التقدم والحضارة.

# المتطابقات المثلثية

## Trigonometric Identities

### العلاقات الأساسية بين الدوال المثلثية

#### Basic Relations Among Trigonometric Functions



سبق أن درست في الفصل الدراسي الأول بعض خواص الدوال المثلثية ورسومها البيانية، وفي هذه الوحدة سوف تستخدم المتطابقات المثلثية؛ وذلك لتبسيط المقادير وحل المعادلات المثلثية.

وسبق أن درست دائرة الوحدة وعلمت أن  $\triangle$  أوب الموجهة في الوضع القياسي وضلعها النهائي  $\overline{OB}$  يقطع دائرة الوحدة في نقطة ب (س، ص) حيث  $\theta = \angle أوب$ ، ب (جتا  $\theta$ ، جا  $\theta$ ) فهل يمكنك استنتاج بعض العلاقات الأساسية بين الدوال المثلثية؟

### المتطابقات والمعادلات المثلثية



#### Trigonometric Identities and Equations

**المتطابقة:** هي متساوية صحيحة لجميع قيم المتغير الحقيقية والذي يُعرف به كل طرف من طرفي المتساوية.

**فمثلاً:** جا  $(\theta - \frac{\pi}{4}) = \theta$  جتا  $\theta$  متطابقة صحيحة لجميع قيم  $\theta$  الحقيقية.

**المعادلة:** هي متساوية صحيحة لبعض الأعداد الحقيقية التي تحقق هذه المتساوية وغير صحيحة للبعض الآخر الذي لا يحققها.

**فمثلاً:** جا  $\theta = \frac{1}{4}$  ،  $\theta \in [0, \pi/2]$

**نجد أن:** قيم  $\theta$  التي تحقق هذه المعادلة والتي تنتمي إلى الفترة  $[0, \pi/2]$  هي  $\frac{\pi}{6}$  ،  $\frac{5\pi}{6}$  فقط.

#### حاول أن تحل

١ أي من العلاقات الآتية تمثل معادلة وأيها تمثل متطابقة.

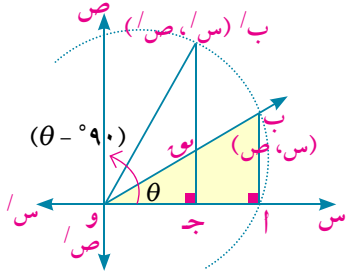
- أ جتا  $\theta = \frac{3}{4}$       ب ظا  $(\theta + \frac{\pi}{4}) = -\theta$  ظنا  $\theta$
- ج ظنا  $\theta = \frac{1}{3}$       د جا  $(\theta - \pi) = \theta$  جا  $\theta$

## Basic Trigonometric Identities

## المتطابقات المثلثية الأساسية

١- سبق أن درست الدوال المثلثية الأساسية ومقلوباتها وعلمت أن:

$$\begin{aligned} \frac{1}{\theta} &= \theta \text{ ظتا} , & \frac{1}{\theta} &= \theta \text{ جتا} , & \frac{1}{\theta} &= \theta \text{ قتا} \\ \frac{1}{\theta} &= \theta \text{ ظتا} , & \frac{1}{\theta} &= \theta \text{ قتا} , & \frac{1}{\theta} &= \theta \text{ جتا} \end{aligned}$$



من تطابق المثلثين: و ب / ج و  
نجد أن: ص / ص = س / س، س / ص = ص / ص

٢- الدوال المثلثية للزاويتين المتتامتين:

$$\begin{aligned} \theta \text{ جتا} &= (\theta - \frac{\pi}{2}) \text{ جتا} , & \theta \text{ جتا} &= (\theta - \frac{\pi}{2}) \text{ جتا} \\ \theta \text{ قتا} &= (\theta - \frac{\pi}{2}) \text{ قتا} , & \theta \text{ قتا} &= (\theta - \frac{\pi}{2}) \text{ قتا} \\ \theta \text{ ظتا} &= (\theta - \frac{\pi}{2}) \text{ ظتا} , & \theta \text{ ظتا} &= (\theta - \frac{\pi}{2}) \text{ ظتا} \end{aligned}$$

٣- متطابقة الزاويتين  $\theta$  ،  $\theta -$ :

نلاحظ من الشكل المقابل أن:

$$\theta \text{ جتا} = \text{س} , \theta \text{ جتا} = \text{س}$$

$$\theta \text{ جتا} = \text{ص} , \theta \text{ جتا} = \text{ص}$$

لذلك فإن:

$$\begin{aligned} \theta \text{ جتا} &= (\theta -) \text{ جتا} , & \theta \text{ جتا} &= (\theta -) \text{ جتا} \\ \theta \text{ قتا} &= (\theta -) \text{ قتا} , & \theta \text{ قتا} &= (\theta -) \text{ قتا} \\ \theta \text{ ظتا} &= (\theta -) \text{ ظتا} , & \theta \text{ ظتا} &= (\theta -) \text{ ظتا} \end{aligned}$$

٤- متطابقات فيثاغورث:

نعلم من دائرة الوحدة أن:

$$\text{س}^2 + \text{ص}^2 = 1 \quad \text{①} \quad \text{وبالتعويض عن س = جتا} \theta , \text{ ص = جتا} \theta$$

$$\text{فإن: جتا}^2 \theta + \theta^2 \text{ جتا} = 1$$

وبقسمة طرفي العلاقة ① على  $\text{ص}^2$  فإن:

$$\frac{1}{\text{ص}^2} = \frac{\text{ص}^2}{\text{ص}^2} + \frac{\text{ص}^2}{\text{ص}^2}$$

$$\text{أي أن: } 1 + \theta^2 \text{ ظتا} = \theta^2 \text{ قتا}$$

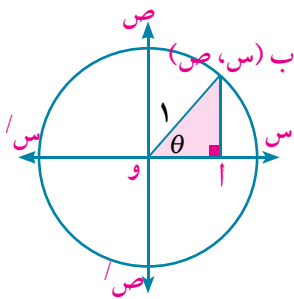
وبقسمة طرفي العلاقة ① على  $\text{س}^2$  فإن:

$$\frac{1}{\text{س}^2} = \frac{\text{ص}^2}{\text{س}^2} + \frac{\text{ص}^2}{\text{س}^2}$$

$$\text{أي أن: } 1 + \theta^2 \text{ ظتا} = \theta^2 \text{ قتا}$$



تسمى متطابقات الزاويتين  $\theta -$  ،  $\theta$  بمتطابقات الدوال الزوجية والفردية، وستدرس في صف دراسي لاحق.



٥- التعبير عن ظا  $\theta = \frac{\text{ص}}{\text{س}}$ ، ظتا  $\theta = \frac{\text{س}}{\text{ص}}$ ، بدلالة جا  $\theta$ ، جتا  $\theta$ :

$$\therefore \frac{\theta \text{ جتا}}{\theta \text{ جا}} = \theta \text{ ظتا}$$

$$\therefore \frac{\theta \text{ جا}}{\theta \text{ جتا}} = \theta \text{ ظا}$$

### تبسيط المقادير المثلثية:

المقصود بتبسيط المقادير المثلثية هو وضعها في أبسط صورة، وذلك باستخدام المتطابقات المثلثية الأساسية.

مثال

١ اكتب في أبسط صورة:  $(\text{جا} + \theta \text{ جتا})^2 - 2 \text{ جا} \theta \text{ جتا}$

الحل

$$\text{أ) } (\text{جا} + \theta \text{ جتا})^2 - 2 \text{ جا} \theta \text{ جتا}$$

$$\text{المقدار} = \text{جا}^2 + \theta^2 \text{ جتا}^2 + 2 \text{ جا} \theta \text{ جتا} - 2 \text{ جا} \theta \text{ جتا}$$

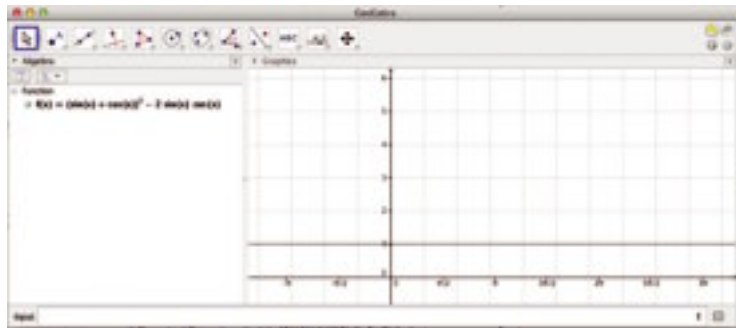
بالتبسيط

$$= \text{جا}^2 + \theta^2 \text{ جتا}^2$$

$$= 1$$

بتطبيق متطابقة فيثاغورث:

ويمكن التحقق من الناتج باستخدام أحد البرامج الرسومية الموضحة بالشكل التالي:



٢ اكتب في أبسط صورة:  $\frac{\theta^2 \text{ ظا} + 1}{\theta^2 \text{ ظتا} + 1}$

الحل

$$\text{المقدار: } \frac{\theta^2 \text{ ظا} + 1}{\theta^2 \text{ ظتا} + 1}$$

بتطبيق متطابقة فيثاغورث: المقدار =  $\frac{\theta^2 \text{ قا}}{\theta^2 \text{ قتا}}$

$$= \frac{1}{\theta^2 \text{ جتا}} \div \frac{1}{\theta^2 \text{ جا}} =$$

$$= \frac{\theta^2 \text{ جا}}{\theta^2 \text{ جتا}} = \theta^2 \text{ ظا}$$

حاول أن تحل

٢ ضع كلا من المقادير الآتية في أبسط صورة ثم تحقق من صحة الناتج:

ج)  $\frac{\text{جا}(\theta - \frac{\pi}{2})}{\text{جتا}(\theta - \pi/2)}$

ب)  $\text{جتا}(\theta - \frac{\pi}{2})$  قا  $(\theta - \frac{\pi}{2})$

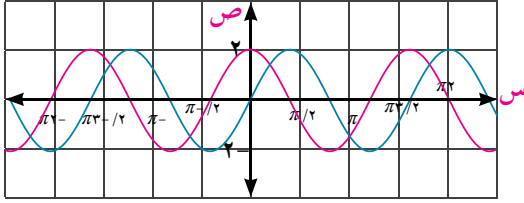
أ)  $\frac{1}{\theta^2 \text{ ظتا}} - \frac{1}{\theta^2 \text{ جتا}}$

## trigonometric identities

## المتطابقات المثلثية

عند إثبات صحة متطابقة مثلثية نثبت أن الدالتين المحددتين لطرفيها متساويتان

وللتحقق من عدم صحة الجملة: جتا<sup>2</sup> θ = 2 جتا θ جتا θ

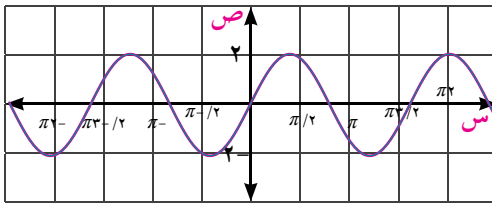


نرسم الشكل البياني لكل من الدالتين:

$$د(س) = جتا^2 θ \quad ، \quad ر(س) = 2 جتا θ جتا θ$$

وبتأمل الشكل البياني المجاور

نجد عدم تطابق الدالتين؛ أي أن د(س) ≠ ر(س)، لذلك فإن هذه العلاقة ليست متطابقة.



ويمكن التحقق من ذلك جبريا وذلك بوضع θ = 0 فتكون:

$$د(0) = 1 \quad ، \quad ر(0) = 0 \quad \text{لذلك فإن الدالتين غير متساويتين.}$$

بينما في المتساوية: جتا<sup>2</sup> θ = 2 جتا θ جتا θ

$$\text{بوضع د(س) = جتا^2 θ \quad ، \quad ر(س) = 2 جتا θ جتا θ}$$

نجد من التمثيل البياني للشكل تطابق منحنى الدالتين؛ أي أن د(س) = ر(س)

وبذلك تكون هذه المتساوية متطابقة.

## تذكر

$$1 = جتا^2 θ + جتا^2 θ$$

$$جتا^2 θ - 1 = جتا^2 θ$$

$$جتا^2 θ - 1 = جتا^2 θ$$

## مثال

$$٣ \text{ أثبت صحة المتطابقة: } جتا^2 θ = جتا θ + 1$$

الحل

$$\text{الطرف الأيمن} = \frac{جتا^2 θ - 1}{جتا θ - 1} = \frac{جتا^2 θ}{جتا θ - 1}$$

$$\text{الطرف الأيسر} = جتا θ + 1 = \frac{(جتا θ - 1)(جتا θ + 1)}{جتا θ - 1}$$

## مثال

$$٤ \text{ أثبت صحة المتطابقة: } جتا^2 θ + جتا^2 θ = جتا^2 θ$$

الحل

$$\text{الطرف الأيمن} = جتا^2 θ + جتا^2 θ =$$

$$= \frac{جتا^2 θ + جتا^2 θ}{جتا θ جتا θ} = \frac{جتا^2 θ}{جتا θ} + \frac{جتا^2 θ}{جتا θ} =$$

$$= \frac{1}{جتا θ جتا θ} =$$

$$= جتا^2 θ جتا^2 θ = \text{الطرف الأيسر}$$

### حاول أن تحل

٣ أثبت صحة المتطابقة:  $\frac{(1 - \theta^2 \text{جا}^2)(\theta^2 \text{جتا}^2 - 1)}{\theta^2 \text{ظا}^2} = \theta^2 \text{جتا}^2$

### مثال

٥ أثبت صحة المتطابقة:  $1 - \theta^2 \text{جا}^2 = \frac{\theta^2 \text{ظنا}^2 - 1}{\theta^2 \text{ظنا}^2 + 1}$

الحل

$$\frac{\theta^2 \text{ظنا}^2 - 1}{\theta^2 \text{ظنا}^2 + 1} = \text{الطرف الأيمن}$$

بالتحويل إلى جا، جتا، ظا

$$\frac{\frac{\theta^2 \text{جتا}^2 - 1}{\theta^2 \text{جا}^2}}{\frac{1}{\theta^2 \text{جا}^2}} = \frac{\theta^2 \text{ظنا}^2 - 1}{\theta^2 \text{ظنا}^2 + 1}$$

$$\theta^2 \text{جتا}^2 - \theta^2 \text{جا}^2 = \frac{\theta^2 \text{جتا}^2 - 1}{\theta^2 \text{جا}^2} \times \frac{\theta^2 \text{جتا}^2 - 1}{\frac{1}{\theta^2 \text{جا}^2}} =$$

$$(\theta^2 \text{جا}^2 - 1) - \theta^2 \text{جا}^2 =$$

$$1 - \theta^2 \text{جا}^2 = \text{الطرف الأيسر}$$

فكر: هل توجد حلول أخرى للمثال؟

### حاول أن تحل

٤ أثبت صحة كل من المتطابقات الآتية:

أ  $\theta^2 \text{ظنا}^2 + 1 = \frac{\theta^2 \text{ظنا}^2 + 1}{\theta^2 \text{ظا}^2 + 1}$       ب  $1 = \frac{\theta^2 \text{ظنا}^2 + \theta^2 \text{ظا}^2}{\theta^2 \text{ظنا}^2 + \theta^2 \text{ظا}^2}$

ج  $\frac{\theta^2 \text{جا}^2 - 1}{\theta^2 \text{جا}^2 + 1} = \frac{\theta^2 (\text{ظا}^2 - \theta^2 \text{ظا}^2)}{\theta^2 \text{ظا}^2 + 1}$

### تحقق من فهمك

١ اكتشف الإجابة الخطأ:

جا<sup>٢</sup> + جتا<sup>٢</sup> θ تساوي:

أ ١      ب ٢ جتا<sup>٢</sup> θ - ١      ج ١ - ٢ جا<sup>٢</sup> θ      د ١ + ٢ جا<sup>٢</sup> θ جتا<sup>٢</sup> θ

٢ أثبت صحة المتطابقات الآتية:

أ  $1 = \frac{\theta^2 \text{ظا}^2}{\theta^2 \text{ظنا}^2 + \theta^2 \text{ظا}^2} + \frac{\theta^2 \text{جتا}^2}{\theta^2 \text{ظنا}^2 + \theta^2 \text{ظا}^2}$

ب  $2 = \frac{\theta^2 \text{جتا}^2 - \theta^2 \text{جا}^2}{\theta^2 \text{جتا}^2 - \theta^2 \text{جا}^2} + \frac{\theta^2 \text{جتا}^2 + \theta^2 \text{جا}^2}{\theta^2 \text{جتا}^2 + \theta^2 \text{جا}^2}$



## تمارين (٥ - ١)

أولاً: الاختيار من متعدد

١) المقدار  $\frac{\theta \text{ ظنا}}{\theta \text{ قا}}$ : في أبسط صورة يساوي:

- أ) جا  $\theta$       ب) جتا  $\theta$       ج) قا  $\theta$       د) قتا  $\theta$

٢) المقدار: جا  $\theta$  جتا  $\theta$  ظا  $\theta$  في أبسط صورة يساوي:

- أ) جا<sup>٢</sup>  $\theta$       ب) جتا<sup>٢</sup>  $\theta$       ج) ظا<sup>٢</sup>  $\theta$       د) ١ - جا<sup>٢</sup>  $\theta$

٣) المقدار: جا  $(\theta - ٩٠)$  قتا  $(\theta - ٩٠)$  في أبسط صورة يساوي:

- أ) ١      ب) جا<sup>٢</sup>  $\theta$       ج) جتا<sup>٢</sup>  $\theta$       د) جا  $\theta$  جتا  $\theta$

٤) المقدار:  $\frac{\beta^٢ \text{ جتا} - ١}{١ - \beta^٢ \text{ جا}}$  في أبسط صورة يساوي:

- أ)  $\beta^٢ \text{ ظا} - \beta^٢ \text{ جتا}$       ب)  $\beta^٢ \text{ ظا} - \beta^٢ \text{ جتا}$       ج)  $\beta^٢ \text{ ظا}$       د)  $\beta^٢ \text{ ظنا}$

ثانياً: أجب عن الأسئلة الآتية

٥) أثبت صحة المتطابقات الآتية:

- أ)  $\mu \text{ ظا} + \mu \text{ ظنا} = \mu \text{ قا}$       ب)  $\alpha \text{ جتا} - \alpha \text{ قتا} = \alpha \text{ ظنا}$   
 ج)  $\mu^٢ \text{ ظنا} - \mu^٢ \text{ جتا} = \mu^٢ \text{ ظا}$       د)  $\alpha^٢ \text{ ظا} - \alpha^٢ \text{ جتا} = \alpha^٢ \text{ ظنا}$   
 هـ)  $\alpha^٢ \text{ جا} + \alpha^٢ \text{ ظا} = \alpha^٢ \text{ جتا}$       و)  $\mu^٢ \text{ جا} - ١ = \mu^٢ \text{ جتا}$

٦) أثبت صحة المتطابقات الآتية:

- أ)  $\frac{\theta \text{ قتا}}{\theta \text{ جتا}} = (\theta^٢ \text{ جا} - ١) \text{ ظنا}$       ب)  $١ = \theta^٢ \text{ ظا} - \frac{١}{(\theta - ٩٠)^٢ \text{ جا}}$   
 ج)  $\beta^٢ \text{ جتا} - \alpha^٢ \text{ جتا} = \frac{١}{\beta^٢ \text{ ظا} + ١} - \frac{١}{\alpha^٢ \text{ ظا} + ١}$       د)  $\theta^٢ \text{ جا} - ١ = \frac{\theta^٢ \text{ ظا} + ١}{\theta^٢ \text{ قا}}$   
 هـ)  $\frac{\phi \text{ جا} - ١}{\phi \text{ جا} + ١} = \phi^٢ (\phi \text{ ظا} - \phi \text{ جتا})$       و)  $\frac{\theta \text{ ظا}}{\theta \text{ ظا} + ١} = \frac{١}{\theta \text{ ظنا} + ١}$

ز)  $\theta \text{ جا} \theta \text{ جتا} + \theta^٢ \text{ جتا} = \theta \text{ قتا} - \theta \text{ ظا}$

## حل المعادلات المثلثية

### Solving Trigonometric Equations

#### حل معادلة مثلثية بجول حقيبة



سبق أن درسنا حل المعادلات الجبرية من الدرجة الأولى والدرجة الثانية (جبرياً وبيانياً)، وفي هذا الدرس سوف نحل المعادلات المثلثية وذلك بالاستعانة بالمتطابقات الأساسية، فهل يوجد تشابه بين حل المعادلات الجبرية وحل المعادلات المثلثية؟



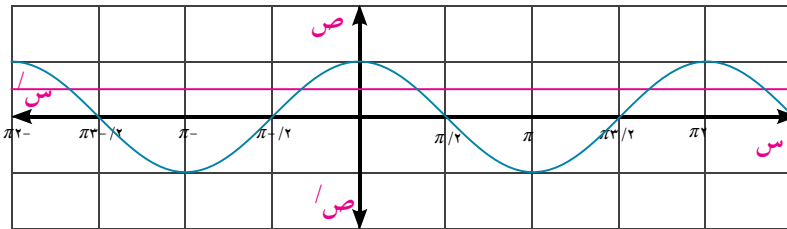
اشترك مع أحد زملائك في رسم الدالة المثلثية ص = جتا  $\theta$  والدالة ص =  $\frac{1}{p}$  ولاحظ نقط تقاطعهما المشتركة

١- ارسم منحنى الدالة ص = جتا  $\theta$ ، ص =  $\frac{1}{p}$  ولاحظ نقاط تقاطعهما المشتركة.

٢- كم حلاً للمعادلة جتا  $\theta = \frac{1}{p}$  في  $[\pi, 2\pi]$ ؟

٣- هل توجد حلولاً أخرى للمعادلة جتا  $\theta = \frac{1}{p}$  في الشكل البياني؟

الشكل البياني التالي يمثل حل المعادلة جتا  $\theta = \frac{1}{p}$  حيث نجد أن المعادلة لها حلان هما  $\frac{\pi}{3}$ ،  $\frac{2\pi}{3}$  عندما  $\theta \in [\pi, 2\pi]$ ، وبإضافة  $2\pi$  أو  $2\pi -$  نحصل على حلول أخرى للمعادلة.



#### الحل العام للمعادلات المثلثية

#### General solution of the trigonometric equations



١) أوجد الحل العام لكل من المعادلات الآتية:

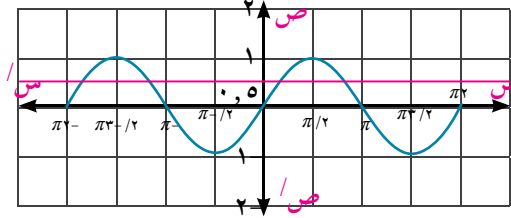
ج) ظا  $\theta = \frac{1}{3}$

ب) جتا  $\theta = \frac{2}{3}$

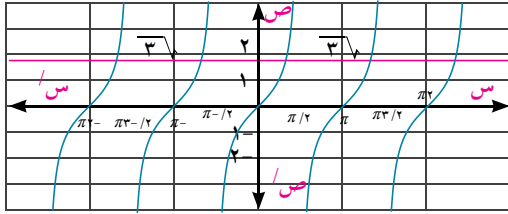
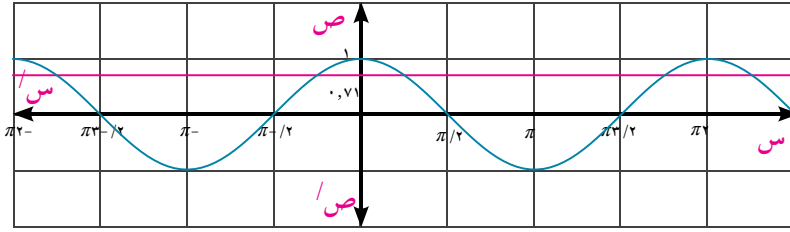
أ) جا  $\theta = \frac{1}{3}$

الدل

أ :  $\frac{\pi}{4} = \theta \therefore \frac{1}{2} = \theta$  أو  $\frac{\pi}{4} - \pi = \theta$   
 أى أن الحل العام للمعادلة هو  $\pi n + \frac{\pi}{4}$  أو  $\pi n + (\frac{\pi}{4} - \pi)$  ،  $n \in \mathbb{Z}$



ب :  $\frac{\sqrt{3}}{2} = \theta \therefore \frac{\pi}{6} \pm \theta$   
 أى أن الحل العام للمعادلة هو  $\pi n \pm \frac{\pi}{6}$  ،  $n \in \mathbb{Z}$



ج :  $\sqrt{3} = \theta \therefore \frac{\pi}{3} = \theta$  أو  $\pi + \frac{\pi}{3} = \theta$   
 أى أن الحل العام للمعادلة هو  $\pi n + \frac{\pi}{3}$  ،  $n \in \mathbb{Z}$

حاول أن تحل

١ أوجد الحل العام لكل من المعادلات الآتية:

أ)  $\frac{\sqrt{3}}{2} = \theta$     ب)  $1 = \theta$     ج)  $\frac{\sqrt{3}}{2} = \theta$

مثال

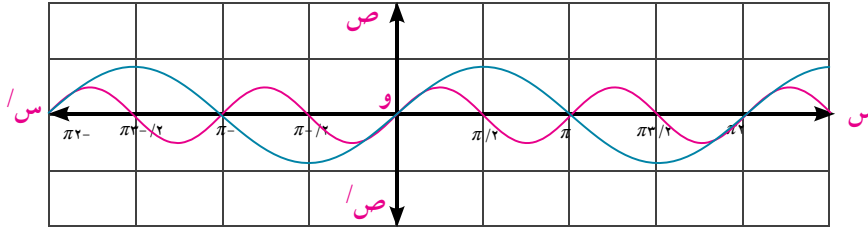
٢ أوجد الحل العام للمعادلة:  $\theta$  جتا  $\frac{\sqrt{3}}{2} = \theta$  جا

الدل

جا  $\theta$  جتا  $\frac{\sqrt{3}}{2} - \theta = 0$     جا  $\theta$  (جتا  $\frac{\sqrt{3}}{2} - \theta$ ) = 0

<p>إما</p> <p>جا <math>\theta = 0</math></p> <p>، <math>0 = \theta</math></p> <p>الحل العام للمعادلة</p> <p><math>\pi n = \theta</math> حيث <math>n \in \mathbb{Z}</math></p>	<p>أو</p> <p>جتا <math>\theta = \frac{\sqrt{3}}{2}</math></p> <p>جتا <math>\theta = \frac{\sqrt{3}}{2}</math></p> <p><math>\theta = \frac{\pi}{6}</math></p> <p><math>\theta = \pi + \frac{\pi}{6}</math> حيث <math>n \in \mathbb{Z}</math></p>
---	---

والشكل البياني التالي يمثل جزءاً من حل المعادلة.



**تفكير ناقد:** هل بالضرورة أن جميع المعادلات المثلثية لها حلول حقيقية؟ وضح ذلك بأمثلة.

**حاول أن تحل**

٢ أوجد الحل العام لكل من المعادلات الآتية:

أ  $\text{جتا}^2 \theta - \text{جتا} \theta = 0$     ب  $2 \text{جتا}^2 \theta = \text{جتا} \theta$     ج  $\sqrt{3} \text{جتا} \theta - \text{جتا} \theta = 0$

حل المعادلات المثلثية في الفترة  $[\pi/2, 0]$

**مثال**

٣ حل المعادلة:  $\text{جتا} \theta - \frac{1}{3} \text{جتا}^2 \theta = 0$  إذا كانت  $0 < \theta < 180^\circ$

**الدل**

$\text{جتا} \theta (\text{جتا} \theta - \frac{1}{3}) = 0$  **بالتحليل**

$\text{جتا} \theta = 0$  أو  $\text{جتا} \theta = \frac{1}{3}$

$90^\circ = \theta$  أو  $30^\circ = \theta$  أو  $150^\circ$

حل المعادلة هي:  $30^\circ$  أو  $90^\circ$  أو  $150^\circ$

**حاول أن تحل**

٣ إذا كانت  $0 < \theta \leq 360^\circ$  فأوجد مجموعة حل كل من المعادلات الآتية:

أ  $2 \text{جتا} \theta + \text{جتا} \theta = 3$     ب  $4 \text{جتا}^2 \theta - 3 \text{جتا} \theta = 0$

**تحقق من فهمك**

٤ أوجد الحل العام لكل من المعادلات الآتية بالراديان.

أ  $\theta = 1$     ب  $\text{جتا} \theta = 2 \text{جتا} \theta$     ج  $2 \text{جتا} \theta - \sqrt{3} = 0$

## تمارين (٥ - ٢)

أولاً: أكمل ما يأتي

- ١) الحل العام للمعادلة  $\sin \theta = 1$  لجميع قيم  $\theta$  هو .....
- ٢) الحل العام للمعادلة  $\sin \theta = 1$  حيث  $\theta \in [\pi, 2\pi]$  هو .....
- ٣) الحل العام للمعادلة  $\sin \theta = \sin \theta$  لجميع قيم  $\theta$  هو .....
- ٤) مجموعة حل المعادلة  $\sin \theta = \frac{1}{2}$  حيث  $\theta \in [\pi, 2\pi]$  هي .....

ثانياً: الاختيار من متعدد

- ٥) إذا كانت  $0^\circ \leq \theta < 360^\circ$  وكانت  $\sin \theta = 1$  فإن  $\theta$  تساوي
 

أ. $0^\circ$	ب. $90^\circ$	ج. $180^\circ$	د. $270^\circ$
--------------	---------------	----------------	----------------
- ٦) إذا كانت  $0^\circ \leq \theta < 360^\circ$  وكانت  $\sin \theta = 1$  فإن  $\theta$  تساوي
 

أ. $90^\circ$	ب. $180^\circ$	ج. $270^\circ$	د. $360^\circ$
---------------	----------------	----------------	----------------
- ٧) إذا كانت  $0^\circ \leq \theta < 180^\circ$  وكانت  $\sin \theta = 1 - \theta$  فإن  $\theta$  تساوي
 

أ. $30^\circ$	ب. $60^\circ$	ج. $120^\circ$	د. $150^\circ$
---------------	---------------	----------------	----------------
- ٨) إذا كانت  $0^\circ \leq \theta < 180^\circ$  وكانت  $\sin \theta = 1 + \theta$  فإن  $\theta$  تساوي
 

أ. $210^\circ$	ب. $240^\circ$	ج. $300^\circ$	د. $330^\circ$
----------------	----------------	----------------	----------------

ثالثاً: أجب عن الأسئلة الآتية

- ٩) أوجد الحل العام لكل من المعادلات الآتية.
 

أ) $\sin \theta = \frac{1}{2}$	ب) $\sin 2\theta = \frac{1}{2}$	ج) $\sin \theta = 1 - \theta$
--------------------------------	---------------------------------	-------------------------------
- ١٠) أوجد حل كل من المعادلات الآتية في الفترة  $[\frac{\pi}{4}, 0]$ :
 

أ) $\sin^2 \theta - \cos \theta = 0$	ب) $\sin 2\theta - \cos \theta = 0$	ج) $\sin^2 2\theta - \cos 3\theta = 0$
--------------------------------------	-------------------------------------	--

## حل المثلث القائم الزاوية

### Solving the Right Angled Triangle



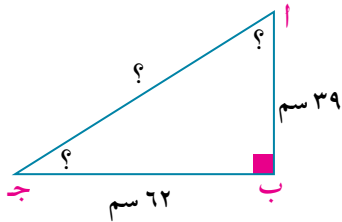
نعلم أن للمثلث ستة عناصر هي أضلعه الثلاثة وزواياه الثلاث، وحل المثلث يعني إيجاد قياسات عناصره الستة، وإذا كان المثلث قائم الزاوية فإنه يلزم معرفة إما طولَي ضلعين فيه أو طول أحد أضلعه وقياس إحدى زاويتي الحادتين.

حل المثلث القائم الزاوية إذا علم منه طولاً ضلعين:



١ حل المثلث أ ب ج القائم الزاوية في ب والذي فيه أ ب = ٣٩ سم، ب ج = ٦٢ سم.

الحل



أولاً: نوجد و (ج):

$$\frac{أ ب}{ب ج} = \text{و}$$

$$\therefore \text{و} = \frac{٣٩}{٦٢} \approx ٠,٦٢٩٠٣٢٢٥٨١$$

باستخدام الآلة الحاسبة يكون:

$$\text{و} = (\text{ج}) = ٣٢,١٠١٧^\circ$$

$$\rightarrow \text{3 9 } \div \text{ 6 2 } = \text{Shift Tan}^{-1} \text{ Ans } = \text{ } ^\circ$$

نوجد و (أ):

$$\text{و} = (\text{أ}) = ٩٠^\circ - ٣٢,١٠١٧^\circ = ٥٧,٨٩٨٣^\circ$$

أو من الممكن استخدام الحاسبة كالتالي:

$$\rightarrow \text{9 0 } - \text{ 3 2 } ^\circ = \text{ } ^\circ \text{ 1 0 } ^\circ \text{ 1 7 } ^\circ = \text{ } ^\circ$$

ثانياً: نوجد طول: أ ج

$$\therefore \text{أ ج} = \frac{٣٩}{\text{و}} = ٣٢,١٠١٧^\circ$$

$$\therefore \text{أ ج} = \frac{أ ب}{\text{و}}$$

$$\rightarrow ( ) = ( ) \sin 32^\circ = 3 \div 90 = 3$$

فيكون  $أ ج = \frac{39}{\sin 32^\circ} = 73,24581124$  سم

**فكر**

- هل توجد دوال مثلثية أخرى تستطيع بواسطتها إيجاد طول  $أ ج$ ؟ اذكر هذه الدوال إن وجدت.
- هل يمكنك الاستعانة بنظرية فيثاغورث لإيجاد طول  $أ ج$ ؟ أكتب خطوات الحل إن أمكنك ذلك.
- أيهما تفضل استخدام نظرية فيثاغورث لإيجاد طول  $أ ج$  أم استخدام إحدى الدوال المثلثية؟ لماذا؟

**حاول أن تحل**

١ حل المثلث  $أ ب ج$  القائم الزاوية في  $ب$  في الحالتين الآتيتين:

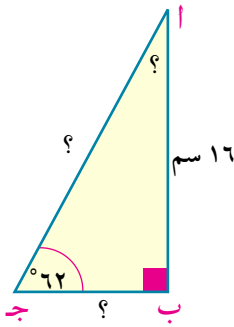
أ)  $أ ب = 8$  سم ،  $ب ج = 12$  سم      ب)  $ب ج = 5$  سم ،  $أ ج = 13$  سم

حل المثلث القائم الزاوية إذا علم منه طول ضلع وقياس زاوية

**مثال**

٢ حل المثلث  $أ ب ج$  القائم الزاوية في  $ب$ ، حيث  $و (أ ج) = 62^\circ$ ،  $أ ب = 16$  سم، مقرباً الناتج لرقمين عشرين.

**الحل**



نوجد  $و (أ ج)$ :

$$و (أ ج) = 90^\circ - 62^\circ = 28^\circ$$

نوجد طول  $ب ج$ :

$$\therefore \text{ظا } ج = \frac{أ ب}{ب ج} \quad \text{أي أن: ظا } 62^\circ = \frac{16}{ب ج} \quad \text{فيكون}$$

$$ب ج \times \text{ظا } 62^\circ = 16$$

$$ب ج = \frac{16}{\text{ظا } 62^\circ} = \frac{16}{0.9062575} \approx 17.65$$

نوجد طول  $أ ج$ :

$$\therefore \text{جا } ج = \frac{أ ب}{أ ج} \quad \text{أي أن: جا } 62^\circ = \frac{16}{أ ج}$$

$$أ ج \times \text{جا } 62^\circ = 16$$

$$أ ج = \frac{16}{\text{جا } 62^\circ} = \frac{16}{0.883204} \approx 18.11$$

**حاول أن تحل**

٢ حل المثلث  $أ ب ج$  القائم الزاوية في  $ب$  في الحالتين الآتيتين:

أ)  $أ ب = 8$  سم ،  $و (أ ج) = 34^\circ$       ب)  $أ ج = 26$  سم ،  $و (أ ج) = 53^\circ$

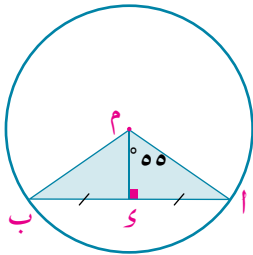
## تفكير ناقد:

هل يمكن حل المثلث القائم الزاوية بمعلومية زاويتيته الحادتين؟ فسر إجابتك .

## مثال

٣ **الربط بالهندسة:** دائرة طول نصف قطرها ٧ سم، رسم فيها وتر يقابل زاوية مركزية قياسها  $110^\circ$ ، احسب طول هذا الوتر لأقرب ثلاثة أرقام عشرية.

## الحل



في الشكل المقابل: نرسم  $م س \perp \overline{أ ب}$

من خواص الدائرة: نقطة د منتصف  $\overline{أ ب}$

$$\text{و } (\triangle أ م س) = 2 \times 55^\circ = 110^\circ$$

نوجد طول  $\overline{أ س}$  في المثلث  $أ م س$  القائم الزاوية:

$$\text{جا } (\angle أ م س) = \frac{س}{أ} \quad \text{من تعريف دالة الجيب}$$

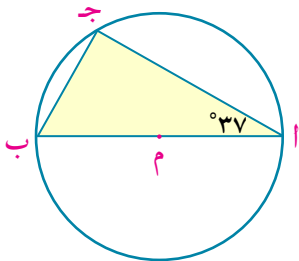
$$\text{أى أن: جا } 55^\circ = \frac{س}{٧}$$

حاصل ضرب الطرفين = حاصل ضرب الوسطين:

$$س = ٧ \times \text{جا } 55^\circ \approx ٥,٧٣٤٠٦٤٣١ \text{ سم}$$

إيجاد طول  $\overline{أ ب}$ :  $أ ب = ٢ \times س$

$$\text{أى أن: } أ ب = ٥,٧٣٤٠٦٤٣١ \times ٢ \approx ١١,٤٦٨١٢٨٦٢ \approx ١١,٤٦٨ \text{ سم}$$



## حاول أن تحل

٣ **الربط بالهندسة:** بين الشكل المقابل دائرة مركزها م ،  $\overline{أ ب}$  قطر فيها، فإذا كان  $أ ج = ١٢$  سم، و  $(\triangle أ) = 37^\circ$  فأوجد طول نصف قطر الدائرة. لأقرب رقمين عشريين.

## تحقق من فهمك

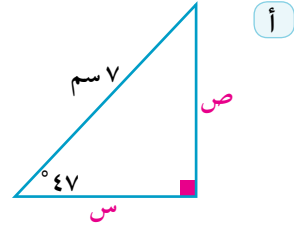
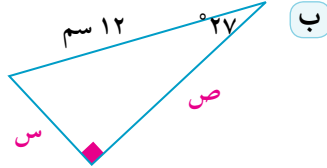
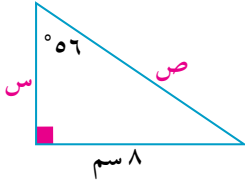
١ س ص ع مثلث فيه س ص = ١١ سم، ص ع = ٢٧ سم، س ع = ٢٩ سم، أثبت أن المثلث قائم الزاوية فى ص، ثم أوجد قياس زاوية س

٢ **تفكير ناقد:** دائرة طول نصف قطرها ٦ سم، رسم فيها وتر يقابل زاوية مركزية قياسها  $108^\circ$  احسب طول هذا الوتر مقرباً الناتج لأقرب رقمين عشريين.

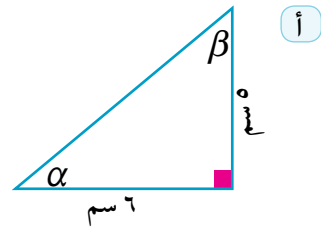
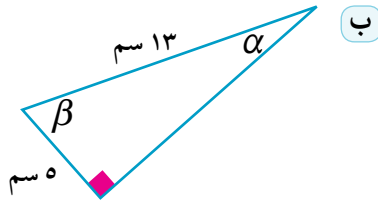
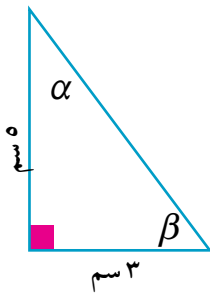


## تمارين (٥ - ٣)

١ أوجد قيمة كل من  $s$ ،  $v$  في كل شكل من الأشكال الآتية



٢ أوجد قيمة كل من الزاويتين  $\alpha$ ،  $\beta$  بالقياس الستيني في كل شكل من الأشكال الآتية:



٣ حل المثلث أ ب ج القائم الزاوية في ب مقرباً الزاوي لأقرب درجة والطول لأقرب سم حيث:

- أ) أ ب = ٤ سم، ب ج = ٦ سم  
 ب) أ ب = ١٢,٥ سم، ب ج = ١٧,٦ سم  
 ج) أ ب = ٥,٣ سم، أ ج = ١٢,٢ سم  
 د) ب ج = ٣١ سم، أ ج = ٤٢ سم

٤ حل المثلث أ ب ج القائم الزاوية في ب مقرباً الزاوي لأقرب ثلاثة أرقام عشرية من الراديان والطول

لأقرب ثلاثة أرقام عشرية من الستمترات حيث:

- أ) و (أ) = ٠,٩٢٥، ب ج = ٨ سم  
 ب) و (أ) = ١,١٦٩، أ ب = ١٨ سم  
 ج) و (ب) = ٠,٦٤٦، أ ج = ١٥,٧ سم  
 د) و (ب) = ١,٠٨٢، أ ج = ٣٥,٨ سم

٥ م  $\overline{أى} \perp \overline{بج}$  فإذا كان  $أى = ٦$  سم، و  $(\angle ب) = ٥٢^\circ$  و  $(\angle ج) = ٢٨^\circ$  فأوجد طول  $\overline{بج}$  بـ١٠٠م.

٦ **الربط بالهندسة:** دائرة طول قطرها  $\overline{أب}$  يساوى ٢٠ سم رسم  $\overline{أج}$  وتراً فيها طوله ١٢ سم. أوجد قياسات  $\angle ج$ .

٧ **الربط بالهندسة:** قطعة أرض على شكل معين  $أبجى$  طول ضلعه ١٢ متراً، و  $(\angle أبج) = ١٠٠^\circ$  أوجد  $\overline{أج}$  ،  $\overline{بى}$  لأقرب متر.

٨ **الربط بالهندسة:**  $أبجى$  شبه منحرف متساوي الساقين فيه  $\overline{أى} // \overline{بج}$ ،  $أب = جى = ٥$  سم،  $أى = ١٠$  سم. أوجد قياس كل من زواياه الأربعة.

## زوايا الارتفاع وزوايا الانخفاض

### Angles of Elevation and Angles of Depression

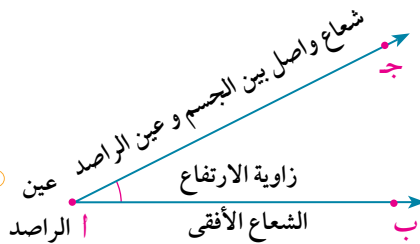


هل يمكنك أن توجد ارتفاع مأذنه عن سطح الأرض وأنت تبتعد عنها مسافة معلومة دون أن تقوم بالقياس الفعلي لطول هذه المأذنه؟



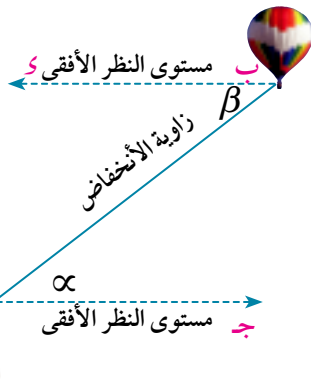
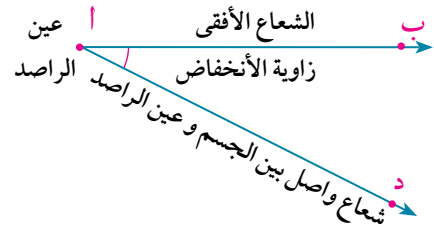
### زوايا الارتفاع والانخفاض

#### Angles of Elevation and Angles of Depression



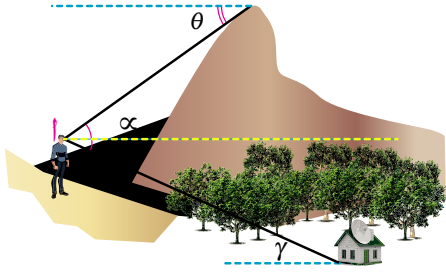
١- إذا رصد شخص نقطة ج أعلى من مستوى نظره الأفقى  $\overline{AB}$  فإن الزاوية بين  $\overline{AB}$ ،  $\overline{AC}$  تسمى زاوية ارتفاع ج عن المستوى الأفقى لنظر الشخص أ.

٢- وإذا رصد شخص نقطة د أسفل من مستوى نظره الأفقى  $\overline{AB}$  فإن الزاوية بين  $\overline{AB}$ ،  $\overline{AD}$  تسمى زاوية أنخفاض د عن المستوى الأفقى لنظر الشخص أ.



٣- فى الشكل المقابل:  
 $\angle \alpha$  ج أ ب هي زاوية ارتفاع البالون بالنسبة للشخص عند أ.  
 $\angle \beta$  د ب أ هي زاوية انخفاض الشخص عند أ بالنسبة للبالون وفى هذه الحالة يكون:  $\beta = \alpha$

## حاول أن تحل

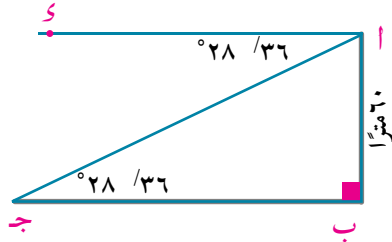


### ١ في الشكل المقابل

أولاً: حدد نوع كل زاوية  $(\alpha)$ ،  $(\theta)$ ،  $(\beta)$ ،  $(\gamma)$  من حيث كونها زاوية ارتفاع أم انخفاض بالنسبة للراصد عند أ.  
ثانياً: اكتب أزواج الزوايا المتساوية.

## مثال

١١ من قمة برج ارتفاعه ٦٠ متراً وجد أن قياس زاوية انخفاض جسم واقع في المستوى الأفقى المار بقاعدة البرج تساوى  $28^\circ 36'$ . أوجد بعد الجسم عن قاعدة البرج لأقرب متر.



### الحل

نفرض أن أهى قمة البرج  $\overline{أب}$   
فتكون  $\triangle س أ ج$  هى زاوية انخفاض الجسم  
لذلك فإن:  $\angle س = \angle ج$  و  $\angle س أ ج$

تعريف دالة الظل:

بالتعويض عن  $أ ب = 60$ :

$$ب ج \times \text{ظا } 28^\circ 36' = 60$$

$$ب ج = \frac{60}{\text{ظا } 28^\circ 36'} = \frac{60}{0.4715} = 125,22966 \approx 125 \text{ متراً}$$

$$\frac{أ ب}{ب ج} = \text{ظا ج}$$

$$\frac{60}{ب ج} = \text{ظا } 28^\circ 36'$$

## حاول أن تحل

٢ رصد شخص من قمة جبل ارتفاعه ٢,٥٦ كم نقطة على سطح الأرض، فوجد أن زاوية انخفاضها هو  $63^\circ$ . أوجد المسافة لأقرب متر بين النقطة والراصد.

## مثال

١٢ عمود إنارة طوله ٧,٢ متر يلقي ظلًا على الأرض طوله ٤,٨ متر، أوجد بالراديان قياس زاوية ارتفاع الشمس عندئذ.

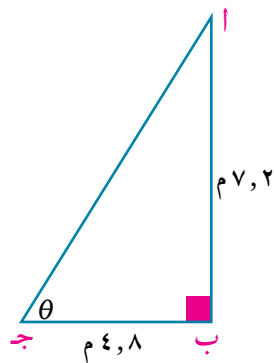
### الحل

نفرض أن نقطة أهى قمة الإنارة  $\overline{أب}$ ، وأن  $ب ج$  هو طول ظل العمود،  $\theta$  زاوية ارتفاع الشمس

$$\therefore \text{ظا ج} = \frac{أ ب}{ب ج} \therefore \text{ظا } \theta = \frac{7,2}{4,8} = 1,5$$

$$\theta = (\angle) = 56^\circ 18' 36''$$

$$\therefore \text{زاوية ارتفاع الشمس بالراديان} = 56^\circ 18' 36'' = \frac{\pi}{180} \times 56,31111 \approx 0,98279372322$$



### ملاحظة:

يمكن استخدام الآلة الحاسبة لإيجاد  $\theta$  بالراديان مباشرة دون إيجادها بالدرجات كالآتي:

→ Shift Mode 4 (Rad :4)

١- تهيئة الآلة الحاسبة على نظام (Radian):

1 . 5 Shift tan (tan<sup>-1</sup>)

٢- إدخال البيانات (Data):

= 0.982793732

٣- استدعاء النواتج (call outputs):

### حاول أن تحل

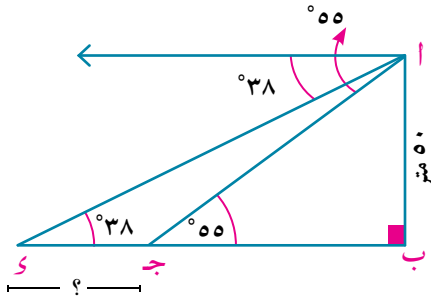
٣ من قمة صخرة ارتفاعها ١٨٠ متر من سطح البحر قيست زاوية انخفاض قارب يبعد ٣٠٠ متر عن قاعدة الصخرة، فما مقدار قياس زاوية الانخفاض بالراديان؟

### مثال

١٣ وقف شخص على صخرة ارتفاعها ٥٠ مترًا، ولاحظ سفينتين في البحر على شعاع واحد من قاعدة الصخرة وقاس زاويتي انخفاضيهما، فوجدهما ٣٨°، ٥٥° أوجد البعد بين السفينتين لأقرب متر.

### الحل

نفرض أن ارتفاع الصخرة هو  $AB$ ، وأن البعد بين السفينتين هو  $CD$



في  $\triangle AB$ :

$$\therefore \text{ظا } 38^\circ = \frac{50}{B} \quad \therefore B = \frac{50}{\text{ظا } 38^\circ}$$

$$\therefore B \approx 64 \text{ متر}$$

$$\therefore \text{ظا } 55^\circ = \frac{50}{B - C} \quad \therefore B - C = \frac{50}{\text{ظا } 55^\circ} \approx 35 \text{ متر}$$

$$\therefore \text{جـ } C = B - (B - C) = 64 - 35 = 29 \text{ متر}$$

### حاول أن تحل

٤ شاهد راصد أن قياس زاوية ارتفاع منطاد مثبت هي ٣٠°، ولما سار الراصد في مستوًى أفقى نحو المنطاد مسافة ١٠٠٠ متر شاهد أن قياس زاوية الارتفاع هي ٤٥°. أوجد ارتفاع المنطاد لأقرب متر.

### تحقق من فهمك

١ يقف شخص على بعد ٥٠ متر من قاعدة برج، رصد زاوية ارتفاع قمة برج، فوجد أن قياسها ٢٥°. أوجد ارتفاع البرج لأقرب متر.

٢ رصد شخص طائرة على ارتفاع ١٠٠٠ متر، فوجد أن قياس زاوية ارتفاعها ١٧° ٢٥°. أوجد المسافة بين الراصد و الطائرة.

٣ رصد شخص واقف على سطح الأرض طائرة على ارتفاع ٨٠٠ متر عن سطح الأرض، فوجد أن قياس زاوية ارتفاعها ١٧° ٢٥°. أوجد المسافة بين الشخص والطائرة.

## تمارين (٥ - ٤)

١. خيوطها ٤٢ مترًا، فإذا كانت الزاوية التي يصنعها الخيط مع الأرض الأفقية تساوي  $63^\circ$ . ارتفاع الطائرة عن سطح الأرض.

٢. من زاوية ارتفاع قمة مئذنة على سطح الأرض تبعد ٤٢ مترًا عن قاعدتها يساوي  $52^\circ$  فما قرب متر؟

٣. متى وجد راصد من قمته أن قياس زاوية انخفاض نقطة على الأرض  $68^\circ$  فما هي المسافة بعد لأقرب متر.

٤. طرفيه على حائط رأسى، ويرتفع عن سطح الأرض ٣,٨ متر والطرف السفلى للسلم على ية ميل السلم على الأرض  $64^\circ$ . أوجد لأقرب رقمين عشريين كلاً من:  
 أ) السفلى عن الحائط  
 ب) طول السلم

٥. ارتفاعه ٨ أمتار رصد شخص زاوية ارتفاع أعلى عمارة أمامه فوجد أن قياسها  $63^\circ$  ورصد عدها، فوجد أن قياسها  $28^\circ$ ، أوجد ارتفاع العمارة لأقرب متر.

٦. ية ارتفاع مئذنة من نقطة على بعد ١٤٠ مترًا من قاعدتها يساوي  $46^\circ 26'$  فما هو ارتفاع ر؟ وإذا قيست زاوية ارتفاع المئذنة نفسها من نقطة تبعد ١١٠ أمتار من قاعدتها، فأوجد ن زاوية ارتفاعها عندئذ.

٧. ياس زاوية ارتفاع منطاد مثبت هي  $\frac{\pi}{4}$ ، ولما سار الراصد فى مستوى أفقى نحو المنطاد لاهد أن قياس زاوية الارتفاع هي  $\frac{\pi}{4}$ . أوجد ارتفاع المنطاد لأقرب متر.

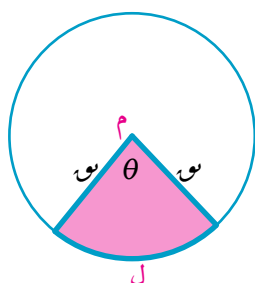
٨. منارة ارتفاعها ٥٠ مترًا، رصدت قمة المنارة فى لحظة ما فوجدت أن قياس زاوية ارتفاعها دقيقة رصدت قمة المنارة ثانية فوجدت أن قياس زاوية ارتفاعها  $22^\circ 50'$ . احسب سرعة تسير بسرعة منتظمة.

## القطاع الدائري

### Circular Sector

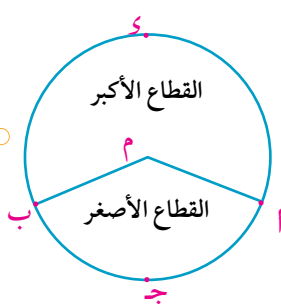


#### القطاع الدائري:



سبق أن درست العلاقة بين طول قوس (ل) من دائرة طول نصف قطرها (ر) وقياس الزاوية المركزية المقابلة لهذا القوس ( $\theta$ ) وعلمت أن:  $ل = \theta \times ر$ . فهل يمكنك إيجاد مساحة هذا الجزء من سطح الدائرة المظلل في الشكل المقابل؟

**القطاع الدائري:** هو جزء من سطح الدائرة محدود بنصفي قطرين وقوس.

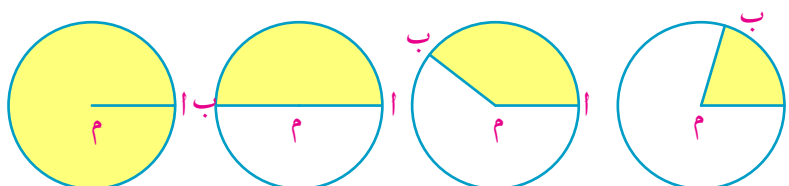


ففي الشكل المجاور  $\overline{م أ}$ ،  $\overline{م ب}$  يقسمان الدائرة إلى قطاعين دائريين، القطاع الأصغر  $\overline{م أ ج ب}$  والقطاع الأكبر  $\overline{م أ س ب}$ . وتسمى  $\triangle م ب$  بزاوية القطاع الأصغر،  $\triangle م ب$  المنعكسة بزاوية القطاع الأكبر.

#### Area of the Circular sector

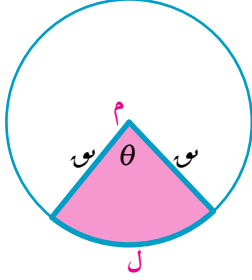
#### مساحة القطاع الدائري

#### نشاط:



- الأشكال الموضحة بالشكل العلوي تمثل عددًا من الدوائر المتطابقة:
- 1- هل زيادة مساحات القطاعات الدائرية ناتج عن زيادة طول نصف قطر الدائرة؟
  - 2- هل زيادة مساحات القطاعات الدائرية ناتج عن زيادة قياس زاوية القطاع الدائري؟
  - 3- إذا استمرت الزيادة في قياس زاوية القطاع إلى أن ينطبق الضلع النهائي  $\overline{م ب}$  على الضلع الابتدائي  $\overline{م أ}$  فماذا تتوقع أن تكون مساحة القطاع؟

## أولاً: مساحة القطاع الدائري بمعلومية قياس زاويته المركزية وطول نصف القطر



مساحة القطاع يمثل جزء من مساحة دائرة قياس زاويتها المركزية يساوي  $\pi r^2$ .

من النشاط السابق نستنتج أن:

$$\frac{\text{مساحة القطاع}}{\pi r^2} = \frac{\text{مساحة الدائرة}}{\text{مساحة الدائرة}}$$

$$\text{أي أن مساحة القطاع} = \frac{\text{مساحة الدائرة} \times \theta}{\pi r^2}$$

$$= \frac{\pi r^2 \times \theta}{\pi r^2} = \theta \times \frac{1}{r^2} \times \pi r^2 = \theta \times \frac{1}{r^2} \times \pi r^2$$

$$\text{مساحة القطاع الدائري} = \frac{1}{r^2} \times \theta \times \pi r^2 \quad (\text{حيث } \theta \text{ زاوية القطاع، } r \text{ طول نصف قطر دائرته})$$

**تفكير ناقد:** هل تعتبر الدائرة قطاعاً دائرياً؟ وضح ذلك

### مثال

١ أوجد مساحة القطاع الدائري الذي طول نصف قطره ١٠ سم وقياس زاويته  $1,2^\circ$

الحل

صيغة القانون: مساحة القطاع الدائري =  $\frac{1}{r^2} \times \theta \times \pi r^2$

$$\text{بالتعويض عن } r = 10, \theta = 1,2^\circ: \frac{1}{10^2} \times 1,2 \times \pi \times 10^2 = 1,2 \times \pi = 3,77 \text{ سم}^2$$

### حاول أن تحل

١ قطاع دائري مساحته  $270 \text{ سم}^2$  وطول نصف قطره ١٥ سم، أوجد بالراديان قياس زاويته.

**ثانياً: إيجاد مساحة القطاع الدائري بمعلومية زاويته بالدرجات:**

$$\therefore \frac{\text{مساحة القطاع}}{\text{مساحة دائرته}} = \frac{\frac{1}{r^2} \times \theta \times \pi r^2}{\pi r^2}$$

$$\text{ولكن } \frac{\theta}{360} = \frac{\text{مساحة القطاع}}{\text{مساحة دائرته}}$$

$$\therefore \text{مساحة القطاع} = \frac{\theta}{360} \times \text{مساحة الدائرة}$$

### تذكر

العلاقة بين القياس الستيني والقياس الدائري هي:

$$\frac{\theta}{360} = \frac{\theta}{\pi}$$

### مثال

٢ قطاع دائري طول نصف قطره ١٦ سم وقياس زاويته  $120^\circ$ ، أوجد مساحته لأقرب سنتيمتر مربع.

الحل

صيغة القانون: مساحة القطاع =  $\frac{\theta}{360} \times \pi r^2$

$$\text{بالتعويض عن } r = 16, \theta = 120^\circ: \frac{120}{360} \times \pi \times (16)^2 = \frac{1}{3} \times \pi \times 256 = 268,1 \text{ سم}^2 \approx 268 \text{ سم}^2$$



حاول أن تحل

٢) قطاع دائري قياس زاويته  $60^\circ$  وطول نصف قطره  $12$  سم أوجد مساحته لأقرب رقم عشري واحد.

تذكر

طول القوس الذي يقابل زاوية مركزية قياسها  $\theta$  في دائرة طول نصف قطرها  $r$  يتحدد من العلاقة:  
 $l = r \times \theta$

ثالثاً: إيجاد مساحة القطاع الدائري بمعلومية طول قوسه

تعلم أن: مساحة القطاع الدائري  $= \frac{1}{2} r \times \theta$

$$\frac{1}{2} r \times \theta = \frac{l}{r} \times \frac{1}{2} r$$

(وذلك بالتعويض عن:  $\theta = \frac{l}{r}$ )

مثال

٣) أوجد مساحة قطاع دائري محيطه يساوي  $28$  سم، وطول نصف قطره  $8$  سم.

الحل

$$28 = l + 2r \quad \text{أي} \quad 28 = l + 16$$

$$28 = l + 16 \times 2 \quad \text{بالتعويض عن } r = 8 \text{ سم:}$$

$$l = 28 - 32 = -4 \text{ سم}$$

بالتبسيط:

$$\text{صيغة القانون: مساحة القطاع} = \frac{1}{2} l r$$

$$\text{بالتعويض عن: } l = 12 \text{ سم، } r = 8 \text{ سم:}$$

$$\text{مساحة القطاع} = \frac{1}{2} \times 12 \times 8 = 48 \text{ سم}^2$$



محيط القطاع الذي طول قوسه  $l$  وطول نصف قطره  $r$  يتحدد من العلاقة:  
 محيط القطاع  $= l + 2r$

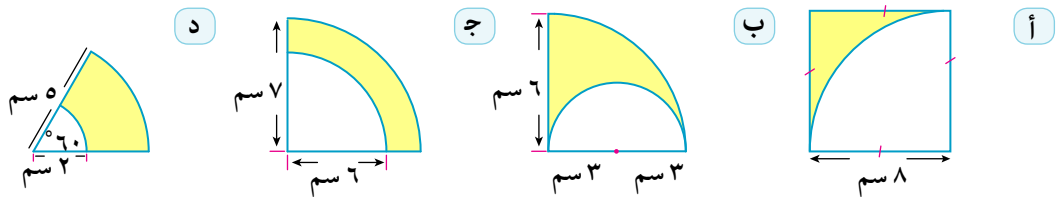


حاول أن تحل

٣) الربط بالجغرافيا: إذا علمت أن خط الاستواء هو دائرة طول نصف قطرها  $6380$  كم، فأوجد المسافة بين مدينتين على خط الأستواء إذا كان القوس الواصل بينهما يقابل زاوية قياسها  $30^\circ$  عند مركز الأرض.

تحقق من فهمك

١) أوجد بدلالة  $\pi$  مساحة الجزء المظلل في كل شكل من الأشكال الآتية:



## تمارين (٥ - ٥)

أولاً: أكمل ما يأتي

- ١) مساحة القطاع الدائري الذي فيه  $l = 6$  سم،  $r = 4$  سم يساوي
- ٢) مساحة القطاع الدائري الذي طول نصف قطره يساوي ٤ سم، ومحيطه ٢٠ سم تساوي ..... سم<sup>٢</sup>.
- ٣) محيط القطاع الدائري الذي مساحته ٢٤ سم<sup>٢</sup>، طول قوسه ٨ سم يساوي .....

ثانياً: اختيار من متعدد

- ١) مساحة القطاع الدائري الذي قياس زاويته ١, ٢° وطول نصف قطره ٤ سم يساوي .....  
 أ) ٤, ٨ سم<sup>٢</sup>      ب) ٩, ٦ سم<sup>٢</sup>      ج) ١٢, ٨ سم<sup>٢</sup>      د) ١٩, ٦ سم<sup>٢</sup>
- ٢) محيط القطاع الدائري الذي طول قوسه ٤ سم وطول قطره ١٠ سم يساوي .....  
 أ) ١٤ سم      ب) ٢٠ سم      ج) ٣٠ سم      د) ٥ سم
- ٣) مساحة القطاع الدائري الذي قياس زاويته ١٢٠° وطول نصف قطره ٣ سم تساوي .....  
 أ)  $3\pi$  سم<sup>٢</sup>      ب)  $6\pi$  سم<sup>٢</sup>      ج)  $9\pi$  سم<sup>٢</sup>      د)  $12\pi$  سم<sup>٢</sup>
- ٤) مساحة القطاع الدائري الذي محيطه ١٢ سم وطول قوسه ٦ سم تساوي .....  
 أ) ٦ سم<sup>٢</sup>      ب) ٩ سم<sup>٢</sup>      ج) ١٢ سم<sup>٢</sup>      د) ١٨ سم<sup>٢</sup>
- ٥) إذا كانت مساحة قطاع دائري تساوي ١١٠ سم<sup>٢</sup> وقياس زاويته ٢, ٢° فإن طول نصف قطره يساوي: .....  
 أ) ٢ سم      ب) ٥ سم      ج) ١٠ سم      د) ٢٠ سم

ثالثاً: أجب عن الأسئلة الآتية

- ١) أوجد مساحة القطاع الدائري الذي قطره دائرته ٢٠ سم وقياس زاويته ١٢٠°.
- ٢) قطاع دائري طول قوسه ١٦ سم وطول نصف قطره ٩ سم. أوجد مساحته
- ٣) قطاع دائري طول قوسه ٧ سم، محيطه ٢٥ سم. أوجد مساحته.
- ٤) **الربط بالزراعة:** حوض زهور على شكل قطاع دائري مساحته ٤٨ م<sup>٢</sup> وطول قوسه ٦ م. أوجد محيطه وطول نصف قطره دائرته.
- ٥) قطاع دائري محيطه ٢٤ سم وطول قوسه ١٠ سم. أوجد مساحة سطح الدائرة التي تحوي هذا القطاع.

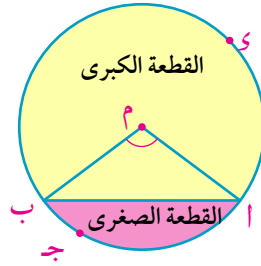
# القطعة الدائرية

## Circular Segment

تعلم

### القطعة الدائرية

القطعة الدائرية هي جزء من سطح الدائرة محدود بقوس فيها ووتر مار بنهايتي ذلك القوس.



الوتر  $\overline{AB}$  يقسم الدائرة إلى قطعتين دائرتين تسمى القطعة الصغيرة  $AJB$  والقطعة الكبرى  $AIB$ ، وتسمى  $\triangle AMB$  بزاوية القطعة الصغيرة بينما  $\triangle AMB$  المنعكسة بزاوية القطعة الكبرى.

### إيجاد مساحة القطعة الدائرية:

#### تذكر

مساحة المثلث =  $\frac{1}{2} \times \text{ق} \times \text{ع}$

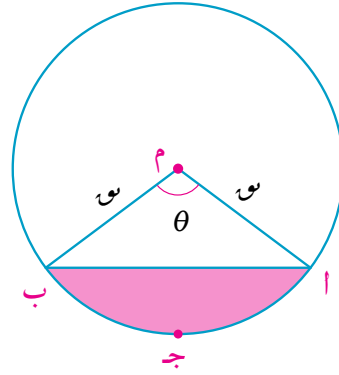
حيث:

$$\text{جا } \theta = \frac{\text{ع}}{\text{ق}}$$

$$\text{ع} = \text{ق} \times \text{جا } \theta$$

مساحة المثلث =

$$\frac{1}{2} \times \text{ق} \times \text{ق} \times \text{جا } \theta$$



مساحة القطعة الصغيرة  $AJB$

= مساحة القطاع الأصغر  $MAB$  - مساحة سطح المثلث  $MAB$

$$= \frac{1}{2} \times \text{ق}^2 \times \theta - \frac{1}{2} \times \text{ق} \times \text{ق} \times \text{جا } \theta$$

$$\text{مساحة القطعة الدائرية} = \frac{1}{2} \times \text{ق}^2 (\theta - \text{جا } \theta)$$

حيث  $\text{ق}$  طول نصف قطر دائرتها،  $\theta$  هو قياس زاوية القطعة.

**فكر:** هل يمكنك إيجاد مساحة القطعة الكبرى بمعلومية مساحة القطعة الصغيرة؟  
وضح ذلك.

## مثال

١ أوجد مساحة القطعة الدائرية التي طول نصف قطرها ٨ سم، قياس زاويتها  $100^\circ$ .

الحل

$$\frac{\pi \theta}{360} \approx \frac{\pi}{180} \times 100 = \theta$$

$$\theta = 100^\circ$$

مساحة القطعة الدائرية =  $\frac{1}{3} \theta - \theta$  (جا)

$$\text{مساحة القطعة الدائرية} = \frac{1}{3} \times 64 \times \left( \frac{\pi}{3} - 100^\circ \right) \approx 67,7758 \text{ سم}^2$$

## حاول أن تحل

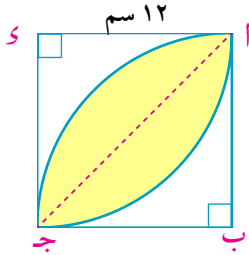
١ أوجد مساحة القطعة الدائرية التي طول نصف قطرها ١٠ سم، قياس زاويتها  $2,2^\circ$  مقرباً الناتج لأقرب رقمين عشريين.

## مثال

٢ في الشكل المقابل :

دائرتان متطابقتان ، مركزاهما ب ، د و متقاطعتان في أ ، ح طول نصف قطر كلا منهما ١٢ سم . أوجد مساحة المنطقة المشتركة بينهما.

الحل



نرسم  $\overline{AB}$  فيقسم الجزء المظلل إلى قطعتين متساويتين في المساحة حيث الزاوية المركزية لكل منها  $90^\circ$  ونصف قطر كل منها ١٢ سم.

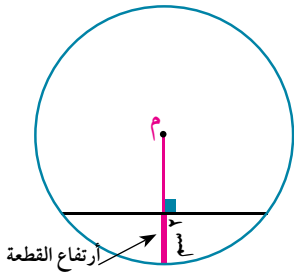
مساحة الجزء المظلل =  $2 \times$  مساحة القطعة الدائرية

$$= 2 \times \left( \frac{1}{3} \theta - \theta \right)$$

$$= 2 \times \left( \frac{\pi}{3} - 90^\circ \right) \times 144 = 144 \times \left( \frac{\pi}{3} - 90^\circ \right) \approx 82,19 \text{ سم}^2$$

## حاول أن تحل

٢ أوجد مساحة القطعة الدائرية الكبرى التي طول وترها ١٢ سنتيمتراً وارتفاعها ٢ سنتيمتر مقرباً الناتج لأقرب سنتيمتر مربع.

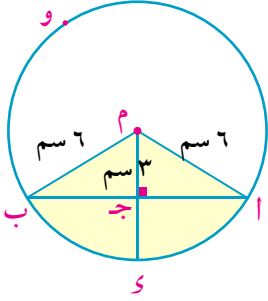


## تحقق من فهمك

١ **زينة:** حوض زهور على شكل دائرة طول نصف قطرها ٨ أمتار، رسم في الدائرة وتر طوله ٨ أمتار. احسب مساحة القطعة الدائرية الصغرى لأقرب رقم عشري واحد.

٢ **زراعة:** حوض للزرع على شكل دائرة طول نصف قطرها ٤ أمتار، قُسم إلى أربعة أجزاء بواسطة مثلث متساوي الأضلاع تقع رؤوسه على الدائرة. احسب مساحة إحدى القطع الدائرية الصغرى لأقرب رقمين عشريين .

## تمارين (٥ - ٦)

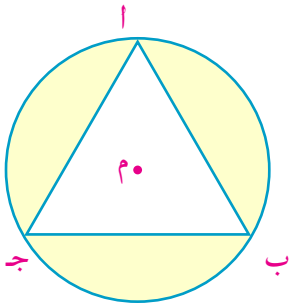


١ في الشكل المرسوم:

- م دائرة طول نصف قطرها ٦ سم  $\overline{OM} \perp \overline{AB}$  ، م جـ = ٣ سم.
- أ ارتفاع القطعة الدائرية الصغرى أ ب = ..... سم
- ب ارتفاع القطعة الدائرية الكبرى أ ب = ..... سم
- ج قياس زاوية القطعة الدائرية الصغرى أ ب = ..... °
- د قياس زاوية القطعة الدائرية الكبرى أ ب = ..... °
- هـ مساحة سطح المثلث م أ ب = ..... سم<sup>٢</sup>.
- و مساحة القطاع الدائري م أ ب بدلالة  $\pi$  = ..... سم<sup>٢</sup>.
- ز مساحة القطعة الدائرية الصغرى بدلالة  $\pi$  = ..... سم<sup>٢</sup>.

٢ أوجد مساحة القطعة الدائرية التي

- أ طول نصف قطر دائرتها ١٢ سم وقياس زاويتها يساوي ٤, ١°.
- ب أوجد مساحة القطعة الدائرية التي طول نصف قطر دائرتها ٨ سم، وقياس زاويتها يساوي ١٣٥°.
- ج أوجد مساحة القطعة الدائرية التي طول نصف قطر دائرتها ١٤ سم وطول قوسها ٢٢ سم.



٣ في الشكل المرسوم:

أ ب ج مثلث متساوي الأضلاع مرسوم، داخل الدائرة م التي طول نصف قطرها ٨ سم. أوجد مساحة كل جزء من القطع الدائرية المظللة.

٤ أوجد مساحة القطعة الدائرية الكبرى التي طول وترها يساوي طول نصف قطر دائرتها يساوي ١٢ سم.

٥ أوجد مساحة القطعة الدائرية التي:

أ طول وترها ٦ سم ، وطول نصف قطر دائرتها ٥ سم.

ب ارتفاعها ٥ سم وطول نصف قطر دائرتها ١٠ سم.

٦ وتر في دائرة طوله ٨ سم على بعد ٣ سم من مركزها . أوجد مساحة القطعة الدائرية الصغرى الحادثة من تقاطع هذا الوتر مع سطح الدائرة.

# المساحات

## Areas

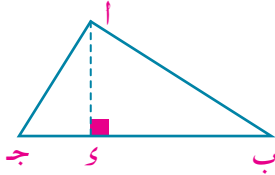


### The Area of a Triangle

### مساحة المثلث:

سبق أن درست مساحة المثلث وعلمت أن مساحته تتحدد كالآتي:

$$\text{مساحة المثلث} = \frac{1}{2} \times \text{طول القاعدة} \times \text{الارتفاع}$$



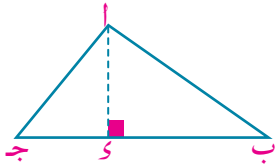
ففي الشكل المجاور:

$$\text{مساحة المثلث} = \frac{1}{2} \times \text{ب} \times \text{ا}$$

**فكر:** هل تنطبق هذه العلاقة على المثلث القائم الزاوية والمثلث المنفرج الزاوية؟

### مساحة المثلث بمعلومية طولى ضلعين والزاوية المحصورة بينهما

### The Area of a triangle in terms of the lengths of two sides and the included angle



من الشكل المقابل:

$$\text{جانب} = \frac{\text{ا}}{\text{ب}} \text{ أي أن: } \text{ا} = \text{ب} \times \text{جانب}$$

ومن قانون مساحة المثلث:

$$\text{مساحة المثلث} = \frac{1}{2} \times \text{ب} \times \text{ج} \times \text{ا}$$

$$= \frac{1}{2} \times \text{ب} \times \text{ج} \times \text{ب} \times \text{جانب}$$

**تعبير شفهي:** أوجد مساحة المثلث بمعلومية كل من:

Ⓐ ا، ب، ج

Ⓑ ا، ب، ج

وبوجه عام نستنتج أن:

مساحة المثلث = نصف حاصل ضرب طولى ضلعين  $\times$  جيب الزاوية المحصورة بينهما.

## مثال

١ أوجد مساحة المثلث أب ج الذي أب = ٩ سم، أج = ١٢ سم، و  $(\angle أ) = ٤٨^\circ$  مقرباً الناتج لأقرب رقمين عشريين.

## الحل

مساحة المثلث أب ج =  $\frac{1}{2} \times أب \times أج \times \sin أ$   
 بالتعويض عن أب = ٩ سم، أج = ١٢ سم، و  $(\angle أ) = ٤٨^\circ$   
 مساحة المثلث أب ج =  $\frac{1}{2} \times ٩ \times ١٢ \times \sin ٤٨^\circ \approx ٤٠,١٣$  سم<sup>٢</sup>

$$\rightarrow 1 \div 2 \times 9 \times 12 \times \sin 48 =$$

## حاول أن تحل

١ أوجد مساحة المثلث أب ج الذي فيه ب ج = ١٦ سم، ب أ = ٢٢ سم، و  $(\angle ب) = ٦٣^\circ$  مقرباً الناتج لأقرب ثلاثة أرقام عشرية.

## The Area of a Convex Quadrilateral

## إيجاد مساحة الشكل الرباعي المحدب

في الشكل المقابل:

أ ب ج د شكل رباعي فيه  $\overline{أ ج} \cap \overline{ب د} = \{م\}$

$\overline{أ ه} \perp \overline{ب د}$  و  $\overline{ج و} \perp \overline{ب د}$ ،  $\theta$  هي الزاوية المحصورة بين القطرين.

مساحة الشكل الرباعي = مساحة  $\triangle أ ب د$  + مساحة  $\triangle ب ج د$

$$= \frac{1}{2} \times ب د \times أ ه + \frac{1}{2} \times ب د \times ج و$$

$$= \frac{1}{2} \times ب د \times (أ ه + ج و) = \frac{1}{2} \times ب د \times (أ م + م ج) \times \theta$$

$$= \frac{1}{2} \times ب د \times \theta \times (أ م + م ج) = \frac{1}{2} \times ب د \times أج \times \theta$$

وبوجه عام يكون مساحة الشكل الرباعي بمعلومية طولى قطريه والزاوية المحصورة بينهما هي:

مساحة الشكل الرباعي =  $\frac{1}{2}$  حاصل ضرب طولى قطريه  $\times$  جيب الزاوية المحصورة بينهما

**فكر:** هل تتغير مساحة الشكل الرباعي إذا استبدلنا الزاوية  $\theta$  بالزاوية المكملة لها؟ فسر إجابتك.

## مثال

٢ أوجد مساحة الشكل الرباعي الذي طولاً قطريه ١٢ سم، ١٦ سم وقياس الزاوية المحصورة بينهما  $68^\circ$  مقرباً الناتج لأقرب سنتيمتر مربع.

## الحل

صيغة المساحة هي:

مساحة الشكل الرباعي =  $\frac{1}{2}$  حاصل ضرب طولى قطريه  $\times$  جيب الزاوية المحصورة بينهما

$$\therefore \text{مساحة الشكل الرباعي} = \frac{1}{2} \times 12 \times 16 \times \sin 68^\circ \approx 89 \text{ سم}^2$$

## حاول أن تحل

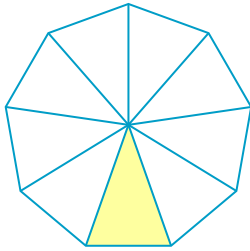
٢ أوجد مساحة الشكل الرباعي الذي طولاً قطريه ٣٢ سم، ٤٦ سم وقياس الزاوية المحصورة بينهما  $122^\circ$  مقرباً الناتج لأقرب رقم عشري واحد.

٣ **تفكير ناقدي:** احسب باستخدام القانون السابق مساحة كلاً من:

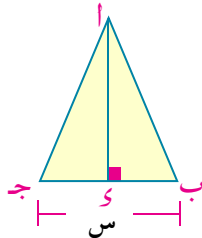
أ مربع طول قطره ١٠ سم

ب معين طولاً قطريه ٨ سم ، ١٢ سم - ماذا تلاحظ؟

## The area of a regular polygon



شكل (١)



شكل (٢)

## إيجاد مساحة المضلع المنتظم

شكل (١): يمثل مضلع منتظم، عدد أضلاعه  $n$  وطول ضلعه  $s$ .

شكل (٢): يمثل أحد المثلثات المأخوذة من شكل (١)

$\therefore$  و  $(\triangle ب أ ج) = \frac{\pi}{n}$  (لماذا؟)

$\therefore$  ظلنا  $\frac{\pi}{n} = \frac{أ}{ب}$  أى أن  $أ = ب \times \sin \frac{\pi}{n}$

$أ = \frac{1}{2} س \times \sin \frac{\pi}{n}$  (حيث  $s$  طول ضلع المضلع)

مساحة المثلث  $= \frac{1}{2} ب \times ج = \frac{1}{2} \times ب \times \frac{1}{2} س \times \sin \frac{\pi}{n}$

$$= \frac{1}{4} س^2 \times \sin \frac{\pi}{n}$$

مساحة المضلع الذى عدد أضلاعه  $n$  وطول ضلعه  $s$  =

$$\frac{1}{4} n س^2 \times \sin \frac{\pi}{n}$$

## مثال

٣ أوجد مساحة الشكل الثماني المنتظم الذى طول ضلعه ٦ سم مقرباً الناتج لأقرب رقمين عشريين.



## الدل

مساحة الشكل المنتظم =  $\frac{1}{4} \times \text{ن س}^2 \times \text{ظنا} \frac{\pi}{\text{ن}}$

صيغة القانون

بالتعويض عن ن = ٨، س = ٦ سم:

$$\text{المساحة} = \frac{1}{4} \times ٨ \times ٦^2 \times \text{ظنا} \frac{١٨٠}{٨}$$

$$= ٧٢ \times \frac{١}{٢٢,٥} \approx ١٧٣,٨ \text{ سم}^2$$

## تعبير شفهي:

باستخدام صيغة القانون السابق أوجد مساحة كل من:

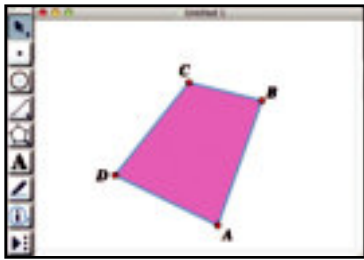
- ١- المثلث المتساوي الأضلاع      ٢- المربع      ٣- المسدس المنتظم

## حاول أن تحل

٤ أوجد مساحة الشكل الخماسي المنتظم الذي طول ضلعه ١٦ سم مقرباً الناتج لأقرب ثلاثة أرقام عشرية.

## نشاط

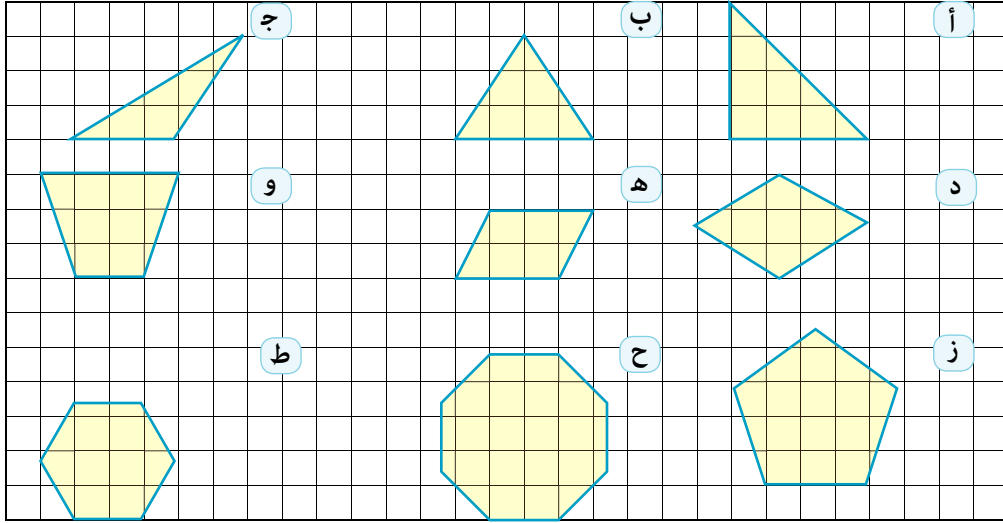
استخدم برنامج (GSP) المجاني SKETCHEXCHANGE وتحميله من الموقع <http://www.keycurriculum.com/products/sketchpad> يستخدم هذا البرنامج لرسم الأشكال الهندسية المختلفة وإيجاد أطوال أضلاعها وقياسات زواياها ومساحاتها كما يستخدم في رسم الدوال الجبرية وإيجاد خصائصها فمثلاً لرسم شكل رباعي وإيجاد مساحته نتبع الآتي:



- ١- نفتح البرنامج كما في الشكل المجاور.
- ٢- بالضغط على الأيقونة نختار صفة الشكل الذي نريد رسمه وبالضغط بالماوس نحدد نقاط الشكل على الرسم.
- ٣- بالضغط على الأيقونة نكتب رموز الشكل تلقائياً بمجرد تحديد نقاط الشكل.
- ٤- بالضغط على الأيقونة يمكن الاختيار المناسب لإجراء التحويلات الهندسية المختلفة على الشكل أو تغيير أبعاده.
- ٥- بالضغط على الأيقونة يمكن رسم قطع مستقيمة أو مستقيمت أو أشعة في الشكل.
- ٦- من التبويب (Measure) نختار نوع القياس المطلوب (محيط، مساحة، طول ضلع، قياس زاوية، ...) مع كتابة بيانات كل قياس بجوار الشكل.
- ٧- للتعرف على أدوات أكثر أو عمليات أخرى استخدم التبويب (Help).

## تمارين (٧ - ٥)

١ أوجد مساحة كل شكل من الأشكال الآتية باعتبار أن  $\square$  هي وحدة المساحة.



٢ أوجد مساحة المثلث أ ب جـ في كل من الحالات الآتية:

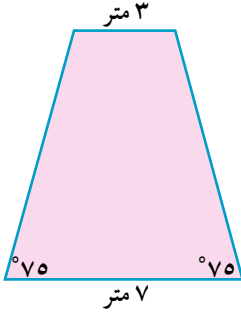
- أ أ ب = ٦ سم، ب جـ = ٨ سم،  $\angle$  ب =  $90^\circ$
- ب أ جـ = ١٢ سم وطول العمود المرسوم من ب على  $\overline{أ جـ}$  يساوي ٧ سم.
- ج أ ب = ١٦ سم، ب جـ = ٢٠ سم،  $\angle$  ب =  $46^\circ$
- د أ ب = ٨ سم، ب جـ = ٧ سم، أ جـ = ١١ سم.

٣ أوجد مساحة الشكل أ ب جـ د في كل من الحالات الآتية:

- أ متوازي أضلاع فيه أ ب = ٨ سم، ب جـ = ١١ سم،  $\angle$  ب =  $60^\circ$
- ب شبه منحرف طولاً قاعدتيه المتوازيتين  $\overline{أ د}$ ،  $\overline{ب جـ}$  يساوي ٧ سم، ١١ سم على الترتيب وطول العمود المرسوم من د على  $\overline{ب جـ}$  يساوي ٦ سم.
- ج معين فيه أ ب = ٨ سم، وقياس الزاوية المحصورة بين ضلعين متجاورين فيه تساوي  $58^\circ$ .

٤ أوجد مساحة كل مضلع منتظم من المضلعات الآتية (مقرباً الناتج لأقرب جزء من عشرة)

- أ خماسي منتظم طول ضلعه يساوي ١٦ سم.
- ب سداسي منتظم طول ضلعه يساوي ١٢ سم.



٥ **إنشاءات:** الشكل المقابل يرسم مجموعة من الدرجات تؤدي إلى مدخل مجمع سكني على شكل شبه منحرف متساوي الساقين قاعدته الكبرى لأسفل وعرضها ٧ أمتار وقاعدتها الصغرى لأعلى وعرضها ٣ أمتار، ويميل كل من ساقيه على القاعدة السفلى بزواوية قياسها ٧٥ أوجد:

أ طول قاعدته عند المنتصف.

ب طول كل من ساقيه (لأقرب جزء من عشرة).

ج مساحة شبه المنحرف لأقرب متر.

٦ **أحواض زينة:** صمم حوضاً لأسماك الزينة قاعدته على شكل خماسي منتظم طول قطره ٧٢ سم، أوجد لأقرب سنتيمتر مربع مساحة قاعدته.

٧ **زهور:** يصمم كريم حديقة لمنزله، ويرغب أن يكون الجزء المخصص للزهور على شكل سداسي منتظم مساحته ٣٦٠٥٤ متر مربع. أوجد طول ضلعه.

### تمارين عامة

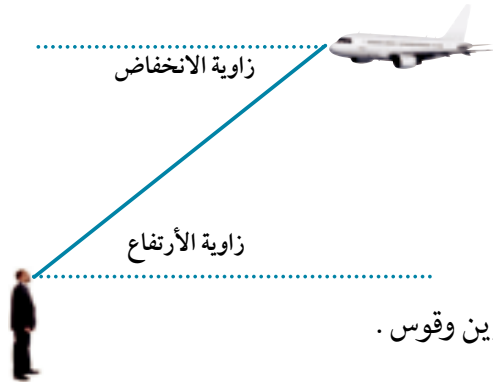
لمزيد من التمارين قم بزيارة موقع وزارة التربية والتعليم.

**المتطابقة:** هي متساوية صحيحة لجميع قيم المتغير الحقيقية والذي يُعرف به كل طرف من طرفي المتساوية.

$$\text{متطابقات فيثاغورث: } \sin^2 \theta + \cos^2 \theta = 1, \quad \sec^2 \theta = 1 + \tan^2 \theta, \quad \csc^2 \theta = 1 + \cot^2 \theta$$

**إثبات صحة متطابقة:** لإثبات صحة متطابقة مثلثية ثبت أن الدالتين المحددتين لطرفيها متساويتان.

**المعادلة:** هي متساوية صحيحة لبعض الأعداد الحقيقية التي تحقق هذه المتساوية وغير صحيحة للبعض الآخر الذي لا يحققها.



**زاوية الارتفاع وزاوية الانخفاض:**

زاوية الارتفاع أو الانخفاض هي اتحاد الشعاع الأفقي مع الشعاع البادئ من الجسم مآراً بعين الراصد. قياس زاوية الارتفاع = قياس زاوية الانخفاض (بالتبادل).

**القطاع الدائري:** هو جزء من سطح الدائرة محدودة بنصفي قطرين وقوس.

(حيث  $\theta$  زاوية القطاع،  $r$  نصف قطر دائرته)

$$\text{مساحة القطاع الدائري} = \frac{1}{2} r^2 \theta$$

(حيث  $s$  زاوية القطاع بالدرجات)

$$= \frac{s}{360} \times \text{مساحة الدائرة}$$

(حيث  $l$  طول القوس،  $r$  طول نصف قطر دائرته)

$$= \frac{1}{2} l r$$

**القطعة الدائرية:** هي جزء من سطح الدائرة محدود بقوس فيها وتر مار بنهايتي ذلك القوس.

$$\text{مساحة القطعة} = \frac{1}{2} r^2 (\theta - \sin \theta)$$

(حيث  $\theta$  قياس الزاوية المركزية للقطعة،  $r$  طول نصف قطر دائرتها).

$$\text{مساحة المثلث} = \frac{1}{2} \text{طول القاعدة} \times \text{الارتفاع}$$

$$= \frac{1}{2} \text{حاصل ضرب ضلعين} \times \text{جيب الزاوية المحصورة بينهما.}$$

$$\text{مساحة الشكل الرباعي} = \frac{1}{2} \text{حاصل ضرب القطرين} \times \text{جيب الزاوية المحصورة بينهما.}$$

$$\text{مساحة الشكل المنتظم} = \frac{1}{4} n s^2 \times \cot \frac{\pi}{n}$$

(حيث  $n$  عدد أضلاع المضلع،  $s$  طول الضلع)

**معلومات إثرائية**



قم بزيارة الموقع الآتي:

# اختبارات عامة

## الاختبار الأول

## (الجبر وحساب المثلثات)

السؤال الأول: اختر الإجابة الصحيحة من بين الإجابات المعطاة:

- ١) النقطة التي تنتمي إلى مجموعة حل المتباينات الآتية:  $س < ٢$  ،  $ص < ١$  ،  $س + ص \leq ٣$  هي:
 

أ) (١، ٢)      ب) (٢، ١)      ج) (٢، ٣)      د) (٣، ١)
- ٢) إذا كانت أمصفوفة على النظم  $٣ \times ١$ ، ب مصفوفة على النظم  $٣ \times ١$  فإنه يمكن إجراء العملية الآتية:
 

أ)  $أ + ب$       ب)  $ب + مد$       ج)  $أ ب مد$       د)  $أ ب$
- ٣) مجموعة حل المعادلتين  $س - ٢ = ٣$  ،  $ص = ١$  ،  $س + ٢ = ٧$  هي:
 

أ) (٢، ١)      ب) (١، ٢)      ج) (٣، ٢)      د) (٢، ٣)
- ٤) قطاع دائري محيطه  $١٠$  اسم وطول قوسه  $٢$  اسم فإن مساحته بالسنتيمترات المربعة تساوى:
 

أ) ٤      ب) ٨      ج) ١٠      د) ٢٠
- ٥) مجموعة حل المعادلة  $جاس + جتا س = ٠$  حيث  $١٨٠^\circ > س > ٣٦٠^\circ$  تساوى:
 

أ)  $\{٢١٠^\circ\}$       ب)  $\{٢٢٥^\circ\}$       ج)  $\{٢٤٠^\circ\}$       د)  $\{٣١٥^\circ\}$

السؤال الثاني:

أ) حل نظام المعادلات الخطية التالية باستخدام المصفوفات.

$$س - ٣ = ٤ ، س + ٣ = ٤$$

ب) أثبت صحة المتطابقة:  $جا \theta$  جا  $(٩٠^\circ - \theta)$  ظا  $\theta = ١ - جتا^٢ \theta$

السؤال الثالث:

أ) أوجد مساحة المثلث الذى رؤوسه  $(٢، -٤)$ ،  $(١، ٣)$ ،  $(٥، -٢)$  باستخدام المحددات.

ب) أوجد مجموعة حل المعادلة  $٢ جاس + ١ = ٠$  حيث  $س \in [٠، \pi]$

السؤال الرابع:

أ) أوجد قيم  $س$  التي تحقق المعادلة  $٣ = \begin{vmatrix} ٠ & ٠ & س \\ س & ١ & س \\ س & ٢ & ٥ \end{vmatrix}$

ب) رُصد قارب من قمة فانار ارتفاعه  $٥٠$  متراً، فوجد أن زاوية انخفاضه  $٣٥^\circ$ ، أوجد بعد القارب عن قمة الفانار.

السؤال الخامس:

أ)  $\overline{أ ب}$  وتر فى دائرة طوله  $٨$  سم يقابل زاوية مركزية قياسها  $٦٠^\circ$ . أوجد لأقرب رقم عشرى واحد مساحة سطح القطعة الدائرية الصغرى التي وترها  $\overline{أ ب}$ .

ب) عيّن مجموعة حل المتباينات الآتية بياناً:

$$س \leq ٠ ، ص \leq ٠ ، س + ٣ \geq ٧ ، س + ٤ \geq ١٤$$

ثم أوجد من مجموعة الحل قيم  $س$ ،  $ص$  التي تجعل قيمة الدالة:

$$م = ٣٠ + ٥٠ ص$$

السؤال الأول: اختر الإجابة الصحيحة من بين الإجابات المعطاة:

١ إذا كانت مصفوفة على النظم  $3 \times 2$ ، ب مصفوفة على النظم  $3 \times 1$  فإن المصفوفة أ ب تكون على النظم:

- أ  $3 \times 3$     ب  $1 \times 3$     ج  $1 \times 2$     د  $2 \times 1$

٢ النقطة التي تنتمي إلى مجموعة حل المتباينات الآتية هي:

س  $\leq 0$  ، ص  $\leq 0$  ،  $2س + ص > 4$  ،  $3س + ص > 6$  هي:

- أ  $(3, -1)$     ب  $(0, 3)$     ج  $(3, 2)$     د  $(1, 1)$

٣ إذا كان  $\left| \begin{matrix} 2س^2 & ٢ \\ ٣ & ٤ \end{matrix} \right| = 10$  فإن س تساوي:

- أ ٢    ب ٣    ج ٤    د ٥

٤ أبسط صورة للمقدار  $1 + \text{جتا}^2 \theta$  هي:

- أ  $\text{جا}^2 \theta$     ب  $\text{جتا}^2 \theta$     ج  $\text{قا}^2 \theta$     د  $\text{قتا}^2 \theta$

السؤال الثاني:

أ حل نظام المعادلات الخطية التالية باستخدام طريقة كرامر:

$$2س - 3ص = 3 \quad , \quad 2س + 3ص = 5$$

ب أثبت صحة المتطابقة  $\frac{\text{جتا} س \times \text{ظا} س}{\text{قتا} س} = 1 - \text{جتا}^2 س$

السؤال الثالث:

أ أوجد المصفوفة أ التي تحقق العلاقة:  $\begin{pmatrix} 2 & ٢ \\ ٣ & ٤ \end{pmatrix} \times \begin{pmatrix} ٢٣١٢ \\ ١٣٨ \end{pmatrix} = \begin{pmatrix} ٢ & ٢ \\ ٣ & ٤ \end{pmatrix}$

ب أوجد الحل العام للمعادلة:  $\text{جتا} \left( \theta - \frac{\pi}{3} \right) = \frac{1}{3}$

السؤال الرابع:

أ إذا كان  $\begin{pmatrix} ٤ & ٢ \\ ٣ & ٤ \end{pmatrix} = \text{فأثبت أن } 21 - 10 + 22 = 1$

ب قطعة دائرية قياس زاويتها المركزية  $90^\circ$  ومساحة سطحها  $56 \text{ سم}^2$ . أوجد طول نصف قطرها.

السؤال الخامس:

أ من نقطة على سطح الأرض تبعد  $50$  متر عن قاعدة عمود رأسي، وجد أن قياس زاوية ارتفاع قمة

العمود هي  $19.24^\circ$ . أوجد لأقرب متر ارتفاع العمود عن سطح الأرض.

ب أوجد القيمة العظمى لدالة الهدف  $س + 2ص = 8$  تحت القيود:

$$س \leq 0 \quad , \quad ص \leq 0$$

$$س + 3ص \geq 18 \quad , \quad -4س + ص \leq -8$$

# اختبارات عامة

(الهندسة)

## الاختبار الثالث

السؤال الأول: أكمل ما يأتي:

- ١ إذا كان  $\vec{a} = \vec{a}_2 + \vec{a}_3$ ،  $\vec{b} = \vec{a}_3 - \vec{a}_2$  فإن  $\vec{a} - \vec{b} = \dots$
- ٢ إذا كان  $\vec{a} = (1, 2)$ ،  $\vec{b} = (3, -1)$  متوازيين فإن  $\vec{c} = \dots$
- ٣ إذا كانت  $\vec{a} = (4, -4)$ ،  $\vec{b} = (5, -8)$  جـ  $\exists \vec{a} \vec{b}$  بحيث أ جـ : ج ب = ٢ : ١ فإن جـ = (.....، .....)
- ٤ إذا كان المستقيمان  $3x - 2y = 7$ ،  $0 = 5 + 3x + y$  متعامدين فإن  $\vec{a} = \dots$
- ٥ المعادلة المتجهة للمستقيم الذي يمر بالنقطة  $(2, 3)$  وبتجه الاتجاه له  $(3, 4)$  هي .....

السؤال الثاني:

- أ إذا كان  $\|\vec{a} - \vec{b}\| = 5$ ،  $\|\vec{a} + \vec{b}\|$  فأوجد قيمة  $\vec{c}$ .
- ب أوجد طول العمود المرسوم من النقطة  $(1, 2)$  على المستقيم الذي معادلته  $5x - 12y = 7$ .

السؤال الثالث:

- أ أ ب جـ د شكل رباعي، هـ منتصف  $\vec{a} \vec{b}$ ، و منتصف  $\vec{c} \vec{d}$ . أثبت أن:  $\vec{a} + \vec{c} = \vec{b} + \vec{d}$
- ب أوجد معادلة المستقيم الذي يمر بنقطة تقاطع المستقيمين  $2x + 3y = 5$  والمستقيم  $\vec{r} = (0, 1) + k(1, 1)$  ويمر بالنقطة  $(3, 5)$ .

السؤال الرابع:

- أ إذا كانت نقطة جـ  $(2, 5)$  تقسم  $\vec{a} \vec{b}$  بنسبة ٤ : ١ وكانت أ  $(3, 8)$  فأوجد إحداثيي نقطة ب.
- ب أثبت أن المثلث الذي رؤوسه النقط ص  $(4, 2)$ ، س  $(3, 5)$ ، ع  $(-5, 1)$  قائم الزاوية في ص، ثم احسب مساحة الدائرة المارة برؤوسه.

السؤال الخامس:

- إذا كان  $\vec{a} : \vec{b} : \vec{c} = 3 : 2 : 7$ ،  $\vec{a} = 3x - 2y = 4$ ،  $\vec{b} = 7x - 2y = 0$  فأوجد:
- أ قياس الزاوية الحادة بين  $\vec{a}$ ،  $\vec{b}$ .
  - ب المعادلة المتجهة للمستقيم الذي يمر بنقطة تقاطع المستقيمين  $\vec{a}$ ،  $\vec{b}$  والنقطة  $(3, 4)$ .

السؤال الأول: أكمل ما يأتي:

- ١ إذا كان  $\vec{a} = (3, 2)$ ،  $\vec{b} = (2, 1)$  فإن  $\vec{a} \cdot \vec{b} = \dots$
- ٢ إذا كان  $\vec{a} = (2, 4)$ ،  $\vec{b} = (2, 1)$  فإن  $\|\vec{a} - \vec{b}\| = \dots$
- ٣ إذا كانت  $\vec{a} = (3, -4)$ ،  $\vec{b} = (6, -8)$  فإن محور السينات يقسم  $\vec{a}$  بنسبة  $\dots$ :
- ٤ قياس الزاوية الحادة بين المستقيمين اللذين ميلهما  $\frac{1}{3}$ ،  $2$  يساوي  $\dots$
- ٥ طول العمود المرسوم من النقطة  $(1, 1)$  إلى المستقيم  $s + v = 0$  يساوي  $\dots$

السؤال الثاني:

- أ إذا كان  $\vec{a} = (3, -1)$ ،  $\vec{b} = (4, 1)$  فأوجد قيمة  $\vec{a} \cdot \vec{b}$ .
- ب أوجد معادلة الخط المستقيم الذي يمر بالنقطة  $(-1, 0)$ ، ونقطة تقاطع المستقيمين  $s - 2v = 4$ ،  $s + 2v = 5$ .

السؤال الثالث:

- أ إذا كانت  $\vec{a} = (3, 4)$ ،  $\vec{b} = (5, -1)$ ،  $\vec{c} = (2, -2)$  ثلاثة رؤوس لمتوازي أضلاع  $\vec{a}$  ب ج  $\vec{c}$  فأوجد إحداثيي الرأس  $\vec{d}$ .
- ب أثبت أن المستقيمين  $s = (4, 0)$ ،  $\vec{c} = (1, -2)$ ،  $s + 2v = 2$  متوازيان، ثم أوجد أقصر بعد بينهما.

السؤال الرابع:

- أ إذا كان  $\vec{a} = (1, -4)$ ،  $\vec{b} = (5, -1)$  أوجد إحداثيي نقطة ج التي تقسم  $\vec{a}$  من الداخل بنسبة  $1:2$ .
- ب دائرة مركزها نقطة الأصل أثبت أن الوترين المرسومين في الدائرة والذان معادلتهما  $s^2 + 4v = 10$ ،  $s^2 - 12v = 5$  متساويان في الطول.

السؤال الخامس:

- أ ب ج  $\vec{c}$  شبه منحرف فيه  $\vec{a} \parallel \vec{b}$  فإذا كانت  $\vec{a} = (7, -1)$ ،  $\vec{b} = (3, -1)$ ، ج  $(2, 1)$ ،  $\vec{c} = (5, 5)$  (ص) أوجد قيمة  $\vec{c}$ .
- ب أوجد مساحة سطح شبه المنحرف  $\vec{a}$  ب ج  $\vec{c}$ .