

الامتحانات 2023[®]

التعليم الإلكتروني
تطبيق



الجزء الثاني

الصفحة الأولى
1
القسم الثاني
القسم الدراسي الثاني

سكان مصر

نمو وتركيب السكان في مصر.

توزيع السكان والكثافة السكانية في مصر.

المشكلات السكانية والاجتماعية
وسيناريوهات المستقبل.



- أسئلة على كل درس طبقاً للمعايير الجديدة.
- بنك أسئلة على الوحدة الثالثة.



الوحدة

3

الدرس الأول

الدرس الثاني

الدرس الثالث

محتويات الكتاب



الوحدة 3

سكان مصر.

الدرس الأول

الدرس الثاني

الدرس الثالث

نمو وتركيب السكان في مصر.

توزيع السكان والكثافة السكانية في مصر.

المشكلات السكانية والاجتماعية وسيناريوهات المستقبل.

الوحدة 4

الأنشطة الاقتصادية في مصر.

الدرس الأول

الدرس الثاني

الدرس الثالث

الدرس الرابع

النشاط الزراعي في مصر.

النشاط التصديقي والصناعي في مصر.

النقل والنجارة في مصر.

السياحة في مصر وتحديات الاقتصاد المصري.

؟ امتحانات شهرية.

؟ أسئلة استرشادية (من الكتاب المدرسي).

؟ اختبارات كتاب الامتحان.

✓ إرشادات للإجابة.

• مصر غنية بسكانها وبما يمتلكونه من طاقات وقدرات وهم المحور الأساسي والهدف الرئيسي لكافة أوجه التنمية، ويتطلب ذلك أن يكون لدينا بيانات دقيقة عن السكان.

مصادر البيانات السكانية

١ **التعدادات السكانية** عمليات جمع وحصر شامل للمعلومات المرتبطة بالسكان من حيث عددهم وتوزيعهم وتركيبهم وخصائصهم الاقتصادية والاجتماعية في منطقة معينة وفي فترة زمنية محددة.

• تُعد مصر أقدم الدول العربية والأفريقية في القيام بإجراء التعدادات السكانية، التي يقوم بها الجهاز المركزي للتعبئة العامة والإحصاء.

٢ **الإحصاءات الحيوية** تسجيلات المواليد والوفيات وحالات الزواج والطلاق وغيرها.

• بدأت الإحصاءات الحيوية في مصر عام ١٩٠١م.

توضيح

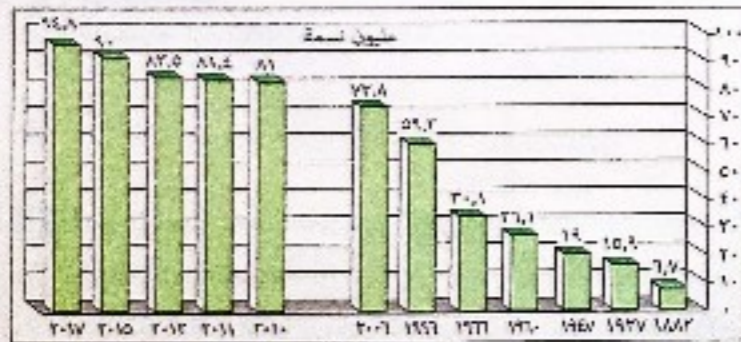
- تساعد البيانات السكانية على:
- تحديد الاحتياجات السكانية من الخدمات المختلفة (التعليمية - الصحية ...).
- معرفة قدرات المجتمع في الحاضر والمستقبل.
- اختبار الخطط التنموية المناسبة.

التمو السكاني

• من الرسم البياني المقابل نستنتج:

• من نمو سكان مصر بمراحل مختلفة حتى أصبح عدد السكان ٩٤,٨ مليون نسمة عام ٢٠١٧م حيث:

- تضاعف عدد السكان ٣ مرات خلال ٦٥ سنة (من عام ١٨٨٢م حتى عام ١٩٤٧م).



أعداد سكان مصر وفقًا لبعض التعدادات والتقديرات

- تضاعف عدد السكان ٣ مرات خلال ٤٩ سنة (من عام ١٩٦٦م حتى عام ٢٠١٥م).

!! يمكنك حساب معدل التمو السكاني السنوي بالمعادلة الآتية:


$$\text{معدل التمو السكاني السنوي} = \frac{\text{عدد السكان في التعداد الأحدث} - \text{عددهم في التعداد القديم}}{\text{التعداد القديم}} \times 100$$

الناتج
الفارق الزمني بين التعدادين

(*) بدأ أول تعداد سكاني في مصر عام ١٨٨٢م تلاه التعداد الثاني عام ١٨٩٧م واستمر التعداد يتم كل عشر سنوات حتى عام ١٩٤٧م، ثم جاء تعداد ١٩٦٠م، ثم تعداد ١٩٦٦م واستمر التعدادات تتم كل عشر سنوات وكان آخرها تعداد عام ٢٠١٦م.

نمو وتركيب السكان في مصر

الدرس 1



أهداف الدرس: في نهاية الدرس ينبغي أن يكون الطالب قادرًا على أن:

- يتعرف بعض المفاهيم السكانية مثل (تعداد - هرم سكاني - معدل التمو - نمو سكاني - تركيب سكاني - معدل المواليد - معدل الوفيات - معدل الزيادة الطبيعية).
- يميز بين التعدادات السكانية والإحصاءات الحيوية.
- يستنتج أهمية نظم المعلومات الجغرافية في الدراسات السكانية.
- يحلل الهرم السكاني في مصر.
- يحدد على خريطة مصر تيارات الهجرة الرئيسية.
- يفسر أسباب التمو السكاني في مصر.
- يستنتج أسباب الهجرة.
- يحلل الرسوم البيانية الخاصة بالسكان.
- يقدّر أهمية الدراسات السكانية في التخطيط المستقبلي في المجالات المختلفة.

أسباب زيادة عدد السكان (النمو السكاني) في مصر تتمثل في : **الزيادة الطبيعية** (زيادة غير الطبيعية)

الزيادة الطبيعية زيادة عدد السكان نتيجة لارتفاع معدلات المواليد وانخفاض معدلات الوفيات.

أي أن : **معدل الزيادة الطبيعية** = معدل المواليد - معدل الوفيات

معدلات المواليد عدد المواليد الأحياء في العام مقسومًا على عدد السكان في منتصف العام × ١٠٠٠

أي أن : **معدل المواليد** = $\frac{\text{عدد المواليد الأحياء في العام}}{\text{عدد السكان في منتصف العام}} \times 1000$

• معدلات المواليد مرتفعة بشكل عام في مصر حيث وصلت عام ٢٠١٢م إلى (٣٠.٤ في الألف)، وهو معدل مرتفع على المستوى العالمي وذلك بسبب :

- زواج الأطفال دون ١٨ عامًا.
- البطالة خاصة بين النساء.
- ارتفاع نسبة الأمية.
- ارتفاع نسبة الفقر الذي يدفع الأسرة إلى إنجاب عدد كبير من الأطفال لمساعدتها اقتصاديًا.

معدلات الوفيات عدد الوفيات في العام مقسومًا على عدد السكان في منتصف العام × ١٠٠٠

أي أن : **معدل الوفيات** = $\frac{\text{عدد الوفيات في العام}}{\text{عدد السكان في منتصف العام}} \times 1000$

• ارتفعت معدلات الوفيات في النصف الأول من القرن العشرين حيث بلغت (٢٧.٨ في الألف) عام ١٩٥٢م. • انخفضت معدلات الوفيات بشكل سريع لتصل (٦.١ في الألف) عام ٢٠١٢م، وهو معدل منخفض على المستوى العالمي.

لماذا

انخفضت معدلات الوفيات في مصر بشكل سريع بسبب ارتفاع مستوى الرعاية الصحية.



أجب أولاً بمقدماتك ثم تأكد من صحة إجاباتك

- عزلت أسباب انخفاض معدلات الوفيات في مصر بشكل سريع في أوائل القرن الحادي والعشرين بسبب :
- (١) الأحوال الاقتصادية.
 - (٢) الظروف السياسية.
 - (٣) الزيادة غير الطبيعية.
 - (٤) الأوضاع الاجتماعية.

استنتج العلاقة بين : انخفاض مستوى المعيشة، ومعدل النمو السكاني المرتفع في الريف.

الإجابة

(*) من العوامل التي تؤدي إلى انخفاض معدل النمو السكاني :
 • الركود الاقتصادي والحروب.
 • ارتفاع مستوى التعليم.
 • الانهيار السياسي.
 • دخول المرأة مجالات العمل المختلفة.

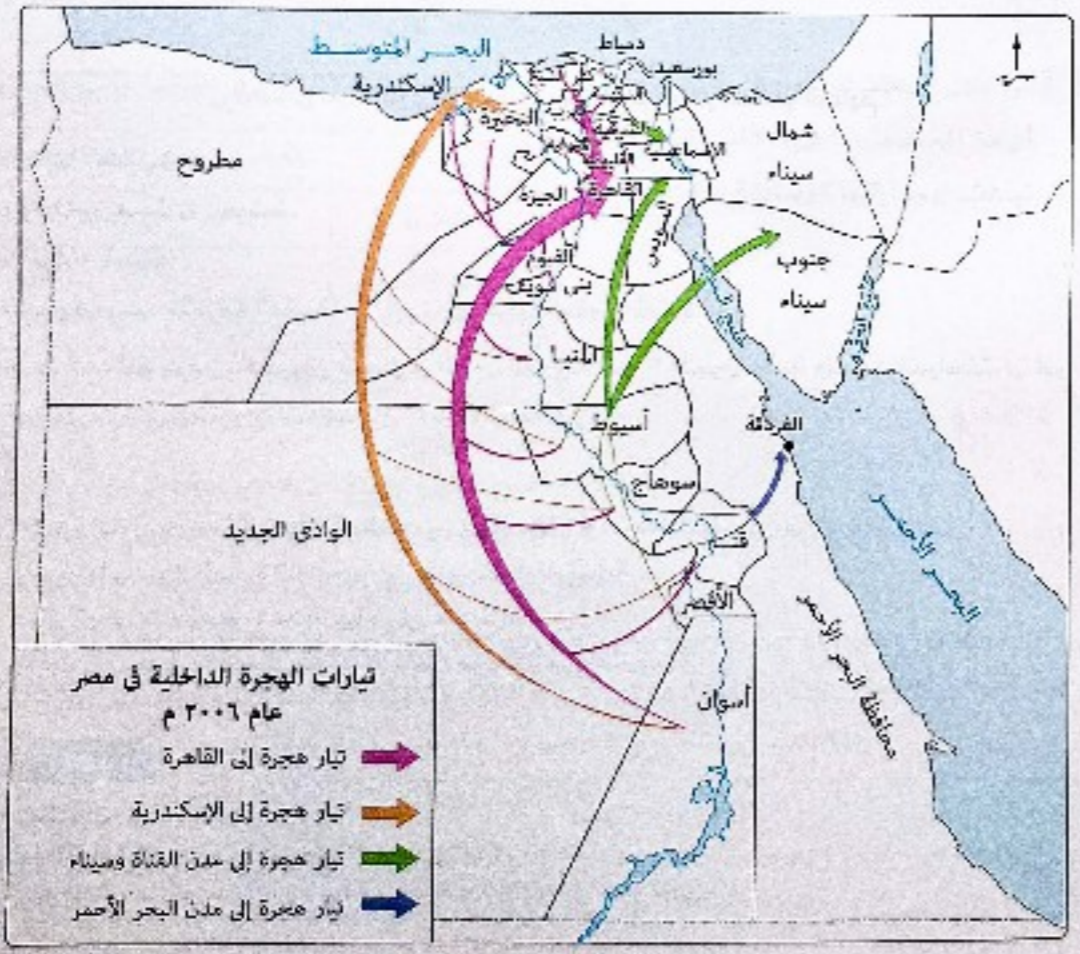
الزيادة غير الطبيعية الزيادة في أعداد السكان نتيجة الهجرة.

- تلعب الزيادة غير الطبيعية دورًا في تغيير حجم سكان الدولة أو محافظات أو مراكز العمران بها.
- تنقسم الهجرة إلى : هجرة داخلية . هجرة خارجية .

الهجرة الداخلية انتقال السكان من منطقة لأخرى داخل حدود الدولة بهدف العمل أو الإقامة أو التعليم.

- من أمثلتها : هجرة السكان من محافظة إلى أخرى . هجرة السكان من الريف إلى المدن .
- أسبابها : وجود عوامل جذب وعوامل طرد للسكان، تتمثل في :

عوامل الطرد	عوامل الجذب
• قلة فرص العمل .	• توافر فرص العمل .
• انخفاض الأجور .	• ارتفاع الأجور .
• تدهور مستوى الخدمات الاجتماعية (الصحية والتعليمية و...).	• ارتفاع مستوى المعيشة .
• قلة الوحدات السكنية .	• توافر الخدمات الاجتماعية (الصحية والتعليمية) .
• صغر مساحة الملكيات الزراعية .	• تركيز الإدارة والحكم والمنشآت الترفيهية والثقافية بالمدينة .



بدراسة الخريطة السابقة نجد أن :

المحافظات الجاذبة	المحافظات الطاردة
القاهرة - الإسكندرية (أكثر المحافظات جذبًا للسكان).	الغربية .
الجيزة .	المنوفية .
محافظات القناة (السويس - الإسماعيلية - بورسعيد).	الدقهلية .
محافظة البحر الأحمر (مثل مدينة الغردقة).	الشرقية .
محافظة جنوب سيناء .	أسوان .
	قنا .
	سوهاج .
	بنى سويف .
	الأقصر .
	أسيوط .
	المنيا .
	الفيوم .

نتائج الهجرة الداخلية :

- ارتفاع معدل النمو السكاني وارتفاع نسبة الذكور عن الإناث.
- ظهور العديد من المشكلات في المدن مثل الازدحام والعشوائيات والبطالة.
- نقص العمالة خاصة الزراعية في المحافظات الطاردة للسكان.

الهجرة الخارجية : انتقال السكان من دولة إلى أخرى بهدف العمل أو الإقامة أو التعليم.

- أسبابها : تتمثل في :
 - انخفاض مستوى المعيشة .
 - انتشار البطالة .
 - عدم توظيف القدرات العلمية مما يؤدي إلى هجرة العقول المفكرة (*) .
- وصل عدد المهاجرين المصريين للعمل في الدول العربية نحو ٣ مليون نسمة وتؤكد الدراسات أن نحو ٧٠٪ من المهاجرين تتراوح أعمارهم بين ٢٠ - ٤٠ سنة .

الهجرة الخارجية قد تكون وافدة (القادمين إلى الدولة) أو نازحة (المهاجرين من الدولة) ، يتم حساب صافي الهجرة الخارجية عن طريق المعادلة التالية :
 صافي الهجرة الخارجية = عدد المهاجرين - عدد القادمين .
 وتكون النتيجة في صالح الدولة إذا كان القادمون أكثر من النازحين .

توضيح :

- الهجرة الخارجية :
- إيجابيات : تخفيض البطالة وزيادة الدخل من العملات الأجنبية .
- سلبيات : عدم استفادة الدولة من العقول المفكرة والكفاءات العلمية المهاجرة .

(*) هجرة العقول المفكرة : تعني هجرة الكفاءات العلمية من مصر إلى الدول الأجنبية بسبب قلة فرص العمل وضعف الإمكانيات العلمية بالإضافة إلى الإغرامات المادية والعنصرية التي تقدمها لهم الدول الأجنبية ، ولهذا الظاهرة آثار خطيرة على التنمية الاجتماعية والاقتصادية بمصر .



يلعب عامل المسافة سببًا رئيسيًا في تفضيل سكان محافظة قنا الهجرة إلى

- ① مدن القناة .
- ② جنوب سيناء .
- ③ شمال سيناء .
- ④ مدن البحر الأحمر .

تتفرد محافظة القاهرة عن باقي المحافظات الجاذبة للسكان ب.....

- ① توافر الخدمات الاجتماعية .
- ② وجود المنشآت الترفيهية .
- ③ وجود مراكز الحكم والإدارة .
- ④ ارتفاع الأجور .

ترتفع نسبة الذكور بصورة واضحة عن نسبة الإناث في محافظة

- ① الغربية .
- ② بورسعيد .
- ③ كفر الشيخ .
- ④ بني سويف .

من خلال البيانات التي أمامك ، استنتج :

أي من المحافظتين (س) ، (ص) تتجه تيارات الهجرة إليها ؟ ولماذا ؟

المحافظة	(س)	(ص)
عدد السكان	٣٨٩٨٥٠ نسمة	٣٢٧٠٥١ نسمة
المساحة	١٥٣٢ كم ^٢	٢٠٣٦٨٥ كم ^٢
النشاط الاقتصادي الرئيسي	الزراعة	السياحة والتعدين

الإجابة :

تتمثل أسباب الهجرة الخارجية في انخفاض مستوى المعيشة وانتشار البطالة وعدم توظيف القدرات العلمية مما يؤدي إلى هجرة العقول المفكرة .
 وصل عدد المهاجرين المصريين للعمل في الدول العربية نحو ٣ مليون نسمة وتؤكد الدراسات أن نحو ٧٠٪ من المهاجرين تتراوح أعمارهم بين ٢٠ - ٤٠ سنة .
 الهجرة الخارجية قد تكون وافدة (القادمين إلى الدولة) أو نازحة (المهاجرين من الدولة) ، يتم حساب صافي الهجرة الخارجية عن طريق المعادلة التالية :
 صافي الهجرة الخارجية = عدد المهاجرين - عدد القادمين .
 وتكون النتيجة في صالح الدولة إذا كان القادمون أكثر من النازحين .
 توضيح :
 الهجرة الخارجية :
 إيجابيات : تخفيض البطالة وزيادة الدخل من العملات الأجنبية .
 سلبيات : عدم استفادة الدولة من العقول المفكرة والكفاءات العلمية المهاجرة .
 (*) هجرة العقول المفكرة : تعني هجرة الكفاءات العلمية من مصر إلى الدول الأجنبية بسبب قلة فرص العمل وضعف الإمكانيات العلمية بالإضافة إلى الإغرامات المادية والعنصرية التي تقدمها لهم الدول الأجنبية ، ولهذا الظاهرة آثار خطيرة على التنمية الاجتماعية والاقتصادية بمصر .

التركيب السكاني

تقسيم السكان حسب النوع والفئة العمرية وحسب الأنشطة الاقتصادية والمستوى التعليمي.

يعد التركيب السكاني من أبرز الخصائص السكانية لأي مجتمع، ويتمثل في:

- 1 التركيب النوعي (ذكور وإناث)
- 2 التركيب العمري (فئات العمر)
- 3 التركيب الاقتصادي (الأنشطة الاقتصادية - الحالة التعليمية)

1 التركيب النوعي

تقسيم السكان حسب النوع (ذكور وإناث)، ويمكن دسابه من خلال تحديد نسبة النوع إلى إجمالي عدد السكان. من خلال متابعة التعدادات المصرية من عام 1996م حتى الوقت الحاضر نجد أن:

- نسبة الذكور أكبر من نسبة الإناث حيث: بلغت نسبة الذكور طبقاً لتقدير عام 2017م نحو 51,5%
- نسبة الذكور تقل أو تزيد من محافظة لأخرى حيث:
 - تقل في المحافظات الطارئة للسكان مثل كفر الشيخ والأقصر.
 - تزداد في المحافظات الجاذبة للسكان مثل البحر الأحمر وجنوب سيناء.

2 التركيب العمري

توجد علاقة بين التركيب العمري للسكان والتنمية الاقتصادية حيث:

- يُعتبر تركيب السكان تبعاً لفئات العمرية من أهم المؤشرات السكانية لمعرفة القدرة الإنتاجية والحيوية للمجتمع، ولذلك يهتم به المخططون لبناء خططهم الاقتصادية والاجتماعية في المستقبل.

يتم تمثيل البيانات السكانية الخاصة بالعمر والنوع في شكل بياني يعرف بالهرم السكاني.

الهرم السكاني

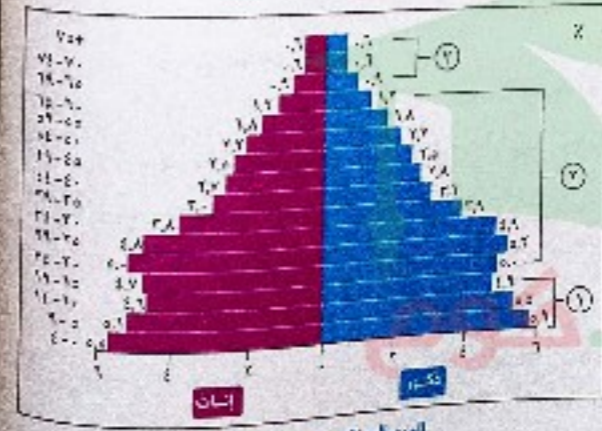
أحد الأشكال البانية لتمثيل السكان من حيث الفئات العمرية والتركيب النوعي.

ينقسم الهرم السكاني:

- أفقياً إلى:
 - قسم للذكور - قسم للإناث.
 - رأسياً إلى: فئات عمرية مرتبة ترتيباً رأسياً حيث انفئات العمرية الصغرى ثم الفئات العمرية الأكبر.

ملزمة

وبملاحظة الهرم السكاني لمصر يتضح ما يلي:



الهرم السكاني لمصر عام 2017م

1 صغار السن (قاعدة الهرم)

- تضم: الصغار أقل من 15 سنة.
- تصل نسبتهم إلى: 26,7% من جملة السكان.
- زيادة هذه الفئة (الاتساع النسبي لقاعدة الهرم السكاني) يعني:
 - زيادة نسبة الإعالة وما تتطلبه من متطلبات حياتية واجتماعية وتعليمية.
 - ارتفاع معدل النمو السكاني أي أن مصر لم تصل إلى مرحلة الاستقرار السكاني.



2 قوة العمل (منتصف الهرم)

- تضم: الشباب البالغين الذين تتراوح أعمارهم من 15 إلى أقل من 65 سنة.
- تصل نسبتهم إلى: 59,1% من جملة السكان.
- زيادة هذه الفئة يعني أن هرم مصر السكاني في مرحلة الشباب أي قدرة مصر على تحقيق كافة برامج التنمية الاقتصادية.



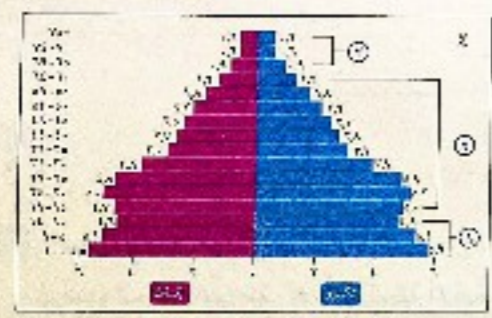
3 كبار السن (قمة الهرم)

- تضم: السكان الذين تبلغ أعمارهم أكثر من 65 سنة.
- تصل نسبتهم إلى: 14,2% من جملة عدد السكان.
- زيادة هذه الفئة يعني زيادة نسبة الإعالة في مصر مثل فئة صغار السن.



من خلال دراستك للهرم السكاني المقابل، من المتوقع إذا استمرت زيادة الفئتين

- 1 و 2 سوف يحدث:
 - 1 إعاقة مشروعات التنمية.
 - 2 الوصول لمرحلة الاستقرار السكاني.
 - 3 نجاح خطط التنمية الاقتصادية.
 - 4 زيادة القدرة الإنتاجية.



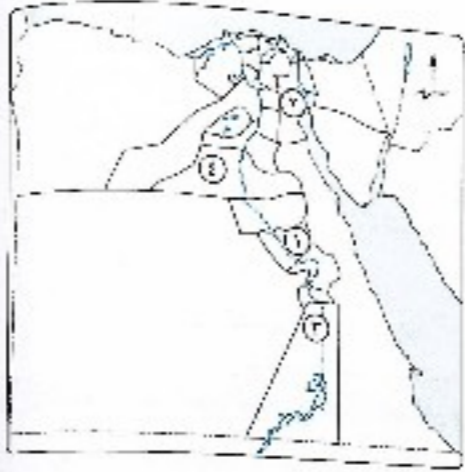
الهرم السكاني لمصر عام 2017م

وضوح: أثر الهجرة الداخلية على التركيب النوعي لسكان محافظة كفر الشيخ والسويس.

الإجابة

- 1- ...
- 2- ...
- 3- ...
- 4- ...

١٦ أي من الأرقام الموقعة على الخريطة المقابلة تمثل إحدى المحافظات المستقبلية للأبدى العاملة ؟



- Ⓐ رقم ١
- Ⓑ رقم ٢
- Ⓒ رقم ٣
- Ⓓ رقم ٤

١٧ أي مما يلي يُعد أحد أسباب اختلال التركيب النوعي في محافظة الفيوم ؟

- Ⓐ ارتفاع مستوى المعيشة.
- Ⓑ قلة فرص العمل.
- Ⓒ انخفاض معدل الأمية.
- Ⓓ اتجاه بعض تيارات الهجرة إليها.

١٨ تهدف المبادرة الموضحة في الشعار المقابل إلى تنمية القرى



- وتحقيق عدة أهداف يخرج عنها
- Ⓐ وقف تيارات الهجرة الداخلية.
- Ⓑ زيادة دخل الاقتصاد المصري من النشاط الزراعي.
- Ⓒ زيادة الوحدات السكنية.
- Ⓓ تغيير حجم سكان الدولة.

١٩ يُعد زيادة الدخل سبباً في جذب السكان لمحافظة

- Ⓐ قنا.
- Ⓑ الغربية.
- Ⓒ الإسماعيلية.
- Ⓓ الشرقية.

٢٠ من خلال دراسة عوامل الجذب والطرده السكاني



- نستنتج من الخريطة المقابلة
- Ⓐ تركز نظم الحكم والإدارة في المحافظة (ب).
- Ⓑ قلة الوحدات السكنية في المحافظة (ص).
- Ⓒ ندرة المنشآت الثقافية والترفيهية في المحافظة (ع).
- Ⓓ انخفاض مستوى الخدمات الاجتماعية في المحافظة (د).

٢١ تتعدد أسباب ارتفاع معدل المواليد في مصر ومنها

- Ⓐ زيادة الحد الأدنى للأجور.
- Ⓑ ارتفاع نسبة المتعلمين في الدولة.
- Ⓒ قصور الدخل الاقتصادي للفرد.
- Ⓓ انحصار نسبة الأمية.

٢٢ يعود تغيير التركيب النوعي بمحافظة الجيزة إلى

- Ⓐ الزواج المبكر.
- Ⓑ قلة فرص العمل.
- Ⓒ تدني حركة التنمية الاجتماعية.
- Ⓓ حركة الهجرة الداخلية.

٢٣ ظهرت مشكلة صغر الملكيات الزراعية في معظم محافظات الوادي والدلتا نتيجة

- Ⓐ حركة التنقل بين المحافظات.
- Ⓑ ارتفاع معدلات الإعالة.
- Ⓒ زيادة معدل نمو السكان.
- Ⓓ انخفاض القدرة الإنتاجية للأرض الزراعية.

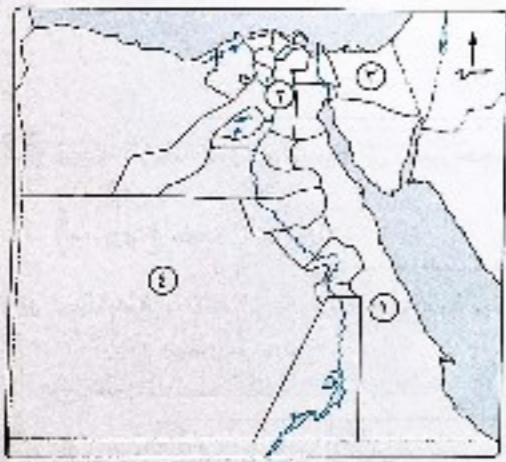
٢٤ في حال تضاعف نسبة المواليد في دولة ما فإن ذلك يُعد مؤشراً لـ

- Ⓐ ارتفاع مستوى التعليم.
- Ⓑ ارتفاع معدلات الإعالة.
- Ⓒ رفع الحد الأدنى للأجور.
- Ⓓ افتقار الدولة للاستقرار السكاني.

٢٥ أي من المحافظات الآتية تقام بها

مبادرة حياة كريفة للفضاء على مشكلة

العشوائيات ؟



- Ⓐ المحافظة ١
- Ⓑ المحافظة ٢
- Ⓒ المحافظة ٣
- Ⓓ المحافظة ٤

٢٦ أي من الآتي يُعد نتيجة للهجرة الداخلية بمصر ؟

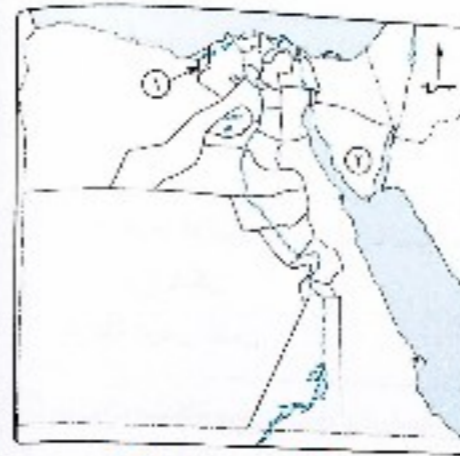
- Ⓐ إعادة التوزيع السكاني.
- Ⓑ تشابه التركيب العمري.
- Ⓒ خفض نسبة البطالة.
- Ⓓ زيادة حجم السكان بالدولة.

٢٧ يعاني المجتمع المصري في بعض أجزائه من ظاهرة الزواج المبكر التي تؤدي إلى

- Ⓐ تعديل التركيب النوعي.
- Ⓑ تقليل معدلات الإعالة.
- Ⓒ قلة معدلات البطالة.
- Ⓓ اتساع قاعدة الهرم السكاني.


٢٨ من خلال دراستك للخريطة المقابلة، نجد أن المحافظة رقم ١ تتشابه مع المحافظة رقم ٧ في

- ① ارتفاع نسبة الإعالة.
- ② ارتفاع نسبة الذكور.
- ③ ارتفاع نسبة الإناث.
- ④ وجود عوامل طرد سكاني.



٢٩ أمامك هرم سكاني لدولة ما، ومنه نستنتج

- ① زيادة نسبة الإعالة.
- ② زيادة فئة صغار السن.
- ③ انخفاض معدلات الوفيات.
- ④ ارتفاع نسبة قوة العمل.



٣٠ تؤدي الزيادة غير الطبيعية إلى تغيير حجم سكان الدولة من خلال

- ① الهجرة الداخلية.
- ② الهجرة الخارجية.
- ③ ارتفاع معدل المواليد.
- ④ ارتفاع معدل الوفيات.

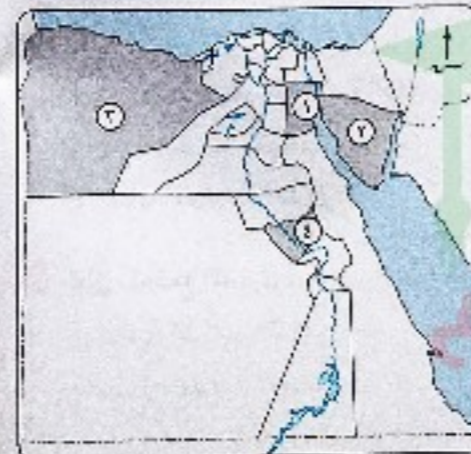
٣١ تتشابه محافظة المنوفية مع محافظة سوهاج في أنهما

- ① ترتفع بهما الأجور.
- ② طاردتان للسكان.
- ③ جاذبتان للسكان.
- ④ تنخفض بهما نسبة البطالة.

٣٢ بالاستعانة بالخريطة التي أمامك :

يُعد صغر مساحة الملكيات الزراعية من العوامل المؤثرة سلبيًا على المحافظة

- ① رقم ١
- ② رقم ٢
- ③ رقم ٣
- ④ رقم ٤



٣٣ تتشابه محافظة أسوان مع محافظة قنا في ارتفاع

- ① مستوى الخدمات.
- ② نسبة الذكور.
- ③ نسبة الإناث.
- ④ معدل الأجور.

٣٤ يؤدي استثمار القدرات العامية في مصر إلى

- ① ارتفاع معدلات التنمية الاقتصادية.
- ② ارتفاع معدل الإعالة.
- ③ زيادة تيارات الهجرة الداخلية.
- ④ زيادة معدلات الهجرة الخارجية.

٣٥ ينفل سكان غرب الدلتا الهجرة إلى

- ① محافظة جنوب سيناء.
- ② محافظة الإسكندرية.
- ③ محافظات القناة.
- ④ محافظة البحر الأحمر.

٣٦ تُعد المحافظة (ص) بالجدول المقابل

مستقبلة للهجرة الداخلية بسبب

- ① ارتفاع معدل المواليد.
- ② نقص الكوادر الفنية.
- ③ توافر المناخ الجيد.
- ④ ارتفاع الأجور.

المحافظة	(س)	(ص)
عدد السكان	٤٥٨٣٠ نسمة	٤١٥٣٢ نسمة
المساحة	٢٢٤٤ كم ^٢	٣٢٤٦٨٢ كم ^٢
النشاط الاقتصادي الرئيسي	الثروة الحيوانية	الصناعة والتعدين

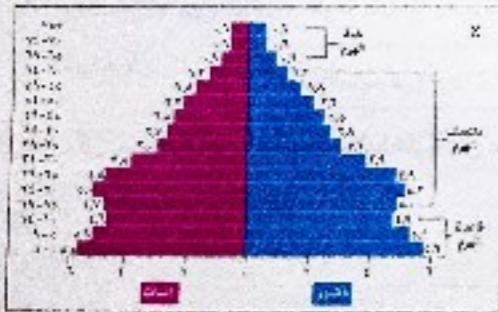
٣٧ يُعد أحد الأسباب الاجتماعية المؤدية لارتفاع معدلات المواليد في مصر

- ① ارتفاع نسبة الأمية.
- ② ارتفاع مستوى المعيشة.
- ③ توافر فرص العمل.
- ④ الهجرة إلى الخارج.

٣٨ توجد علاقة بين فئة منتصف الهرم

السكاني الذي أمامك و

- ① انخفاض معدلات الوفيات.
- ② قلة نسبة الإعالة في مصر.
- ③ قدرة مصر على تحقيق برامج التنمية.
- ④ انخفاض القدرة الإنتاجية للمجتمع المصري.



هرم السكان لمصر عام ٢٠١٧

٣٩ ترتفع نسبة الذكور عن الإناث نتيجة للهجرة الداخلية في محافظة

- ① سوهاج.
- ② البحيرة.
- ③ بني سويف.
- ④ كفر الشيخ.

٤٠ يدل انهم السكاني لمصر أن معظم سكانها من فئة

- ① منتصف العمر.
- ② الأطفال.
- ③ غير منتجة.
- ④ كبار السن.

٤١ تتمثل أكثر العوامل المؤثرة في الزيادة السكانية بمحافظة الإسماعيلية في

- ① ارتفاع نسبة الإناث.
- ② ارتفاع نسبة الذكور.
- ③ تيارات الهجرة الداخلية.
- ④ انخفاض معدل الوفيات.

٤٢ من المتوقع أن يستمر المنحنى البياني الذي أمامك في


الارتفاع بسبب

① زيادة فئة قوة العمل.

② ارتفاع نسبة الأمية.

③ زيادة معدلات الذكور.

④ الاتساع النسبي لمنتصف الهرم السكاني.



٤٣ يمكن خفض معدلات النمو السكاني لمصر عن طريق

① تشجيع الهجرة الداخلية.

② خفض معدلات الأمية.

③ ارتفاع مستوى الدخل.

④ الاهتمام بالخدمات.

٤٤ أمامك شكل يمثل الهرم السكاني لمصر عام ٢٠١٧ م،

ادرسه جيداً ثم أجب :

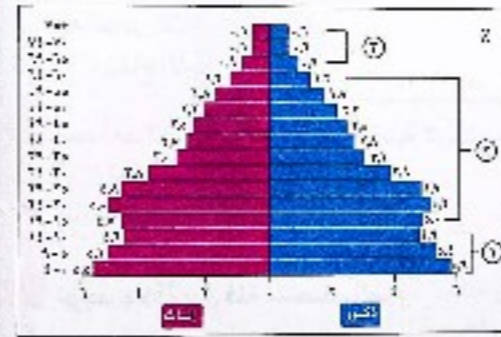
تشابه الفئة ① والفئة ② في أنهما

① يسهمان بدور كبير في الدخل القومي.

② يرتفع بهما مستوى الدخل.

③ قادران على العمل.

④ غير قادران على الكسب.



٤٥ يمكن ضبط معدلات الهجرة الداخلية عن طريق الاهتمام بالتنمية الاقتصادية و


① توزيع الخدمات التعليمية والصحية.

② خفض معدل الأمية.

③ اختيار نوعية المهاجرين.

④ تحديد أعداد المهاجرين.

٤٦ أي من الرسوم البيانية الآتية تمثل الزيادة الطبيعية في مصر؟



٤٧ العامل الأكثر تأثيراً في نمو سكان مصر

① معدل المواليد. ② الهجرة الداخلية. ③ الهجرة الخارجية. ④ صافي الهجرة.

٤٨ تدل زيادة نسبة الإعالة بدولة ما على

① القدرة على العمل والإنتاج.

② إعاقة مشروعات التنمية.

③ ارتفاع مستوى المعيشة.

④ ارتفاع نسب فئة منتصف العمر.

٤٩ تأتي الهجرة الوافدة إلى محافظة البحر الأحمر من محافظات

① شبه جزيرة سيناء. ② غرب الدلتا. ③ شمال الدلتا. ④ وادي النيل.

٥٠ اتساع قاعدة الهرم السكاني لمصر يدل على

① انخفاض نسبة الإعالة.

② سهولة تنفيذ مشروعات التنمية.

③ ارتفاع معدل الزيادة الطبيعية.

④ زيادة القدرة الإنتاجية.

٥١ يتجه غالبية المهاجرين من سكان شرق الدلتا إلى

① مدن، قنات.

② محافظة مطروح.

③ مدن لساحل الشمالي.

④ محافظة الوادي الجديد.

٥٢ يتحقق عامل قرب المسافة بالنسبة لتبارات الهجرة الداخلية بمصر بين محافظتي

① سوهاج وأسوان.

② قنا والبحر الأحمر.

③ سوهاج والقاهرة.

④ المنيا والإسكندرية.

٥٣ نتيجة لانتقال السكان داخل حدود الدولة يحدث نقص في العمالة الزراعية بمحافظة

① البحيرة.

② البحر الأحمر.

③ المنوفية.

④ جنوب سيناء.

٥٤ من الشكاين التاليين نستنتج أن هناك علاقة بين



نسب الحالة التعليمية في مصر عام ٢٠١٧ م



نسب العاملين بالأنشطة الاقتصادية في مصر عام ٢٠١٢ م

① ارتفاع نسبة التعليم المتوسط وانخفاض نسبة العاملين بالتعبين.

② ارتفاع نسبة الأمية وارتفاع نسبة العاملين بالزراعة.

③ انخفاض نسبة التعليم أعلى من الجامعي وارتفاع مستوى المعيشة.

④ ارتفاع نسبة العاملين بالتعليم وانخفاض نسبة التعليم أعلى من الجامعي.

٥٥ تؤكد الدراسات أن نحو ٧٠٪ من المهاجرين إلى الدول العربية تتراوح أعمارهم ما بين ٢٠ و ٤٠ سنة .

- تدل العبارة السابقة على
- ① ارتفاع معدلات الزيادة الطبيعية.
 - ② ارتفاع معدلات البطالة بين الشباب.
 - ③ زيادة هجرة العقول المفكرة.
 - ④ ارتفاع نسبة الأمية.

٥٦ يمكن خفض معدلات النمو السكاني لمصر ليصبح مواكبًا لمعدلات النمو الاقتصادي من خلال

- ① رفع الحد الأدنى للأجور بالدولة.
- ② تشجيع الهجرة الداخلية والخارجية للسكان.
- ③ مشاركة المرأة في مجالات العمل المختلفة.
- ④ التوسع في المناطق والمدن الجديدة.

٥٧ من المتوقع عند حدوث زيادة في عدد سكان دولة ما دون استثمار قدراتهم أن يحدث

- ① انخفاض نسبة الإعالة.
- ② هجرة غير شرعية.
- ③ انخفاض معدلات المواليد.
- ④ ارتفاع معدلات الوفيات.

٥٨ من خلال بيانات الجدول المقابل، نستنتج أن

- ① المحافظة (س) محافظة طاردة للسكان.
- ② المحافظة (ص) محافظة طاردة للسكان.
- ③ خروج تيارات هجرة من (ص) إلى (س).
- ④ انخفاض نسبة الأمية في المحافظتين (س)، (ص).


المحافظة	(س)	(ص)
عدد السكان	٣٨٩٨٥٠ نسمة	٣٣٧٠٥١ نسمة
المساحة	١٥٣٢ كم ^٢	٢٠٣٦٨٥ كم ^٢
النشاط الاقتصادي الرئيسي	الزراعة	السياحة والتعدين

٥٩ تتسم محافظتي أسيوط وسوهاج بـ

- ① ارتفاع نسبة الذكور.
- ② انخفاض نسبة البطالة.
- ③ تفتت الممتلكات الزراعية.
- ④ توفر الخدمات المختلفة.

٦٠ يتضح من تحليل الرسم البياني المقابل أن

- ① عدد سكان مصر تضاعف تقريبًا في الفترة ما بين ١٩٦٦م و ١٩٩٦م ويرجع ذلك إلى
- ② تحسن مستوى الرعاية الصحية.
- ③ زيادة معدل المواليد والوفيات.
- ④ ارتفاع معدلات الزيادة غير الطبيعية.
- ⑤ تطبيق برامج تنظيم الأسرة.



٦١ تبين الدولة جهود كبيرة في تنمية القطاع السياحي ودعم الاستثمار الصناعي بمحافظة شمال سيناء .

- في ضوء العبارة السابقة، أي من المحافظات التالية الأكثر استفادة من توفر فرص العمل بشمال سيناء ؟
- ① الشرقية.
 - ② البحيرة.
 - ③ الإسكندرية.
 - ④ مطروح.

٦٢ تقع أقرب المناطق التي يهاجر إليها السكان للبحث عن فرص عمل بالنسبة لمنخفض الفيوم جهة

- ① الشمال الغربي.
- ② الجنوب الغربي.
- ③ الشمال الشرقي.
- ④ الجنوب الشرقي.

اختر إجابتين صحيحتين من بين البدائل التالية :

٦٣ تخرج تيارات الهجرة الداخلية بشكل واضح من

- ① المناطق الزراعية.
- ② المحافظات الحدودية.
- ③ شمال دلتا.
- ④ مدن القناة.

٦٤ من العوامل التي أدت إلى ارتفاع النمو السكاني بمصر

- ① خفض معدلات الأمية.
- ② تطوير النقل والمواصلات.
- ③ تنوع الأنشطة الاقتصادية.
- ④ ارتفاع مستوى الرعاية الصحية.
- ⑤ سيادة حرفة الزراعة.

أسئلة مقالية :

٦٥ «انخفضت معدلات الوفيات في مصر من ٢٧,٨ في الألف عام ١٩٥٢م لتصل إلى ٦,١ في الألف عام ٢٠١٢م» . في ضوء العبارة السابقة، حدد أسباب هذا الانخفاض المنحوف.

٦٦ حدد رأيك مؤيدًا بالأدلة : أيهما أكثر دقة في البيانات «التعدادات السكانية» أم «الإحصاءات الحيوية» .

٦٧ في ضوء دراستك أيد صحة العبارة الآتية : تؤثر الزيادة غير الطبيعية في التركيب النوعي للسكان في مصر .

٦٨ ما مقترحاتك لـ : خفض معدلات النمو السكاني لمصر ليصبح مواكبًا لمعدلات النمو الاقتصادي ؟

٦٩ ماذا يحدث إذا : اتجهت تيارات الهجرة الداخلية بمصر إلى المناطق العمرانية الجديدة ؟

٧٠ في رأيك كيف : يمكن القضاء على المشكلات التي تواجه المحافظات الطاردة للسكان بمصر ؟

٧١ ماذا تتوقع إذا : زاد عدد السكان في دولة ما دون استثمار قدراتهم أو توفير الخدمات لهم ؟

٧٢ استنتج : أهمية وجود تعدادات سكانية دقيقة لمصر .

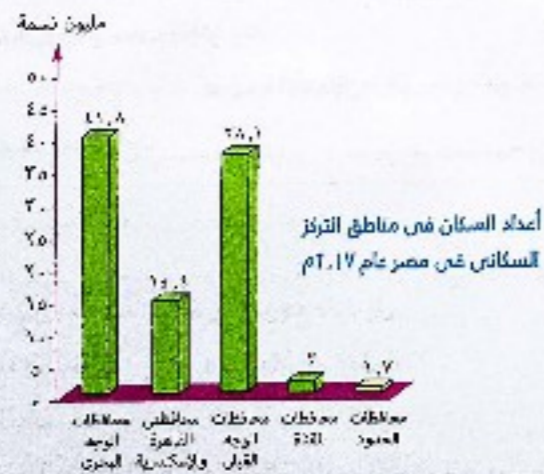
حل أسئلة إلكترونيًا ومعرفة كيفية الوصول للإجابة الصحيحة

استخدم QR Code

عن طريق تطبيق معاك

يختلف توزيع السكان في مصر من محافظة لأخرى كما يختلف من منطقة لأخرى وتعكس خريطة توزيع السكان في مصر التفاعل بين الإنسان وبيئته الطبيعية حيث يتسم توزيع السكان بالتمركز الشديد والكثافة المرتفعة في مساحة ضيقة لا تزيد عن ٥٥ ألف كم^٢ (تبعاً لتقديرات ٢٠١٢م) مما يشكل ضغطاً على الموارد الاقتصادية المتاحة فيعيش :


- ٩٨,٢٪ من السكان في أقل من ٥٪ من مساحة مصر (الوادي والدلتا ومنخفض الفيوم).
- ١,٨٪ من السكان في أكثر من ٩٥٪ من مساحة مصر في محافظات الحدود (الصحراوية).



وبذلك نجد أن : هناك توزيع غير متجانس للسكان ويرجع ذلك لعدة عوامل نتعرفها فيما يلي :

توزيع السكان والكثافة السكانية في مصر

الدرس 2



أهداف الدرس : في نهاية الدرس يتبني أن يكون الطالب قادراً على أن :

- يتعرف بعض المقاييم السكانية مثل (كثافة عامة - كثافة صافية - ريف - حضر - بدو).
- يحلل خريطة توزيع سكان مصر.
- يقدر أسباب تباين الكثافة السكانية في مصر.
- يقارن بين عادات وتقاليد سكان ريف والحضر والبادية.
- يقارن ظروف الاختلافات بالمناسبات بين المدن والريف والبادية في مصر.
- يقدر خطورة الهجرة من الريف إلى المدن.

العوامل المؤثرة في توزيع السكان

أولاً العوامل الطبيعية من أهمها :

١ الموارد المائية

• يتركز السكان في مناطق وجود المياه العذبة.

توضيح

• يتركز السكان في الوادي والدلتا ومنخفض الفيوم بجوار نهر النيل وفرعيه رشيد ومياط.
• يوجد سكان الصحاري في الواحات حيث الآبار والعيون.

٢ التربة الخصبة

• تسود حرفة الزراعة في مناطق التربة الخصبة ويرتبط بها زيادة أعداد مراكز العمران.
• تختلف كثافة السكان تبعاً لاختلاف جودة التربة حيث :
• يتركز السكان في وسط وجنوب الدلتا بسبب خصوبة التربة.
• يقل السكان في :

- الأطراف الشمالية للدلتا بسبب انتشار المستنقعات وملوحة التربة.
- الأطراف الشرقية والغربية للدلتا بسبب فقر التربة.

٣ المناخ (خاصة عنصرى الحرارة والمطر)

• يتركز السكان في المناطق المعتدلة، مثل : محافظتي الإسكندرية وبورسعيد.
• يقل السكان في المناطق الصحراوية بسبب :
• ارتفاع درجة الحرارة.
• ندرة الأمطار.
مثل : محافظتي الوادي الجديد ومطروح.

٤ التضاريس

• يتركز السكان في مناطق السهول خاصة الفيضية ويرجع ذلك إلى :
• توافر التربة الخصبة والمياه العذبة.
• سهولة مد الطرق.
• إنشاء المراكز العمرانية كالمدن.
• يندر السكان في المناطق الجبلية الوعرة، مثل : محافظتي البحر الأحمر وجنوب سيناء.



١. يعد أكثر العوامل تأثيراً في تركيز السكان بمحافظة الإسكندرية

- ① مظاهر السطح.
- ② السمات المناخية.
- ③ موارد المياه.
- ④ التربة الخصبة.

٢. يعد أكثر العوامل تأثيراً في التركيز السكاني بمصر

- ① موارد المياه.
- ② التربة الخصبة.
- ③ المناخ.
- ④ التضاريس.

٣. ما العلاقة بين توزيع السكان، والرواسب الفيضية في الدلتا ؟

٤. دقل على صحة العبارة التالية : يرتبط توزيع السكان في مصر باختلاف مظاهر السطح.

الإجابة

١. ② السمات المناخية
٢. ① موارد المياه
٣. ما العلاقة بين توزيع السكان، والرواسب الفيضية في الدلتا ؟
٤. دقل على صحة العبارة التالية : يرتبط توزيع السكان في مصر باختلاف مظاهر السطح.

١. ② السمات المناخية
٢. ① موارد المياه
٣. ما العلاقة بين توزيع السكان، والرواسب الفيضية في الدلتا ؟
٤. دقل على صحة العبارة التالية : يرتبط توزيع السكان في مصر باختلاف مظاهر السطح.

ثانياً العوامل البشرية من أهمها :

١ النشاط الاقتصادي

تؤثر الأنشطة الاقتصادية للسكان في توزيعهم وكثافتهم حيث يتركز السكان في :

- المناطق الزراعية، مثل : الوادي والدلتا.
- المناطق الصناعية، مثل : مدينة السادس من أكتوبر.
- المناطق السياحية، مثل : شواطئ سيناء والبحر الأحمر.
- مناطق التعدين، مثل : رأس غارب على خليج السويس.

٢ طرق النقل والمواصلات

يغلب الموقع بالنسبة لخطوط المواصلات العالمية والمحلية دوراً كبيراً في توزيع

السكان، ومن أمثلة ذلك منطقة قناة السويس التي لم يكن فيها عمران ملحوظ قبل حفر القناة وأصبحت بعد انحصر من المناطق التي اجتذبت إليها السكان بأعداد كبيرة وظهرت المدن، مثل :

- بورسعيد.
- الإسماعيلية.
- القنطرة.

٣ الظروف السياسية والعسكرية

تؤثر الظروف السياسية والعسكرية في إعادة توزيع السكان حيث :

- أدى احتلال إسرائيل لسيناء عام ١٩٦٧ وما تبعها من أحداث حربية إلى نزوح أعداد كبيرة من سكان سيناء، ومدن قناة السويس إلى مناطق أخرى داخل مصر مما أثر على توزيع السكان.
- أدت هزيمة إسرائيل عام ١٩٧٣ إلى عودة السكان إلى سيناء ومدن القناة فارتفعت بها الكثافة السكانية.



س تُعد أكثر العوامل تأثيراً في تركيز السكان بمحافظة الإسماعيلية

- (أ) الزراعة. (ب) السياحة. (ج) التعدين. (د) الملاحة الدولية.

الإجابة

ملازمة كوم

ملازمة كوم

الكثافة السكانية

عدد السكان مقسوماً على الوحدة المساحية التي يعيشون عليها مقاسة بالكيلو مترات المربعة أو أي وحدات قياس مساحة أخرى.

توضح الكثافة السكانية العلاقة بين عدد سكان كل دولة ومساحتها وتنقسم إلى :

١ الكثافة العامة

$$\text{عدد السكان بالنسبة للمساحة الكلية} = \left(\frac{\text{عدد سكان دولة ما}}{\text{مساحة الدولة}} \right)$$

فمثلاً مساحة مصر مليون كم^٢، وعدد سكانها ٩٠ مليون نسمة طبقاً لعام (٢٠١٥م) وبالتالي :

$$\text{الكثافة العامة} = \frac{٩٠ \text{ مليون نسمة}}{\text{مليون كم}^2} = ٩٠ \text{ نسمة / كم}^2$$

• هذا النوع من الكثافة لا يعكس التوزيع الحقيقي للسكان وذلك لوجود مساحات واسعة غير معمورة وغير مستغلة اقتصادياً مما جعل مؤشر الكثافة السكانية العامة للسكان ليس له قيمة.

٢ الكثافة الحقيقية (الناحية)

عدد السكان بالنسبة للمساحة (المعمورة فعلياً) المأهولة بالسكان.

$$\text{وهكذا تكون الكثافة الحقيقية لمصر عام ٢٠١٢م} = \frac{\text{عدد السكان}}{\text{المساحة المعمورة فعلياً}} = ١٠٥٠ \text{ نسمة / كم}^2$$

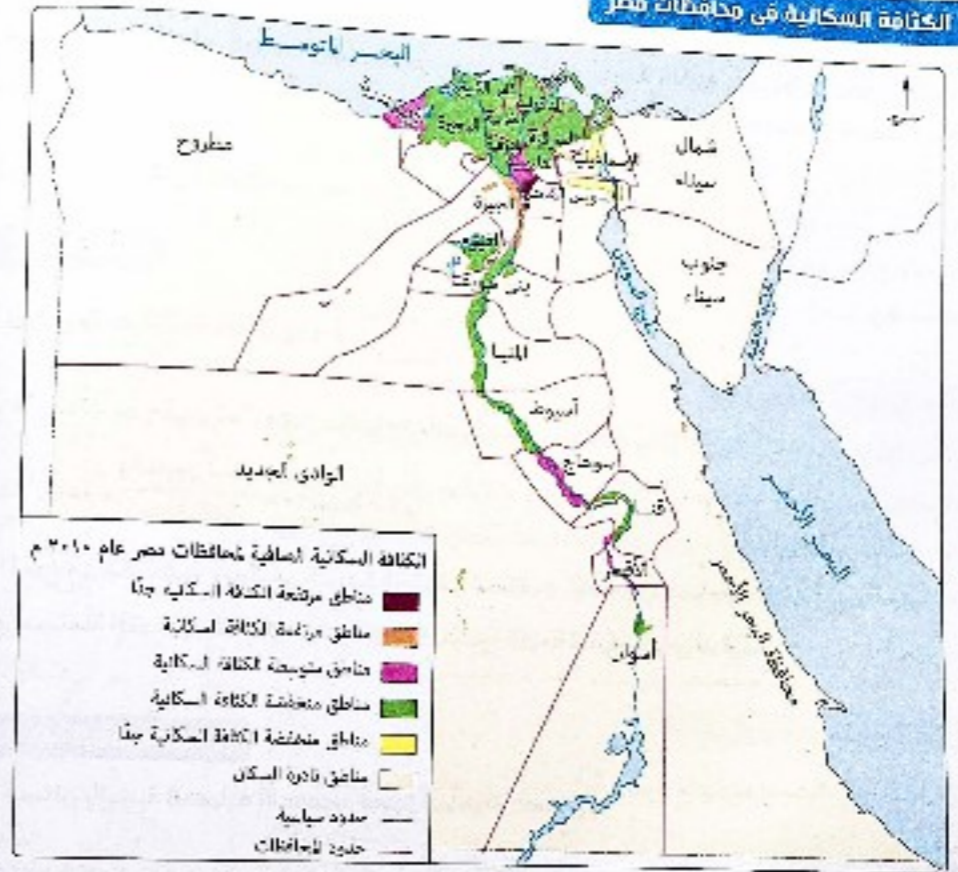
• هذا النوع من الكثافة يُعد مؤشراً حقيقياً للكثافة السكانية.

• تختلف الكثافة الصافية من منطقة إلى أخرى داخل المساحة المعمورة في مصر.

معلومة إثرائية

بلغت الكثافة الصافية في مصر عام ١٩٦٠م نحو ٤٠٠ نسمة لكل كم^٢ ثم زادت إلى أكثر من الضعف في تعدد ١٩٧٦م لتصل إلى ٩٢٠ نسمة لكل كم^٢ في ٢٠٠٦م وإلى ١٠٥٠ لكل كم^٢ في عام ٢٠١٢م.

الكثافة السكانية في محافظات مصر



يتضح من الخريطة السابقة تقسيم محافظات مصر وفقاً للكثافة السكانية الصافية عام ٢٠١٠ إلى ما يلي:

- محافظة بها كثافة سكانية مرتفعة جداً (أكثر من ١٠٠٠٠ نسمة/كم^٢) تمثل في القاهرة.
- محافظة بها كثافة سكانية مرتفعة (من ٥٠٠٠ إلى ١٠٠٠٠ نسمة/كم^٢) تمثل في الجيزة.
- محافظات بها كثافة سكانية متوسطة (من ١٠٠٠ إلى ٥٠٠٠ نسمة/كم^٢) مثل القليوبية، سوهاج، الإسكندرية.
- محافظات بها كثافة سكانية منخفضة (من ٥٠٠ إلى ١٠٠٠ نسمة/كم^٢) مثل كفر الشيخ، البحيرة.
- محافظات بها كثافة سكانية منخفضة جداً (أقل من ٥٠٠ نسمة/كم^٢) مثل الإسماعيلية، السويس.
- محافظات نادرة السكان تضم محافظات الحدود (شمال سيناء، جنوب سيناء، البحر الأحمر، الوادي الجديد، مطروح) وهي محافظات صحراوية شاسعة المساحة يتركز سكانها في الواحات أو مناطق التعدين أو المراكز العمرانية المتباعدة على السواحل.

توزيع السكان بين الحضر (المدن) والريف

يختلف توزيع السكان وكثافتهم ما بين الريف والحضر في مصر حيث:

- يبلغ عدد سكان الحضر نحو ٣٥,٧ مليون نسمة أي ٤٣٪ من جملة عدد السكان.
- يبلغ عدد سكان الريف نحو ٤٧,٣ مليون نسمة، أي ٥٧٪ من جملة عدد السكان.



نسبة سكان الحضر والريف في مصر عام ٢٠١٠م



تعد الكثافة العامة للسكان من أنواع الكثافات التي توضح.....

- ① التوزيع الفعلي.
- ② التوزيع التقديري.
- ③ الهجرة الداخلية.
- ④ الهجرة الخارجية.

«توجد علاقة عكسية بين مساحة أي محافظة في مصر وكثافة السكان فيها». فسر أسباب ذلك.

الإجابة

تعد الكثافة العامة للسكان من أنواع الكثافات التي توضح الهجرة الداخلية. التوزيع الفعلي. الهجرة الخارجية. التوزيع التقديري.

«توجد علاقة عكسية بين مساحة أي محافظة في مصر وكثافة السكان فيها». فسر أسباب ذلك.

العوامل المؤثرة في توزيع السكان

العوامل الطبيعية :

- الموارد المائية : يتركز السكان في مناطق وجود المياه العذبة.
- التربة الخصبة : يتركز السكان في وسط وجنوب الدلتا ويقاوم في أطرافها الشمالية والشرقية والغربية.
- المناخ : يتركز السكان في المناطق المعتدلة ويقاوم في المناطق الصحراوية بسبب ارتفاع الحرارة ونسبة الأمطار.
- التضاريس : يتركز السكان في السهول خاصة السهول الفيضية ويقاومون في المناطق الجبلية الوعرة.

العوامل البشرية :

- النشاط الاقتصادي : يتركز السكان في المناطق الزراعية والصناعية والسياحية ومناطق التعدين.
- طرق النقل والمواصلات : يتركز السكان في المناطق القريبة من خطوط المواصلات العالمية والمحلية.
- الظروف السياسية والعسكرية : أدى احتلال إسرائيل لسيناء عام ١٩٦٧م إلى نزوح أعداد كبيرة من السكان. وبعد هزيمة إسرائيل في حرب ١٩٧٣م عاد السكان مرة أخرى إلى سيناء ومدن القناة.

الكثافة السكانية

يقصد بها :

عدد السكان مقسومًا على الوحدة المساحية التي يعيشون عليها مقاسة بالكيلو مترات المربعة أو أي وحدات قياس مساحية أخرى.

أنواعها :

كثافة عامة :

- هي عدد السكان بالنسبة للمساحة الكلية.
- لا تعكس التوزيع الحقيقي للسكان.
- كثافة حقيقية (صافية) :
- هي عدد السكان بالنسبة للمساحة (المعمورة فعليًا) المأهولة بالسكان.
- تعد مؤشرًا حقيقيًا للكثافة السكانية.

توزيعها :

- تنقسم محافظات مصر وفقًا للكثافة السكانية انصافية عام ٢٠١٠م كما يلي :
- محافظة بها كثافة سكانية مرتفعة جدًا، تتمثل في : القاهرة.
- محافظة بها كثافة سكانية مرتفعة، تتمثل في : البحيرة.
- محافظات بها كثافة سكانية متوسطة، مثل : القليوبية وسوهاج والإسكندرية.
- محافظات بها كثافة سكانية منخفضة، مثل : كفر الشيخ والبحيرة.
- محافظات بها كثافة سكانية منخفضة جدًا، مثل : الإسماعيلية والسويس.
- محافظات نادرة السكان : تضم محافظات الحدود (شمال سيناء وجنوب سيناء والبحر الأحمر والوادي الجديد ومطروح).
- تمثل الكثافة السكانية في الريف إلى ٥٧٪ من جملة السكان، بينما تصل في الحضر إلى ٤٣٪ من جملة السكان.

أسئلة

الدرس 2

• فهم • استنباط • تحليل • تقويم • ابتكار

اختر الإجابة الصحيحة من بين البدائل التالية :

١ أي من الأشكال البيانية التالية تعبر عن التوزيع السكاني في المحافظات الحدودية بمصر ؟



٢ تتعدد المناطق المعمورة والتي ترتبط بالنشاط الزراعي في محافظتي

- ① شمال سيناء وجنوب سيناء.
- ② مطروح والبحر الأحمر.
- ③ مطروح والوادي الجديد.
- ④ جنوب سيناء والبحر الأحمر.

٣ العامل المشترك بين مناطق التركز السكاني في مصر هو وجود

- ① التربة الخصبة.
- ② المناخ المعتدل.
- ③ المياه العذبة.
- ④ المدن الصناعية.

٤ يظهر التركز الشديد للسكان بمصر كلما اقتربنا من

- ① السهل الفيضي.
- ② الواحات.
- ③ الساحل الشرقي.
- ④ مناطق التعدين.

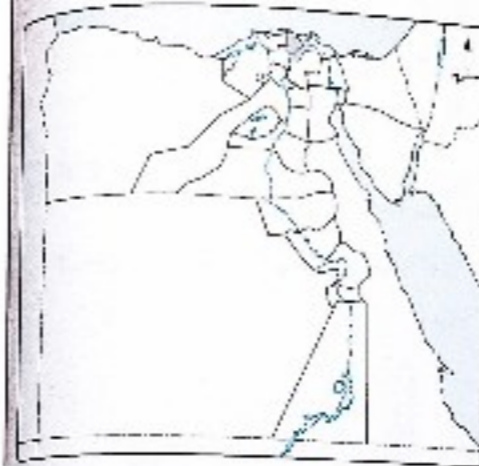
٥ تنطبق العبارة المماثلة على توزيع السكان بمصر في محافظتي

- ① السويس ومطروح.
- ② البحر الأحمر وجنوب سيناء.
- ③ الإسماعيلية والفيوم.
- ④ بورسعيد وكفر الشيخ.

٦ يرتبط وجود بعض التجمعات السكانية في أجزاء متفرقة من الصحراء الغربية بـ

- ① المياه العذبة.
- ② اعتماد المناخ.
- ③ التربة الطينية الخصبة.
- ④ المظهر التضاريسي.

يرتبط توزيع السكان في بعض مناطق بمصر بالزمن الجيولوجي الثاني حيث المياه الجوفية ومصادر البترول.



- 7 أكثر العوامل تأثيراً على انخفاض الكثافة السكانية في المحافظة المظللة بالخريطة المقابلة
- ① المناخ
② التربة
③ النقل والمواصلات
④ موارد المياه

- 8 يؤثر عامل المناخ بالإيجاب على وجود تجمعات سكانية في محافظتي
- ① الإسكندرية وبورسعيد ② القاهرة ودحايط ③ مطروح والوادي الجديد ④ المنيا وأسيوط

- 9 تعد السياحة أكثر العوامل تأثيراً في تركيز السكان في مدينة
- ① رأس غارب ② شرم الشيخ ③ السادس من أكتوبر ④ بنى سويف

- 10 يعتبر العامل الأكثر تأثيراً في تركيز السكان بمحافظة القاهرة
- ① النقل والمواصلات ② المناخ المعتدل ③ الأنشطة الاقتصادية ④ الظروف السياسية

- 11 من خلال البيانات الموضحة في الجدول المقابل نستنتج
- ① ارتفاع الكثافة في المحافظة (س) عن المحافظة (ص).
② تساوى الكثافة السكانية في المحافظتين.
③ ارتفاع الكثافة في المحافظة (ص) عن المحافظة (س).
④ تمتع المحافظة (س) بعوامل جذب سكاني.

المحافظة	(س)	(ص)
عدد السكان	١٠٠ ألف نسمة	٦٠٠ ألف نسمة
المساحة	١٥ ألف كم ^٢	٩٠ ألف كم ^٢

- 12 تعجز الكثافة العامة للسكان عن رسم صورة للتوزيع الحقيقي للسكان في مصر بسبب
- ① تنوع الموارد ② صغر المساحة
③ كثرة عدد السكان ④ امتداد مساحة الصحارى

- 13 تعد أكثر العوامل تأثيراً في تركيز السكان بمحافظتي الغربية والمنوفية
- ① اعتدال المناخ ② جودة التربة
③ الأنشطة الصناعية ④ طرق النقل والمواصلات

- 14 يرتبط التركيز السكاني بمدينة مرسى علم بعامل
- ① الموارد المائية ② طرق النقل والمواصلات ③ النشاط الاقتصادي ④ التربة الخصبة

- 15 يعتبر العامل المشترك في سبب ندرة السكان في محافظتي سيناء
- ① وعورة التضاريس ② التطرف المناخي
③ قلة طرق النقل والمواصلات ④ فقر التربة

- 16 اثرت الظروف السياسية في العقد السابع من القرن الماضي بشكل واضح في توزيع سكان مصر في الجهة
- ① الشمالية ② الشرقية ③ الغربية ④ الجنوبية

- 17 تكاد تقرب الكثافة العامة مع الكثافة الفعلية للسكان في محافظة
- ① الإسكندرية ② جنوب سيناء ③ مطروح ④ البحر الأحمر

- 18 أكثر العوامل تأثيراً في ندرة سكان محافظات الحدود بمصر
- ① النشاط الاقتصادي ② الموارد المائية ③ التربة الخصبة ④ التضاريس

- 19 يعيش الأغلبية العظمى من السكان بمصر في محافظات
- ① الوجه القبلي والقناة ② الوجه البحري والحدود
③ الحدود والقناة ④ الوجه البحري والوجه القبلي

- 20 أى العوامل الآتية الأقل تأثيراً في توزيع سكان الوادي ؟
- ① المناخ ② التربة الخصبة ③ مصادر المياه ④ التضاريس

- 21 يرجع ندرة السكان في محافظة الوادي الجديد إلى
- ① وعورة التضاريس ② ملوحة التربة
③ نقص الموارد المائية ④ صغر مساحة الملكيات الزراعية

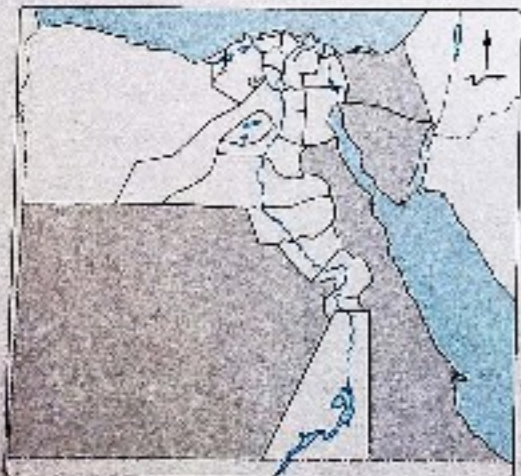
- 22 يظهر أثر عامل التربة في تركيز السكان بمحافظة
- ① الوادي الجديد ② الفيوم ③ مطروح ④ شمال سيناء

- 23 أكثر العوامل تأثيراً في تركيز السكان في محافظة القليوبية
- ① المناخ المعتدل ② الظروف السياسية ③ النشاط التعديني ④ مظاهر السطح

- 24 تتعرض الموارد الاقتصادية المتاحة في بعض محافظات مصر للضغط الشديد بسبب
- ① الكثافة الحقيقية للسكان ② ارتفاع معدلات الإعالة
③ التركيب النوعي للسكان ④ الكثافة العامة للسكان

- 25 تتشابه المحافظات المظللة في الخريطة المقابلة في

- ① وجود عوامل جذب سكاني.
② انعدام التوازن بين المساحة والسكان.
③ أنها محافظات طاردة للسكان.
④ ارتفاع نسبة الإناث بهم.



٢٦ يؤثر عامل التربة بالسلب على توزيع السكان في محافظتي
 (أ) الغربية والدقهلية.
 (ب) بنى سويف والبحيرة.
 (ج) القاهرة والجيزة.
 (د) المنوفية وأسيوط.

٢٧ ترتب على التوزيع السكاني في مصر
 (أ) تدهور البنية الأساسية.
 (ب) تدنى النشاط الصناعي.
 (ج) التوزيع العادل للخدمات.
 (د) بناء المدن السياحية.

٢٨ تتشابه المحافظات الساحلية في وجود مناطق تركيز سكاني مرتبطة بـ
 (أ) موارد المياه العذبة.
 (ب) النقل والمواصلات.
 (ج) التربة الخصبة.
 (د) النشاط الاقتصادي.

٢٩ يعد أكثر منخفضات مصر سكاناً
 (أ) الفيوم.
 (ب) سيوة.
 (ج) البحيرة.
 (د) الفرافرة.

٣٠ أي من المحافظات التالية يرتبط التركيز السكاني فيها بشكل أكبر بالنشاط التعديني والزراعي ؟
 (أ) سوهاج.
 (ب) الوادي الجديد.
 (ج) جنوب سيناء.
 (د) البحر الأحمر.

٣١ يعيش البدو في العديد من محافظات مصر ولكن يظهر تركيزهم بشكل أكبر في محافظة
 (أ) القاهرة.
 (ب) الغربية.
 (ج) الإسكندرية.
 (د) مطروح.

٣٢ تتمثل أكبر مناطق التركيز السكاني بمصر في محافظات
 (أ) الحدود.
 (ب) القناة.
 (ج) الوجه البحري.
 (د) الوجه القبلي.

٣٣ تحاول المحافظة المتظلمة في الخريطة المقابلة إيجاد حل لمشكلة التركيز السكاني الذي تعاني منه عن طريق الاهتمام بالنشاط
 (أ) الصناعي.
 (ب) الزراعي.
 (ج) التعديني.
 (د) التجاري.



٣٤ العامل الرئيسي المسئول عن مستوى الكثافة السكانية في محافظة مطروح هو
 (أ) المناخ.
 (ب) المساحة.
 (ج) التضاريس.
 (د) طرق النقل.

٣٥ أقل العوامل تأثيراً في تركيز السكان في الوادي والدلتا
 (أ) النقل والمواصلات.
 (ب) الظروف السياسية والعسكرية.
 (ج) التضاريس.
 (د) الأنشطة الاقتصادية.

٣٦ تنخفض الكثافة السكانية في الأطراف الشرقية لمحافظة الشرقية بسبب
 (أ) ضعف خصوبة التربة.
 (ب) ارتفاع درجة الحرارة.
 (ج) ندرة الأمطار.
 (د) انتشار المستنقعات.

٣٧ يؤثر عامل التضاريس في ندرة سكان محافظة
 (أ) جنوب سيناء.
 (ب) الوادي الجديد.
 (ج) مطروح.
 (د) شمال سيناء.

٣٨ العامل الرئيسي المسبب في انخفاض الكثافة السكانية في محافظة كفر الشيخ
 (أ) موارد المياه.
 (ب) المناخ.
 (ج) التربة.
 (د) النقل والمواصلات.

المحافظة	المساحة	عدد السكان بالنسبة
الشرقية	١٢٥١١ كم ^٢	٧٤١١٦٠٩
الدقهلية	٣٤٥٩ كم ^٢	٦٦٨٥٨٨٧
سوهاج	١١٠٢٤ كم ^٢	٥٤٠٣٠٧٦
الغربية	١٩٤٤ كم ^٢	٥١٦٦٤٢٧

المصدر : الجهاز المركزي للتعبئة العامة والإحصاء يناير ٢٠١٩ م

٣٩ ادرس الجدول المقابل ثم أجب :
 أكثر المحافظات كثافة سكانية

- (أ) الشرقية.
 (ب) الغربية.
 (ج) سوهاج.
 (د) الدقهلية.

٤٠ أكثر العوامل تأثيراً في تركيز السكان بالوادي والدلتا
 (أ) المناخ.
 (ب) النقل والمواصلات.
 (ج) الظروف السياسية والعسكرية.
 (د) التضاريس.

٤١ اختر إجابتين صحيحتين من بين البدائل التالية :

يعود السبب الرئيسي في وجود السكان في مدينة بورفؤاد لـ و
 (أ) النقل والمواصلات.
 (ب) الظروف السياسية.
 (ج) نوع التربة.
 (د) النشاط الاقتصادي.
 (هـ) موارد المياه.

٤٢ نتيجة لفقر التربة يقل السكان في الأطراف الغربية لمحافظة و
 (أ) الدقهلية.
 (ب) البحيرة.
 (ج) القليوبية.
 (د) كفر الشيخ.
 (هـ) الفيوم.

٤٣ يتركز السكان في المراكز العمرانية المتباعدة على السواحل كما في محافظتي و
 (أ) الوادي الجديد.
 (ب) الإسكندرية.
 (ج) مطروح.
 (د) بورسعيد.
 (هـ) البحر الأحمر.

المشكلة السكانية

النمو السريع للسكان والذي لا يتناسب مع موارد الدولة وينتج عنه انخفاض المستوى الصحي والتعليمي والاقتصادي وسوء التوزيع الجغرافي.

تعاين مصر من مشكلة سكانية نشأت كنتيجة طبيعية للتزايد السكاني الكبير والسريع والذي يفوق كل معدلات التنمية الاقتصادية والاجتماعية، ويهدد خصم التنمية المستقبلية.

أبعاد المشكلة السكانية لها عدة أبعاد رئيسية، وهي:

البعد الأول

عدم التوازن بين عدد السكان والموارد والخدمات المتاحة أي أن معدلات التنمية لا تتماشى مع معدلات الزيادة السكانية.

البعد الثاني

سوء توزيع السكان مما أدى إلى:

- تزايد العبء والضغط على الخدمات في المدن.
- ظهور مشكلات جديدة، تشمل:
- تدهور المرافق.
- زحف المباني على الأراضي الزراعية المحدودة.
- تلوث البيئة.
- انتشار العشوائيات.

البعد الثالث

التركيب العمري للسكان (ارتفاع نسبة صغار السن): حيث إن نسبة كبيرة من سكان مصر (حوالي 35% من عدد السكان) فئة غير منتجة (صغار السن) تحتاج إلى العديد من الخدمات مما يؤدي إلى زيادة الإعالة.

البعد الرابع

يتمثل في ارتفاع نسبة الأمية ومعدلات البطالة والفقر بصورة كبيرة.



در تناقص المساحة المزروعة من عام لآخر مرتبط بأحد أبعاد المشكلة السكانية وهو البعد

- ① الأول. ② الثاني. ③ الثالث. ④ الرابع.

الإجابة

الإجابة: ④ الرابع.

الإجابة: ④ الرابع.

الإجابة: ④ الرابع.

المشكلات المترتبة على المشكلة السكانية

مشكلات اقتصادية

1 نقص الغذاء

تؤدي الزيادة السكانية إلى زيادة الطلب على السلع الاستهلاكية خاصة الغذائية ولا تفي المحاصيل الغذائية والثروة الحيوانية بحاجات السكان، لذلك لجأت مصر إلى استيراد المحاصيل الغذائية.

2 نقص نصيب الفرد من المياه العذبة

يبلغ نصيب الفرد من المياه نحو 750 مترًا مكعبًا سنويًا، وهو أقل من حد الفقر المائي^(*) مما يؤثر على كثير من الأنشطة الاقتصادية، أهمها الزراعة واستصلاح الأراضي.

مشكلات اجتماعية



العشوائيات

تجمعات عمرانية في المدن الكبرى وحولها، غير مخططة عمرانيًا وتفقر إلى الخدمات الصحية والمياه النقية والصرف الصحي والطرق وشروط السكن الصحي.

معلومة إثرائية

قامت الدولة بإنشاء مجتمعات سكنية جديدة لبعض سكان المناطق العشوائية مثل مدينة نجيا بمصر بمنطقة الأسمارات والذي من المتوقع أن يصل عدد سكانها إلى 100 ألف نسمة.

1 ازدحام المدن وظهور العشوائيات

تؤدي الزيادة السكانية في مصر وما يرتبط بها من هجرة السكان من الريف إلى المدن إلى تضخم حجم المدن وازدحامها الشديد مما يؤدي إلى:

- الإضرار بها وتدهورها.
- انتشار العشوائيات، والتي تمثل مشكلة لها انعكاسات اقتصادية واجتماعية وأمنية تهدد أمن واستقرار المجتمع.

(*) حد الفقر المائي لغرض سنويًا يسجل إلى 1000 متر مكعب.

٢ الفقر

تعاث نسبة كبيرة من المصريين من انخفاض مستوى المعيشة مما جعل نحو ٤٠٪ من عدد السكان دون مستوى الحد الأدنى للمعيشة وهذا يعني زيادة معدلات الفقر.



تم حساب قيمة خط الفقر للفرد بحصوله على مبلغ ٣٠٧٦ جنيهًا سنويًا، (ما يعادل ٢٥٦ جنيهًا شهريًا).

٣ الأمية

• من أسباب انتشارها في مصر:

- ① الفقر وانخفاض مستوى المعيشة.
- ② استخدام الأطفال كأيدٍ عاملة.
- ③ سوء توزيع الخدمات التعليمية.

• تبلغ نسبتها في الفئات أكثر من ١٠ سنوات نحو ٢٥,٨٪

• تزداد بين الإناث عن الذكور.

• تزداد بين سكان الريف لتصل إلى ٣٧,٥٪، بينما تقل في المدن لتصل إلى ٢٠,٧٪.

وذلك للأسباب الآتية:

• سيادة حرفة الزراعة وغيرها من الحرف التي لا تحتاج تعليمًا.

• انخفاض مستوى المعيشة.

• قلة الخدمات التعليمية.

• وسائل مواجهتها:

① التوسع في برامج محو الأمية.

② تكليف الخريجين بالعمل في هذا المجال بشكل تطوعي قبل الالتحاق بالوظائف.

③ تطوير العملية التعليمية والتوسع في إنشاء المدارس.

معلومة إثرائية

أنشئت الهيئة العامة لمحو الأمية وتعليم الكبار عام ١٩٩٢م وتتولى الهيئة المسئوليات التخطيطية والتنفيذية والتعليمية التي يتطلبها العمل لمحو الأمية وتعليم الكبار.

٤ البطالة

• وجود نسبة مؤثرة من شباب المجتمع خارج قوة العمل أو عدد المتعطلين القادرين على العمل ولا يستفيد منهم من إنتاج السلع أو الخدمات.

• أسبابها:

- قصور النمو الاقتصادي عن ملاحقة النمو السكاني.
- عجز المدخرات المحلية عن تمويل الاستثمارات اللازمة لتوفير فرص العمل.

• يبلغ معدل البطالة في مصر ١٤,٥٪ من قوة العمل لعام ٢٠١٢م.

• يزداد معدل البطالة بين الإناث، ونفس بين الذكور.

• يرتفع معدل البطالة في الحضر أكثر من الريف.

• مقترحات لحل مشكلة البطالة:

① التركيز على التعليم المهني والحرفي في ضوء متطلبات سوق العمل.

② توجيه الاستثمار نحو المشروعات التي تستوعب أكبر عدد من العاطلين.

③ تحفيز مؤسسات المجتمع المدني في دعم المشروعات الصغيرة.

معلومة إثرائية

البطالة المقنعة تعني زيادة عدد العاملين عما يتطلبه حاجة العمل من أيدٍ عاملة، ويظهر ذلك في الوظائف الحكومية خاصة الخدمية منها.

٥ الإدمان وتعاطي المخدرات (مرتبطة بالبطالة والفقر)

• زادت هذه المشكلة زيادة كبيرة في السنوات الأخيرة حيث ترتبط بالعديد من الجرائم مما يمثل مشكلة حقيقية لا بد من مواجهتها، وذلك من خلال:

① نشر الوعي بين الشباب عن الأضرار الصحية والاجتماعية لتعاطي المخدرات.

② تفعيل قوانين تجريم جلب المخدرات والإفجار بها وتعاطيها.

③ محاربة الأمية والجهل وكذلك الاعتقادات الخاطئة عن المخدرات.

④ التنمية الاقتصادية وتوفير فرص العمل للشباب.

معلومة إثرائية

من المفاهيم الخاطئة لدى بعض الشباب أن المخدرات والمخدرات تساعد على التركيز والتحصيل؛ ولكن هذا مفهوم غير صحيح؛ لأنها بالرغم من أنها تزيد من قدرة الشخص على السهر لأنها سرعان ما تدمر الجهاز العصبي وتفقد القدرة على التركيز بشكل طبيعي.



٦

أخطر التحديات الاقتصادية الناتجة عن المشكلة السكانية التي تواجه الدولة المصرية:

- ① عدم تحقيق الأمن المائي.
- ② ارتفاع معدلات الأمية.
- ③ ظهور العشوائيات.
- ④ استخدام الأطفال كأيدٍ عاملة.

٧

نشر ثقافة العمل التطوعي يساهم في:

- ① تقليل العشوائيات.
- ② توفير فرص عمل.
- ③ رفع المستوى المعيشي.
- ④ زيادة نسبة المتعلمين.

الإجابة

١- ٢٠١٢م

٢- ٢٠١٢م

٣- ٢٠١٢م

٤- ٢٠١٢م

مقترحات لحل المشكلة السكانية

- للتغلب على المشكلة السكانية وآثارها الاقتصادية والاجتماعية، لا بد من :
 - السير في اتجاهين هما تنظيم الأسرة (لخفض معدلات النمو السكاني في الزيادة الطبيعية) والتنمية الاقتصادية.
 - تركيز السياسة الشاملة على مواجهة الأبعاد الأربعة للمشكلة السكانية.
- وفيما يلي التعرف أهم الحلول المقترحة لحل هذه المشكلة :

أولاً

التوسع في مجالات التنمية الإقليمية لمناطق بعيدة عن التركز والازدحام السكاني، مثل الواحات وشبه جزيرة سيناء والساحل الشمالي وساحل البحر الأحمر، مع وضع برامج تنموية شاملة.

ثانياً

البحث عن مصادر جديدة للمياه وتحسين وسائل الري وتحديثها، والتوسع في استصلاح الأراضي للزراعة لسد الفجوة الغذائية بزيادة الإنتاج الزراعي وتقليل الاعتماد على الاستيراد.

ثالثاً

تطوير التعليم خاصة الفني لتوفير الكفاءات اللازمة لتطوير الصناعة.



رابعاً

تحسين العلاقات الخارجية مع الدول خاصة العربية التي تضم ملايين العاملين المصريين.

خامساً

اتباع برامج فعالة للتنمية البشرية في محو الأمية والتعليم والصحة لردودها المباشر على السكان.



إذا استطلعنا تحقيق الاكتفاء الذاتي من المحاصيل الغذائية فإن ذلك يعني

- (1) توفير فرص عمل للشباب.
- (2) ارتفاع معدلات التنمية.
- (3) التقليل من التصدير للخارج.
- (4) نقص نصيب الفرد من المياه العذبة.

الإجابة

الإجابة الصحيحة هي (2) ارتفاع معدلات التنمية. لأن تحقيق الاكتفاء الذاتي من المحاصيل الغذائية يؤدي إلى توفير فرص عمل للشباب، مما يساهم في ارتفاع معدلات التنمية.

أهم أفكار ومفاهيم الدرس

المشكلة السكانية

النمو السريع لسكان والذي لا يتناسب مع موارد الدولة وينتج عنه انخفاض المستوى المعيشي والاقتصادي وسوء التوزيع الجغرافي.

أبعاد المشكلة السكانية

- عدم التوازن بين عدد السكان و الموارد والخدمات المتاحة أو أن معدلات التنمية لا تتماشى مع معدلات الزيادة السكانية.
- سوء توزيع السكان مما أدى إلى :
 - تزايد العبء والضغط على الخدمات بالمدن.
 - ظهور مشكلات جديدة مثل : تدوير المرافق وتلوث البيئة وزحف المباني على الأراضي الزراعية وانتشار العشوائيات.
- ارتفاع نسبة الأمية ومعدلات البطالة والفقر بصورة واضحة.
- التركيب العمري لسكان (ارتفاع نسبة سفار السن) حيث إن : نسبة كبيرة من السكان فئة غير منتجة مما يؤدي إلى زيادة الإعالة.

المشكلات المترتبة على المشكلة السكانية

مشكلات اقتصادية :

- نقص الغذاء : أدت الزيادة السكانية إلى زيادة الطلب على السلع الاستهلاكية خاصة الغذائية ولذلك لجأت مصر إلى استيراد المعاصيل الغذائية.
- نقص نصيب الفرد من المياه العذبة : يقل نصيب الفرد من المياه عن حد الفقر العالمي مما يؤثر على كثير من الأنشطة الاقتصادية أهمها الزراعة واستصلاح الأراضي.

مشكلات اجتماعية :

- ازدياد المدن وظهور العشوائيات : بسبب الزيادة السكانية والهجرة من الريف إلى المدن، مما أدى إلى :
 - الإضرار بها وتدويرها.
 - انتشار العشوائيات ويقصد بها : تجمعات عمرانية في المدن الكبرى وحواها، غير مخططة عمرانياً وتفشل في الخدمات الصحية والمياه النظيفة والصرف الصحي والطرق وشروط السكن الصحي.
- الفقر : يعيش نحو 50% من السكان دون مستوى الحد الأدنى للمعيشة.
- الأمية : تصل نسبتها في الفئات الأكثر من 10 سنوات نحو 80,8% وتزداد في الريف أكثر من المدن.
 - ترتفع معدلاتها بين الإناث عن الذكور.
 - تنتشر في مصر بسبب الفقر وانخفاض مستوى المعيشة واستخدام الأطفال كأيام عاملة وسوء توزيع الخدمات التعليمية.
- البطالة : - يقصد بها : وجود نسبة مؤثرة من شباب المجتمع خارج قوة العمل أو عدد المتعطلين القادرين على العمل ولا يستفاد منهم في إنتاج السلع أو الخدمات.
 - بلغت معدلاتها نحو 12,5% من قوة العمل ويرتفع في الحضر أكثر من الريف.
 - تزداد معدلاتها بين الإناث وتقل بين الذكور.
 - أسبابها : قصور النمو الاقتصادي عن ملاحقة النمو السكاني، هجرة المدخرات المحلية من تمويل الاستثمارات اللازمة لتوفير فرص العمل.
- الإدمان وتعاطي المخدرات : يرتبط بالفقر والبطالة كما يرتبط بالعديد من الجرائم مما يمثل مشكلة حقيقية في المجتمع.

مقترحات لحل المشكلة السكانية

- 1 التوسع في مجالات التنمية الإقليمية لمناطق بعيدة عن التركز والازدحام السكاني.
- 2 البحث عن مصادر جديدة للمياه وتحسين وسائل الري وتحديثها والتوسع في استصلاح الأراضي للزراعة لسد الفجوة الغذائية.
- 3 تطوير التعليم.
- 4 تحسين العلاقات الخارجية مع الدول.
- 5 اتباع برامج فعالة للتنمية البشرية.

أسئلة

الدرس 3

فهم • تطبيق • تحليل • تقويم • ابتكار

اختر الإجابة الصحيحة من بين البدائل التالية :



يعبر الشكل الذي أمامك عن أحد أبعاد

المشكلة السكانية وهو البعد

① الأول.

② الثاني.

③ الثالث.

④ الرابع.

تقوم الدولة المصرية بإنشاء العديد من المناطق السكنية الجديدة مثل حدائق أكتوبر وذلك للتصدي لأحد

الأبعاد الرئيسية للمشكلة السكانية وهو البعد

① الأول.

② الثاني.

③ الثالث.

④ الرابع.

إذا كنت مسئولاً في الهيئة العامة لحوا الأمية وتعليم الكبار، فأى من المحافظات التالية ستكون هى الأولى

باهتمامك لارتفاع معدلات الأمية بها ؟

① القاهرة والجيزة.

② أسيوط والمنيا.

③ الغردقة والثويس.

④ القاهرة والقليوبية.

يتمثل البعد الثالث لمشكلة السكانية بمصر في

① اتساع قاعدة الهرم السكاني.

② زيادة الواردات من الغذاء.

③ تضخم حجم المدن وازدحامها.

④ تدنى البنية التحتية.

من العوامل التي تساهم في حل كل من المشكلة السكانية والزواج المبكر في مصر

① تحسين الصحة العامة.

② زيادة الإنتاج الزراعي.

③ زيادة غير الطبيعية.

④ الاهتمام بالتعليم.

المنطقتين المظللتين في الخريطة المقابلة تتشابهان في كونهما

① مناطق جاذبة للهجرات الداخلية.

② محاور تنمية مستقبلية.

③ ترتفع بها نسبة الإناث.

④ مرتفعة في الكثافة السكانية.



ملزمة كوم



تعبّر الصورة المقابلة عن أحد أبعاد المشكلة السكانية

في مصر وهو البعد

① الأول.

② الثاني.

③ الثالث.

④ الرابع.

« يجب أن يصل الدعم إلى مستحقيه » .

بالاستعانة بالجدول المقابل نجد أن أكثر الأسر

التي يجب أن يصل إليها الدعم هي

① (س).

② (ص).

③ (ع).

④ (ل).

(س)	(ص)	(ع)	(ل)
٣	٥	٢	٦
١٢,٥٦٠	١٤,٦٤٠	٧,٢٣٠	١٩,٤٧٠
متوسط دخل الأسرة	سنويًا بالجنيه المصري		

يمكن تقليل آثار المشكلة الموجودة بالشكل المقابل

من خلال

① تصدير المواد الخام للدول المتقدمة.

② زيادة حجم الواردات المصرية.

③ تدعيم علاقات مع الدول العربية.

④ تقليل الجمارك على الواردات الأجنبية.



أى من الأنشطة الاقتصادية التالية الأكثر تضرراً من المشكلة السكانية في مصر ؟

① الصناعة.

② التجارة.

③ التعدين.

④ الزراعة.

أى مما يلي يمكن اعتباره أحد الوسائل الفعالة في مواجهة مشكلة البطالة في مصر ؟

① التوسع في استصلاح الأراضي الزراعية.

② نشر ثقافة العمل التطوعي.

③ الاعتماد على التكنولوجيا في الإنتاج.

④ ربط التعليم باحتياجات سوق العمل.

توضح الخريطة المقابلة جهودات الدولة

لمواجهة بعدين من أبعاد المشكلة السكانية

هما

① الأول والثاني.

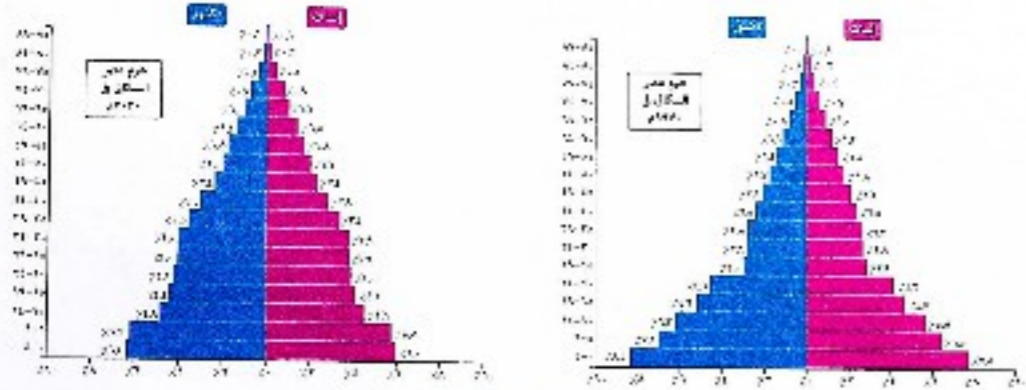
② الثاني والثالث.

③ الثالث والأول.

④ الرابع والثالث.




١٣ في ضوء دراستك للهرمين السكائين التاليين تستنتج



المصدر : الجهاز المركزي للتعبئة والإحصاء

- ١ نجاح برامج تنظيم الأسرة.
- ٢ ارتفاع معدل الأمية.
- ٣ ارتفاع نسبة الإعالة.
- ٤ انخفاض مستوى الخدمات الصحية.

١٤ أي الرسوم البيانية الآتية تعبر عن نجاح جهود الدولة في التغلب على المشكلة السكانية ؟



- ١ يرتبط البعد الأول من أبعاد المشكلة السكانية ب.....
- ٢ قصور التنمية الاقتصادية.
- ٣ انعدام التخطيط العمراني.
- ٤ الكثافة السكانية الصافية.
- ٥ ندق البنية التحتية.

١٥ أي مما يلي يعد أهم طرق خفض معدلات الإعالة في مصر ؟


- ١ رفع مستويات المعيشة.
- ٢ إعادة توزيع السكان.
- ٣ خفض معدلات البطالة.
- ٤ ضبط معدلات النمو السكاني.

١٦ أعلى محافظات مصر في نسبة البطالة

- ١ كفر الشيخ.
- ٢ الفيوم.
- ٣ القاهرة.
- ٤ بني سويف.

١٢ يتمثل البعد الرابع من أبعاد مشكلة السكانية بعصر في ارتفاع معدلات البطالة والتي يعود سببها إلى

- ١ اتساع الفئة العمرية لقمة الهرم السكاني.
- ٢ اتساع الفئة العمرية تقاعدة الهرم السكاني.
- ٣ ارتفاع نسبة الإعالة.
- ٤ انتشار العشوائيات.



المقح والذرة في عام ٢٠١٦ م

١٣ بملاحظة الشكل البياني الذي أمامك نجد

- ١ انخفاض الواردات الزراعية نتيجة الاكتفاء الذاتي.
- ٢ انخفاض الصادرات الزراعية نتيجة لزيادة الاستهلاك.
- ٣ زيادة إنتاج الحبوب الغذائية عن حاجة الاستهلاك.
- ٤ عدم وجود عجز في المحاصيل الغذائية.

١٤ يعد من الأبعاد الاقتصادية للمشكلة السكانية

- ١ اتساع الفجوة بين الإنتاج والاستهلاك.
- ٢ ارتفاع معدل الإعالة.
- ٣ ازدهار المدن وانتشار العشوائيات.
- ٤ زيادة نسبة الأمية.

١٥ يظهر الأثر السلبي للزيادة غير الطبيعية على محافظة الإسكندرية في

- ١ صغر مساحة ملكياتها الزراعية.
- ٢ ارتفاع معدل الأمية.
- ٣ زيادة نسبة الإعالة.
- ٤ زيادة الضغط على الخدمات.

١٦ تزداد المناطق العشوائية بصورة واضحة في محافظة

- ١ دمياط.
- ٢ الأقصر.
- ٣ قنا.
- ٤ الجيزة.

١٧ تحقيق مضمون العبارة المقابلة يؤدي إلى

- ١ ارتفاع نسب المعلمين.
- ٢ تقليل العشوائيات.
- ٣ إعادة توزيع السكان.
- ٤ توفير العمالة الزراعية.

وفقاً لإحصاءات البنك الدولي فإن معدل عمالة الأطفال على مستوى العالم انخفض من ٢٥٪ إلى ١٠٪ بين عامي ١٩٦٠ و ٢٠٠٣.

عازمة.كوم

٢٠ تُعد مشكلة العشوائيات من أهم المشكلات التي تهدد أمن واستقرار المجتمع ويعود السبب الرئيسي في ظهورها إلى

- (أ) انتشار عمالة الأطفال .
- (ب) تناقص أعداد سكان الريف .
- (ج) سوء توزيع الخدمات التعليمية .
- (د) ارتفاع معدلات الأمية .



إدارة المياه الجوفية بالوادي الجديد

٢١ تساهم الصورة المقابلة في إيجاد بعض الحلول لمشكلة

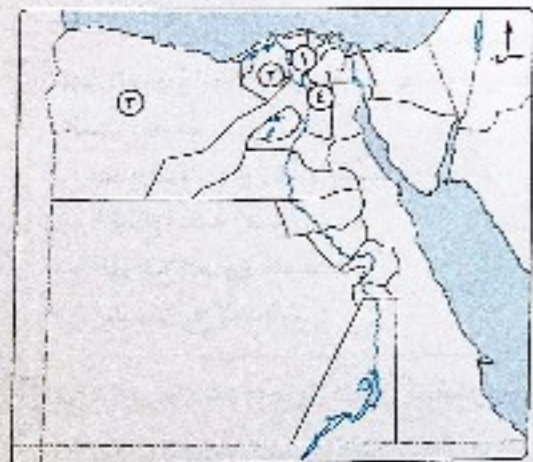
- (أ) تملح التربة الزراعية .
- (ب) سوء توزيع السكان .
- (ج) انقحوة غذائية .
- (د) خلل التركيب النوعي .

٢٢ يؤدي عجز الموارد المالية المحلية عن تمويل المشروعات التنموية إلى ظهور مشكلة

- (أ) الإدمان .
- (ب) الأمية .
- (ج) الإعاقة .
- (د) العشوائيات .

٢٣ يمكن مواجهة البُعد الأول من أبعاد المشكلة السكانية في مصر من خلال

- (أ) الاهتمام ببرامج تنظيم الأسرة .
- (ب) بناء مجتمعات عمرانية جديدة .
- (ج) توفير فرص عمل .
- (د) زيادة واردات الحبوب .



٢٤ في ضوء دراستك للخريطة المقابلة، يُعد أنسب منطقة لتحقيق تنمية إقليمية من أجل حل المشكلة السكانية

- (أ) المنطقة ١
- (ب) المنطقة ٢
- (ج) المنطقة ٣
- (د) المنطقة ٤

٢٥ يساهم تحسين العلاقة مع الدول العربية في حل مشكلة

- (أ) البطالة .
- (ب) الفقر المائي .
- (ج) الإدمان .
- (د) الأمية .

٢٦ نتج عن المشكلة السكانية بمصر زيادة نسبة الغازات الضارة في الهواء ويرجع ذلك إلى عدة عوامل منها

- (أ) عدم التوازن بين عدد السكان والموارد .
- (ب) سوء توزيع السكان .
- (ج) ارتفاع نسبة صغار السن .
- (د) ارتفاع معدلات البطالة .



٢٤ تؤكد الصورة المقابلة أن الدولة المصرية تحاول أن تجد حلول لعدد من المشكلات ومنها

- (أ) القضاء على العشوائيات .
- (ب) خفض معدلات الإعاقة .
- (ج) تغيير حجم سكان الدولة .
- (د) تدهور مستوى الخدمات الاجتماعية .

٢٥ تتعدد أسباب انخفاض نسب المتعلمين في مصر ولكن يخرج عنها

- (أ) انخفاض المستوى المعيشي .
- (ب) ارتفاع معدلات الهجرة .
- (ج) استخدام الأطفال كأيدٍ عاملة .
- (د) انتشار العمالة الزراعية .

٢٦ أي مما يلي تعتبر إحدى المشكلات الاجتماعية الناتجة عن الزيادة السكانية في مصر والتي يمكن التغلب عليها من خلال تفعيل القوانين والتشريعات ؟

- (أ) الضغط على المرافق العامة .
- (ب) انخفاض نسبة العمالة الزراعية .
- (ج) ارتفاع معدلات البطالة .
- (د) انتشار عمالة الأطفال .



إحدى المشروعات الصغيرة

٢٧ تمثل الصورة المقابلة إحدى طرق مواجهة مشكلة اجتماعية تتمثل في

- (أ) الأمية .
- (ب) العشوائيات .
- (ج) نقص الغذاء .
- (د) الفقر .



٢٨ من خلال ملاحظتك لخريطة المقابلة نجد أن عند تحقيق التنمية العمرانية بالمحافظة المظللة سيؤدي ذلك إلى العمل على حل إحدى أبعاد المشكلة السكانية وهما البعدين

- (أ) الأول والثاني .
- (ب) الثاني والرابع .
- (ج) الأول والثاني .
- (د) الثالث والرابع .

٢٩ يمكن علاج مشكلة البطالة من خلال

- (أ) ترويج الأعمال الوطنية .
- (ب) تشجيع الهجرة الداخلية .
- (ج) إدخال التكنولوجيا في المجال الزراعي .
- (د) التركيز على التعليم العالي .

٤٦ الاتجاه نحو خلق تجمعات عمرانية في المناطق الجديدة أحد حلول مشكلة

- ① الإدمان. ② زيادة قلة المتحفيين بالتعليم الفني. ③ العشوائيات. ④ عدم وجود خطط تنمية مستقبلية. ⑤ الأمية. ⑥ الإسعاق.

٤٧ أثرت المشكلة السكانية في مصر سلبيًا على

- ① مساحة الأراضي الزراعية. ② مؤسسات المجتمع المدني. ③ معدلات التوفيق بالدولة. ④ إنشاء المدن الجديدة. ⑤ انخفاض معدلات الفقر. ⑥ التوزيع العمرى للسكان. ⑦ تدهور المرافق.

٤٨ توجد علاقة بين سوء توزيع السكان في مصر و

- ① معدلات الإسعاق. ② تعاظم المخدرات. ③ تصدير المواد الخام. ④ استيراد المحاصيل الغذائية. ⑤ زيادة فرص العمل. ⑥ توافر أراضي زراعية منتجة للمحاصيل.

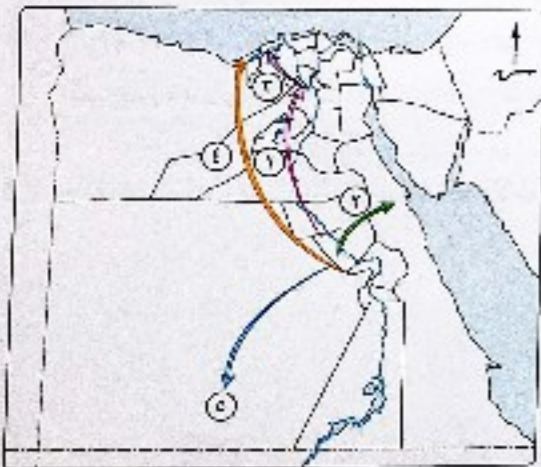
٤٩ زيادة اهتمام الدولة بالتعليم الفني يؤدي إلى

- ① زيادة فرص العمل. ② ارتفاع نسبة الإسعاق. ③ زيادة الهجرة الداخلية. ④ انخفاض نسبة المواليد. ⑤ انتشار العشوائيات في القرى. ⑥ عدم ملاحقة النمو الاقتصادي للزيادة السكانية.

ب اختر إجابتين صحيحتين من بين البدائل التالية :

٤٩ أمامك خريطة لبعض تيارات الهجرة بمصر أى تيارين من هذه التيارات يساهمان في مواجهة المشكلة السكانية ؟ و

- ① رقم ١ ② رقم ٢ ③ رقم ٣ ④ رقم ٤ ⑤ رقم ٥



٥٠ تساهم المشاركة المجتمعية في حل مشكلتي و

- ① سوء توزيع السكان. ② هجرة العقول المفقرة. ③ الهجرة من الريف إلى المدن. ④ انخفاض مستوى المعيشة. ⑤ ارتفاع معدلات الإسعاق.

٢٧ تتعدد أبعاد المشكلة السكانية في مصر ومنها

- ① انخفاض معدلات الوفيات. ② قلة الموارد والخدمات. ③ ارتفاع نسبة كبيرة من الأشخاص الذين يعملون ويقومون بالإنتاج على آخرين لا يعملون، أحد نتائج المشكلة السكانية في مصر والذي يرتبط زيادته ب

- ① زيادة الطلب على المحاصيل الغذائية في مصر على

- ① تزايد العبء والضغط على الخدمات. ② وجود فائض في الميزان التجاري. ③ عدم توافق معدلات التنمية مع الزيادة السكانية. ④ توافر أراضي زراعية منتجة للمحاصيل. ⑤ نقص فرص العمل. ⑥ ارتفاع نسبة الإسعاق. ⑦ انتشار العشوائيات في القرى.

٤١ إذا أردت أن تساهم في حل مشكلة انتشار العشوائيات بمصر فإليك سوف تتجه للإقامة في محافظة

- ① بورسعيد. ② القليوبية. ③ المنوفية. ④ الوادي الجديد. ⑤ الإسماعيلية. ⑥ الإسماعيلية. ⑦ الإسماعيلية. ⑧ الإسماعيلية.



٤٢ تعبر الصورة المخالفة عن خطر يواجه الزراعة في مصر والذي يحدث بسبب

- ① عدم التوازن بين عدد السكان والموارد. ② ارتفاع نسبة الأمية. ③ التوزيع العمرى للسكان. ④ سوء توزيع السكان.

٤٣ من خلال دراستك لتجدول المقابل لمستنتج وجود

- ① تهديد لخطط التنمية الاقتصادية. ② توازن في الميزان التجاري لمصر. ③ تجزؤ في المصنوعات، لسكرية أكبر من العجز في الألبان. ④ تحفيق الاكتفاء الذاتي من السلع الاستهلاكية.

النصف الأول من ٢٠١٥ / ٢٠١٦ م		
قيمة الصادرات بالليون دولار	قيمة الواردات بالليون دولار	
١٤١,٤	٢٣٥,٢	ألبان ومنتجاتها
٩٩,٤	١٧٣,٦	محاصيل غذائية متنوعة
١٠٩	١٧٨,٢	مصنوعات سكرية
٥٦,٥	٦٥,٦	فواكه

المصدر: البنك المركزي المصري

مفهوم • تطبيق • تحليل • تقويم • ابتكار

اختر الإجابة الصحيحة من بين البدائل التالية :

- يساهم تحسين الظروف المعيشية للأسر الفقيرة في
- (أ) خفض معدلات النمو السكاني.
(ب) زيادة معدلات الهجرة الداخلية.
(ج) تغير التركيب التنوعى.
(د) زيادة معدلات الإعالة.

يمكن أن نجد تشابه في التركيب النوعى للسكان في محافظتى

- (أ) الإسكندرية والمنوفية.
(ب) أسسوط والقاهرة.
(ج) الإسكندرية ومطروح.
(د) البحر الأحمر والسويس.

توجد علاقة طردية بين معدل المواليد في مصر و

- (أ) مستوى الخدمات.
(ب) مستوى المعيشة.
(ج) معدل الأمية.
(د) ارتفاع الأجور.

أى المحافظات الآتية ترتفع بها نسبة الأمية ؟

- (أ) القاهرة.
(ب) الجيزة.
(ج) الإسكندرية.
(د) المنيا.

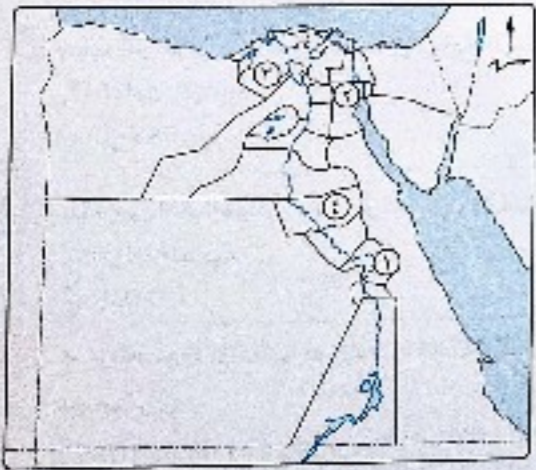
في ضوء دراستك للخريطة المقابلة،

تتوقع ارتفاع معدل الذكور عن الإناث في المحافظة

- (أ) رقم ١
(ب) رقم ٢
(ج) رقم ٣
(د) رقم ٤

توظيف القدرات العلمية يؤدي إلى

- (أ) ارتفاع معدل الإعالة.
(ب) القضاء على العشوائيات.
(ج) تحقيق التنمية الاقتصادية.
(د) هجرة العقول.



مفهوم • تطبيق • تحليل • تقويم • ابتكار

أسئلة مقالية :

٥١ «يُعتبر التوسع في مجالات التنمية بمناطق بعيدة عن التركز السكاني إحدى السيناريوهات المقترحة لحل المشكلة السكانية». في ضوء دراستك، دال على صحة العبارة السابقة.

٥٢ فسر: أسباب حدوث المشكلة السكانية في مصر.

٥٣ دال على صحة العبارة التالية جغرافياً :
تعد الزيادة غير الطبيعية أحد الأبعاد الاجتماعية للمشكلة السكانية.

٥٤ حدد الأثر السلبي الناتج عن : زيادة السكان بالنسبة لخطط التنمية الاقتصادية في مصر.

٥٥ ماذا تتوقع : عند زيادة اهتمام الدولة بتطوير التعليم خاصة الفني ؟

٥٦ «زيادة نسبة الإعالة في مصر أحد الأبعاد الرئيسية للمشكلة السكانية بها». ما تقييمك للعبارة السابقة ؟

٥٧ «البطالة - الإدمان - النمو السكاني المرتفع». استنتج العلاقة بين المشكلات السابقة.

٥٨ «يرى البعض أنه لكي يحدث توازن بين السكان والموارد الاقتصادية لابد أن يكون معدل النمو الاقتصادي أكبر من معدل النمو السكاني». اقترح كيف يمكن تحقيق ذلك.


٥٩ ماذا يحدث إذا : استمرت الزيادة في معدلات البطالة بين الشباب ؟

لحل أسئلة إلكترونيًا ومعرفة كيفية الوصول للإجابة الصحيحة

استخدم QR Code
عن طريق تطبيق معاك

7 أمامك هرم سكاني لدولة ما، بتحليلك لهذا الهرم نستنتج

- 1 ارتفاع معدل النمو السكاني.
- 2 امتلاكها لقوة عاملة كثيرة.
- 3 ارتفاع معدل الإعالة.
- 4 انخفاض معدل الأمية.



8 تتشابه محافظة قنا مع محافظة أسيوط في

- 1 اتجاه بعض تيارات الهجرة.
- 2 ارتفاع مستوى المعيشة.
- 3 انخفاض معدل الأمية.
- 4 تسارع التنمية الزراعية.

9 ترتفع نسبة الذكور عن الإناث نتيجة الزيادة غير الطبيعية في محافظة

- 1 سوهاج.
- 2 الإسكندرية.
- 3 بني سويف.
- 4 كفر الشيخ.

10 تؤثر مظاهر السطح بالسلب على التوزيع السكاني في محافظة

- 1 سوهاج.
- 2 البحر الأحمر.
- 3 شمال سيناء.
- 4 الغربية.

11 أي مما يلي يعد عاملاً مشتركاً بين معظم المحافظات المصرية الساحلية ؟

- 1 اعتدال مناخها.
- 2 استقبالها لتيارات هجرة.
- 3 أنها محافظات طاردة للسكان.
- 4 شهرتها السياحية.

12 يظهر أثر الموارد المائية واضحاً في توزيع السكان في محافظة

- 1 الوادي الجديد.
- 2 الإسكندرية.
- 3 جنوب سيناء.
- 4 البحر الأحمر.

13 يعتبر من أكثر العوامل تأثيراً في انخفاض الكثافة السكانية في محافظة الشرقية

- 1 الموارد المائية.
- 2 المناخ.
- 3 التربة.
- 4 النقل والمواصلات.

14 تُعبر الصورة المقابلة عن أحد محاولات الدولة

للتوصل إلى

- 1 حل مشكلة العشوائيات.
- 2 خفض معدلات الأمية.
- 3 خلق فرص عمل.
- 4 زيادة الإنتاج القومي.



15 يمكن علاج مشكلة البطالة من خلال

- 1 تشجيع الاستهلاك.
- 2 الاهتمام بالتعليم الفني.
- 3 الاهتمام بالتعليم العالي.
- 4 تقليل الاستثمار الأجنبي.

16 ليصبح الهرم السكاني في صالح مصر يجب الاهتمام ب.....

- 1 تحسين الرعاية الصحية.
- 2 تخفيض معدلات الزيادة غير الطبيعية.
- 3 تنظيم الأسرة.
- 4 زيادة الأجور.

17 يؤدي عجز الموارد المائية المحلية عن تمويل المشروعات الاستثمارية إلى ظهور مشكلة

- 1 البطالة.
- 2 الأمية.
- 3 الإعالة.
- 4 العشوائيات.

18 يرجع ارتفاع معدلات الزيادة غير الطبيعية في مدن القناة إلى

- 1 ارتفاع الأجور.
- 2 وفرة المياه العذبة.
- 3 وفرة التربة الخصبة.
- 4 اعتدال المناخ.

19 عدم تفعيل قوانين حماية الطفل قد يؤدي لارتفاع

- 1 مستوى الأمية.
- 2 نسبة الفقر.
- 3 معدل البطالة.
- 4 معدل الزيادة غير الطبيعية.

20 يمثل الجزء المظلل والمشار إليه في الخريطة

المقابلة، محافظة بها

- 1 كثافة سكانية مرتفعة.
- 2 كثافة سكانية مرتفعة جداً.
- 3 عوامل طاردة للسكان.
- 4 توافر فرص عمل.



21 يرجع ندرة السكان في محافظة جنوب سيناء إلى

- 1 قلة الخدمات التعليمية.
- 2 قلة الخدمات الصحية.
- 3 طبيعتها الوعرة.
- 4 ارتفاع معدل البطالة.

22 أي مما يلي كان سبباً رئيسياً في ظهور المناطق العشوائية بمصر ؟

- 1 سوء توزيع الخدمات التعليمية.
- 2 انتشار عمالة الأطفال.
- 3 ارتفاع معدلات الإعالة.
- 4 انخفاض الأجور في الريف.

- ٢٢ تعد مركزية السكان في مصر مؤشراً واضحاً على
- (أ) استنزاف الموارد الاقتصادية.
(ب) زيادة القدرة الإنتاجية.
(ج) انخفاض النمو الاقتصادي.
(د) استقرار السكاني.

- ٢٤ من الأسباب الاقتصادية لارتفاع معدلات المواليد في مصر
- (أ) ارتفاع نسبة الفقر.
(ب) ارتفاع نسبة الأمية.
(ج) زواج الأطفال دون سن ١٨ عاماً.
(د) الأفكار والمعتقدات الخاطئة.

- ٢٥ في حال اختفاء مشكلة الأمية بمصر فمن المتوقع
- (أ) انخفاض معدل التوفيات.
(ب) الوصول لمرحلة الاستقرار السكاني.
(ج) حدوث تغيير في التركيب النوعي.
(د) زيادة معدلات الهجرة الخارجية.



٢٦ تمثل الصورة المقابلة أحد أبعاد المشكلة السكانية

وهو البعد


- (أ) الأول.
(ب) الثاني.
(ج) الثالث.
(د) الرابع.

- ٢٧ يتجه معظم تيار الهجرة الداخلية القادم من شمال الصعيد إلى
- (أ) القاهرة وشمال الدلتا.
(ب) القاهرة والإسكندرية.
(ج) شمال سيناء وغرب الدلتا.
(د) الإسكندرية ومطروح.

- ٢٨ تتسم محافظات وسط الدلتا بـ
- (أ) ارتفاع الكثافة السكانية.
(ب) ارتفاع معدل البطالة.
(ج) ارتفاع معدل الزيادة غير الطبيعية.
(د) عدم توازن التركيب النوعي.

- ٢٩ تلتخص جودة الأراضي الزراعية في غرب محافظة
- (أ) الشرقية.
(ب) بني سويف.
(ج) المنوفية.
(د) الغربية.

٣٠ بدراسة أشكال الأهرامات السكانية المختلفة التالية، تزداد نسبة الإعالة في الشكين



- ٣١ «تصل نسبة الأمية في مصر إلى ٢٥,٨٪ من السكان وفقاً لإحصاءات عام ٢٠١٧».
- ويعد أكثر الأنشطة التي كانت سبباً في زيادة هذه النسبة هو
- (أ) النشاط الصناعي. (ب) التشييد والبناء. (ج) النشاط التجاري. (د) النشاط الزراعي.

- ٣٢ يمثل عامل الجذب السكاني الأكثر تمييزاً لمحافظة القاهرة في
- (أ) ارتفاع مستوى المعيشة. (ب) ارتفاع مستوى الإدارة.
(ج) ارتفاع الأجور. (د) وجود المنشآت الترفيهية.

- ٣٣ دعم المشروعات الصغيرة للشباب في مصر يساهم في حل مشكلة
- (أ) الأمية. (ب) نقص الغذاء. (ج) الإدمان. (د) نقص المياه.

- ٣٤ ظهرت مدينة بورفؤاد نتيجة لعامل
- (أ) التضاريس. (ب) الثروة الخصبة. (ج) الموارد المائية. (د) النقل والمواصلات.

- ٣٥ تصل تيارات الهجرة الداخلية إلى الإسكندرية من عدة محافظات منها محافظة
- (أ) جنوب سيناء. (ب) البحر الأحمر. (ج) المنيا. (د) بورسعيد.

- ٣٦ يقل السكان بسبب فقراتربة في الأطراف الشرقية لمحافظة
- (أ) الغربية. (ب) الشرقية. (ج) الغربية. (د) البحيرة.

- ٣٧ تشترك محافظتي الفيوم ودمياط في أنهما ذات كثافة سكانية
- (أ) مرتفعة. (ب) متوسطة. (ج) منخفضة. (د) منخفضة جداً.

- ٣٨ يمكن القضاء على مشكلة نقص الحبوب الغذائية من خلال
- (أ) اتباع برامج فعالة للتنمية البشرية. (ب) تطوير التعليم الفني.
(ج) تحسين العلاقات الخارجية مع الدول. (د) تنمية الموارد المائية.

- ٣٩ أي من العبارات الآتية تعد إحدى سمات محافظة أسيوط ؟
- (أ) انخفاض متوسط الأجور. (ب) ارتفاع الكثافة السكانية.
(ج) تعاقب نسبة الإناث ونسبة الذكور. (د) ارتفاع مستوى المعيشة.

٤٠ تتشابه المحافظتين المظللتين في الخريطة المقابلة في

كونهما مناطق

- (أ) مستقبلة للهجرات الداخلية.
(ب) ذات كثافة سكانية مرتفعة.
(ج) حاضرة للسكان.
(د) تقل بها فرص العمل.



٤١ تتجه الدولة لحل مشكلة التركز الشديد للسكان من خلال التوسع في مجالات التنمية الإقليمية كما

- في محافظة
 ① الغربية ② الوادي الجديد ③ المنوفية ④ الدقهلية

٤٢ يعد المناخ العامل الرئيسي لتركز السكان في محافظة
 ① المنيا ② قنا ③ الفيوم ④ دمياط

٤٣ زيادة الفئة العمرية التي تشغل قمة الهرم السكاني بمصر تعني
 ① ارتفاع معدل النمو السكاني ② الوصول إلى الاستقرار السكاني
 ③ إعاقة مشروعات التنمية ④ ارتفاع نسبة الأمية .

٤٤ من خلال البيانات التي أمامك استنتج :

المحافظة	(س)	(ص)
عدد السكان	٣٨٩٨٥٠٠ نسمة	٣٣٧٠٥١ نسمة
المساحة	١٥٣٢ كم ^٢	٢٠٣٦٨٥ كم ^٢
النشاط الاقتصادي الرئيسي	الزراعة	السياحة والتعدين

المحافظة (س) طاردة للسكان بسبب

- ① صغر المساحة.
 ② المناخ المنطرف.
 ③ ضعف الموارد المعدنية.
 ④ قلة الموارد المائية.

٤٥ يقل السكان في الأطراف الشمالية لمحافظة

- ① المنوفية ② الغربية ③ كفر الشيخ ④ القليوبية

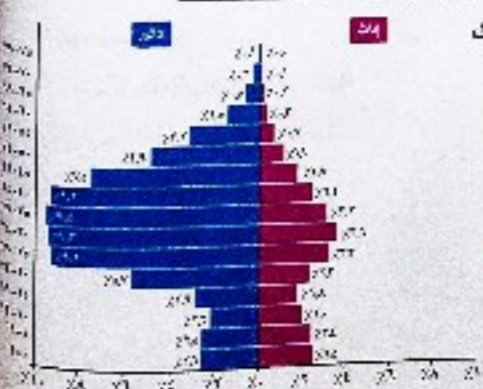
٤٦ تُعتبر من أسباب المشكلة السكانية في مصر

- ① زيادة الوفيات وقلة المواليد.
 ② زيادة المواليد والوفيات بنسب متساوية.
 ③ قلة الوفيات وزيادة المواليد.
 ④ قلة المواليد والوفيات بنسب متساوية.

٤٧ إذا أردت القيام بأحد مشاريع الاستصلاح الزراعي، فأى من محافظات الدلتا سوف تتجه لتميمتها ؟

- ① الغربية ② القليوبية ③ البحيرة ④ دمياط

٤٨ من المتوقع، إذا كان الهرم السكاني بمصر في صورته التي أمامك



- فهذا يعني زيادة
 ① القدرة الإنتاجية ② معدل الإعالة
 ③ معدل الأمية ④ المتطلبات التعليمية

٤٩ تتشابه محافظة الإسماعيلية مع محافظة البحر الأحمر في

- ① الكثافة السكانية المنخفضة. ② قلة فرص العمل.
 ③ ارتفاع معدلات الأمية. ④ التركيب النوعي.

٥٠ «الهجرة القسرية هي انتقال الفرد من مكان لأخر دون إرادته داخل الدولة أو خارجها».

في ضوء العبارة السابقة :

- ظهرت آثار الهجرة القسرية في النصف الثاني من القرن العشرين في محافظتي
 ① أسوان والفيوم ② السويس والإسماعيلية
 ③ الإسكندرية ومطروح ④ البحيرة والقاهرة.

٥١ تُعتبر من المحافظات الجاذبة لسكان جنوب مصر

- ① كفر الشيخ ② شمال سيناء
 ③ السويس ④ الوادي الجديد

٥٢ أكثر العوامل تأثيراً في تركيز السكان بالمدينة المشار

إليها على الخريطة المقابلة

- ① النشاط الاقتصادي.
 ② المناخ المعتدل.
 ③ الموارد المائية.
 ④ التربة الخصبة.



٥٣ يقل السكان في الأطراف الشمالية والغربية لمحافظة

- ① الغربية ② البحيرة ③ بورسعيد ④ المنوفية

٥٤ ينتج عن العلاقة العكسية بين معدل المواليد والوفيات في مصر

- ① تغير التركيب العمري للسكان. ② تغير التركيب النوعي للسكان.
 ③ ارتفاع معدل النمو السكاني. ④ انخفاض معدلات الزيادة غير الطبيعية.

٥٥ إذا استطاعت مصر الوصول إلى مرحلة الاستقرار السكاني فإن ذلك يعني

- ① ارتفاع معدلات الوفيات وانخفاض معدلات المواليد.
 ② ارتفاع معدلات المواليد والوفيات.
 ③ انخفاض معدلات الوفيات وارتفاع معدلات المواليد.
 ④ انخفاض معدلات المواليد والوفيات.

- 56 تمثل الصورة التي أمامك مشكلة نشأت نتيجة لـ
- الهجرة الخارجية.
 - الهجرة الداخلية.
 - انتشار الأمية.
 - زيادة نسبة الإعالة.



- 57 يمكن معرفة قدرة المجتمع بالدولة على مواكبة مشروعات التنمية من خلال التعرف على
- التركيب العمري.
 - التركيب النوعي.
 - التركيب الاقتصادي.
 - المستوى المعيشي.

- 58 يعد أقل المؤشرات تأثيراً في الخطط الاقتصادية لمصر
- التركيب العمري.
 - التركيب النوعي.
 - الكثافة العامة.
 - الكثافة الصافية.

- 59 يخرج تيار الهجرة الوافدة إلى محافظة البحر الأحمر من
- شمال الدلتا.
 - غرب الدلتا.
 - شبه جزيرة سيناء.
 - وادي النيل.


- 60 زيادة الفئة التي تشغل قمة الهرم السكاني في مصر تعني
- ارتفاع مستوى الخدمات الصحية.
 - ارتفاع معدل النمو السكاني.
 - زيادة فئة قوة العمل.
 - إمكانية تحقيق كافة برامج التنمية.

- 61 تزداد نسبة الذكور عن نسبة الإناث نتيجة للهجرة الداخلية في محافظة
- السويس.
 - المنوفية.
 - أسوان.
 - أسيوط.

- 62 أمامك خريطة لبعض تيارات الهجرة. أي من هذه التيارات يساهم في زيادة المشكلة السكانية بمصر؟
- رقم 1
 - رقم 2
 - رقم 3
 - رقم 4



مزممة. كوم



الهرم السكاني لمصر عام 2017

- 63 ينحلم الهرم السكاني المقابل نستنتج
- الوصول لمرحلة الاستقرار السكاني.
 - إمكانية تحقيق خطط التنمية.
 - الانخفاض معدل الإعالة.
 - قلة المتطلبات الحياتية.

- 64 تتشابه محافظتا القاهرة وبورسعيد في أنهما
- جاذبتان للسكان.
 - منخفضتا الكثافة السكانية.
 - مرتفعتا الكثافة السكانية.
 - طاردتان للسكان.

- 65 اتساع قاعدة الهرم السكاني للدولة تدل على
- زيادة الهجرة الوافدة.
 - وجود انفجار سكاني.
 - الوصول للاستقرار السكاني.
 - زيادة الهجرة النازحة.

ب اختر إجابتين صحيحتين من بين البدائل التالية :

- 66 تتشابه كل من محافظتي كفر الشيخ وأسوان في
- وفرة فرص العمل.
 - ارتفاع مستوى المعيشة.
 - انخفاض نسبة الذكور عن الإناث.
 - انخفاض الأجور.

- 67 في الخريطة اتى أمامك يمثل الجزء المظلل محافظة بها
- ندرة في الكثافة السكانية.
 - كثافة سكانية متوسطة.
 - تيارات هجرة نازحة.
 - عوامل جاذبة للسكان.
 - كثافة سكانية منخفضة.



- 68 تتجه تيارات الهجرة القادمة من محافظات وسط الدلتا إلى محافظتي
- الإسكندرية.
 - البحر الأحمر.
 - القاهرة.
 - الفيوم.
 - مطروح.

الأنشطة الاقتصادية في مصر

النشاط الزراعي في مصر.

النشاط التعدين والصناعي في مصر.

النقل والتجارة في مصر.

السياحة في مصر وتحديات الاقتصاد المصري.

لحل أسئلة إلكترونيًا
استخدم QR Code
الموجود في نهاية الأسئلة

عن طريق
تطبيق
معك
Ma2akApp

• أسئلة على كل درس طبقًا للمعايير الجديدة.
• بنك أسئلة على الوحدة الرابعة.



الوحدة

4

الدرس الأول

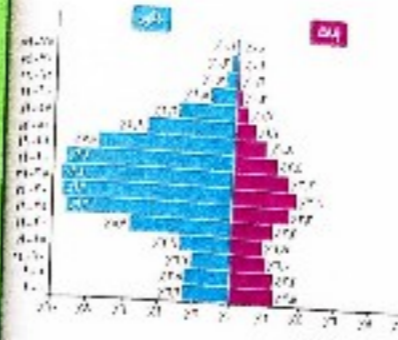
الدرس الثاني

الدرس الثالث

الدرس الرابع

الوحدة 3

مفهوم • مفهوم • تحليل • تقويم • ابتكار



٦٩ تعنى زيادة الفئة العمرية التي تشغل منتصف الهرم السكاني في الشكل المقابل و.....

(١) ارتفاع نسبة المهاجرين.
(٢) ارتفاع معدل الإعالة.
(٣) ارتفاع نسبة الأمية.
(٤) تحقيق المشروعات التنموية.
(٥) زيادة نسبة المتعلمين.

٧٠ تتوافق قرص العمل والأجور المرتفعة في محافظتي و.....

(١) المنيا. (٢) بورسعيد.
(٣) الأقصر. (٤) الدقهلية.

أسئلة مقالية :

٧١ حدد الأثر الناتج من : وجود تعدادات سكانية دقيقة لمصر.

٧٢ ما مقترحائك لـ : تنمية المحافظات الطاردة للسكان والقضاء على مشكلاتها ؟

٧٣ « تساهم الهجرة الخارجية في إعادة التوزيع السكاني في مصر ». حدد مدى مصداقية العبارة السابقة . مفسرًا سبب إجابتك.

٧٤ ماذا يحدث إذا : استمر النمو السكاني في مصر بمعدله الحالي ؟

٧٥ وضح : تأثير التوزيع السكاني لمصر على البنية التحتية.

٧٦ حدد مدى مصداقية العبارة الآتية :

يمكن الاعتماد كليًا على الهرم السكاني في دراسة التركيب السكاني في دولة ما.

٧٧ وضح العلاقة بين : الهجرة الداخلية، والتركيب النوعي للسكان في مصر.

٧٨ دلل جغرافيًا على صحة العبارة الآتية : لعب نهر النيل دورًا بارزًا في توزيع السكان في مصر.

لحل أسئلة إلكترونيًا ومعرفة كيفية الوصول للإجابة الصحيحة



عن طريق
تطبيق



استخدم
QR Code

النشاط الزراعي في مصر



أهداف الدرس : في نهاية الدرس ينبغي أن يكون الطالب قادرًا على أن :

- يحدد الأنشطة الاقتصادية في مصر.
- يحدد العوامل المؤثرة في الزراعة في مصر.
- يستنتج أسباب تناقص المساحة المزروعة بالنقطن في مصر.
- يقيم الجهود التي تبذلها الدولة للنهوض بالزراعة وتبنيها.
- يحلل الرسوم البيانية والجدول الإحصائية والخرائط المرتبطة بالنشاط الزراعي.
- يوضح العلاقة بين بعض عناصر المناخ والإنتاج الزراعي.
- يحدد أهم المحاصيل الزراعية في مصر.
- يشرح على خريطة مصر أهم المحاصيل الزراعية.
- يحدد تعريفًا صحيحًا للمفاهيم (ترب - قنطرة).
- يستنتج أسباب انخفاض عائدات الزراعة كتنشيط اقتصادي.
- يفسر أسباب تركيز نوع السكر بالقرب من المزرع.
- يشرح طريقة لمواجهة مشكلات الزراعة في مصر.
- يوضح العلاقة بين الثروة الحيوانية والزراعة كتنشيط اقتصادي.
- يحدد موارد المياه التي تعتمد عليها الزراعة في مصر.
- يحدد أهم مصادر الري في مصر.
- يحدد أهم المشكلات التي تواجه التنمية الزراعية في مصر.

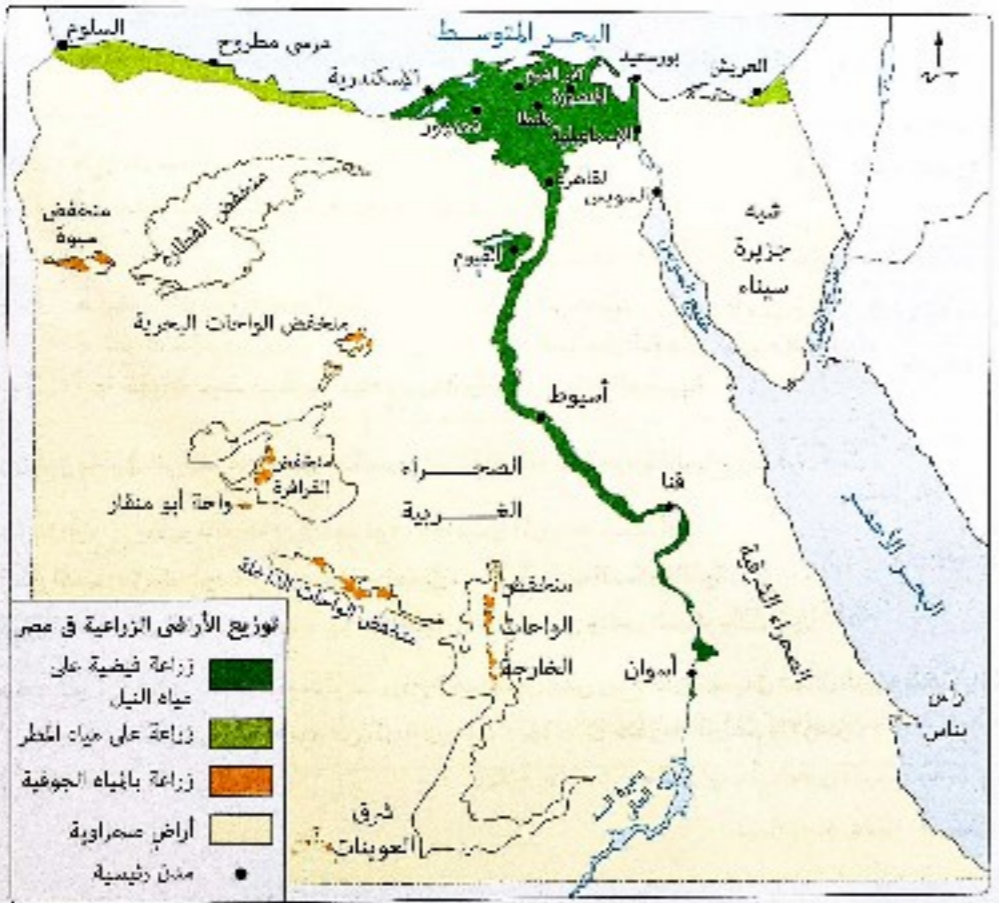
يعتمد الاقتصاد المصري على العديد من الموارد الطبيعية والبشرية وطرق استخدامها من خلال الأنشطة الاقتصادية في المجالات المختلفة ومنها الزراعة والثروة الحيوانية والسمكية.

أولاً الزراعة

- تُعد الزراعة من أهم الأنشطة الاقتصادية في مصر حيث :
- يمارسها عدد كبير من السكان وتزيد نسبتهم على ٢٩٪ من إجمالي العاملين في مصر.
- تساهم بنحو ١٣,٥٪ من جملة الناتج المحلي لعام ٢٠١١م.

المساحة الزراعية

- بلغت مساحة الأراضي الزراعية في مصر عام ٢٠١١ نحو ٨,٦ مليون فدان، تتوزع في :
- أراضي الوادي والدلتا ومنخفض الفيوم.
- الواحات بالصحراء الغربية.
- الساحل الشمالي.



الفرق بين المساحة الزراعية، والمساحة المحصولية

- المساحة الزراعية هي مساحة الأرض الزراعية الفعلية.
- المساحة المحصولية هي إجمالي مساحة المحاصيل التي تُزرع في كل الموسم الزراعية خلال السنة، فإذا زرع اثنان في السنة مرتين تصبح المساحة المزروعة قد تبين وهكذا.

العوامل المؤثرة في الزراعة

العوامل الطبيعية :

١ موارد المياه تقوم الزراعة في مصر على ثلاثة موارد (مصادر) للمياه، هي :

- مياه نهر النيل تعتمد عليها الزراعة بنسبة ٩٩٪ خاصة بعد تحول نظام الري الحوضي إلى نظام الري الدائم مما يؤكد ضرورة الاهتمام بدول حوض النيل وتوطيد علاقتنا بها والعمل على تحقيق التنمية بها وتنمية الموارد المائية للنهر.
- المياه الجوفية تُعد المصدر الثاني الذي تعتمد عليه الزراعة.
- الأمطار تعتمد عليها الزراعة في نطاق الساحل الشمالي سواء بطريقة مباشرة أو من خلال حفر آبار ضحلة للحصول على مياه المطر المتسربة من السطح.

٢ التربة يؤثر نوع التربة على تنوع المحاصيل الزراعية، ويوجد في الأراضي المصرية نوعين رئيسيين من التربة، هما :

- التربة الطينية
 - توجد في : وادي نهر النيل.
 - تتميز بـ : ثباتها حيث يتكون معظمها من الطمي النيلي.
- التربة الرملية
 - توجد في : بطون الأودية الصحراوية.
 - تتميز بـ : أنها خفيفة تتسرب فيها المياه بسرعة وتفتقر للمادة العضوية.

٣ المناخ يؤثر في الزراعة من خلال عناصره المختلفة: خاصة الحرارة والرياح والمطر، حيث :

- درجة الحرارة يظهر تأثيرها في تحديد نوع المحاصيل المزروعة فنجد أن :
 - المناطق الحارة في الجنوب : تجود بها محاصيل، مثل قصب السكر والذرة.
 - المناطق المعتدلة في الشمال : تجود بها محاصيل، مثل القمح وبنجر السكر والشعير.
- الرياح يظهر أثرها عندما تهب رياح الخماسين وهي رياح حارة تهب في فصل الربيع تضر بالمحاصيل الحقلية بما تحمله من أتربة ورمال، وتؤدي إلى سقوط البراعم والأزهار.



سأهم نهر النيل في تكوين التربة الطينية الخصبة خاصة في محافظة
 ① أسيوط. ② السويس. ③ شمال سيناء. ④ مطروح.

الإجابة

العوامل البشرية :

١ نظام الري تحول نظام الري الحوضي في بداية القرن الـ ١٩م إلى ري دائم حيث اهتم محمد علي بزراعة المحاصيل الصيفية وأقيمت العديد من مشروعات الري لتنظيم مياه الري. وتتمثل في :

• الترع

- قنوات مائية اصطناعية تنشق لتوصيل مياه الأنهار إلى الأراضي الزراعية.
- مثل : ترعة الإبراهيمية في وادي النيل.
- ترعة الإسماعيلية في شرق الدلتا.
- ترعة النوبارية في غرب الدلتا.

• القناطر

- حواجز مائية لها بوابات تنشأ في مجرى النهر وتعمل على رفع منسوب المياه أمامها لتصب في الترع المتفرعة.
- مثل : القناطر الخيرية.
- قناطر إسنا.

• السدود والخزانات مثل :

- خزان أسوان : أنشئ عام ١٩٠٢م.
- السد العالي : بدأ العمل في إنشائه عام ١٩٦٠م وتم افتتاحه عام ١٩٧١م ويقع إلى الجنوب من خزان أسوان بنحو ٦,٥ كم ويخزن المياه مخزنًا دائمًا في بحيرة السد.

توضيح


أدى نظام الري الدائم إلى فقدان التربة المصرية خصوبتها نتيجة لحجز الطمي النيلي خلف السدود والخزانات.






قصب السكر

- أهميته : يُعد المحصول الرئيسي لإنتاج السكر في مصر.
- موسم الزراعة : محصول صيفي (من المحاصيل المدارية الحارة).
- إنتاجه : بلغ نحو ١٦ مليون طن عام ٢٠١٣.
- تتركز زراعته في : محافظات الوجه القبلي.




بنجر السكر

- موسم الزراعة : محصول شتوي (من محاصيل المناطق المعتدلة والمعتدلة الباردة).
- تتركز زراعته في :
 - محافظات الوجه البحري.
 - بعض محافظات الوجه القبلي.
- أهم المحافظات المنتجة :
 - كفر الشيخ.
 - الدقهلية.

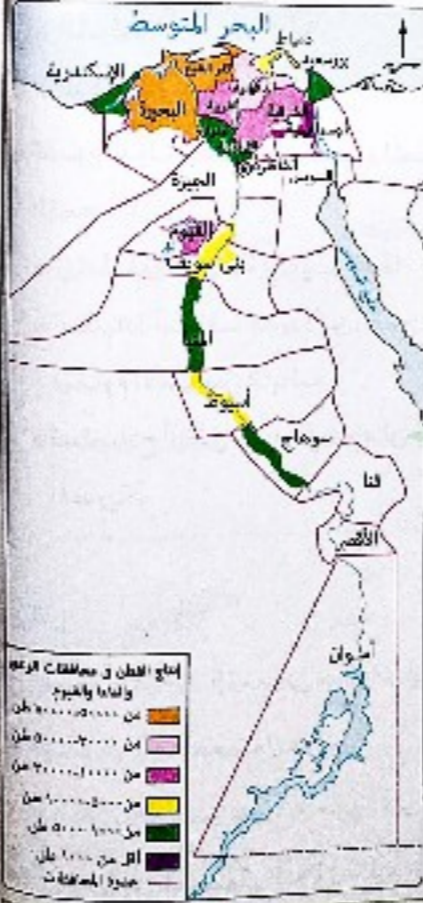


القطن (محصول صيفي)

- أهميته : من المحاصيل النقدية المهمة التي لعبت دورًا كبيرًا في اقتصاديات مصر وخاصة القطن طويل التيلة والتي اشتهرت مصر بزراعته، حيث يصدر جزء منه إلى الخارج ويصنع أليافًا محليًا.
- إنتاجه : بلغ نحو ٢٥٥ ألف طن عام ٢٠١٣ وهو أقل من إنتاج السنوات السابقة، كما يتضح من الشكل البياني التالي. وذلك لاتجاه السياسة الحكومية نحو التوسع في زراعة المحاصيل الغذائية.



- يزرع في الوادي والدلتا في معظم المحافظات وأهمها :
 - الدقهلية.
 - الشرقية.
 - البحيرة.
 - بني سويف.



محاصيل أخرى

- تنتج مصر محاصيل مهمة أخرى، مثل :
 - الذرة الشامية.
 - القبول.
 - الشعير.
 - الخضراوات وغيرها.

معلومة إثرائية

تمثل الحبوب الغذائية النسبة الأكبر من التركيب المحصولي، حيث تمش نحو ٤٥٪ من جملة المساحة المحصولية، ومن أهمها القمح والذرة والأرز والشعير، والذرة الرفيعة والبقول.

المشكلات التي تواجه التنمية الزراعية في مصر

- تنخفض عائدات الزراعة في مصر كنشاط اقتصادي للأسباب التالية :
 - ١) تفتت الملكية الزراعية، فنحو ٦٠٪ من الأراضي الزراعية في مصر مقسمة إلى حيازات زراعية أقل من خمسة أفدنة للحيازة.
 - ٢) العمالة الزراعية غير المدربة على استخدام الأساليب التكنولوجية الحديثة في الزراعة.
 - ٣) هجرة المزارعين إلى المدن وإلى الخارج مما أدى إلى تناقص نسبة العاملين في الزراعة.
 - ٤) استخدام الوسائل القديمة في عمليات الري والزراعة.
 - ٥) انتشار الآفات مما يؤدي إلى انخفاض إنتاجية الفدان، وبالتالي زيادة تكلفة الإنتاج.
 - ٦) التصحر الذي يتعرض له الأراضي الزراعية خاصة في هوامش الوادي والدلتا، والواحات.
 - ٧) تجريف التربة واستخدامها في صناعة الطوب الأحمر فيما يخالف القانون.
 - ٨) النمو العمراني على حساب الرقعة الزراعية، وما يصاحبه من تبوير للأراضي الزراعية وتناقص مساحتها.

جهود الدولة في مجال التنمية الزراعية للتغلب على مشكلات الزراعة

- ١) استصلاح الأراضي بهوامش الدلتا ومناطق الواحات وشمال سيناء والساحل الشمالي.
- ٢) الاهتمام بمشروعات الري والصرف وحفر الآبار.
- ٣) إدخال وسائل حديثة في الري خاصة في المشروعات الجديدة.
- ٤) استنباط سلالات جيدة من المحاصيل الرئيسية (القمح، والأرز، والقطن) لزيادة إنتاجية الفدان.
- ٥) مساعدة المزارعين من خلال منح القروض ومدعم بالأسمدة والأعلاف وتوريد محاصيلهم بأسعار مناسبة.
- ٦) التوعية والإرشاد الزراعي ودعم نقابة الفلاحين.

معلومة إثرائية

يوجد في مصر ثلاث دورات زراعية هي العروة الشتوية والعروة الصيفية والعروة التيلية، ويهدف ذلك إلى تكثيف الإنتاج الزراعي.



توجد علاقة طردية بين ارتفاع معدل النمو السكاني في مصر والتوسع الأفقي والرأسي في زراعة محصول

- ① القطن. ② الشعير.
③ الأرز. ④ القمح.

أكثر المحاصيل التي تجود زراعتها في محافظتي قنا وأسوان

- ① قصب السكر. ② بجر السكر.
③ الأرز. ④ القطن.

تأثر النشاط الزراعي والمشكلة السكانية ويتضح ذلك في

- ① انخفاض إنتاجية الفدان.
② العمالة غير المدربة على الوسائل الحديثة.
③ قلة المصارف الزراعية.
④ تفتت الملكيات الزراعية.

تتعرض بعض محافظات الدلتا لخطر التصحر ومنها محافظة


- ① دمياط. ② الشرقية.
③ الغربية. ④ الدقهلية.

دلل على صحة العبارة الآتية: تؤثر بعض الأنشطة الصناعية سلباً على الإنتاج الزراعي في مصر.

الإجابة

- تتعرض بعض محافظات الدلتا لخطر التصحر ومنها محافظة دمياط. وذلك بسبب قلة المياه الجوفية في هذه المنطقة. كما أن الأنشطة الصناعية في هذه المنطقة تسبب تلوث المياه الجوفية. مما يؤدي إلى انخفاض إنتاجية الفدان. كما أن قلة المصارف الزراعية في هذه المنطقة تسبب نقص التمويل للمزارعين. مما يؤدي إلى تفتت الملكيات الزراعية. كما أن قلة العمالة المدربة على الوسائل الحديثة في هذه المنطقة تسبب انخفاض إنتاجية الفدان. مما يؤدي إلى انخفاض الإنتاج الزراعي في مصر.

ملزمة. كوم



أعداد الثروة الحيوانية في مصر

ثانياً الثروة الحيوانية

- يوجد ارتباط بين الثروة الحيوانية والنشاط الزراعي حيث:
- توجد أنواع رئيسية من الحيوانات تعتمد على الغذاء من الحقول أو الحظائر.
- كثيراً ما يُرى الفلاح الحيوانات بهدف العمل في الحقل. (وتغير هذا الأمر أخيراً بعد إحلال الآلة «الميكنة الزراعية» محل الحيوانات).
- الرسم البياني المقابل يوضح أهم أنواع الثروة الحيوانية وانخفاض أعدادها بشكل عام في مصر، وذلك بسبب:
- نقص المساحات المزروعة بالأعلاف مثل البرسيم.
- استخدام المزارعين للحيوانات في الحقل مما يؤدي إلى إجهادها وضعفها.
- انتشار الأمراض التي تُفكك بالثروة الحيوانية مثل الحمى القلاعية وجنون البقر.
- قلة الإمكانيات البيطرية.
- ارتفاع أسعار الأعلاف المصنعة محلياً.

ثالثاً الثروة السمكية

- تُعد الأسماك والقشريات مصدراً رئيسياً للغذاء وترجع أهميتها إلى:
- سد النقص في اللحوم والدواجن.
- رخص ثمنها.
- إقبال عدد كبير من السكان عليها.
- بلغ إنتاج الأسماك في مصر نحو ١,١ مليون طن عام ٢٠١٣م، حيث ينتج نحو:
- ٩٧٥ ألف طن من مصايد البحار والبحيرات الشبانية والبحيرات الداخلية ونهر النيل وفرعيه والترع.
- ٨٢٥ ألف طن من المزارع السمكية.
- مما سبق نستنتج أن معظم إنتاج الأسماك في مصر من المزارع السمكية.



يرجع السبب الرئيسي إلى توسع مصر في إنشاء المزارع السمكية إلى

- ① تصدير معظم الإنتاج للخارج. ② ارتفاع معدل الزيادة الطبيعية.
③ قلة تعاريج السواحل. ④ قلة العاملين بحرفة الصيد.

الإجابة

يرجع السبب الرئيسي إلى توسع مصر في إنشاء المزارع السمكية إلى ارتفاع معدل الزيادة الطبيعية.

8 توضح الخريطة المقابلة أحد مجهودات الدولة المصرية للتغلب على مشكلات الزراعة والهدف منه

- (أ) التوسع الأفقى فى الأراضى الزراعية.
(ب) التوسع الرأسى فى الإنتاج.
(ج) توعية الفلاحين بأهمية مياه الري.
(د) إدخال وسائل الري الحديثة.



9 تتشابه محافظتى السويس والأقصر فى

- (أ) أهميتهما فى إنتاج القمح.
(ب) خلوها من مشروعات الري.

- (أ) نوع التربة السائدة فيهما.
(ب) عدم زراعتها لحصول القطن.

10 أى من المحافظات المصرية التالية يمكن أن يحدث فيها توسع زراعى بشكل أفقى لسد الفجوة الغذائية ؟

- (أ) الشرقية والغربية.
(ب) المنوفية ودمياط.

- (أ) البحيرة والشرقية.
(ب) الغربية والمنوفية.

11 بدراسة الخريطة المقابلة، نجد أن المحافظة

الموضحة باللون [] تفتقر لقومات الزراعة الطبيعية وأكثر المحافظات تشابهاً معها هي التي تحمل



- (أ) رقم 1.
(ب) رقم 2.
(ج) رقم 3.
(د) رقم 4.
(هـ) رقم 5.

12 «تسرع المنخفضات الجوية القادمة من الصحراء الغربية على الوادى والدلتا خلال شهرى مارس وأبريل» تؤثر الظاهرة المناخية السابقة على الزراعة فى الوادى والدلتا من خلال

- (أ) تراجع إنتاجية القطن. (ب) سقوط الأمطار الغزيرة. (ج) تجريف التربة الزراعية. (د) ردم الآبار الجوفية.

13 تتسم العمالة الزراعية فى مصر بـ

- (أ) الاعتماد على الأساليب التقليدية.
(ب) المستوى الاقتصادى المرتفع.

- (أ) التزايد المستمر فى أعدادها.
(ب) الاعتماد على التكنولوجيا الحيوية.

14 نجد محافظة أسوان صعوبات طبيعية فى زراعة

- (أ) القطن وبنجر السكر.
(ب) قصب السكر وبنجر السكر.
(ج) القمح وقصب السكر.
(د) القمح والقطن.

15 يصل نصيب الفرد فى مصر إلى ٧٥٠ متراً مكعباً سنوياً من المياه العذبة مما يترتب عليه

- (أ) تحقيق الأمن المائى.
(ب) تقليل الفجوة الغذائية.
(ج) تأثير الحاصيل الاستراتيجية.
(د) إمكانية التوسع الأفقى.

16 تعتمد محافظة البحيرة فى رى الأراضى الزراعية على ترعة

- (أ) الإسماعيلية. (ب) الإبراهيمية. (ج) النوبارية. (د) السوهاجية.

17 تحصل محافظات القناة على المياه العذبة من خلال ترعة

- (أ) الإبراهيمية. (ب) النوبارية. (ج) الإسماعيلية. (د) بحر يوسف.

18 ترتبط الصورة المقابلة بأحد العوامل المؤثرة فى الإنتاج

الزراعى والمرتبطة بـ

- (أ) نظام الصرف.
(ب) نظام الري.
(ج) المساحة المحصولية.
(د) السياسات الحكومية.



19 «على الرغم من امتلاك مصر سواحل طويلة ممتدة على مسطحين مائيين، إلا أن معظم إنتاجها يأتى من المزارع السمكية». فى ضوء العبارة السابقة :

- من الأسباب الرئيسية التى جعلت مصر حريصة على التوسع فى إنشاء المزارع السمكية
- (أ) تصدير الأسماك إلى الخارج.
(ب) تشغيل الأيدى العاملة.
(ج) تنوع المصايد السمكية.
(د) سد الفجوة الغذائية.

20 يتم رى أراضى محافظتى المنيا وبنى سويف اعتماداً على قناطر

- (أ) زفتى. (ب) أسبوط. (ج) نجع حمادى. (د) إسنا.

21 أى من المصارف الآتية تتخلص من المياه الزائدة عن الأراضى الزراعية بمحافظة الغربية ؟

- (أ) بحر البقر. (ب) الفيوم. (ج) زفتى. (د) إيتاى البارود.

22 أى من المحافظات الآتية الأكثر احتياجاً للأسمدة العضوية للتوسع فى المساحة الزراعية ؟

- (أ) شمال سيناء. (ب) المنوفية. (ج) الغربية. (د) القليوبية.

23 أى مما يلى يخرج عن كونه سبباً لارتفاع إنتاجية القطن لحصول القمح فى محافظة البحيرة ؟

- (أ) اعتدال المناخ. (ب) نوع التربة. (ج) نظام الري. (د) وجود تركز سكانى.



٢٠ أي من المحاصيل الزراعية الآتية يصعب زراعته في المحافظة الموضحة باللون الأخضر بالخريطة المقابلة ؟

(أ) القمح.
(ب) بنجر السكر.
(ج) قصب السكر.
(د) الأرز.

٢١ تخدم ترعة أصفون مشروعات رى الأراضى الزراعية بمحافظة
(أ) قنا. (ب) سوهاج. (ج) أسوان. (د) المنيا.

٢٢ تتعدد العوامل التى أدت لتنوع المحاصيل المصرية ولكن يخرج عنها
(أ) التربة. (ب) السياسات الحكومية. (ج) حجم العمالة الزراعية. (د) المناخ.

٢٣ يعتبر الهدف الرئيسى من اتجاه مصر لثرى الدائم هو التوسع فى زراعة محاصيل مثل
(أ) القطن. (ب) الكتان. (ج) القمح. (د) بنجر السكر.

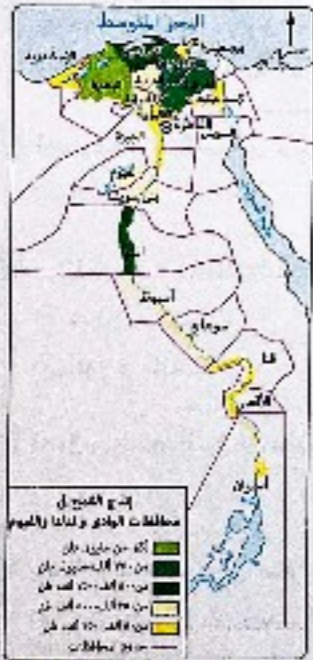
٢٤ يُعد أكثر المحاصيل انتشاراً فى الأراضى المصرية
(أ) القطن. (ب) الأرز. (ج) القمح. (د) قصب السكر.

٢٥ من خلال دراستك للخريطة المقابلة :
أى من المحافظات التالية يقل إنتاجها السنوى عن نصف مليون طن سنوياً من القمح ومنبعاً لترعة الإبراهيمية ؟

- (أ) الفيوم.
(ب) سوهاج.
(ج) بنى سويف.
(د) أسيوط.


٢٦ تعتمد الزراعة على المياه الجوفية بشكل رئيسى فى محافظتى

- (أ) مطروح وجنوب سيناء.
(ب) مطروح والوادى الجديد.
(ج) جنوب وشمال سيناء.
(د) أسوان والوادى الجديد.



المصدر : وزارة الزراعة واستصلاح الأراضى
نشرة الإحصاءات الزراعية ٢٠١١م

مصر • تطوير • تحليل • تقويم • ابتكار



تطور أعداد العاملين بالزراعة فى مصر

٢٧ أى مما يلى يعد العامل الأساسى فى التغيير الذى حدث فى الشكل البيانى المقابل ؟

(أ) عامل الهجرة.
(ب) السياسات الحكومية.
(ج) جودة التربة.
(د) كمية المياه.



٢٨ تعبر الصورة المقابلة عن أحد العوامل المؤثرة فى الثروة الحيوانية بمصر والتي تؤدي إلى

(أ) تحقيق الاكتفاء الذاتى من اللحوم.
(ب) ارتفاع فى معدل صادراتها من الألبان.
(ج) تراجع فى إنتاج الثروة الحيوانية.
(د) التقليل من خصوبة التربة الزراعية.

٢٩ أى من المدن المصرية الآتية تتسم بالترية الرملية وتعتمد الزراعة فيها على مياه الأمطار ؟

(أ) مرسى مطروح. (ب) الخارجة. (ج) طنطا. (د) البايوطى.



٣٠ أى مما يلى يمثل إحدى نتائج انظاهرة الموضحة بالصورة المقابلة ؟

(أ) الاتجاه لتوسع الرأسى.
(ب) ارتفاع معدلات التنمية.
(ج) الاتجاه لتوسع الأفقى.
(د) زيادة الضخوة الغذائية.

٣١ أكثر وحدات مصر التصاريسية اعتماداً فى الزراعة على المورد الثانى للمياه يتمثل فى


(أ) الوادى والدلتا.
(ب) الصحراء الغربية.
(ج) الصحراء الشرقية.
(د) شبه جزيرة سيناء.

- ٤٣ تمثل أقرب الحواجز المائية لمحافظة القاهرة في
 (١) قناة زفتى. (٢) قناة إسنا. (٣) قناة إدفيينا. (٤) القناة الخيرية.
- ٤٤ أي من القنوات التالية تم إنشاؤها بمحافظة قنا لتخدم الأراضي الزراعية بمحافظة سوهاج ؟
 (١) إسنا. (٢) نوح حمادى. (٣) ديروط. (٤) زفتى.
- ٤٥ يُعد من المحاصيل التي تمثل مصدرًا للعملة الصعبة وللدخل القومي في مصر
 (١) القمح. (٢) الشعير. (٣) الأرز. (٤) بنجر السكر.
- ٤٦ يُعد أكثر العوامل التي جعلت صعيد مصر مناسبًا لزراعة قصب السكر
 (١) الحرارة المرتفعة. (٢) التربة الخصبة. (٣) المياه العذبة. (٤) الأريدي العاملة.
- ٤٧ تعتمد الزراعة في العريش على
 (١) ترعة الإسماعيلية. (٢) نهر النيل. (٣) بحيرة مياه البحر. (٤) أمطار الشتوية.
- ٤٨ يُعد من المحاصيل التي تجود زراعتها في مناطق التربة الطينية والرملية محصول
 (١) قصب السكر. (٢) القمح. (٣) الأرز. (٤) القطن.
- ٤٩ تُعد المنخفضات من المناطق الأكثر عُرضة لتصحّر نتيجة
 (١) قلة مشروعات الري بها. (٢) استغلال ثريتها في صناعة الطوب الأحمر. (٣) وجود التربة الرملية الفقيرة في المواد العضوية. (٤) شدة ارتفاع درجة الحرارة.
- ٥٠ تصل مياه نهر النيل إلى ترعة أصفون عبر قناة
 (١) إسنا. (٢) زفتى. (٣) أسيوط. (٤) نوح حمادى.
- ٥١ تزداد المساحة المحصولية عن المساحة الزراعية في مصر بشكل واضح في أراضي
 (١) شمال سيناء. (٢) إقليم مريوط. (٣) الوادى والدلتا. (٤) الواحات المصرية.
- ٥٢ تصل مياه نهر النيل إلى محافظة الفيوم عبر ترعة
 (١) الإبراهيمية. (٢) أصفون. (٣) المحمودية. (٤) بحريوسف.
- ٥٣ يتمثل وجه الشبه بين محافظتي شمال سيناء ومطروح في أنهما
 (١) تجود بهما زراعة قصب السكر. (٢) تفتقر تربتهما للمادة العضوية. (٣) تعتمد الزراعة فيهما على مياه النيل. (٤) تتميز التربة بهما بالتجانس.



- ٤٧ من خلال الرسم البياني الذي أمامك نجد أن الأرقام أكثر أعداد الثروة الحيوانية في مصر، ومن الأسباب التي أدت إلى ذلك
 (١) نقص المساحات المزروعة بالأعلاف. (٢) قلة الرعاية البيطرية. (٣) جودة أصوافها عاليًا. (٤) استخدامها في الأعمال الحقلية.

- ٤٨ يُعد من مشروعات الري التي تُخدم محافظة سوهاج
 (١) ترعة أصفون. (٢) قناة إسنا. (٣) قناة زفتى. (٤) ترعة التجرجية.




- ٤٩ من الرسم البياني المقابل يتضح لنا نقص إنتاج القطن في مصر بسبب ذلك هو
 (١) انتشار الآفات وتصحّر. (٢) الطرق القديمة في الزراعة والري. (٣) التوسع في زراعة القمح. (٤) انخفاض إنتاجية الشدان.

المصدر: الجهاز المركزي للتعبئة العامة والإحصاء، لجمهورية مصر العربية

- ٥٠ يُعد من الحواجز المائية المقامة على فرع دمياط
 (١) قناة زفتى. (٢) قناة إدفيينا. (٣) القناة الخيرية. (٤) قناة نوح حمادى.

- ٥١ أكثر العوامل التي تؤدي إلى انخفاض إنتاجية الشدان في هوامش الدلتا هي
 (١) وجود تربة طميية ثقيلة. (٢) اختصار تربتها للمواد العضوية. (٣) قلة مشروعات الري. (٤) قلة أنظمة الصرف الزراعي.



- ٥٢ «وصلت أعداد السكان بمصر إلى ٩٤,٨ مليون نسمة طبقاً لتعداد عام ٢٠١٧م». والرسم البياني المقابل يوضح أعداد الثروة الحيوانية في مصر نستنتج من ذلك
 (١) إمكانية تحقيق الاكتفاء الذاتي من اللحوم. (٢) وفرة المراعى الطبيعية في مصر. (٣) وجود اللحوم في قائمة الصادرات. (٤) ضرورة وجود اللحوم في قائمة الواردات.

مصر غنية بثرواتها المعدنية ومصادر الطاقة العديدة والمتنوعة والتي تعد من أساسيات قيام الصناعة.

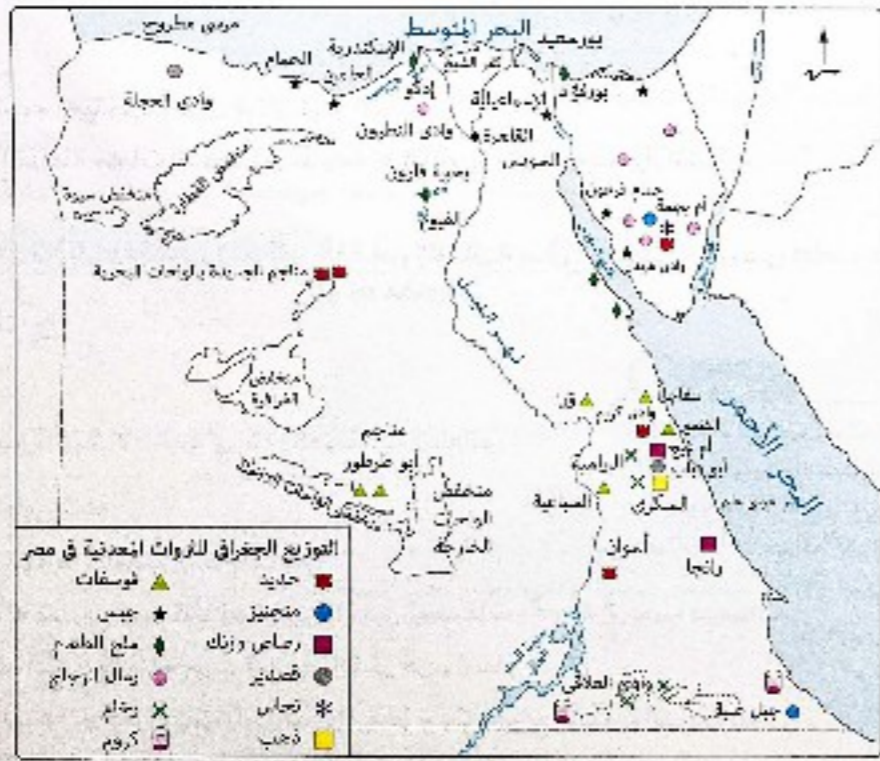
أولاً النشاط التمديني يتمثل في :



التعدين

استخراج الخامات المعدنية من باطن القشرة الأرضية وهناك نوعان من التعدين : التعدين السطحي حينما تكون المعادن قريبة من السطح، والتعدين الباطني حينما تكون المعادن على أعماق بعيدة من سطح الأرض.

التوزيع الجغرافي



معلومة إثرائية

يرجع استغلال تعدين في مصر إلى بداية عصر ما قبل الأسرات (٤٥٠٠ ق.م)، ومن أهم المعادن التي استغلها الفراعنة الذهب والفضة إضافة إلى النحاس إضافة إلى الصخر الجيري والرخس.

النشاط التمديني والصناعي في مصر



أهداف الدرس : في نهاية الدرس ينبغي أن يكون الطالب قادراً على أن :

- يصف الثروات المعدنية في مصر.
- يحدد المعادن الفلزية واللافلزية في مصر.
- يوزع على خريطة صماء لمصر أهم الثروات المعدنية.
- يستنتج مميزات استقلال بعض الخامات المعدنية في مصر.
- يشرح حلول التلوث على مميزات استغلال الثروات المعدنية في مصر.
- يبين ما إذا سبحت إذا لم توجد مصادر الطاقة.
- يبرهن بالأدلة الجغرافية على الأهمية الاقتصادية لاستثمار.
- يفسر أسباب عدم استغلال مخزون الحديد بحال البحر الأحمر الآن على الرغم من جودته بوفرة.
- يقدّر أهمية ترسيب استخدام مصادر الطاقة.
- يصف الصناعات الرئيسة في مصر.
- يصف أهم الصناعات الرئيسية في مصر.
- يوزع على خريطة صماء لمصر أهم الصناعات الرئيسة بها.
- يحدد مصادر الطاقة في مصر.
- يحدد أهم الصناعات الرئيسة في مصر.
- يشرح مدى صحة العبارة التالية : «الصناعة سلاح ذو حدين».

المعادن الفلزية معادن تتكون من عنصر أو أكثر من العناصر غير العضوية.

الحديد

- إنتاجه : يبلغ نحو ٤ مليون طن سنويًا.
- أهم مناطق إنتاجه : مناجم الجديدة بالواحات البحرية وتعد أهم المناجم التي تُستغل حاليًا.

المنجنيز

- إنتاجه : يبلغ نحو ١٤٠ ألف طن سنويًا ويُصدر معظمه إلى الخارج ويُستخدم الباقي محليًا في صناعة الحديد والصلب.
- أهم مناطق إنتاجه : منطقة أم بجمّة في سيناء.
- يقدر احتياطي المنجنيز في مصر بنحو ١٠ مليون طن.

الكروم

- أهم مناطق إنتاجه : جبل علبة.
- وادي العلاقي بالصحراء الشرقية.

الذهب

- أهم مناجمه : مناجم السكري بجبال البحر الأحمر.
- تُستغل الفراعنة خامات الذهب من مناجمه بجبال البحر الأحمر بالصحراء الشرقية.

المعادن اللافلزية والأحجار والأملح المعادن اللافلزية هي : معادن تتكون من عناصر عضوية أو غير عضوية.

الفوسفات

- إنتاجه : تحتل مصر المرتبة الخامسة في إنتاج الفوسفات في العالم.
- أهم مناطق إنتاجه : حقل سفاجا - القصير (أقدم المناجم).
- يوجد به مشروع فوسفات الحمراءوين : لتركيز الفوسفات وتحويله إلى سوبر فوسفات.
- منطقة السباعية والحاميد : (بالوجه القبلي قرب إسنا).
- ينقل الإنتاج إلى كفر الزيات وأبو زعبل وأسبوط حيث مصانع الأسمدة الفوسفاتية.
- حقل أبو طرطور : (يقع شمال غرب الواحات الخارجة)، وتتمثل أهميته في أنه :
 - يُعد أكبر حقول الفوسفات في مصر.
 - يقدر الاحتياطي به بأكثر من ٧٠٠ مليون طن.

توضيح

زادت أهمية الفوسفات محليًا لزيادة الاعتماد عليه في تخصيب التربة الزراعية وذلك بعد بناء السد العالي وتحويل مصدر من الري الحوضي إلى الري الدائم.

الإسبس

يوجد في :

- الساحل الشمالي الغربي لمصر.
- منطقة حمام فرعون ووادي غرنديل في سيناء.
- ساحل البحر الأحمر.

ملح الطعام

يُستخرج من : الملاحات المنتشرة على ساحل البحر المتوسط والبحر الأحمر وخليج السويس بطريقة التبخير الطبيعي، حيث يترسب ملح الطعام (كلوريد الصوديوم).

أهم الملاحات :

- ملاحه إدكو.
- ملاحه شرق بورفؤاد.
- ملاحه بحيرة قارون.

رمال الزجاج

تنتشر في :

- عدة مناطق من سيناء.
- الصحراء الشرقية.
- وادي النطرون بالصحراء الغربية.
- تُستغل في صناعة الزجاج، وتصدر إلى الخارج في شكل خام.

من الثروات المعدنية الأخرى ذات الأهمية الكبيرة والموجودة في مناطق متفرقة في مصر :

* الرصاص.	* الزنك.	* القصدير.	* النحاس.
* الكاولين.	* الرخام.	* الجرانيت.	* الطفلة.
* الزئبق.	* الرمال السوداء.	* رمال البناء.	



س١ يعتبر استغلال المناجم وتطويرها أحد الطرق لتطوير الصناعة ولكن يصعب تطبيق ذلك في مناجم

- (أ) الحديد بجبال البحر الأحمر.
- (ب) الذهب بالصحراء الشرقية.
- (ج) الفوسفات في أبو طرطور.
- (د) الكروم بجبل علبة.

س٢ أي من المعادن الآتية تنخفض قيمتها الاقتصادية في مصر بنسبة كبيرة ؟

- (أ) الفوسفات.
- (ب) الجبس.
- (ج) الذهب.
- (د) رمال الزجاج.

الإجابة

س١ (ج) الفوسفات في أبو طرطور.

س٢ (د) رمال الزجاج.

ثانياً النشاط الصناعي

عرفت مصر الصناعة منذ بداية القرن الـ 19 في عهد محمد علي، ومنذ ذلك الوقت وحتى وقتنا هذا شهدنا الصناعة تطورات عديدة ما بين تدهور ونهضة، متأثرة بالأوضاع السياسية المحيطة، وبعض العوامل الأخرى.

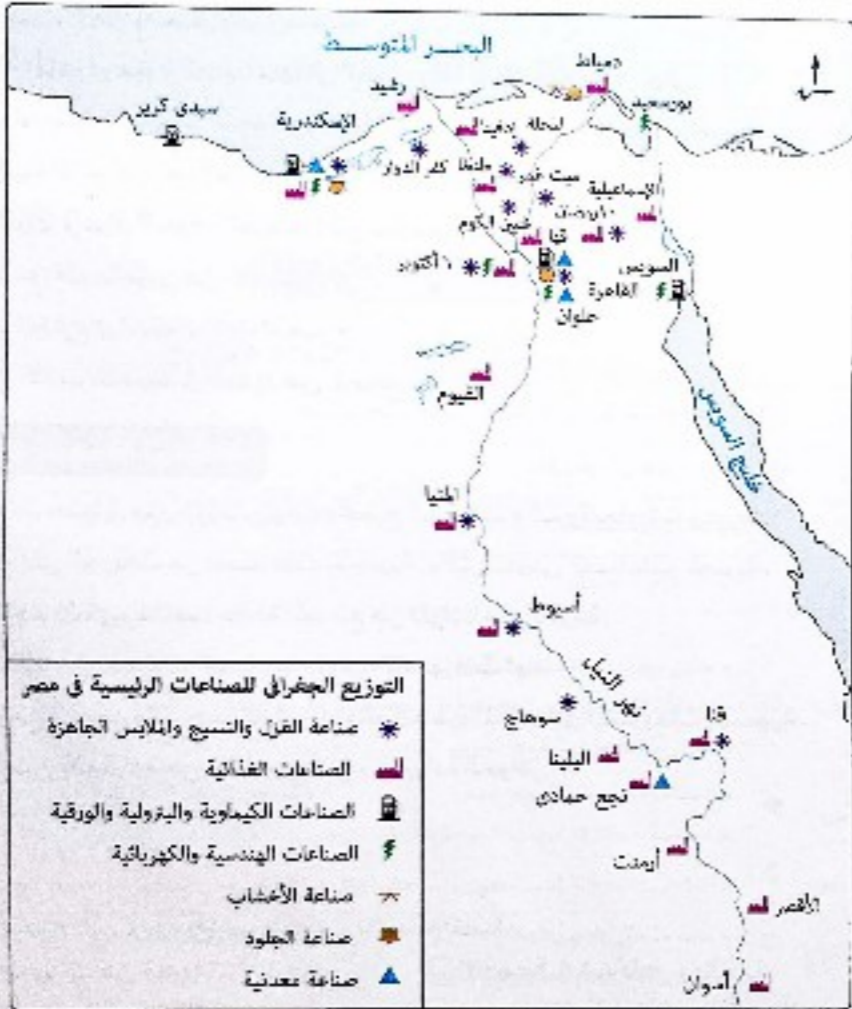
مفاهيم الصناعة

تتطلب الصناعة توافر عدد من المقومات، تتمثل في:



الصناعات الرئيسية

توجد في مصر العديد من الصناعات الحديثة والمتنوعة، تتضح فيما يلي:



- التوزيع الجغرافي للصناعات الرئيسية في مصر
- * صناعة القطن والنسيج والملابس الجاهزة
 - الصناعات الغذائية
 - الصناعات الكيماوية والبترولية والورقية
 - الصناعات الهندسية والكهربائية
 - صناعة الأخشاب
 - صناعة الجلود
 - صناعة معدنية

من الخريطة السابقة نلاحظ أن:

الصناعات الرئيسية في مصر، تتمثل في:

- الصناعات الغذائية
- صناعة القطن والنسيج
- صناعة الأخشاب والوظود
- الصناعات الهندسية والكهربائية
- صناعة مواد البناء والحراريات
- الصناعات الكيماوية والبترولية والورقية
- الصناعات الغذائية

- أكثر الصناعات انتشاراً هي الصناعات الغذائية وتليها صناعة المنسوجات.
- أقل الصناعات انتشاراً هي صناعة الأخشاب تقصر مصرفي الأشجار.
- تنتشر معظم الصناعات على طول الوادي والدلتا ومنطقة القناة.
- تنتشر الصناعات الهندسية والكهربائية في القاهرة الكبرى حيث السوق الاستهلاكية الكبرى.

معوقات الصناعة

تواجه الصناعة المصرية عدة معوقات، تتمثل أهمها في:

- 1 نقص بعض المواد الخام ومستلزمات الصناعة.
- 2 نقص العمالة الماهرة وهجرة العديد منها إلى الخارج وقلة مراكز التدريب المهني.
- 3 ضعف الأسواق المحلية بسبب التضخم وانخفاض الأجور وانخفاض مستوى المعيشة.
- 4 صعوبة منافسة المنتجات الصناعية العالمية، سواء من حيث الجودة أو الأسعار.
- 5 سياسات الإغراق (إغراق السوق بالمنتجات) التي تمارسها بعض الدول الخارجية مثل الصين.
- 6 عزوف الكثير من المستثمرين عن الاستثمار في المجالات الصناعية.
- 7 الاعتماد على الخارج في استيراد آلات التصنيع.
- 8 الاعتماد على الآلات القديمة في العديد من المصانع.

جهود الدولة للنموذج بالصناعة

- 1 إدخال صناعات حديثة مثل الإلكترونيات وتجميع السيارات والبتروكيماويات وغيرها.
- 2 رفع الجمارك على الواردات من الصناعات الأجنبية، ولتقي تنافس الصناعات المصرية.
- 3 استغلال المناجم وتطويرها لسد حاجة المصانع من المواد الخام، للضرورة.
- 4 تشجيع الاستثمار في المجالات الصناعية وتوفير التسهيلات لها.
- 5 التوسع في برامج التعليم والتدريب لتوفير العمالة الماهرة المطلوبة في المشروعات التنموية.
- 6 تشجيع العاملين بالصناعة من خلال رفع الأجور وزيادة الحوافز.



سأ بعد من الجهود التي تقوم بها مصر لتنهوض بالقطاع الصناعي

- 1 إزالة الجمارك عن الواردات الأجنبية.
- 2 الاعتماد على الخبرات الأجنبية.
- 3 التوسع في إنشاء المدارس الفنية.
- 4 استيراد التكنولوجيا الحديثة من الخارج.

سأ يؤدي انخفاض أسعار العملة الوطنية مع ارتفاع الأسعار إلى

- 1 ضعف السوق المحلي.
- 2 زيادة القدرة الشرائية.
- 3 تدهور التجارة الخارجية.
- 4 انتشار سياسة الإغراق.

سأ «أثرت السياسة الاقتصادية التي اتبعتها بعض الدول على الصناعة المصرية». أبدأ صحة العبارة.

الإجابة

الاجابة هي ان السياسة الاقتصادية التي اتبعتها بعض الدول مثل الصين والولايات المتحدة وغيرها من الدول المتقدمة، قد أثرت سلباً على الصناعة المصرية، وذلك من خلال عدة طرق، منها: 1- اعتمادها على المواد الخام من الخارج، مما يعرضها لتقلبات الأسعار العالمية. 2- اعتمادها على التكنولوجيا الحديثة، مما يجعلها قادرة على إنتاج منتجات ذات جودة عالية وبأسعار منخفضة. 3- اعتمادها على سياسات الإغراق، مما يجعلها قادرة على بيع منتجاتها في الأسواق الأجنبية بأسعار منخفضة جداً، مما يعرض الصناعة المصرية للتنافس غير العادل. 4- اعتمادها على سياسات الدعم، مما يجعلها قادرة على خفض تكاليف الإنتاج، مما يعرض الصناعة المصرية للتنافس غير العادل. 5- اعتمادها على سياسات الحماية التجارية، مما يجعلها قادرة على حماية صناعاتها من المنافسة الأجنبية، مما يعرض الصناعة المصرية للتنافس غير العادل.

أهم أفكار ومفاهيم الدرس

التعدين	استخراج الخامات المعدنية من باطن القشرة الأرضية وهناك نوعان من التعدين: التعدين السطحي حينما تكون المعادن قريبة من السطح، والتعدين الباطني حينما تكون المعادن على أعماق بعيدة من سطح الأرض.
المعادن الفلزية	معادن تتكون من عنصر أو أكثر من العناصر غير العضوية.
المعادن اللافلزية والأحجار والاملاح	المعادن اللافلزية هي: معادن تتكون من عناصر عضوية أو غير عضوية.

النشاط التمهيدي

أهم مناطق الإنتاج

الحديد	مناجم الجديدة والواحات البحرية.
المنجنيز	آم بحمة في سيناء.
الكروم	جبل علية.
الذهب	مناجم السكري.

المعادن اللافلزية والأحجار والاملاح	الفوسفات	حقل سفاجا - القصير (أقدم المناجم). منطقة السباعية والمحاميد (الوجه القبلي قرب إسنا). حقل أبو طرطور (شمال غرب الواحات الخارجة).
	الجبس	الساحل الشمالي الغربي لمصر. منطقة حمام فرعون ووادي غرنغال في سيناء.
	ملح الطعام	الملاحات المنتشرة على ساحل البحر المتوسط والبحر الأحمر وخليج السويس.
	رمال الزجاج	عدة مناطق في سيناء. وادي التطرون بالصحراء الغربية.

مصادر الطاقة	التحبة	جبل المغارة. جبل حلال. وادي الجدي.
	النفط	منطقة خليج السويس، ومنها: الحقول البحرية، أهمها: مرجان بحري، بلايم بحري. الحقول البرية، أهمها: سائر حقل أبو ريس (على الجانب الشرقي لخليج السويس). بكر، رأس غارب، شقير، كريم (على الجانب الغربي لخليج السويس). الصحراء الغربية، أهمها: قارون، أبو الغراديق، والزرق.
	الغاز الطبيعي	شمال الدلتا، أهمها: (أبو ماضي، الوسطاني). البحر المتوسط، أهمها: (أبي قير). الصحراء الغربية، أهمها: (أبو الغراديق، أبو سنان، بدر الدين).

تقسيم • تطبيق • تحليل • تقويم • ابتكار

اختر الإجابة الصحيحة من بين البدائل التالية :

1 أي من المحافظات التالية أصبحت ثرواتها المعدنية الأكثر أهمية لسد احتياجات الدولة المصرية بعد تطبيقها لسياسة الري الدائم ؟

- ① قنا. ② القاهرة. ③ الوادي الجديد. ④ الإسكندرية.

2 المعادن التي تحتاج إلى تغيير في استراتيجية التعامل الحكومي معها لزيادة الدخل القومي للبلاد هي

- ① المنجنيز ورمال الزجاج. ② الحديد والفوسفات. ③ ملح الصعده والذهب. ④ الجبس والرخام.

3 تفقد خزانة الدولة أموالاً كثيرة لفقدان القيمة المضافة لبعض الموارد نتيجة تصديرها دون تصنيع مثل

- ① الذهب. ② رمال الزجاج. ③ الفوسفات. ④ حديد البحر الأحمر.

4 أكثر الصناعات انتشاراً في مصر ترتبط بشكل مباشر بـ

- ① المعادن الاقتصادية. ② مصادر الطاقة. ③ الإنتاج الزراعي. ④ الأخشاب والجنود.

5 من وجهة نظرك أي المحافظات التالية تعد الأكثر احتياجاً لإقامة مصانع الأسمدة بها ؟

- ① قنا. ② الغربية. ③ القليوبية. ④ المنيا.

6 أي من المناطق التالية يكاد ينعدم دورها في إنتاج الطاقة الحضرية الأقل تلوثاً للبيئة ؟

- ① الصحراء الغربية. ② سواحل البحر المتوسط. ③ الدلتا المصرية. ④ سواحل البحر الأحمر.

7 تعاني منطقة صعيد مصر من عدة مشكلات تواجه عملية التصنيع ولكن أكثرهم خطورة هي

- ① انعدام وجود المعادن الاقتصادية. ② افتقارها إلى الطاقة الحضرية. ③ عدم وجود العمالة الصناعية. ④ ضعف السوق المحلي.

8 في حال إنشاء مصنع للجبس على الساحل الشمالي بمحافظة شمال سيناء فإن أفضل مصدر للطاقة سوف يعتمد عليه هو

- ① الفحم. ② البترول. ③ الغاز الطبيعي. ④ طاقة الرياح.

9 ترتبط معظم حقول الجبس في مصر بـ

- ① السواحل. ② وادي النيل. ③ محافظات الدلتا. ④ الواحات.

10 يعد من أقل مصادر الطاقة انتشاراً في مصر

- ① الفحم. ② البترول. ③ الغاز الطبيعي. ④ الكهرباء الحرارية.

11 توجد أكبر حقول الغاز الطبيعي إنتاجاً في مصر بالجهة

- ① الشمالية. ② الجنوبية. ③ الشرقية. ④ الغربية.

12 تستخرج المادة الخام المستخدمة في صناعة ملح الطعام في الصحراء الغربية من بحيرة

- ① إداكو. ② مريوط. ③ البردويل. ④ قارون.

النشاط الصناعي

تنمية الثروة المعدنية في مصر، من طريق:

- البحث والتتقيب عن معادن حديثة.
- تنمية الإنتاج في مناطق الإنتاج الحالية.
- إدخال الأساليب العلمية والتكنولوجية المتقدمة في التنقيب والاستخراج خاصة قطاع استخراج البترول.

الصناعات الرئيسية، تتمثل في:

- الصناعات الغذائية.
- صناعة مواد البناء والحراريات.
- الصناعات الكيماوية والبترولية والورقية.
- الصناعات الهندسية والكهربائية.
- صناعة الأخشاب والجلود.
- صناعة الغزل والنسيج.
- الصناعات المعدنية.

مقومات الصناعة، تتمثل في:

- المواد الخام.
- مصادر الطاقة.
- الأيدي العاملة.
- رأس المال.
- وسائل النقل.
- السوق.

جهود الدولة للنهوض بالصناعة:

- إدخال صناعات حديثة.
- رفع الجمارك على الواردات من الصناعات الأجنبية.
- استغلال الناجم وتطويرها.
- تشجيع الاستثمار في الصناعة.
- التوسع في برامج التعليم والتدريب وتوفير العمالة الماهرة المطلوبة.
- تشجيع العاملين بالصناعة من خلال رفع الأجور وزيادة الحوافز.

معوقات الصناعة، من أهمها:

- نقص بعض المواد الخام ومستلزمات الصناعة.
- نقص العمالة الماهرة.
- ضعف الأسواق المحلية.
- صعوبة منافسة المنتجات الصناعية العالمية.
- سياسات الإغراق.
- نزوف المستثمرين عن الاستثمار في الصناعة.
- الاعتماد على الخارج في استيراد آلات التصنيع.
- الاعتماد على الآلات القديمة.

12 أمامك خريطة نصر، مشار فيها إلى منطقتين

- تقوم بهما صناعات
- غذائية.
 - هندسية وكهربائية.
 - كيماوية وبتروولية.
 - معدنية.



14 تنتج محافظة البحيرة مواد خام تعد الأساس في صناعة

- الحديد.
- الأسمدة.
- الأخشاب.
- النسوجات.

15 أي من المناطق الآتية تسهم في زيادة الإنتاج الزراعي في مصر؟

- السباعية والحاميد.
- أم بجمه.
- وادي العلاق.
- الوحدات البحرية.

16 استخدام التكنولوجيا القديمة وتقص العمالة الماهرة في مصر أحد الأسباب التي أدت إلى

- انخفاض تكاليف الإنتاج.
- انتشار سياسة الإفراق.
- جذب الاستثمارات الخارجية.
- عجز الميزان التجاري للدولة في القطاع الصناعي.

17 أي مما يأتي يُعد أساساً طبيعياً لقيام الصناعة في مصر؟

- السوق.
- مصادر الطاقة.
- رأس المال.
- وسائل النقل.

18 يرجع عدم استغلال مناجم الحديد بجبال البحر الأحمر في مصر إلى افتقار المنطقة لـ

- الطابع السهلي.
- جودة الخام المعدني.
- السوق المحلي.
- المناطق الصناعية.

19 يمثل أحد مصادر الدخل التي تساهم في تعديل الميزان التجاري المصري

- المنجنيز.
- الفحم.
- الملح.
- الحديد.

20 استغل المصري القديم المنطقة ذات اللون

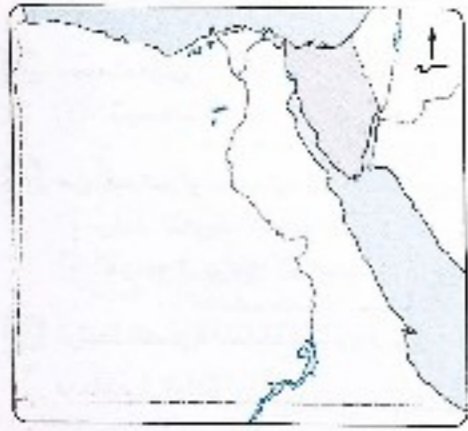
على الخريطة المقابلة في استخراج

- المنجنيز.
- الحديد.
- الكروم.
- الذهب.



13 أي المناطق الآتية الأكثر تنوعاً للمعادن القارية؟

- بحيرة قارون.
- جبل علي.
- وادي العلاق.
- مناجم السكري.



14 أي من المعادن الآتية تتوفر بها المنطقة الموضحة بالخريطة المقابلة؟

- الكروم.
- الجبس.
- المنجنيز.
- النحاس.

15 ارتفاع الحرارة شرط ضروري للحصول على

- الذهب.
- ملح الطعام.
- الكروم.
- رمان الزجاج.

16 تستمد محافظات مصر العليا مصادر الطاقة اللازمة لها من معامل تكرير البترول في

- القاهرة.
- خليج السويس.
- الدلتا.
- الصحراء الغربية.

17 تتوطن صناعة الأسمدة في كفر الزيات وأبو زعبل لتوافر عامل

- الطاقة.
- المادة الخام.
- السوق.
- العمالة.

18 تنتشر في الوجه القبلي بمصر مصانع

- الصلب.
- الأسمدة.
- الكيمياويات.
- السكر.

19 من الصناعات التي يندم وجودها في محافظات الصعيد هي

- الصناعات الغذائية.
- الصناعات البتروولية.
- الصناعات المعدنية.
- صناعة الغزل والنسيج.

20 أي من المحافظات الآتية تشتهر بتركيز الفوسفات بها وتحويله إلى سوبر فوسفات؟

- الأقصر.
- الوادي الجديد.
- قنا.
- البحر الأحمر.

21 أي من المعادن التالية تتميز بانتشارها الجغرافي داخل الأراضي المصرية؟

- الحديد والفوسفات.
- الفوسفات والرخام.
- الرخام والمنجنيز.
- المنجنيز والذهب.

22 «يرتبط تكوين المعادن وانتشارها بطبيعة الحركات الباطنية للقشرة الأرضية وما تسج عنها من تكسرات والتواءات صاحبها بروز بعض المعادن». في ضوء العبارة السابقة:

أكثر الأقسام التضاريسية المصرية تنوعاً جيولوجياً يتمثل في

- شبه جزيرة سيناء والصحراء الشرقية.
- الصحراء الشرقية والغربية.
- وادي النيل ودلتاه.
- الصحراء الغربية وشبه جزيرة سيناء.

- ٣١ تتشابه سواحل البحر الأحمر والبحر المتوسط في وجود
- (أ) مناطق إنتاج الغاز الطبيعي ومنح الطعام.
(ب) مناطق استخراج البترول والجبس.
(ج) رمال الزجاج وحقول البترول.
(د) حقول الفحم والغاز الطبيعي.

- ٣٢ تسببت الظروف السياسية خلال فترة الستينيات والسبعينيات من القرن الماضي في تراجع إنتاج مصر لـ
- (أ) الفوسفات. (ب) الذهب. (ج) الفحم. (د) الحديد.

- ٣٣ من أهم أساليب حماية السوق المحلي بمصر
- (أ) زيادة التعريفة الجمركية على السلع المستوردة.
(ب) تشجيع الاستثمارات الخارجية.
(ج) اتوسع في برامج التدريب المهني والفني.
(د) إدخال الصناعات الإلكترونية.

٣٤ ترتبط الصورة المرفقة بمشروع إنتاجي



مشروع فوسفات الحمراوين

- يساهم في زيادة
- (أ) إنتاج الطاقة الكهربائية.
(ب) إنتاج البتروكيماويات.
(ج) الصادرات من المادة الخام.
(د) خصوبة التربة.

- ٣٥ إذا كنت من محافظة الوادي الجديد فإن حقل الفوسفات الأقرب لك هو
- (أ) السباعية والمحاميد. (ب) أبو طرطرون. (ج) سفاجا - القصير. (د) جبل علي.

- ٣٦ من أسباب عدم استثمار مناجم الحديد بجبال البحر الأحمر حتى الآن
- (أ) كثرة وجود الشوائب بالخام.
(ب) وجود الخام مختلطاً بمعادن أخرى.
(ج) وجود الخام على أعماق شحيحة.
(د) اختفاء الجدوى الاقتصادية.

٣٧ بالاستعانة بالخريطة المرفقة، توجد



- أهم مناطق استخراج رمال الزجاج بالمحافظة
- (أ) رقم ١
(ب) رقم ٢
(ج) رقم ٣
(د) رقم ٤

ملازمة كوم

- ٣٨ يتم نقل بترول حقل شقير بشكل مباشر لمحافظة
- (أ) قنا. (ب) سوهاج. (ج) أسيوط. (د) أسوان.

- ٤٣ تعتمد محافظة القاهرة على حقول الغاز الطبيعي الآتية من
- (أ) الصحراء الغربية. (ب) الصحراء الشرقية. (ج) شبه جزيرة سيناء. (د) حقول شمال الدلتا.

٤٤ يوجد أكبر حقل لإنتاج الفوسفات بمصر في محافظة

- (أ) مطروح. (ب) الوادي الجديد. (ج) البحر الأحمر. (د) أسوان.

٤٥ توجد أهم مناجم الحديد بمصر في محافظة

- (أ) الجيزة. (ب) الوادي الجديد. (ج) جنوب سيناء. (د) شمال سيناء.

٤٦ ينتج المتجنيز والكروم في

- (أ) الصحراء الغربية. (ب) الصحراء الشرقية. (ج) وادي النيل. (د) شمال الدلتا.

٤٧ أي من معوقات الصناعة الآتية تنتج عن حدوث التضخم بمصر ؟

- (أ) انخفاض القدرة الشرائية داخلياً. (ب) ضعف التسويق الخارجي.
(ج) صعوبة التعدين. (د) سياسات الإغراق.

٤٨ تزيد القيمة الاقتصادية للجبس الموجود في

- (أ) شمال غرب مصر. (ب) رأس منعب. (ج) ساحل البحر الأحمر. (د) وادي غرندل.

٤٩ يمكن مواجهة سياسة الإغراق التي تتبعها بعض الدول من خلال

- (أ) رفع الجمارك على واردات الصناعات الأجنبية. (ب) تشجيع العاملين بالصناعة من خلال رفع الأجور.
(ج) الاعتماد على الخارج في استيراد آلات التصنيع. (د) تنمية الإنتاج في مناطق الإنتاج الحالية.

٥٠ من خلال دراستك لتوزيع الثروات المعدنية بمصر، أي من المناطق الآتية يستخرج منها الرخام ؟

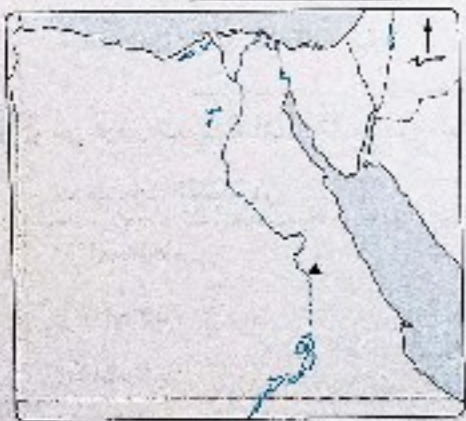
- (أ) شمال غرب الصحراء الغربية. (ب) جنوب الصحراء الغربية.
(ج) جنوب الصحراء الشرقية. (د) شمال وجنوب سيناء.

٥١ يشير الرمز الموجود في الخريطة التي أمامك لأحد

حقول إنتاج المعادن اللافلزية والتي تدخل في

الصناعات

- (أ) الهندسية.
(ب) الكيماوية.
(ج) الكهربائية.
(د) الورقية.



٥٢ يظهر أثر انتقال الأفراد من مصر إلى دولة أخرى واضحاً على الصناعة المصرية في

- (أ) الاعتماد على استيراد آلات التصنيع. (ب) عزوف المستثمرين عن المجالات الصناعية.
(ج) نقص العمالة الماهرة الفنية. (د) ضعف الأسواق المحلية.

- ٤٩ إذا استطاعت مصر الاستفادة من كل الموارد المعدنية ومصادر الطاقة سوف يؤدي ذلك إلى
- ① زيادة الصادرات من المواد الخام.
② تشجيع الاستثمار في المجالات الصناعية.
③ رفع الجمارك على الواردات من الصناعات الأجنبية.
④ التوسع في برامج التعليم والتدريب المهني.
- ٥٠ تعويض نقص بعض المواد الخام يجب على الدولة أن تقوم بـ
- ① تخفيض الجمارك على مستلزمات الصناعة.
② إدخال الصناعات الحديثة.
③ تشجيع الاستثمارات في المجالات الصناعية.
④ استغلال وتطوير المناجم.
- ٥١ تتشابه شبه جزيرة سيناء مع الصحراء الشرقية في وجود
- ① المنجنيز والفوسفات.
② رمال الزجاج والغاز الطبيعي.
③ المنجنيز والبتروول.
④ الذهب والكروم.
- ٥٢ أقرب مصانع الأسمدة الفوسفاتية لحقول السبعية والمحاميد هو مصنع
- ① كفر الدوار. ② أبو زعبل. ③ أسيوط. ④ حلوان.



- ٥٣ من خلال تحليل الخريطة المقابلة نجد أن المعدن اللافلزي ذات الاحتياطي الكبير توجد أهم مناجمه في المنطقة المعتدلة بين
- ① وادي النيل ومنخفض الخارجة.
② منخفض القراقره وداخله.
③ هضبة الجلف الكبير وجبل العوينات.
④ منخفض الخارجة والداخله.



- ٥٤ من خلال الخريطة المقابلة تستخرج المادة الخام اللازمة للصناعات الثقيلة من
- ① المحافظة ①
② المحافظة ②
③ المحافظة ③
④ المحافظة ④

اختر إجابتين صحيحتين من بين البدائل التالية :

- ٥٥ يُعد من التحديات التي تواجه التنمية الصناعية في مصر
- ① عدم الاستقرار السياسي.
② نقص الكوادر الفنية.
③ محدودية بعض الموارد الطبيعية.
④ الانضمام إلى التكتلات الاقتصادية.
⑤ رفع الجمارك على الواردات.
- ٥٦ يمكن التوفيق بين رؤية الدولة ورؤية المستثمرين لحل مشكلات الصناعة في مصر من خلال
- ① التوسع في برامج التعليم المهني والفقى.
② استيراد التكنولوجيا الحديثة من الخارج.
③ تقديم التسهيلات المناسبة في المجالات الصناعية.
④ إزالة الجمارك عن واردات الصناعات الأجنبية.
⑤ الاعتماد على الكوادر الأجنبية.
- ٥٧ تُعد أكثر المحافظات المصرية في التنوع الصناعي
- ① أسيوط. ② دمياط. ③ القاهرة. ④ الإسكندرية. ⑤ السويس.
- ٥٨ تعتبر أكثر الصناعات انتشارًا بمصر
- ① الصناعات الهندسية. ② الصناعات البترولية. ③ صناعة النسيج. ④ الصناعات الغذائية. ⑤ صناعة الأخشاب.
- ٥٩ تتركز المادة الخام اللازمة لصناعة الزجاج في محافظتي
- ① البحيرة. ② الإسكندرية. ③ المنيا. ④ أسوان. ⑤ جنوب سيناء.

أسئلة مقالية :

- ٦٠ وضح : كيف يمكن تحقيق التنمية بشكل أفقى ورأسى في مجال إنتاج الثروة المعدنية.
- ٦١ استنتج : أسباب اهتمام الدولة بالتوسع في استخدامات الغاز الطبيعي.
- ٦٢ ماذا يحدث إذا : أدخلت الأساليب العلمية والتكنولوجية في عملية التعدين ؟
- ٦٣ ما تقييمك لـ : القيمة الاقتصادية لمناجم الحديد المغناطيسي بجبال البحر الأحمر ؟
- ٦٤ دلل على صحة العبارة التالية : يقتصر وجود بعض الثروات المعدنية على شبه جزيرة سيناء دون باقي المناطق المصرية.
- ٦٥ فسر : تواجه الصناعة في مصر عدة معوقات ذات بعد اجتماعي.

مهام

لحل أسئلة إلكترونيًا ومعرفة كيفية الوصول للإجابة الصحيحة

استخدم QR Code

عن طريق تطبيق معاك

Mezak App

هزيمة. كوم

أولاً النقل

تعد طرق النقل بأنواعها المختلفة بمثابة شرايين الحياة بالنسبة للدولة لأن عن طريقها يتم نقل السكان والبضائع والمواد الخام.

النقل الجوي

النقل المائي
(نهرى / بحرى)النقل البرى
(الطرق البرية / السكك الحديدية)

أنواع النقل والمواصلات



النقل البرى

الطرق البرية



• من الخريطة السابقة نجد أن :

- الطرق البرية هي أطول أنواع الطرق في مصر حيث تغطي معظم أنحاء الدولة.
- هناك شبكة من الطرق البرية المرصوفة وغير المرصوفة في مصر، ومن أهم هذه الطرق :
 - طريق (القاهرة - الإسكندرية).
 - طريق (القاهرة - أسيوط الغربى).
 - طريق (القاهرة - السويس).

• تُعد السيارات الوسيلة الرئيسية لنقل الركاب والبضائع والسلع المختلفة داخل مصر.

النقل والتجارة فى مصر

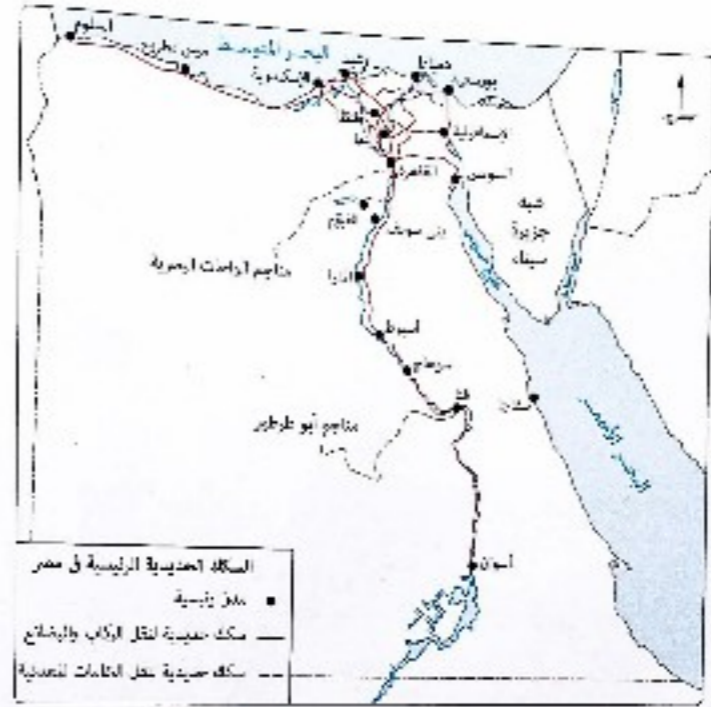
3 الحرس



أهداف الدرس : فى نهاية الدرس ينبغي أن يكون الطالب قادرًا على أن :

- يفسر أهمية وسائل النقل بالنسبة للدولة
- يستنتج المشكلات التى تعانى منها السكك الحديدية فى مصر.
- يوضح أهمية قناة السويس كطريق ملاحى
- يشرح الخطط المستقبلية لتحسين وسائل النقل والمواصلات وتطويرها فى مصر.
- يعدد مصادر الدخل القومى المصرى.
- يستنتج أسباب انخفاض معدل الدخل القومى على الرغم من تعدد الموارد الاقتصادية.
- يشرح التحديات التى تواجه الاقتصاد المصرى
- يعدد الإجراءات التى يمكن للدولة اتباعها للنهوض بالاقتصاد المصرى.
- يصنع نموذجًا يوضح طبيعة العلاقة بين مجالات الأنشطة الاقتصادية والموارد المتاحة.
- يفسر أسباب عجز الميزان التجارى لمصر.
- يعدد الإجراءات التى يمكن للدولة اتباعها للنهوض بالتجارة الخارجية والتغلب على مشكلاتها.

السكك الحديدية



تمتد الخطوط الحديدية لتربط بين مدن الدلتا والوادي وتُعد مصر من أقدم الدول التي استخدمت السكك الحديدية حيث أنشئ أول خط حديدي في مصر بين القاهرة والإسكندرية.

توضيح

تستخدم السكك الحديدية في نقل البضائع كبيرة الحجم وثقيلة الوزن مثل الحامات المعدنية. تتشعب السكك الحديدية في الدلتا لتتسعها وكثرت السكان بها.



1) أي من المدن التالية يمكن أن تكون مركزاً لطرق النقل البري في محيطها الإقليمي ؟
 ① طنطا. ② أسوان. ③ العريش. ④ شلاتين.

2) ارتبطت خطوط السكك الحديدية في الصحراء الغربية بنقل.....
 ① البضائع المنسوجة. ② المادة الخام. ③ الركاب. ④ مصادر الطاقة.

3) تم مد أول خط حديدي من القاهرة في اتجاه.....
 ① الشمال الغربي. ② الشمال الشرقي. ③ الجنوب الشرقي. ④ الجنوب الغربي.

الإجابة

1) ② أسوان. 2) ② المادة الخام. 3) ② الشمال الشرقي.

النقل المائي

النقل النهري

- يشمل النقل خلال : • نهر النيل وفرعيه رشيد ودمياط.
- الترع الرئيسية مثل : ترعة الإبراهيمية وبحر يوسف.
- الصهوبات التي تواجه النقل النهري في مصر:
- بطء وانخفاض منسوب المياه في بعض الفترات.
- عدم توافر موانئ نهريّة حديثة لرسو السفن.

النقل البحري

- بالرغم من طول سواحل مصر إلا أن عدد الموانئ المصرية قليل وذلك بسبب :
- بُعد معظم السواحل عن العمران بلوادي والدلتا.
- عدم صلاحية سواحل كثيرة.
- وفيما يلي تتعرف أهم موانئ والممرات البحرية في مصر :

ميناء الإسكندرية

- يتم من خلاله التعامل مع أكثر من نصف تجارة مصر الخارجية.

ميناء بورسعيد

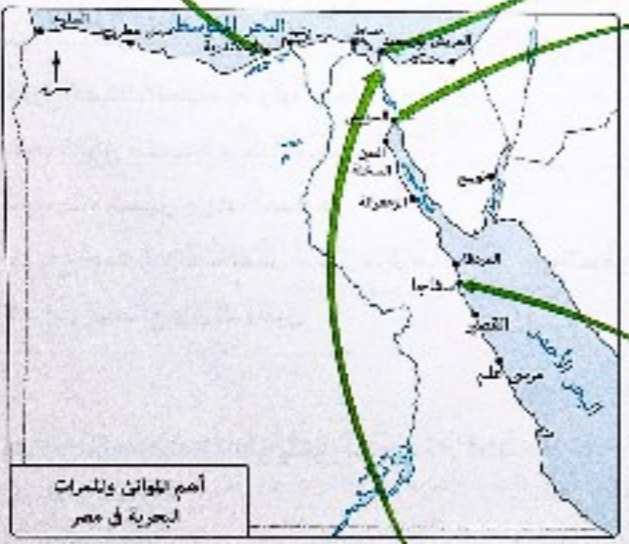
- الميناء الخارجي : يقع شرق قناة السويس الشمالي.
- الميناء الداخلي : يقع جنوب بورسعيد.

ميناء السويس

- يقع على الضرف الجنوبي لقناة السويس.
- يُعد من أهم الموانئ بالنسبة لشركة الركاب والبضائع على البحر الأحمر.
- أنشئ ميناء السويس الحديث شمال غرب الميناء القديم.

ميناء سفاجا

- ميناء تجارى وتعدني.



قناة السويس

- تُعد قناة السويس من أهم الممرات الملاحية العالمية حيث :
 - تعبر خلالها السفن ودقات النفط من دول العالم المختلفة.
 - تتميز كطريق ملاحي باستقامتها في معظم امتدادها.
 - تُعد مصدر دخل رئيسي لمصر، ومن المتوقع أن يزيد دخل القناة خاصة بعد حفر القناة الجديدة بنسبة 20% مما يساهم في زيادة الدخل القومي لمصر.

توضيح

استنتج من دراسة النقل المائي أنه أرخص وسائل النقل لأن شرفه طبيعية ولا يحتاج إلى قوة محركة كبيرة مقارنة بباقي الوسائل.



(*) أهم الممرات القديمة بالنقل المائي أكثر من النقل البري. خشقوا قناة ملاحية تسهل التيل بالشرق الشمالي للبحر الأحمر لتسهيل التجارة.
 (**) مجرى نهر النيل من أسوان إلى القاهرة صالح للملاحة طوال العام لعدم وجود عقبات ملاحية.

3 النقل الجوي

• ساعد الموقع الجغرافي لمصر في جعلها نقطة التقاء تكثرت من الخطوط الجوية العالمية.

معلومة إثرائية
• بلغ عدد رحلات الطيران بالمسارات المصرية في عام ٢٠١٦ نحو ٢٢٠ ألف رحلة، وبإجمالي الركاب نحو ٣٠ مليون راكب.

- أصبح النقل الجوي بمثابة:
- الشريان الرئيسي للحياة الاقتصادية في العصر الحديث.
- ركيزة للتجارة الدولية.
- عنصر جذب للنشاط السياحي.
- يوجد في مصر:
 - مطارات دولية، مثل مطار القاهرة وشرد الشيخ والإسكندرية.
 - مطارات محلية، مثل مطر مرسى مطروح ومطار الخارجة.

مستقبل النقل والمواصلات في مصر

- وضعت الدولة العديد من الخطط المستقبلية لتحسين وسائل النقل وتطويرها حيث:
- 1 امتدادات مترو الأنفاق للوصول إلى أطراف مدينة القاهرة واثمن الجديدة.
- 2 تطوير السكك الحديدية وتجديدها.
- 3 تطوير الموانئ القديمة وإنشاء موانئ حديثة.
- 4 تطوير بناء السفن وزيادة أعدادها.
- 5 مشروع تحت الدراسة لعمل جسر بحري ما بين مصر والسعودية جنوب خليج العقبة؛ لتسهيل حركة نقل الأفراد والبضائع بين الدولتين.



سؤال يتم نقل معظم التجارة الدولية بين مصر ودول العالم عن طريق

1 الموانئ البحرية. 2 النقل الجوي.

3 النقل النهري. 4 السكك الحديدية.

ملاحظة تعد أهم وسائل النقل المرتبطة بإقبال الوفود الأجنبية على مصر

1 النقل النهري. 2 النقل البري.

3 النقل الجوي. 4 السكك الحديدية.

الإجابة

لازمة كوم

ثالث التجارة

التجارة الداخلية

تبادل السلع والخدمات المتنوعة ما بين المحافظات والمناطق المختلفة داخل الدولة من خلال الأسواق المتخصصة.

• من أمثلة الأسواق المتخصصة: أسواق الفاكهة، والخضراوات، والماشية، وكلما ازدهرت هذه الأسواق وزاد عددها دل ذلك على ازدهار التجارة الداخلية.

التجارة الخارجية

تبادل السلع والخدمات بين الدولة وغيرها من دول العالم الأخرى.

• تعكس التجارة الخارجية المستوى الاقتصادي لدولة، كما تعكس مستويات العلاقة بين الدولة وبين دول العالم الخارجي.

الصادرات والواردات المصرية



أهم الدول التي تستورد منها مصر هي:

- 1 دول الاتحاد الأوروبي (أكبر مصدر لمصر).
- 2 الدول الآسيوية والأفريقية.
- 3 الدول العربية (في المركز الأخير).
- 4 دول شرق أوروبا.
- 5 الولايات المتحدة الأمريكية.

مستقبل التجارة الخارجية هي مصر وأهم مشكلاتها

- إن الميزان التجاري لمصر (الفرق بين قيمة الصادرات وقيمة الواردات) في الوقت الحاضر ليس في صالحها ويرجع ذلك إلى زيادة قيمة الواردات بشكل مستمر عن قيمة الصادرات بأنواعها وهو ما يمثل عجزاً مستمراً.
- ولكن ... ننظر في المستقبل زيادة حركة التجارة الخارجية عن طريق:
- زيادة التبادل التجاري مع الدول العربية والأفريقية حيث عقدت مصر العديد من الاتفاقيات مع الكثير من هذه الدول.
- التوسع الصناعي في مصر.

الشراكة المصرية العربية وطرق تلميحها

- تعتمد الشراكة المصرية العربية على:
- اتفاقيات ثنائية، وليس وفقاً لقرارات استراتيجية تتخذها المنظمات العربية للتنسيق الكامل بين الدول العربية.
- درجة تحسن العلاقات السياسية بين الدول العربية وبعضها البعض.
- يصعب تقنين الشراكة المصرية العربية ووضع أهداف بعيدة المدى لها بسبب:
- التغيرات التي تتعرض لها المنطقة.
- استمرار الهيمنة الاقتصادية الغربية على معظم الدول العربية خاصة البترولية.

طرق تنمية الشراكة المصرية العربية :

- تبذل مصر جهداً كبيراً في تحسين علاقتها بالدول العربية وعقد الاتفاقات معها حيث تقوم :
- بتشجيع المستثمرين العرب في شتى المجالات الاقتصادية.
- بزيادة التبادل التجاري مع الدول العربية.
- العناية المصرية بدورها في التنمية الاقتصادية والعمرائية في الكثير من الدول العربية.

الشراكة المصرية الأفريقية وطرق تميمتها

تبدل مصر جهوداً واضحة في تدعيم علاقتها التجارية مع الدول الأفريقية حيث تسعى للبحث عن آفاق جديدة

للتعاون مع هذه الدول من خلال الشراكة معها في تكتلات اقتصادية

- فتح آفاق جديدة للتعاون التجاري والصناعي.
- إقامة مشروعات استثمارية.
- تطوير العلاقات التجارية مع مختلف دول القارة وفتح أسواق جديدة أمام المنتجات المصرية مما يساهم في دفع عجلة التنمية المستدامة.
- الانضمام مصر إلى (اتفاقية الكوميسا) مع دول شرق وجنوب أفريقيا.

توضيح

• التكتلات الاقتصادية : هي درجة من درجات التكامل الاقتصادي الذي يقوم بين مجموعة من الدول المتجانسة جغرافياً ونقائياً واجتماعياً، وتجمعها مجموعة من المصانع الاقتصادية المشتركة.

• الكوميسا : هي تجمع إقليمي اقتصادي تأسست عام 1969، وتهدف إلى تحقيق التكامل الإقليمي من خلال خطط وبرامج ومشاريع تهدف لرفاهية جميع شعوب الإقليم.

أهم أفكار ومفاهيم الدرس

النقل في مصر

النقل النهري

- النقل النهري :
- يشمل :
- النيل بفرعيه رشيد ودمياط . - الترع الرئيسية مثل ترعة الإبراهيمية وبحريوسف .
- يواجه العديد من الصعوبات، منها :
- بطء وانخفاض منسوب المياه في بعض الفترات .
- عدم توافق قنوات تصريف حديثة ترسو السفن .
- النقل البحري :
- يقل عدد الموانئ في مصر بالرغم من طول السواحل .
- أهم الموانئ في مصر :
- بورسعيد - الإسكندرية - السويس - سفاجا .
- تُعد قناة السويس كطريق ملاحي مصدر رئيسي للدخل القومي ومن المتوقع زيادة هذا الدخل خاصة بعد حفر القناة الجديدة .

النقل البري

- الطرق البرية :
- (القاهرة - الإسكندرية) .
- (القاهرة - أسبوطا العرب) .
- (القاهرة - السويس) .
- تُعد السيارات الوسيلة الرئيسية لنقل الركاب والبضائع والسبع داخل مصر .
- اتسكت الحديدية :
- مسر من أقدم الدول استخداماً لها .
- تُشرف أول خط حديدي بين القاهرة والإسكندرية .

النقل الجوي

- يُعد الطيران الرئيسي للحياة الاقتصادية في مصر .
- يوجد مطارات دولية مثل (القاهرة - شرم الشيخ - الإسكندرية) ، ويوجد مطارات محلية مثل (مرسى مطروح - الخارجة) .

التجارة في مصر

التجارة الداخلية

يقصد بها : تبادل السلع والخدمات المتنوعة ما بين المحافظات والمناطق المختلفة داخل الدولة من خلال الأسواق المتخصصة مثل : أسواق النكاوة والتخضرات والناشية .

التجارة الخارجية

- يقصد بها : تبادل السلع والخدمات بين الدولة وغيرها من دول العالم الأخرى .
- الصادرات ، أهمها :
- الفوسفات ، الغاز الطبيعي ، الخضروات ، الملابس الجاهزة ، الأدوات والأجهزة المنزلية .
- الواردات ، أهمها :
- المنتجات الغذائية ، مثل : القمح - الزيوت النباتية - اللحوم .
- الأجهزة والآلات ، وغيرها .
- مستقبل التجارة الخارجية في مصر وأهم مشكلاتها :
- الميزان التجاري في الوقت الحاضر ليس في صالح مصر لزيادة قيمة اتواردات عن قيمة الصادرات .
- يمكن زيادة حركة التجارة الخارجية عن طريق :
- - زيادة التبادل التجاري عربياً وأفريقياً .
- - التوسع التجاري في مصر .
- الشراكة المصرية العربية . تعتمد على :
- اتفاقيات ثنائية .
- الشراكة المصرية الأفريقية . من خلال التكتلات الاقتصادية مما يساهم في :
- فتح آفاق جديدة للتعاون التجاري والصناعي .
- تطوير العلاقات التجارية وفتح أسواق جديدة أمام المنتجات المصرية .
- انضمام مصر إلى اتفاقية الكوميسا .
- إقامة مشروعات استثمارية .

الإجابة

يصبح الميزان التجاري لصالح مصر عندما يتم العمل على

- (أ) إزالة الجمارك عن الواردات الأجنبية .
- (ب) زيادة الصادرات من المواد الخام .
- (ج) التوسع في إنشاء الأسواق المحلية .
- (د) الدخول في تكتلات اقتصادية .

من خلال دراستك ، وضع : المزايا التي عادت على مصر من الانضمام إلى الكوميسا .

ملزمة كورس

112

أسئلة

الدرس 3


فهم • تطبيق • تحليل • تقويم • ابتكار

اختر الإجابة الصحيحة من بين البدائل التالية :

1. تعبر الصورة المقابلة عن أحد وسائل الدولة المصرية لدعم شبكة الطرق والتي سوف يترتب عليها عدة أمور يوضح عنها

- تقليل زمن الرحلات اليومية.
- إعادة توزيع السكان.
- زيادة معدلات التلوث.
- القضاء على الاختناقات المرورية.

مونوريل العاصمة الإدارية الجديدة



2. أهم ما يميز سواحل مصر المطلة على البحر المتوسط عن السواحل المطلة على البحر الأحمر

- خلوها من خطوط السكك الحديدية.
- صعوبة مد الطرق البرية.
- اعتمادها كلياً على الطرق البرية.
- تنوع وسائل النقل البري.

3. تعدد العوامل التي تعوق إقامة شبكة سكك حديدية للربط بين موانئ البحر الأحمر ومن أهمها

- وعورة الظهير الساحلي.
- قلة أهميتها الاقتصادية.
- عدم وجود مناطق عمرانية.
- ضآلة مساهمتها في التجارة الدولية.

4. تعد أكثر المناطق افتقاراً لخدمات السكك الحديدية داخل الأراضي المصرية

- الدلتا والساحل الشمالي.
- الساحل الشمالي والوادي.
- الوادي والساحل الشرقي.
- الساحل الشرقي وشبه جزيرة سيناء.

5. إذا كانت هناك أربع طرق مختلفة لانتقالك من مدينتك إلى مدينة القاهرة فإنه من المتوقع أن تكون من سكان مدينة

- مطروح.
- سيوط.
- الطور.
- السويس.

6. أهم ما تتسم به الطرق البرية بصحراء مصر الشرقية

- امتدادها العرضي والطولي.
- ارتباطها بمناطق الزراعة والصناعة.
- اقتصارها على مناطق التعدين.
- قلة أهميتها الاقتصادية.

7. يعود السبب الرئيسي لقلّة ما تستورده مصر من الدول العربية إلى

- لهيمنة الغربية على الدول البترولية.
- طبيعة الواردات المصرية.
- مستوى العلاقات المصرية العربية.
- التغيرات السياسية في المنطقة العربية.

8. انضمام مصر إلى مجموعة دول الكوميسا من الممكن أن يؤدي إلى

- تعديل الميزان التجاري.
- زيادة اربادات مصر بدول الاتحاد الأوروبي.
- توتر العلاقات المصرية العربية.
- تراجع الصادرات المصرية.

ربطت أقدم سكك حديد مصر بين العاصمة وأهم الموانئ المصرية.

9. العبارة المقابلة يعاد تجسيدها الآن بشكل مختلف في عصر النقل الذكي من خلال إنشاء منظومة متكاملة للقطار السريع وينحقق ذلك من خلال

- المونوريل المعلق.
- القطار الكهربائي.
- قطار العين السخنة العلمين الجديد.
- شبكة مترو الأنفاق بالقاهرة الكبرى.

10. يُعد من أهم الصعوبات التي تواجه النقل البحري في مصر

- استقامة بعض الأجزاء من السواحل.
- ارتفاع تكلفة النقل البحري.
- قلة سكان السواحل.
- اقتصاره على نقل البضائع.

11. تتم معظم التجارة الخارجية بين مصر ودول العالم عن طريق النقل

- البري.
- النهرى.
- الجوى.
- البحرى.

12. أي من وسائل النقل الآتية أكثر مناسبة لنقل الخامات المعدنية بالصحراء الغربية إلى مناطق التصنيع ؟

- السيارات.
- السفن النهرية.
- السكك الحديدية.
- الطائرات.

13. يتفوق النقل النهري عن النقل البري في عدة مميزات منها

- تكلفة الخدمة.
- السرعة.
- المرونة.
- تعدد استخداماته.

14. يستخدم النقل البحري في نقل خام الفوسفات المستخرجة من مناجم

- أبو طرطور.
- السباعية وإثحاميد.
- سفاجا - القصير.
- وادي العلاقي.

15. أقل عدد للموانئ البحرية المصرية تقع على

- خليج السويس.
- خليج العقبة.
- البحر الأحمر.
- البحر المتوسط.

16. أي من الموانئ التالية يعد هو الأفضل لتخفيف الضغط على ميناء الإسكندرية ؟

- السلم.
- مرسى مطروح.
- رشيد.
- نويبع.

17. يستخدم النقل البري بشكل رئيسي لنقل إنتاج فوسفات

- السباعية وإثحاميد.
- حمام فرعون.
- سفاجا - القصير.
- أبو طرطور.

18. يرجع قلة موانئ الساحل الشمالي لمصر إلى عدة عوامل منها

- المسافة بين الساحل والمناطق المعبورة.
- كثرة تعاريج الساحل.
- ضآلة استخداماتها في التجارة الدولية.
- كثرة المهابتى والمنشآت.

- ٢٩ أي مما يلي يُعد أحد التحديات التي تواجه النقل النهري في مصر؟
- (أ) انخفاض منسوبه طوال العام.
(ب) سرعة جريانه.
(ج) ضعف الاستثمار الجيد لضافه.
(د) ارتفاع تكلفة استخدامه.

- ٣٠ في ضوء دراستك فإن الميزان التجاري المصري يشير إلى
- (أ) صعوبة تحقيق الأمن الغذائي.
(ب) تقدم الصناعة المصرية.
(ج) زيادة حركة التجارة الخارجية لمصر.
(د) ضعف العلاقات المصرية الأوروبية.

- ٣١ يستخدم النقل النهري نقل خام الفوسفات بشكل مباشر من حقول
- (أ) أبو مطرطور.
(ب) الجديدة.
(ج) سفاجا - القصير.
(د) السباعية والمحاميد.

- ٣٢ يتم نقل المحاصيل الزراعية إلى أسواق الاستهلاك بواسطة
- (أ) السكك الحديدية.
(ب) النقل النهري.
(ج) الطرق البرية.
(د) النقل البحري.

- ٣٣ أي من الترع الآتية تعتمد محافظة البحيرة عليها في نشاطها التجاري؟
- (أ) الإبراهيمية.
(ب) الجرجاوية.
(ج) أصفون.
(د) النوبارية.

- ٣٤ أطول طرق النقل والمواصلات في مصر هي
- (أ) السكك الحديدية.
(ب) الطرق البرية.
(ج) الطرق البحرية.
(د) الطرق النهرية.

- ٣٥ تُعد مركزاً رئيسياً لأهم الطرق البرية في مصر
- (أ) قنا.
(ب) الإسكندرية.
(ج) السويس.
(د) القاهرة.

- ٣٦ يربط مصر بدول الخليج العربي ودول جنوب وشرق آسيا ميناء
- (أ) الإسكندرية.
(ب) السويس.
(ج) نويبع.
(د) بورسعيد.

٣٧ يمثل توسع الدولة في ما توضحه الصورة المقابلة أحد أهدافها ل.....

- (أ) ربط المناطق العمرانية الجديدة بباقي الدولة.
(ب) جذب المستثمرين في المجالات الاقتصادية للدولة.
(ج) تعديل الميزان التجاري المصري.
(د) زيادة حركة التجارة الداخلية.



المنوريل

- ٢٨ أكثر طرق النقل تأثيراً إيجابياً في حركة التجارة الداخلية هو النقل
- (أ) البحري.
(ب) النهري.
(ج) البري.
(د) الجوي.

- ٢٩ يمكن الحكم على الأداء الاقتصادي للدولة من خلال
- (أ) التجارة الخارجية.
(ب) التجارة الداخلية.
(ج) حجم الواردات.
(د) حجم الصادرات.

- ٣٠ من أهم وسائل تنشيط التجارة الخارجية لمصر
- (أ) التركيز على القطاع الزراعي.
(ب) التوسع في الصناعات الاستهلاكية.
(ج) انضمام مصر للكوميسا.
(د) التوسع في إنشاء الأسواق المحلية.

- ٣١ تُعد السيارات الوسيلة الرئيسية لنقل الركاب والبضائع داخل مصر بسبب
- (أ) سرعتها ورخص ثمنها.
(ب) سهولة مد الطرق البرية.
(ج) حملها لكميات كبيرة من البضائع.
(د) قلة تلويثها للبيئة.

٣٢ بالاستعانة بالخريطة المقابلة، نجد أن أكثر الطرق البرية في سيناء مواجهة للأخطار الطبيعية هي الممتدة بين

- (أ) رفح والإسماعيلية.
(ب) السويس وبورسعيد.
(ج) طابا والسويس.
(د) العريش وبورسعيد.



- ٣٣ يتم النقل المائي بين محافظتي الفيوم وبني سويف عن طريق ترعة
- (أ) الإبراهيمية.
(ب) بحر يوسف.
(ج) الجرجاوية.
(د) التوبارية.

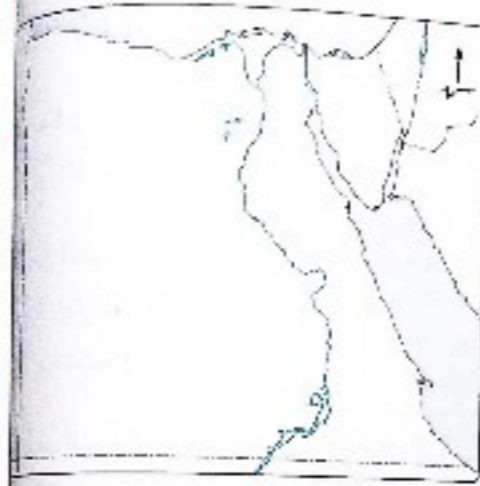
- ٣٤ تمر السفن القادمة من أوروبا قبل دخولها قناة السويس بميناء
- (أ) الإسكندرية.
(ب) السويس.
(ج) بورسعيد.
(د) سفاجا.

- ٣٥ ميناء نويبع من أهم الموانئ الواقعة على
- (أ) خليج العقبة.
(ب) خليج السويس.
(ج) البحر المتوسط.
(د) البحر الأحمر.

بالاستعانة بالخريطة المقابلة، أهم الموانئ والممرات

المائية المصرية التي تمر بها سفينة قادمة من جنوب شرق آسيا إلى أوروبا بالترتيب هي

- ميناء بورسعيد - ميناء السويس - خليج السويس - قناة السويس
- ميناء السويس - خليج السويس - قناة السويس - ميناء بورسعيد
- قناة السويس - ميناء بورسعيد - خليج السويس - ميناء السويس
- خليج السويس - ميناء بورسعيد - قناة السويس - ميناء السويس
- قناة السويس - ميناء بورسعيد - خليج السويس - ميناء بورسعيد



يظهر أثر التوسع الصناعي بمصر على المعاملات التجارية المصرية من خلال

- زيادة قيمة الواردات.
- فتح أسواق جديدة في الخارج.
- زيادة الصادرات من المواد الخام.
- زيادة الاهتمام بالتعليم والبحث العلمي.

من الموانئ البحرية التي تقع مباشرة غرب ميناء بورسعيد ميناء

- الإسكندرية.
- دمياط.
- السويس.
- رشيد.

في مجال التبادل التجاري الخارجي لمصر يأتي في نهاية القائمة

- دول شرق أوروبا.
- الدول العربية.
- دول الاتحاد الأوروبي.
- الدول الآسيوية.

بملاحظة الخريطة التي أمامك، تتشعب الخطوط الحديدية في

الدلتا عن الوادي بسبب

- شدة تعرجها.
- اتساعها.
- كثرة التفرع الأرضية.
- انحدارها.



ملزمة. كوم

من مشروعات النقل النهري بين القاهرة والإسكندرية نوعة

- المحمودية.
- الإبراهيمية.
- السلام.
- الجرجافية.

أشهر الطرق النهرية التي تستخدم لتربط بين وسط الوادي وشماله نوعة

- الإسماعيلية.
- السوهاجية.
- التوبارية.
- الإبراهيمية.

الميناء الذي يقع على ساحل الذراع المائي الشرقي لسيناء

- الإسكندرية.
- دمياط.
- نويبع.
- العريش.

نستنتج من تحليل الخريطة المقابلة أن الجسر

البحري بين مصر والسعودية في حال تنفيذه سيربط بين

- جنوب غرب آسيا وشمال شرق أفريقيا.
- غرب آسيا وجنوب أفريقيا.
- شرق السعودية وغرب مصر.
- شرق أفريقيا وشمال مصر.



ب اختر إجابتين صحيحتين من بين البدائل التالية :

تعد من معوقات الشراكة الاقتصادية العربية

- التبعية الاقتصادية للخارج.
- زيادة الاستثمارات الأجنبية.
- رفع الجمارك على الواردات الأجنبية.
- تشابه الأنظمة السياسية.
- الاتجاه نحو التخصص في الإنتاج.

أكثر وسائل النقل استفادة من موقع مصر الجغرافي


- النقل الجوي.
- النقل البحري.
- النقل النهري.
- السكك الحديدية.
- الطرق البرية.

يمكن أن نجد تطابقاً بنسبة كبيرة بين خريطة السكك الحديدية وتوزيع كلاً من

- الموانئ الرئيسية.
- مصادر الطاقة الحضرية.
- مناطق التعدين.
- التربة الخصبة.
- مناطق الازدحام السكاني.

السياحة في مصر وتحديات الاقتصاد المصري

الدرس
4



أهداف الدرس : في نهاية الدرس ينبغي أن يكون الطالب قادرًا على أن :

- يوزع على خريطة صماء لمصر أهم المعالم السياحية بها.
- يحدد معلومات السياحة في مصر.
- يفسر تفسيرًا لأهمية شبه جزيرة سيناء السياحية.
- يبرهن بالأدلة الجغرافية على صحة العبارة التالية «تعد مصر بلدًا سياحيًا من الطراز الأول».
- يحدد جهود الدولة في مجال التنمية السياحية.
- يستنتج أهمية السياحة كمجال من مجالات الأنشطة الاقتصادية.
- يفهم الجهود التي تبذلها الدولة للنهوض بالسياحة وتنميتها.
- يقترح خطة عمل للنهوض بالسياحة في مصر.
- يصمم فكرة إعلان لترويج للمعالم السياحية في مصر.
- يقدر أهمية التراث الثقافي في مصر.
- يلتزم بأداب التعامل مع السياح.
- يستنتج أسباب انخفاض معدل الدخل القومي على الرغم من تعدد الموارد الاقتصادية.
- يشرح التحديات التي تواجه الاقتصاد المصري.
- يقدر أهمية التراث الثقافي في مصر.
- يحدد خطة مشروع للنهوض باقتصاد مصر والتغلب على صعوباته.
- يحدد الإجراءات التي يمكن للدولة اتباعها للنهوض بالاقتصاد المصري.

الامتداد الجغرافي - شرح لثاني فقرة (ص: ٢٦)

الوحدة
4

مهم • تطوير • تحليل • تقويم • ابتكار

48 أكثر الأماكن المصرية استفادة من شبكة السكك الحديدية و
 ① الوجه البحري. ② الصحراء الشرقية.
 ③ الواحات المصرية. ④ الوجه القبلي. الصحراء الغربية.

49 من الترخ التي يمكن استخدامها في النقل النهري بالوجه القبلي و
 ① النوبارية. ② بحريوسف.
 ③ الحمودية. ④ الإسماعيلية. ⑤ الإبراهيمية.

50 من الأسباب التي جعلت الدول العربية في المركز الأخير من الدول المنصدرة لمصر و
 ① استهلاك الدول العربية لمنتجاتها محليًا.
 ② تذبذب الأوضاع السياسية فيما بينهم.
 ③ زيادة الرسوم الجمركية.
 ④ تشابه السلع والمنتجات.
 ⑤ تصدير الدول العربية لخاماتها المعدنية إلى أوروبا.

أسئلة مقالية :

51 «تعد السيارات وسيلة النقل الرئيسية داخل مصر». فسر.

52 حدد الأثر الناتج عن : اهتمام الدولة بإنشاء شبكة متكاملة من الكباري والأنفاق.

53 ما مقترحائك ل: زيادة الدخل القومي لمصر من خلال وسائل النقل ؟

54 ما العلاقة بين : الموقع الجغرافي لمصر، وأهمية الموانئ والمرات البحرية المصرية ؟

55 من وجهة نظرك : لماذا يؤثر إنشاء مناطق صناعية جديدة على التجارة الخارجية لمصر ؟

56 حدد الأسباب التي جعلت الدول العربية في المركز الأخير من قائمة الدول المنصدرة لمصر.

حل أسئلة إلكترونيًا ومعرفة كيفية الوصول للإجابة الصحيحة



عن طريق
تطبيق



استخدم
QR Code

- ٦ واحات الصحراء الغربية** تُعد أحد المناطق السياحية في مصر بسبب وجود:
- العيون لمائية الكبريتية والمعدنية الحارة في عدد كبير من الواحات.
 - العديد من الآثار، مثل: معبد هيبس والخارجة، (ومقابر لزوجة، ومقبرة شندي) بالداخلة.
 - مناطق جذب لسياحة السفاري حيث تتوفر بها مخيمات لسفاري.
 - الكتيان الرملية والأشكال التضاريسية المثيرة.

جهود الدولة لتنمية السياحة

- تبذل الدولة جهودًا كثيرة لتنمية السياحة بها حيث قامت ب:
- إنشاء وزارة للثقافة والآثار لدعم وتنمية المشروعات الكبرى والحفاظ على النظم الثقافية والحضارية المصرية.
- التوسع في إنشاء الفنادق بدرجاتها المختلفة.
- التوسع في إنشاء المطارات بالمناطق السياحية وتطويرها.
- إنشاء كليات ومعاهد السياحة لتوفير الكوادر العلمية والكفاءات في العمل السياحي.
- تطوير انقري السياحة والمنتجعات.
- تحسين الطرق ووسائل النقل سواء كان نهرياً أو جويًا أو برياً.
- المشاركة في المعارض العالمية وزيادة عملية التسويق السياحي في دول العالم.
- توعية المواطنين وإرشادهم بكيفية التعامل مع السائحين.

ثانياً التحديات التي تواجه الاقتصاد المصري

- تقف العديد من المشكلات والتحديات عقبية في سبيل النهوض بالاقتصاد المصري، حيث:
- ① انخفاض مستوى التقنيات بشكل عام في كل المجالات الإنتاجية.
- ② زيادة الديون الخارجية والداخلية بشكل مضطرد حيث زادت الديون الخارجية على ٣٦ مليار دولار كما زادت الديون الداخلية (ديون على الدولة تجاه السكان) على ٢٠٠ مليار جنيه.
- ③ عدم الاستقرار في الأوضاع السياسية في بعض الدول مما ينعكس سلباً على الاقتصاد، بجانب عودة العديد من العاملين بالدول العربية إلى مصر فيضيف عبئاً جديداً على اقتصاديات البلاد.
- ④ زيادة معدلات الاستهلاك من السلع والمنتجات غير المتوفرة بالقدرة الكافية مما يمثل عبئاً على الميزان التجاري المصري وزيادة معدلات الاستيراد.

إجراءات النهوض بالاقتصاد المصري

• للوصول إلى الانتعاش الاقتصادي لمصر يجب أن تركز الجهود في مواجهة التحديات السابقة مع وضع خطة متمحوة للاستغلال الأمثل للموارد الاقتصادية المتاحة ويتم ذلك من خلال وضع أولويات برامج التنمية على النحو التالي:

- ① العمل بأقصى سرعة على استقرار الأوضاع السياسية في البلاد مع استقرار الأوضاع الأمنية.
- ② الاهتمام بالثروات المعدنية ومصادر الطاقة، والبحث عن موارد جديدة، واستثمارها الاستثمار الأمثل من خلال تشجيع الاستثمارات القومية والأجنبية.
- ③ الاهتمام بالزراعة، من خلال:
 - تحديد المناطق الصالحة للزراعة واستصلاح أراضٍ جديدة، وتطوير الوسائل الزراعية.
 - استنباط سلالات نباتية جديدة خاصة من المحاصيل الغذائية.
- ④ البحث عن مصادر مياه جديدة في المناطق الصحراوية والساحل الشمالي، وتشجيع الاستثمار في حفر الآبار.
- ⑤ التعاون مع دول حوض النيل وتفعيل الاتفاقيات الخاصة بتقسيم مياه النيل من خلال المفاوضات والتعاون في المجالات المختلفة.
- ⑥ دعم السياحة وتشجيعها وإزالة المعوقات أمامها وتطوير المناطق السياحية.
- ⑦ الاهتمام بالعمالة المصرية بالخارج وحل مشاكلهم، وذلك من خلال السفارات المصرية بها.
- ⑧ الاهتمام بالتعليم خاصة التعليم الفني ودعم البحث العلمي.
- ⑨ اتوسع في استخدام نظم المعلومات الجغرافية في الدراسات الاقتصادية، مما يساعد على:
 - سهولة تداول المعلومات الاقتصادية مع المؤسسات العلمية.
 - تعديل وتحديث البيانات والخرائط المرتبطة بالدراسات الاقتصادية.



س١

أكثر عوامل تأثيراً في جذب السياح لمنطقة خليج العقبة

- ① البيئة الطبيعية. ② التنوع الاجتماعي. ③ التراث الحضاري. ④ الموقع الجغرافي.

س٢

من التحديات التي تواجه الاقتصاد المصري

- ① القروض الأجنبية. ② رفع الجمارك على الواردات الأجنبية.
 ③ قلة الأيدي العاملة. ④ ضعف البنية التحتية.

س٣

«الشراكة والتعاون الدولي أحد الإجراءات المتبعة للنهوض بالاقتصاد المصري». دلل على صحة العبارة السابقة.

الإجابة

• إن التعاون الدولي أحد الإجراءات المتبعة للنهوض بالاقتصاد المصري، وذلك من خلال:

① التعاون في مجال البحث العلمي والتكنولوجيا.

② التعاون في مجال التعليم والتدريب.

③ التعاون في مجال الاستثمار.

④ التعاون في مجال السياحة.

⑤ التعاون في مجال التجارة.

⑥ التعاون في مجال النقل.

⑦ التعاون في مجال الطاقة.

⑧ التعاون في مجال المياه.

⑨ التعاون في مجال البيئة.

⑩ التعاون في مجال الثقافة والفنون.

مقومات
السياحة
الطبيعية

المقومات البشرية

(الأنظر - التراث الحضاري - التسويقات السياحية - التنوع الاجتماعي)

المقومات الطبيعية

(التوقع الجغرافي - المناخ - نهر النيل - البيئة الطبيعية)

المناطق السياحية في مصر

<p>ساحل مصر الشمالي :</p> <ul style="list-style-type: none"> • يمتد من الإسكندرية حتى العلوم. • يوجد به عشرات القرى السياحية. • أهم مناطقه (العلمين - سيدى عبدالرحمن - مرسى مطروح) 	<p>ساحل مصر الشمالي :</p> <ul style="list-style-type: none"> • يمتد من الإسكندرية حتى العلوم. • يوجد به عشرات القرى السياحية. • أهم مناطقه (العلمين - سيدى عبدالرحمن - مرسى مطروح)
<p>القاهرة الكبرى :</p> <ul style="list-style-type: none"> • القاهرة : قلعة صلاح الدين - الأزهر الشريف - الكنيسة المحاطة. • الجيزة : الأهرامات. 	<p>القاهرة الكبرى :</p> <ul style="list-style-type: none"> • القاهرة : قلعة صلاح الدين - الأزهر الشريف - الكنيسة المحاطة. • الجيزة : الأهرامات.
<p>ساحل البحر الأحمر : يتميز بـ :</p> <ul style="list-style-type: none"> • تنوع الينابيع من (بيئة ساحلية - شعاب مرجانية - سهول رعوية). • وجود ظهير جبلي تعلقه بعض الأودية تتم فيه السياحة البهنية. 	<p>ساحل البحر الأحمر : يتميز بـ :</p> <ul style="list-style-type: none"> • تنوع الينابيع من (بيئة ساحلية - شعاب مرجانية - سهول رعوية). • وجود ظهير جبلي تعلقه بعض الأودية تتم فيه السياحة البهنية.
<p>واحات الصحراء الغربية : توجد بها :</p> <ul style="list-style-type: none"> • العيون المائية الكبريتية والمعدنية الحارة. • العديد من الآثار مثل : (معبد هيبس بالخارجة - مقابر المنزقة ومقبرة شندي بالداخل). • مناطق جذب سياحة السفارى. • الكثبان الرملية والأشكال التضاريسية. 	<p>واحات الصحراء الغربية : توجد بها :</p> <ul style="list-style-type: none"> • العيون المائية الكبريتية والمعدنية الحارة. • العديد من الآثار مثل : (معبد هيبس بالخارجة - مقابر المنزقة ومقبرة شندي بالداخل). • مناطق جذب سياحة السفارى. • الكثبان الرملية والأشكال التضاريسية.

جهود الدولة لتنمية السياحة

- إنشاء وزارة للثقافة والآثار والتوسع في إنشاء الفنادق والمطارات وكليات ومعاهد السياحة.
- تطوير القرى السياحية وتحسين الطرق ووسائل النقل.
- المشاركة في المعارض العالمية وتوعية المواطنين بكيفية التعامل مع السائحين.

التحديات التي تواجه الاقتصاد المصري

- 1 انخفاض مستوى التقنيات بشكل عام في المجالات الإنتاجية.
- 2 زيادة الديون الخارجية والداخلية.
- 3 زيادة معدلات الاستهلاك من السلع والمنتجات غير المتوفرة.

إجراءات التمهيد بالسياحة

- 1 العمل على استقرار الأوضاع السياسية والأمنية في البلاد.
- 2 الاهتمام بالزراعة.
- 3 التعاون مع دول حوض النيل وتفعيل الاتفاقات الخاصة بتقسيم مياه النيل.
- 4 الاهتمام بالعمالة المصرية بالخارج.
- 5 توسيع في استخدام نظم المعلومات الجغرافية في الدراسات الاقتصادية.

أسئلة

الدرس 4

مفهوم • تعريف • تحليل • تقويم • ابتكار

اختر الإجابة الصحيحة من بين البدائل التالية :



مقابر المروقة

أماك صورة لأشهر المقابر المصرية في جمانها وروعة نقوشها، توجد تلك المقابر في محافظة

- 1 القاهرة.
- 2 الوادي الجديد.
- 3 البحر الأحمر.
- 4 جنوب سيناء.

لدعم السياحة العلاجية في مصر يجب الاهتمام بالقطاع السياحي في

- 1 الساحل الشمالي.
- 2 الوجه القبلي.
- 3 القاهرة الكبرى.
- 4 الواحات المصرية.

أي من المناطق السياحية التالية الأقرب إلى حدود مصر الشمالية الشرقية ؟

- 1 مقبرة شندي.
- 2 معبد أبو سمبل.
- 3 قلعة صلاح الدين.
- 4 آثار تونا الجبل.



شعاب مرجانية

تمثل الصورة المقابلة أحد مقومات السياحة المتوفرة بمحافظة

- 1 مطروح.
- 2 الإسكندرية.
- 3 جنوب سيناء.
- 4 بورسعيد.

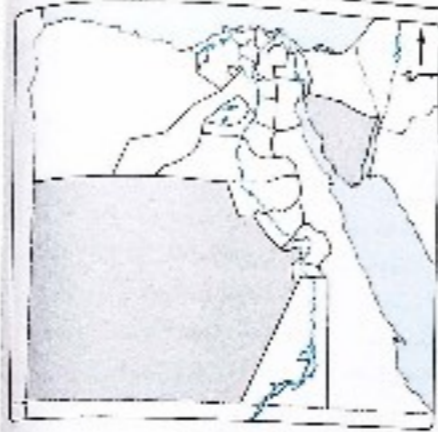
تشتهر المحافظة المظللة بالخريطة

بمقومات السياحة

- 1 الترفيهية والبيئية.
- 2 الدينية والترفيهية.
- 3 الدينية والثقافية.
- 4 الرياضية والثقافية.



- ٦ يتجه السياح شتاءً للاستمتاع بالآثار التاريخية في
 ① جنوب الوادي. ② وسط الدلتا. ③ الساحل الشمالي. ④ الساحل الشرقي.



- ٧ تتشابه كلا المحافظتين الموضحتين في الخريطة المقابلة في أحد عوامل الجذب السياحي وهي وجود
 ① السياحة الدينية. ② الشعاب المرجانية. ③ القرى السياحية. ④ البيئة الطبيعية الجذابة.

- ٨ من التحديات الداخلية التي تواجه الاقتصاد المصري
 ① عجز الميزان التجاري. ② قلة الأيدي العاملة المدربة. ③ عدم الاستقرار السياسي. ④ نقص المواد الخام.

- ٩ تعتبر من وسائل التنمية السياحية في مصر باستخدام التسويق السياحي
 ① نشر الوعي السياحي. ② تحسين طرق المواصلات. ③ تحسين البنية التحتية في المناطق الأثرية. ④ عرض مومبا توت عنخ آمون في المتاحف الدولية.

- ١٠ أفضل المناطق السياحية للتعرف على تراث مصر القديم عبر العصور تقع في
 ① الصحراء الشرقية. ② الصحراء الغربية. ③ وادي النيل. ④ الساحل الشمالي.

- ١١ تُعد أكثر الأماكن المصرية نجاحاً في تحقيق التكامل السياحي العربي
 ① الساحل الشرقي. ② الساحل الشمالي. ③ الصحراء الشرقية. ④ الصحراء الغربية.

- ١٢ أي من المناطق السياحية المتمثلة في الصور الآتية توجد في المحافظة المظللة على الخريطة التي أمامك ؟



② مقابر بني حسن.

① هرم ميدوم.



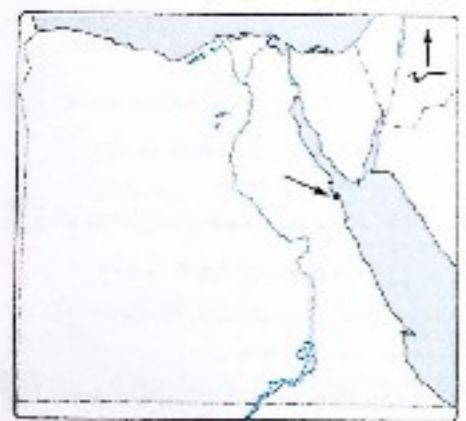
⑤ معبد فيلة.

③ محمية الصحراء البيضاء.

- ١٣ يُعد أقرب المعالم الأثرية للحدود المصرية السودانية
 ① معبد أبو سمبل. ② آثار نونا الجبل. ③ عين السيليين. ④ معبد حتشبسوت.

- ١٤ تركز السياحة الثقافية في مصر بـ
 ① الساحل الشمالي. ② الدلتا. ③ وادي النيل. ④ الساحل الشرقي.

- ١٥ يُعد من التحديات التي تواجه الاقتصاد المصري والمتعلقة بمنافسة الصناعات الأجنبية
 ① الاعتماد على وسائل إنتاج تقليدية. ② عدم الاستقرار السياسي. ③ زيادة حجم الديون الخارجية. ④ زيادة معدلات الاستهلاك.



- ١٦ نعد أكثر المدن تشابهاً في عوامل الجذب السياحي للمدينة المشار إليها بالخريطة المقابلة
 ① شرم الشيخ. ② الإسكندرية. ③ سانت كاترين. ④ المنيا.

- ١٧ يُعد من أوجه التشابه بين محافظات الوادي والدلتا في المقومات السياحية
 ① المناخ المعتدل. ② التراث الحضاري. ③ الموقع الجغرافي. ④ سياحة السفاري.

- ١٨ من المناطق السياحية المهمة الموجودة في شمال شرق مصر
 ① سيدى عبد الرحمن. ② عين السيليين. ③ دير سانت كاترين. ④ مقابر المزوفة.

- ١٩ تجذب منطقة الساحل الشمالي السياحة العربية بسبب عامل
 ① الموقع الجغرافي. ② المناخ. ③ التنوع الاجتماعي. ④ التراث الحضاري.

- ٢٠ تؤدي زيادة معدلات الاستهلاك من السلع والمنتجات إلى
 ① انخفاض مستوى التكنيات بشكل عام. ② ارتفاع مستوى العيشة. ③ استقرار الأوضاع السياسية. ④ زيادة الديون الخارجية والداخلية.



- ٢١ بملاحظة الخريطة المقابلة، نجد أن أكثر المقومات السياحية تميزاً للمحافظة المظللة والمشار إليها
 ① التراث الحضاري. ② التنوع الاجتماعي. ③ البيئة الطبيعية. ④ الموقع الجغرافي.

- ٢٢ أي مما يلي يقع جنوب واحة الفرافرة بالصحراء الغربية ؟
- Ⓐ عين السنين .
Ⓑ محمية الصحراء البيضاء .
Ⓒ مقابر أبو سمبل .
Ⓓ مقابر بني حسن .

- ٢٣ يُعد من المعالم السياحية التي تتميز بالمناخ الدافئ شتاءً
- Ⓐ دير سانت كاترين بجنوب سيناء .
Ⓑ مقبرة شندى بالداخلة .
Ⓒ معبد هيبيس بالخارجة .
Ⓓ قلعة صلاح الدين بطابا .

- ٢٤ تعتمد سياحة السفاري على
- Ⓐ التراث الحضاري .
Ⓑ البيئة الطبيعية .
Ⓒ التنوع الاجتماعي .
Ⓓ الموقع الجغرافي .

- ٢٥ أثرت الأوضاع السياسية بمنطقة الشرق الأوسط على الاقتصاد المصري من خلال
- Ⓐ حدوث هجرة عائدة لمصر .
Ⓑ زيادة معدلات التبادل التجاري مع الدول العربية .
Ⓒ رفع الجمارك على الواردات العربية .
Ⓓ رفع الجمارك على الصادرات المصرية .

- ٢٦ الصورة التي أمامك تُعد إحدى المعالم السياحية التي توجد في



معبد فيلة

- Ⓐ ساحل مصر الشمالي .
Ⓑ القاهرة الكبرى .
Ⓒ الصحراء الغربية .
Ⓓ الوجه القبلي .

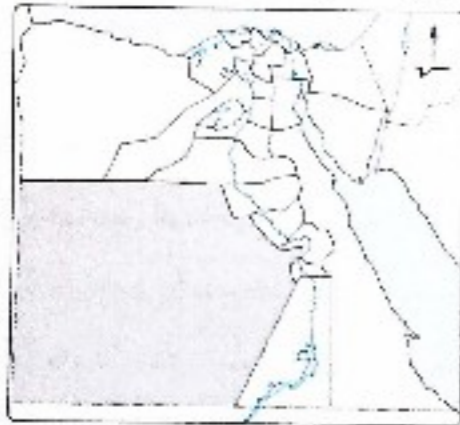
- ٢٧ أمامك خريطة توضح ظاهرة تضاريسية مميزة للصحراء الشرقية مما أثر في وجود سياحة

- Ⓐ علاجية .
Ⓑ ثقافية .
Ⓒ بيئية .
Ⓓ دينية .



- ٢٨ يتمثل الدور الذي تقوم به وزارة التربية والتعليم والتعلم الفني لدعم النشاط السياحي في
- Ⓐ التوسع في إنشاء الفنادق .
Ⓑ تطوير القرى السياحية .
Ⓒ توفير الكوادر العلمية .
Ⓓ الاهتمام بإنشاء دار للثقافة والآثار .

- ٢٩ أي من المناطق السياحية الآتية غير موجودة في المحافظة المظللة بالخريطة المقابلة ؟



Ⓐ معبد هيبيس .



Ⓑ مقبرة شندى .



Ⓒ مقابر المزوقة .



Ⓓ معبد أبو سمبل .

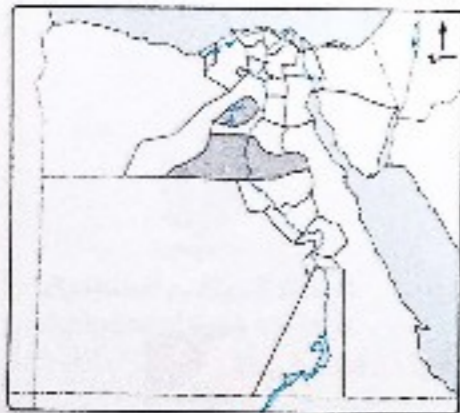
- ٣٠ يتميز إقليم مريوط سياحي يجذب السائحين خاصة من

- Ⓐ شمال شرق آسيا .
Ⓑ شمال شرق أوروبا .
Ⓒ جنوب غرب آسيا .
Ⓓ جنوب غرب أوروبا .

- ٣١ نستنتج من تحليل الخريطة المقابلة أن

المحافظتين المظللتين تضم آثاراً تاريخية تتمثل في

- Ⓐ تونا الجبل وميدوم .
Ⓑ أبي سمبل وبحيرة قارون .
Ⓒ معبد هيبيس والأشمونين .
Ⓓ مقبرة شندى وعين السيليين .



- ٣٢ تتعدد جهود الدولة في التنمية السياحية الداخلية ولكن يخرج عنها

- Ⓐ تحسين الطرق والمواصلات .
Ⓑ المشاركة في المعارض الدولية .
Ⓒ التوسع في إنشاء المطارات .
Ⓓ تطوير القرى السياحية والمنتجعات .

ب اختر إجابتين صحيحتين من بين البدائل التالية :

- ٣٣ ساهمت التكنولوجيا الحديثة في النهوض بالاقتصاد المصري من خلال

- Ⓐ زيادة المنتجات الأجنبية في السوق المصرية .
Ⓑ تداول المعلومات الاقتصادية مع بعض المؤسسات .
Ⓒ تحديث الخرائط الاقتصادية .
Ⓓ الاهتمام بالتعليم الفني .
Ⓔ تقليل الواردات من الصناعات الأجنبية .

بنك أسئلة على الوحدة الرابعة

مهم • تحليل • تقويم • ابتكار

اختر الإجابة الصحيحة من بين البدائل التالية :

- 1 أي من الخامات التالية تضاعفت أهميتها المحلية بسبب تطبيق مصر لسياسة الري الدائم ؟
 (أ) الحديد. (ب) تكروم. (ج) الفوسفات. (د) الجبس.
- 2 إذا أردنا تخفيف الضغط على أول ميناء على رأس قناة السويس من ناحية الشمال فعلياً تطوير ميناء
 (أ) دمياط. (ب) رشيد. (ج) نويبع. (د) العريش.
- 3 أي من مصادر المياه التالية يعتمد عليها في الزراعة بشكل رئيسي في مدينتي العريش ومرسى مطروح ؟
 (أ) نهر النيل. (ب) الأمطار. (ج) المياه الجوفية. (د) تحلية مياه البحر.
- 4 من المتوقع وجود مصانع السكر المعتمدة على المحصول الثاني لإنتاج السكر في مصر بمحافظات
 (أ) شمال الدلتا. (ب) جنوب الدلتا. (ج) شمال الوادي. (د) جنوب الوادي.
- 5 أي من الموانئ المصرية التالية يفضل أن يقام بها مصانع لتصدير القصدير إلى دول جنوب شرق آسيا ؟
 (أ) سفاجا. (ب) السويس. (ج) الإسكندرية. (د) بورسعيد.

تمثل الصورة المقابلة أحد جهود الدولة في مجال التنمية

- الزراعية حيث يقوم ب.....
- 1 استصلاح هوامش الدلتا.
 - 2 استنباط سلالات زراعية جيدة.
 - 3 إدخال وسائل ري حديثة.
 - 4 دعم المزارعين بالأسمدة والأعلاف.

من المتوقع أن يكون تراجع المدفوعات المصرية لسد العجز الموضح بالرسم

البياني سببه


- 1 تناقص مساحة الأعلاف الزراعية.
- 2 زيادة مساحة المراعي الطبيعية.
- 3 التوسع في إنشاء المزارع السمكية.
- 4 زيادة حجم الصادرات من اللحوم.

تتعدد موارد مياه الري في محافظة

- 1 مطروح. (أ) المنيا. (ب) أسيوط. (ج) قنا. (د)



البنك الزراعي المصري
Agricultural Bank of Egypt



المصدر : الجهاز المركزي للتعبئة والإحصاء

4 فصل • تقويم • تحليل • تقويم • ابتكار

- 24 تعد أكثر أماكن مصر في التنوع السياحي ؟
 (أ) الصحراء الغربية. (ب) الصحراء الشرقية. (ج) شبه جزيرة سيناء. (د) وادي النيل. (هـ) الدلتا المصرية.

أسئلة مقالية :

- 25 استنتج : أثر الأوضاع السياسية في منطقة الشرق الأوسط على الاقتصاد المصري.
- 26 ما رأيك في : تعد محافظة الوادي الجديد من مناطق الجذب السياحي ؟
- 27 ما مقترحاتك ل : تنمية السياحة المصرية في الوقت الحالي ؟
- 28 ما العلاقة بين : الاهتمام بالتعليم الجامعي. والنشاط السياحي في مصر ؟
- 29 حدد الأثر السلبى ل : النمو السكاني المرتفع على الاقتصاد المصري.
- 30 ما تقييمك ل : أثر استخدام التكنولوجيا على الاقتصاد المصري ؟

حل أسئلة إلكترونيًا ومعرفة كيفية الوصول للإجابة الصحيحة



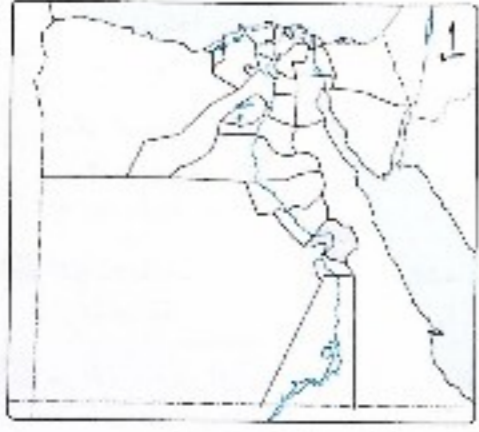
عن طريق
تطبيق
معاك



استخدم
QR Code

ملزمة. كوم

- ٩ تعتبر من أكثر العوامل التي ساهمت في تنوع المحاصيل المصرية
 (أ) المياه والتربة.
 (ب) السياسات الحكومية وتعمالة الزراعة.
 (ج) التربة والمناخ.
- ١٠ يعتبر من مشروعات النقل النهري بين محافظتي أسيوط وبني سويف ترعة
 (أ) المحمودية.
 (ب) الإبراهيمية.
 (ج) السلام.
 (د) النوبارية.
- ١١ الحاجز المائي الأقرب لمحافظة القاهرة هو
 (أ) القناطر الخيرية.
 (ب) قناطر إسنا.
 (ج) قناطر زفتى.
 (د) قناطر إدفيها.
- ١٢ تحتاج بعض المحاصيل الزراعية لتربة ثقيلة والتي توجد في محافظة
 (أ) الغربية.
 (ب) الوادي الجديد.
 (ج) مطروح.
 (د) شمال سيناء.
- ١٣ تعتبر من أهم أساليب حماية السوق المحلي
 (أ) إدخال الصناعات الإلكترونية.
 (ب) تشجيع الاستثمارات الخارجية.
 (ج) التوسع في برامج التدريب.
 (د) زيادة التعريف الجمركية.
- ١٤ إذا كنت من محافظة أسوان فإن حفل الفوسفات الأقرب لك هو
 (أ) مناجم الجديدة.
 (ب) سقاجا - القصير.
 (ج) أبو طرطرون.
 (د) السباعية والمحاميد.
- ١٥ يعد من المحاصيل المصرية التي تساهم في تعديل الميزان التجاري
 (أ) الأرز.
 (ب) القمح.
 (ج) بنجر السكر.
 (د) قصب السكر.
- ١٦ حفر الآبار الضحلة من أجل الحصول على مياه الأمطار إحدى طرق الزراعة في محافظة
 (أ) القاهرة.
 (ب) مطروح.
 (ج) أسيوط.
 (د) المنيا.
- ١٧ يترتب على انخفاض قيمة العملة الوطنية مع ارتفاع الأسعار
 (أ) زيادة القدرة الشرائية.
 (ب) ضعف الأسواق المحلية.
 (ج) تدهور لتجارة الخارجية.
 (د) انتشار سياسة الإفراق.
- ١٨ أي من المحاصيل الآتية توجد زراعتها في معظم الأراضي المصرية ؟
 (أ) القمح.
 (ب) بنجر السكر.
 (ج) قصب السكر.
 (د) الأرز.
- ١٩ تعتمد محافظة الغربية في تصريف المياه الزائدة عن حاجة الأراضي الزراعية من خلال مصرف
 (أ) بحر البقر.
 (ب) زفتى.
 (ج) إيتاي البارود.
 (د) بحيرة قارون.
- ٢٠ يظهر تفتت الملكية الزراعية بصورة أكبر في محافظات
 (أ) شمال الدلتا.
 (ب) شرق الدلتا.
 (ج) غرب الدلتا.
 (د) جنوب الدلتا.



٢١ تعتمد الزراعة في المحافظة المظللة بالخريطة المقابلة على مياه ترعة
 (أ) أصفون.
 (ب) السوهاجية.
 (ج) الجرجاوية.
 (د) الإبراهيمية.

٢٢ يتم التخلص من المياه الزائدة عن الأرض الزراعية بمحافظة الدقهلية من خلال مصرف
 (أ) إيتاي البارود.
 (ب) بحر البقر.
 (ج) زفتى.
 (د) بحيرة قارون.

٢٣ يظهر الفرق بين المساحة الزراعية والمساحة المحصولية في
 (أ) مواسم الزراعة.
 (ب) مساحة الأرض المزروعة.
 (ج) استخدام تدوير الزراعة.
 (د) أساليب الري الزراعية.



دير سانت كاترين

٢٤ الصورة التي أمامك تعبر عن أحد مقومات الجذب السياحي المتمثل في
 (أ) البيئة الطبيعية.
 (ب) التراث الحضاري.
 (ج) التنوع الاجتماعي.
 (د) الموقع الجغرافي.

٢٥ من المؤشرات الدالة على وجود مشكلة في التجارة الخارجية لدولة ما
 (أ) زيادة الصادرات عن الواردات.
 (ب) تصدير المواد الخام للخارج.
 (ج) وجود استثمارات داخل الدولة.
 (د) زيادة الأسواق المحلية.

٢٦ أي من الواحات الآتية يتم استغلالها اقتصاديًا في النشاط السياحي واستخراج المعادن ؟
 (أ) البحرية.
 (ب) سيوة.
 (ج) الغرافرة.
 (د) الداخلة.

٢٧ يعد استخدام طمي النيل في صناعة مواد البناء من الصناعات التي تقوم الحكومة المصرية بـ
 (أ) تشجيعها بالأبحاث العلمية.
 (ب) تشجيع الاستثمار فيها.
 (ج) المحافظة على وجودها.
 (د) تجريمها من خلال القانون.

٢٨ تتحصر شبكة الخطوط الحديدية في امتداد طولى بالوادي بسبب
 ① تعرج جوانبه. ② اتحداره الخفيف. ③ ضيقه الشديد. ④ استواء سطحه.

٢٩ يمكن لمصر والدول العربية الاستفادة من تجارة السوق الأوروبية المشتركة من خلال
 ① فصل السياسة عن التجارة. ② استخدام رأس المال المتداول.
 ③ زيادة قيمة الواردات. ④ تصدير المواد الخام.

٣٠ أكثر الصناعات التي تتركز في الساحل الشمالي الغربي لمصر هي الصناعات
 ① المعدنية. ② الكيماوية. ③ الخشبية. ④ الهندسية.

٣١ من أكثر الأماكن المصرية افتقارًا لخدمات السكك الحديدية
 ① منخفض الفيوم. ② وادي النيل.
 ③ شبه جزيرة سيناء. ④ منخفض الواحات البحرية.

٣٢ اهتم محمد علي بتحويل مصر إلى الري الدائم وذلك لزراعة بعض المحاصيل منها
 ① الشعير. ② بنجر السكر. ③ القمح. ④ القطن.



٣٣ تعتمد الزراعة في المنطقة المشار إليها بالخريطة التي أمامك على
 ① الأمطار الشتوية. ② الآبار والعيون.
 ③ ترعة الإبراهيمية. ④ بحيرة ناصر.

٣٤ يتميز الساحل الغربي لشبه جزيرة سيناء بغناه بـ
 ① مصادر الطاقة. ② المعادن الفلزية. ③ التربة الطينية. ④ المناطق الصناعية.

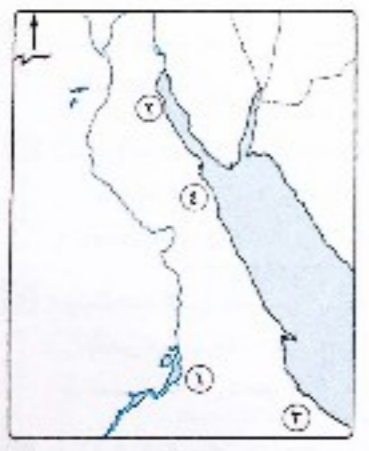
٣٥ أي من المحاصيل الآتية يمكن زراعتها في التربة الرملية ؟
 ① الأرز. ② قصب السكر. ③ القطن. ④ القمح.

٣٦ يتم حاليًا استخراج خام الحديد بعصر من
 ① الوادي والدلتا. ② الصحراء الغربية. ③ الصحراء الشرقية. ④ شبه جزيرة سيناء.

٣٧ أهم ما يميز قناة السويس كمجرى ملاحى عالمى
 ① موقعها المركزي. ② التركيز السكاني بجانبها.
 ③ طول القناة. ④ تعرج المجرى الملاحى.

٢٨ أقدم المعادن اكتشافت في مصر معدن
 ① الحديد. ② الذهب. ③ الكروم. ④ الفوسفات.

٢٩ من جهود الدولة لدعم التجارة الخارجية
 ① تطوير السكك الحديدية. ② امتدادات مترو الأنفاق.
 ③ إنشاء موانئ نهرية حديثة. ④ تطوير الموانئ البحرية.



٣٠ في الخريطة المقابلة يتركز إنتاج المعدن الذي يدخل في صناعة الصلب ويصدر معظمه إلى الخارج في المنطقة
 ① رقم ١. ② رقم ٢.
 ③ رقم ٣. ④ رقم ٤.

٣١ تُعد قناطر نجح حمادى هي المسئولة عن رفع المياه أمامها في ترعة
 ① الجرجاوية. ② الإبراهيمية. ③ أصفون. ④ بحريوسف.

٣٢ يتم استخراج الغاز الطبيعي والبتترول في مصر من حقل
 ① بلطيم. ② أبي ماضي. ③ الوسطاني. ④ أبو الغراديق.

٣٣ يتم نقل خامات الفوسفات من مناطق استخراجها بالصحراء الغربية باستخدام
 ① النقل البحري. ② النقل النهري. ③ السكك الحديدية. ④ النقل الجوي.

٣٤ في رأيك، أكثر طرق النقل انتشارًا في مصر هو النقل
 ① النهري. ② النهري. ③ الجوي. ④ النهري.



٣٥ أفضل الطرق للاستفادة من الثروة المعدنية في المنطقة المشار إليها استخدامها في صناعة
 ① الأسمدة. ② الحديد والصلب.
 ③ البتروكيماويات. ④ الزجاج.

- ٤٦ «كان للافتتاح الاقتصادي الذي حدث في مصر بين عامي ١٩٧٥ : ١٩٨٥ أثر سلبي على الاقتصاد المصري»
تتفق العبارة السابقة مع
- ① الاعتماد على الخارج في استيراد آلات التصنيع.
② سياسات الإفراق التي تمارسها بعض الدول الخارجية.
③ سهولة تصدير المنتجات المحلية للخارج.
④ ضعف الأسواق المحلية بسبب التضخم.
- ٤٧ تدخل السفن القادمة من جنوب شرق آسيا إلى قناة السويس عبر ميناء
- ① السويس. ② بورسعيد. ③ نويبع. ④ سفاجا.
- ٤٨ تأثرت إنتاجية الفطن في مصر عام ٢٠١٣ بسبب
- ① زيادة مشروعات استصلاح الأراضي. ② التوسع في زراعة محاصيل الأعلاف.
③ إهمال مشروعات الري والصرف. ④ الاتجاه نحو القضاء على الفجوة الغذائية.
- ٤٩ «يستخدم الغاز الطبيعي كمادة خام في الصناعات البتروكيمياوية» . تدل العبارة السابقة على
- ① نقص مستلزمات الصناعات البتروكيمياوية. ② عدم التوسع في استخدامها كمصدر طاقة.
③ المساهمة في دعم الاقتصاد المصري. ④ استيراد المواد الخام لهذه الصناعات.
- ٥٠ اتجه أول خط سكة حديد في مصر نحو
- ① خليج العقبة. ② خليج السويس. ③ البحر الأحمر. ④ البحر المتوسط.
- ٥١ أكثر الموانئ تأثراً بحركة السفن في قناة السويس ميناء
- ① سفاجا. ② الإسكندرية. ③ العين السخنة. ④ دمياط.
- ٥٢ تتركز مناجم الكروم بمصر في
- ① الصحراء الشرقية. ② الصحراء الغربية. ③ شبه جزيرة سيناء. ④ الوادي والدلتا.
- ٥٣ تتركز موانئ تصدير البترول في مصر على سواحل
- ① خليج السويس. ② البحر الأحمر. ③ خليج العقبة. ④ البحر المتوسط.
- ٥٤ يظهر أثر المشكلة السكانية بالنسبة لنشاط الزراعة في
- ① انخفاض إنتاجية القدان. ② نقصت الملكيات الزراعية.
③ العمالة غير المدربة على الوسائل الحديثة. ④ قلة المصارف الزراعية.
- ٥٥ توجد علاقة بين انتشار المصارف في الدلتا و
- ① زراعة المحاصيل الاستراتيجية (القمح والأرز). ② فقر التربة في بعض جهاتها.
③ بناء السد العالي. ④ إنتاجية القدان المنخفضة.
- ٥٦ تربط أقدم طرق المسكك الحديدية في مصر بين العاصمة و
- ① أهم الموانئ المصرية. ② شمال الوادي وجنوبه.
③ أضخم المدن سكاناً. ④ أكبر المدن مساحة.

- ٥٧ تتشابه مدينتي شرم الشيخ والغردقة في
- ① جذب السياحة العربية. ② وجود التراث الحضاري.
③ وجود السياحة الدينية. ④ وجود البيئة الطبيعية.
- ٥٨ من العوامل المساعدة للجذب السياحي بمرسى مطروح وجود
- ① الشعاب المرجانية. ② النقل الجوي الداخلي.
③ البيئة الصحراوية. ④ المناطق الجبلية.
- ٥٩ تسمم سلك حديد وادي نهر النيل بـ
- ① امتداد معظمها بموازة نهر النيل. ② ارتفاع تكلفة استخدامها.
③ اقتصرها على نقل الركاب. ④ تركيزها شرق نهر النيل.
- ٦٠ ظهر أثر عدم الاستقرار السياسي والأمني في المنطقة العربية بالنسبة لمصر من خلال
- ① زيادة معدلات الاستهلاك من السلع والمنتجات. ② انخفاض الجمارك على الواردات من الصناعات الأجنبية.
③ عزوف المستثمرين عن الاستثمار الصناعي. ④ زيادة الواردات من المواد الخام.
- ٦١ تمتد شبكة المسكك الحديدية في الصحراء الشرقية لتربط بين القاهرة و
- ① محافظات القناة. ② الغردقة. ③ ميناء سفاجا. ④ حلایب.
- ٦٢ إذا كنت أحد سكان محافظة البحيرة فأى الأقاليم السياحية الآتية الأقرب لك ؟
- ① القاهرة الكبرى. ② سيناء. ③ الساحل الشمالي. ④ الوجه القبلي.
- ٦٣ أكثر ما تعاني منه الطرق البرية في الصحاري المصرية يشبه جزيرة سيناء هو
- ① غياب الدراسة الميدانية. ② الأخطار الطبيعية.
③ ارتفاع تكلفة النقل. ④ ارتفاع الكثافة السكانية.
- ٦٤ «يرتبط البترول بالعلاقات الديبلوماسية مع دول العالم» .
تشير العبارة السابقة إلى ضرورة قيام مصر بـ
- ① تحديث البيانات المرتبطة بالدراسات الاقتصادية. ② تشجيع الاستثمارات القومية والأجنبية.
③ خفض الديون الداخلية بها. ④ تداول المعلومات الاقتصادية مع المؤسسات التعليمية.
- ٦٥ تعتمد محافظة البحيرة في الزراعة على المياه التي تصل إليها من ترعة
- ① الإبراهيمية. ② الجرجاوية. ③ النوبارية. ④ الإسماعيلية.
- ٦٦ أكثر المناطق جذباً للسياحة بالنسبة للدول المجاورة لمصر
- ① سيناء. ② الساحل الشمالي.
③ الوجه القبلي. ④ واحات الصحراء الغربية.

٧٧ بملاحظة الخريطة التي أمامك، نجد أن من المتوقع تصدير خامات الفوسفات عن طريق ميناء

- ١) الفردقة.
- ٢) دمياط.
- ٣) سفاجا.
- ٤) الطور.



٧٨ يتركز إنتاج الذهب بمصر في محافظة

- ١) السويس.
- ٢) أسوان.
- ٣) قنا.
- ٤) البحر الأحمر.

٧٩ أكثر العوامل تأثيراً في جذب السياح لمحافظة الأقصر

- ١) المناخ.
- ٢) الموقع الجغرافي.
- ٣) التراث الحضاري.
- ٤) البيئة الطبيعية.

٨٠ أكثر الصناعات انتشاراً في الوادي والدلتا هي

- ١) صناعة المنسوجات.
- ٢) الصناعات الخشبية.
- ٣) الصناعات المعدنية.
- ٤) الصناعات الزجاجية.

٨١ تخدم قناطر إسنا مشروعات الري في محافظة

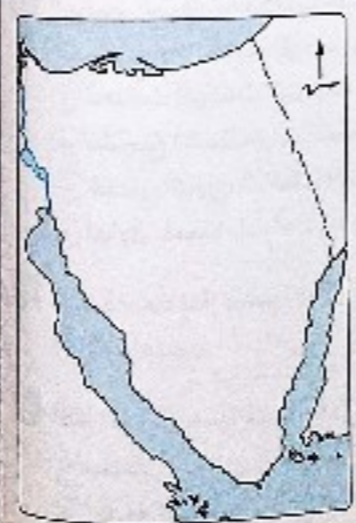
- ١) أسوان.
- ٢) سوهاج.
- ٣) قنا.
- ٤) الفيوم.

٨٢ من العوامل الرئيسية التي أثرت في إنتاج الفحم بمصر

- ١) صعوبة استخراجها.
- ٢) الحروب.
- ٣) قلة استخداماتها.
- ٤) تلويثه للبيئة.

٨٣ يمتلك القسم التضاريسي المقابل لثروة صخرية هامة تصدر إلى الدول المتقدمة في شكل خام بأسعار متدنية وهو يتمثل في

- ١) الذهب.
- ٢) الفوسفات.
- ٣) ملح الطعام.
- ٤) زغال الزجاج.



ملزمة.كوم

٧٤ في أي جهات مصرقام الفراعنة باستثمار خامات الذهب ؟

- ١) الشرقية.
- ٢) الشمالية.
- ٣) الغربية.
- ٤) الجنوبية.

٧٥ ظهر أثر المشكلة السكانية في مصر على تناقص المساحة المنزرعة لمحصول

- ١) القمح.
- ٢) القطن.
- ٣) الأرز.
- ٤) قصب السكر.



إنتاج القطن في محافظات الوادي والدلتا والفيوم

٧٦ تستنتج من تحليل الأعمدة البيانية المقابلة لإنتاج القطن في مصر وجود متغير أدى لهذه النتيجة يتمثل في

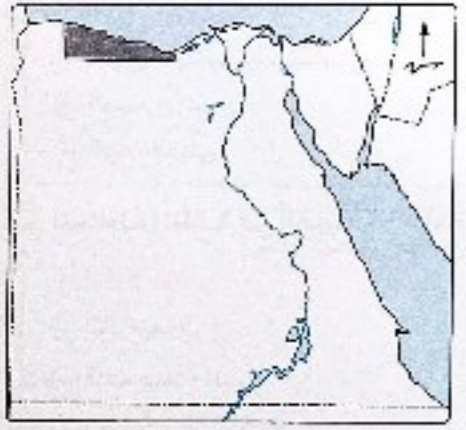
- ١) انتشار الآفات.
- ٢) الزراعة التقليدية.
- ٣) الزيادة الطبيعية.
- ٤) قلة إنتاجية الفدان.

٧٧ تعتمد الدولة على خامات تحقق لها تحسين جودة تربة وادي النيل من أقرب المناطق للوادي هو منجم

- ١) أبو طرطور.
- ٢) سفاجا.
- ٣) السباعية.
- ٤) القصير.

٧٨ من خلال تحليل الخريطة المقابلة نجد أن الجزء المظلل منطقة جاذبة لسياحة من مناطق

- ١) جنوب غرب أوروبا.
- ٢) شمال شرق آسيا.
- ٣) شمال شرق أوروبا.
- ٤) جنوب غرب آسيا.



٧٩ أي من المناطق التالية يصل إليها البترول من جنوب خليج السويس كما يصلها خامات الفوسفات من وادي النيل ؟

- ١) أسيوط.
- ٢) كفر الزيات.
- ٣) أبو زعبل.
- ٤) حلوان.

٨٠ يتمثل الأثر الإيجابي من انضمام مصر إلى مجموعة دول الكومبسا في تحقيق

- ١) زيادة وارداتها من التكنولوجيا.
- ٢) زيادة صادراتها من المواد الخام.
- ٣) زيادة في صادرات البترول.
- ٤) قانص الميزان التجاري.

٨١ من خلال الخريطة المقابلة نجد أن

المحافظتين المظللتين بهما آثار تاريخية

مختلفة ولكن يخرج عنها

- Ⓐ نونا الجبل.
- Ⓑ معبد هيبس.
- Ⓒ الأشمونين.
- Ⓓ آثار ميدوم.



ب اختر إجابتين صحيحتين من بين البدائل التالية :

٨٢ من مشروعات الري التي تفيد الوجه البحرى و

- Ⓐ قناطر إسنا.
- Ⓑ قناطر زفتى.
- Ⓒ ترعة بحر يوسف.
- Ⓓ ترعة النوبارية.

٨٣ من الأنشطة الاقتصادية التي تمارس بشمال غرب الواحات الخارجة و

- Ⓐ الزراعة.
- Ⓑ التصنيع.
- Ⓒ التشييد والبناء.
- Ⓓ التجارة.

٨٤ أكثر المناطق إنتاجاً للغاز الطبيعي في مصر و

- Ⓐ شمال شبه جزيرة سيناء.
- Ⓑ الصحراء الغربية.
- Ⓒ الوجه القبلى.
- Ⓓ خليج السويس والعبقة.
- Ⓔ الدلتا والبحر المتوسط.

٨٥ المحافظة المظللة في الخريطة التي أمامك يوجد بها

..... و

- Ⓐ آثار ميدوم.
- Ⓑ قلعة صلاح الدين.
- Ⓒ آثار الأشمونين.
- Ⓓ مقبرة شندى.
- Ⓔ محمية الصحراء البيضاء.



٨٦ يُعد من مشكلات التنمية الزراعية والتي يسبب في حدوثها العوامل الطبيعية والبشرية

- Ⓐ التصحر.
- Ⓑ تجريف التربة.
- Ⓒ الأساليب التقليدية في الري.
- Ⓓ الرخف العمرانى.
- Ⓔ الآفات الزراعية.

أسئلة مضالية :

٨٧ استنتج : السبب الذى جعل مصر حريضة على النوسع فى إنشاء المزارع السمكية، مدلاً على إجابتك بمثال.

٨٨ وضح : كيف يمكن تحقيق التنمية بشكل أفضل ورأسى فى مجال إنتاج الثروة المعدنية.

٨٩ «الاقتصاد والسياسة وجهان لعملة واحدة» حدد مدى مصداقية العبارة السابقة، مع ذكر السبب.

٩٠ ما توقعاتك إذا : تم استغلال مناجم حديد جبال البحر الأحمر؟

٩١ ما العلاقة بين : الزيادة السكانية، وإنتاج القطن فى مصر؟

٩٢ دلل على صحة العبارة الآتية : تتعدد عوامل الجذب السياحى فى مدينة الإسكندرية.

٩٣ أمامك خريطة لمشروع تحت الدراسة يربط بين مصر والسعودية، فى ضوء دراستك، استنتج : أهمية هذا المشروع فى تحقيق التكامل العربى.



٩٤ فسر : تُعد الموانئ المطللة على البحر المتوسط أكثر أهمية من نظيرتها على البحر الأحمر.

حل أسئلة إلكترونيًا ومعرفة كيفية الوصول للإجابة الصحيحة



عن طريق تطبيق



استخدم QR Code

امتحانان على مقرر شهري فبراير ومارس

الامتحان الأول

اختر الإجابة الصحيحة من بين البدائل التالية :

- ١ يعد السبب الرئيسي في ظهور المناطق غير المخططة عمرانياً
 - (أ) الزيادة غير الطبيعية.
 - (ب) الزيادة الطبيعية.
 - (ج) السياسة الزراعية.
 - (د) اتساع قاعدة الهرم السكاني.
- ٢ «لتبج واحد ولكن المصبات متعددة» .
 - (أ) مطروح.
 - (ب) أسبوط.
 - (ج) الإسمايلية.
 - (د) البحيرة.
- ٣ انخفض معدل عمالة الأطفال على مستوى العالم ليصل إلى ١٠٪ وقد يؤدي ذلك إلى
 - (أ) ارتفاع نسب المتعلمين.
 - (ب) تقليل العشوائيات.
 - (ج) إعادة توزيع السكان.
 - (د) توفير العمالة الزراعية.
- ٤ أي مما يأتي يُعد السبب في عجز الكثافة العامة للسكان عن رسم صورة حقيقية للتوزيع السكاني بمصر ؟
 - (أ) تنوع الموارد.
 - (ب) كثرة عدد السكان.
 - (ج) صغر المساحة.
 - (د) امتداد مساحة الصحارى.
- ٥ ترتب على التوزيع السكاني في مصر
 - (أ) تدهور البنية الأساسية.
 - (ب) التوزيع العادل للخدمات.
 - (ج) تدفق النشاط الصناعي.
 - (د) بناء المدن السياحية.
- ٦ تهدف المبادرة الموضحة في الشعار المقابل إلى تنمية القرى وتحقيق عدة أهداف يخرج عنها
 - (أ) وقف تيارات الهجرة الداخلية.
 - (ب) زيادة دخل الاقتصاد المصري من النشاط الزراعي.
 - (ج) زيادة الوحدات السكنية.
 - (د) تغيير حجم سكان الدولة.



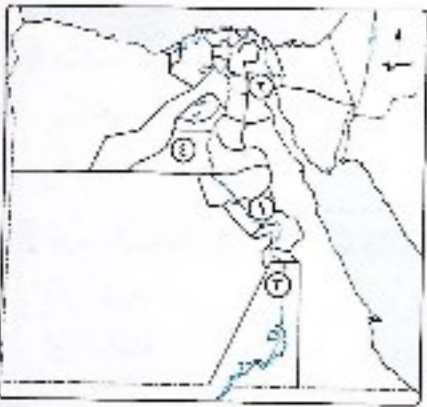
حياة
كريمة

كل مصرى - لكل تعليمه

امتحانات شهرية



٤ إذا كنت مسئولاً في الهيئة العامة لحو الأمية وتعليم الكبار، فأى من المحافظات التالية ستكون هي الأولى باهتماماتك لارتفاع معدلات الأمية بها ؟
 (أ) القاهرة والجيزة، (ب) سيوط والمنيا، (ج) الغردقة والسويس، (د) القاهرة والقليوبية.



٥ أى من الأرقام الموقعة على الخريطة المقابلة تمثل إحدى المحافظات المستقبلة للأيدي العاملة ؟

- (أ) رقم ١
 (ب) رقم ٢
 (ج) رقم ٣
 (د) رقم ٤

٦ أى مما يلي يساهم بشكل أكبر في الحد من الزيادة السكانية الطبيعية في مصر ؟



٧ يعبر الشكل الذي أمامك عن أحد أبعاد المشكلة السكانية وهو البعد
 (أ) الأول، (ب) الثاني، (ج) الثالث، (د) الرابع.

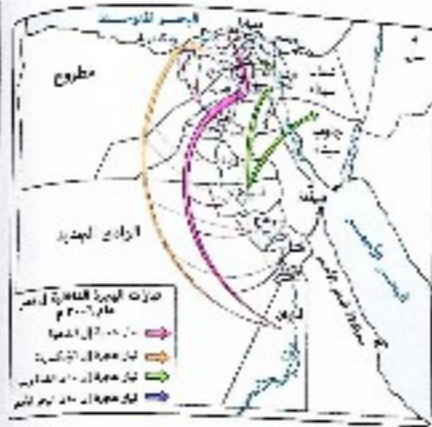


٨ تتعرض الموارد الاقتصادية المتاحة في بعض محافظات مصر للضغط الشديد بسبب
 (أ) الكثافة الحقيقية للسكان، (ب) ارتفاع معدلات الإعمال، (ج) التركيب النوعي للسكان، (د) الكثافة العامة للسكان.

ب أسئلة مقالية :

٩ ما مقترحاتك لـ : تنمية المحافظات الطاردة للسكان والقضاء على مشكلاتها ؟

١٠ ما العلاقة بين : موارد المياه العذبة في مصر، وتوزيع السكان بها ؟



٧ من تحريك لخريطة تيارات الهجرة الداخلية المقابلة نجد أن
 (أ) محافظة شمال سيناء تمتلك عوامل الجذب،
 (ب) محافظة القاهرة منبع للهجرات الداخلية،
 (ج) جميع المحافظات الحدودية غير جاذبة للهجرات،
 (د) عامل المسافة يغلب على تيارات الهجرة من محافظة الشرقية.

المحافظة	المساحة	عدد السكان بالنسبة
الشرقية	١١١١ كم ^٢	٧١١٦٠٩
الدقهلية	٣٤٥٩ كم ^٢	٦٦٨٥٨٨٧
سوهاج	١١٠٢٢ كم ^٢	٥٢٠٣٠٧٦
الغنية	١٩١٢ كم ^٢	٥١٦٦٤٢٧

المصدر : الجهاز المركزي للتعبئة العامة والإحصاء، يناير ٢٠١٩ م.

٨ ادرس الجدول المقابل ثم أجب :

أكثر المحافظات كثافة سكانية
 (أ) الشرقية، (ب) الغربية، (ج) سوهاج، (د) الدقهلية.

ب أسئلة مقالية :

٩ دلل على صحة العبارة الآتية : تعد الهجرة الخارجية بمصر سلاح ذو حدين.

١٠ استنتج : أهمية وجود تعدادات سكانية دقيقة لمصر

الامتحان الثاني

١ اختر الإجابة الصحيحة من بين البدائل التالية :

- ١ التعليم الحر في يساهم في حل مشكلة
 (أ) المرأة في المجتمع الحضري، (ب) البطالة في المدن،
 (ج) عمالة الأطفال في الريف، (د) التكدس في المدن.

٢ انتشار الشائعات والمفاهيم الخاطئة حول المخدرات يمكن مواجهتها من خلال
 (أ) المركز القومي للإحصاء، (ب) نشر الوعي عن أضرار الإدمان،
 (ج) العلاج بالوحدات الصحية، (د) تشجيع الخريجين على العمل التطوعي.

٣ أى العوامل الآتية الأكثر تأثيراً في إعادة توزيع السكان بمصر ؟
 (أ) الزيادة غير الطبيعية، (ب) الزيادة الطبيعية،
 (ج) الأنشطة الاقتصادية، (د) السياسات الحكومية.



الامتحان الأول

اختر الإجابة الصحيحة من بين البدائل التالية :

- ١ أي المحافظات الآتية تتشابه في الاعتماد على رى الأراضي الزراعية على المصدر الثاني والثالث للمياه ؟
- Ⓐ الغربية والمنوفية .
Ⓑ الدقهية والمنيا .
Ⓒ مطروح وشمال سيناء .
Ⓓ الجيزة والشرقية .

٢ أي من المنخفضات التالية ينعدم تأثيرها على تقليل الفجوة الغذائية في مصر ؟

- Ⓐ الفيوم .
Ⓑ القطارة .
Ⓒ الداخلة .
Ⓓ الخارجة .

٣ يرجع عدم استغلال مناجم الحديد بجبال البحر الأحمر في مصر إلى افتقار المنطقة لـ

- Ⓐ الطابع السهلي .
Ⓑ جودة الخام المعدني .
Ⓒ السوق المحلي .
Ⓓ نشاط الصناعات .

٤ أي مما يلي يمثل إحدى نتائج الظاهرة الموضحة



بالصورة المقابلة ؟

- Ⓐ الاتجاه للتوسع الرأسى .
Ⓑ ارتفاع معدلات التنمية .
Ⓒ الاتجاه للتوسع الأفقى .
Ⓓ زيادة الفجوة الغذائية .

٥ تقطن صناعة الأسمدة في كفر الزيات وأبو زعبل لتوافر عامل

- Ⓐ الطاقة .
Ⓑ السوق .
Ⓒ المادة الخام .
Ⓓ العمالة .

٦ يرتبط تكوين المعادن وانتشارها بطبيعة الحركات الباطنية للقشرة الأرضية وما تنج عنها من انكسارات والتواءات صلاحها بـ «بروز بعض المعادن» . في ضوء العبارة السابقة :

تعد أكثر الأقسام التضاريسية المصرية تنوعاً جيولوجياً


- Ⓐ شبه جزيرة سيناء والصحراء الشرقية .
Ⓑ الصحراء الشرقية والغربية .
Ⓒ وادى النيل ودلتاه .
Ⓓ الصحراء الغربية وشبه جزيرة سيناء .

٧ أي مما يلي يعد العامل الأساسي في

التغيير الذى حدث في الشكل البياني

المقابل ؟

- Ⓐ عامل الهجرة .
Ⓑ السياسات الحكومية .
Ⓒ جودة التربة .
Ⓓ كمية المياه .



تطور أعداد العاملين بالزراعة في مصر

٨ تتشابه سواحل البحر الأحمر والبحر المتوسط في وجود

- Ⓐ مناطق إنتاج الغاز الطبيعي وملح الطعام .
Ⓑ مناطق استخراج البترول والجبس .
Ⓒ رمال الزجاج وحقول البترول .
Ⓓ حقول الفحم والغاز الطبيعي .

ب أسئلة مقالية :

٩ «تؤثر بعض الأنشطة الاقتصادية سلباً على الزراعة المصرية» . دلل على صحة العبارة السابقة.

١٠ فسر : تواجه الصناعة في مصر عدة معوقات ذات بُعد اجتماعى .

الامتحان الثانى

١ اختر الإجابة الصحيحة من بين البدائل التالية :

٢ أكثر المحاصيل الزراعية تأثيماً على الأمن المائى لمصر محصول

- Ⓐ القمح .
Ⓑ البنجر .
Ⓒ الذرة .
Ⓓ الأرز .

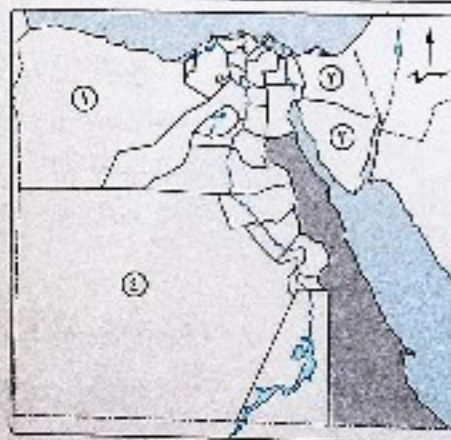
٣ بدراسة الخريطة المقابلة . نجد أن المحافظة

الموضحة باللون [] تفتقر لقومات

الزراعة الطبيعية وأكثر المحافظات تشابهاً

معها في ذلك هي التى تحمل

- Ⓐ رقم ١ .
Ⓑ رقم ٢ .
Ⓒ رقم ٣ .
Ⓓ رقم ٤ .




٤ من وجهة نظرك أى المحافظات التالية تعد الأكثر احتياجاً لإقامة مصانع الأسمدة بها ؟

- Ⓐ قنا .
Ⓑ الغربية .
Ⓒ القليوبية .
Ⓓ المنيا .

أسئلة استرشادية

(من الكتاب المدرسي)



٤ أي من المحافظات التالية أصبحت الدولة المصرية أكثر احتياجاً لثرواتها المعدنية بعد تطبيق سياسة الري الدائم؟
 ① قنا. ② القاهرة. ③ الوادي الجديد. ④ الإسكندرية.

٥ المعادن التي تحتاج إلى تغيير في استراتيجية التعامل الحكومي معها لزيادة الدخل القومي للبلاد هي.....
 ① المنجنيز ورمال الزجاج. ② الحديد ولفوسفات. ③ ملح الطعام والذهب. ④ الجبس والرخام.



٦ من خلال تحليلك للخريطة المقابلة يمكن أن نجد تشابهاً بين الساحل الشمالي الغربي والساحل الشمالي الشرقي بالأراضي المصرية في.....
 ① نوع التربة ومصدر المياه.
 ② مصدر المياه وإجمالي المساحة المزروعة.
 ③ إجمالي المساحة المزروعة وتعدد مشروعات الري.
 ④ حجم الإنتاج ونوع التربة.

٧ يُعد من مشروعات الري التي تُخدم محافظة سوهاج.....
 ① ترعة أصفون. ② قناطر إسنا. ③ قناطر زفتى. ④ ترعة الجرجاوية.



٨ أي من المحاصيل الزراعية الآتية يصعب زراعته في المحافظة الموضحة باللون [اللون الأخضر] بالخريطة المقابلة؟
 ① القمح.
 ② بنجر السكر.
 ③ قصب السكر.
 ④ الأرز.

ب أسئلة مقالية:


٩ «تواجه الدولة العديد من العقبات التي تقف أمام التنمية الزراعية». في ضوء العبارة السابقة، حدد: أهم طرق التوسع الرأسي لمواجهة هذه العقبات.

١٠ وضح: كيف يمكن تحقيق التنمية بشكل أفقى في مجال إنتاج الثروة المعدنية.

أسئلة استرشادية

(من الكتاب المدرسي)

1. يتميز الهرم السكاني الذي أمامك بارتفاع معدل
- الإعالة.
 - البطالة.
 - المواليد.
 - الإناث.



2. تعتمد الزراعة في محافظة قنا على مياه ترعة
- الجرجاوية.
 - السوهاجية.
 - أصفون.
 - الإبراهيمية.



3. أكثر المحافظات إنتاجاً لمعدن الفوسفات محافظة
- الجيزة.
 - مطروح.
 - شمال سيناء.
 - الوادي الجديد.

4. أكثر الصناعات انتشاراً في الوادي والدلتا هي
- صناعة المنسوجات.
 - الصناعات الخشبية.
 - الصناعات المعدنية.
 - الصناعات الزجاجية.

5. إذا كنت من سكان وادي النيل وأردت العمل في التعدين والسياحة فإنك تتجه مع التيار
- رقم 1
 - رقم 2
 - رقم 3
 - رقم 4



6. تُعد منطقة جنوب الوادي مصدر للجذب السياحي بسبب توافر
- السياحة العلاجية.
 - التراث الحضاري.
 - السباحة الشاطئية.
 - التنوع الاجتماعي.

7. توظيف القدرات العلمية يؤدي إلى
- هجرة العقول.
 - تحقيق التنمية الاقتصادية.
 - الفضاء على العشوائيات.
 - ارتفاع معدل الإعالة.



8. أشهر الطرق النهرية التي تستخدم للربط بين وسط الوادي وشماله ترعة
- الإسماعيلية.
 - السوهاجية.
 - النوبارية.
 - الإبراهيمية.
9. ترتبط مشكنة البطالة ارتباطاً وثيقاً ب
- هجرة العقول.
 - محو الأمية.
 - معدل الإعالة.
 - ظهور العشوائيات.
10. تعتمد الزراعة في بعض الأماكن بمحافظة مطروح على
- نهر النيل.
 - تحلية مياه البحر.
 - الأمطار الشتوية.
 - ترعة النوبارية.
11. أهم المناطق التي استغلت في استخراج المعادن منذ العصر الفرعوني وحتى الآن هي
- الصحراء الشرقية.
 - شمال الدلتا.
 - الساحل الشمالي.
 - الصحراء الغربية.

12. من خلال دراستك للخريطة المقابلة، نجد أن أكثر الصناعات انتشاراً في محافظات مصر هي
- صناعة مواد البناء.
 - صناعة الغزل والنسيج.
 - صناعة الزجاج.
 - الصناعات الغذائية.



13. أترفتبت الملكية الزراعية على سكان الدلتا من حيث
- زيادة العمالة.
 - قلة البطالة.
 - زيادة الهجرة.
 - قلة الفقر.

14. المجتمع الذي يتميز بضعف العلاقات وقلة التلاحم بين سكانه هم سكان
- الحضر.
 - الريف.
 - البدو.
 - السواحل.

15. تزداد الحاجة إلى المصارف الزراعية إذا كانت التربة
- خفيفة.
 - متوسطة.
 - ثقيلة.
 - رملية.

16. أفضل الأماكن التي يمكن استصلاح أراضي بها بحفر آبار جوفية
- الصحراء الشرقية.
 - الصحراء الغربية.
 - جنوب سيناء.
 - شمال الدلتا.

17. يتجه السياح شتاءً للاستمتاع بالآثار التاريخية
- جنوب الوادي.
 - وسط الدلتا.
 - الساحل الشمالي.
 - الساحل الشرقي.

18. محافظة يخرج منها السكان مهاجرين رغم أنها محافظة سياحية وصناعية
- قنا.
 - سوهاج.
 - أسيوط.
 - أسوان.

19. أثرت أزمة مياه النيل سلباً في زراعة محصول
- القمح.
 - الذرة.
 - الشعير.
 - الأرز.



٣٠ «أثرت البيئة الطبيعية في توزيع سكان مصر بصفة عامة»
في ضوء العبارة السابقة، حدد: المشكلات المترتبة على ذلك التوزيع في محافظتك.

٣١ دال على صحة العبارة: الموقع الجغرافي من مقومات الجذب السياحي في مصر.

٣٢ «الديون من أهم التحديات التي تواجه الاقتصاد المصري». استنتج أسباب هذه المشكلة.

٣٣ «تمتع شبه جزيرة سيناء بأهمية اقتصادية كبيرة لتعدد الموارد الاقتصادية بها».

في ضوء العبارة السابقة: استنتج: أهم الصناعات التي يمكن أن تقوم بها.

٣٤ أمامك صورة توضح شكل الهجرة غير الشرعية.

في ضوء ذلك، اقترح:

حلولاً لهذه المشكلة.



٣٥ «تبذل الدولة جهوداً كبيرة في تنمية الثروات والموارد المعدنية». في ضوء العبارة السابقة،

ضع رؤية مستقبلية لأهم الأساليب العلمية المتقدمة في التنقيب عن هذه الثروات.

٣٦ «التوسع الصناعي في مصر سبيلها لحل مشكلة العجز في الميزان التجاري». وضح المقصود من العبارة.

٣٧ ماذا يحدث إذا: كانت معدلات التنمية في مصر متناسبة لعدد السكان؟

٣٨ كيف يمكن الاستفادة من: انتقال النهرى في السياحة بمصر؟

٣٩ وضح وجه الشبه بين: محافظتي القليوبية، وأسوان من حيث الخصائص الاقتصادية.

٤٠ وضح العلاقة بين كل من: الإحصاءات السكانية، وخفض معدلات الزيادة الطبيعية.

٤١ «الاستثمارات الاقتصادية والبطالة وجهاً لعملة واحدة».

في ضوء العبارة السابقة، وضح: أثر هذه العلاقة سلباً أو إيجاباً على المشكلة السكانية في مصر.

٤٢ ما مقترحانك من أجل: نجاح مصر في جذب المستثمرين العرب في شتى المجالات الاقتصادية؟

٤٣ من وجهة نظرك كيف: يمكن تنمية الثروة الحيوانية في مصر؟

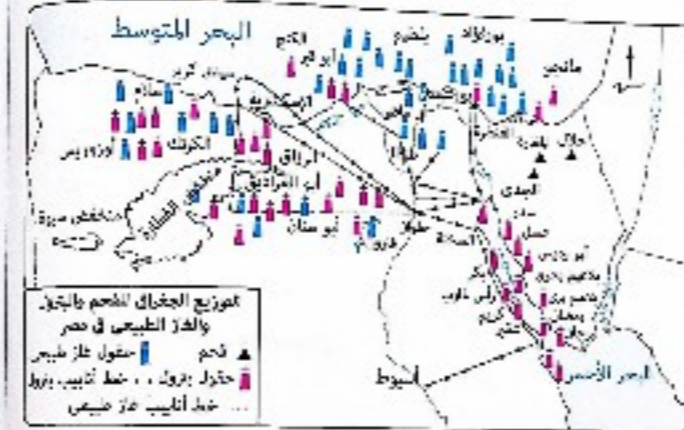
٤٤ «الزحف العمراني من المشكلات التي تهدد الأمن الغذائي في مصر». حدد دورك كمواطن لمواجهة المشكلة.

٤٥ «اتجهت مصر في الفترة الأخيرة للاهتمام بطرق النقل والمواصلات».

في ضوء العبارة السابقة، ما العلاقة بين: النقل والمواصلات، والتنمية الاقتصادية؟

٢٠ قصب السكر محصول تجود زراعته في الثرية
① الخفيفة. ② الطامبية. ③ الصفراء. ④ الرملية.

٢١ أهم المحافظات إنتاجاً للحديد هي
① البحيرة. ② الفيوم. ③ الجيزة. ④ مطروح.



٢٢ من خلال دراستك للخريطة الثانية

نجد أن البترول ينقل من منطقة خليج السويس لشركير والتصدير إلى

① القاهرة.

② أسبوط.

③ الساحل الشرقى.

④ الساحل الشمالى.

٢٣ ما العلاقة بين: الزيادة السكانية، والمحاصيل النقدية؟

٢٤ ماذا يحدث إذا: استطاعت مصر تحقيق سوق مشتركة مع الدول العربية؟

٢٥ دال مع ذكر أمثلة على صحة العبارة الآتية: تتمثل جميع أنظمة الري في الصحراء الغربية.

٢٦ «تمثل العمالة الزراعية في مصر نسبة كبيرة من سكانها لكنها أخذت في التناقص».

استنتج: العوامل التي أدت إلى تناقص العمالة الزراعية.

٢٧ حدد أوجه الاختلاف بين: الأنشطة البشرية شمال سيناء، والأنشطة البشرية جنوب سيناء.

٢٨ «يمثل إقليم مريوط مجالاً واسعاً للتنمية الاقتصادية». حلل هذه العبارة جغرافياً.

٢٩ الشكل البياني الذى أمامك

يوضح التركز السكاني.

اقترح حلولاً لهذه المشكلة.



ملزمة. كوم

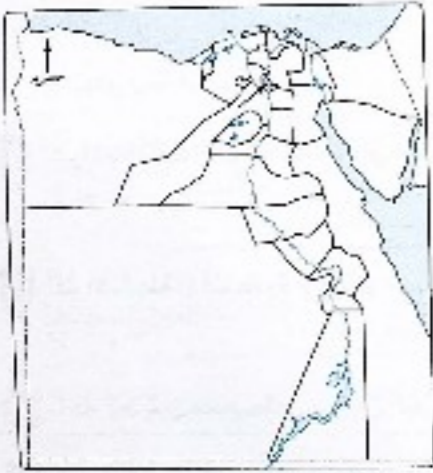
الاختبار الأول

فهم • تطبيق • تحليل • تقويم • ابتكار

اختر الإجابة الصحيحة من بين البدائل التالية :

- ١ تتعرض الموارد الاقتصادية المتاحة في بعض محافظات مصر لضغط شديد بسبب
- ① التركيب النوعي للسكان.
② ارتفاع معدلات الإعالة.
③ الكثافة الحقيقية للسكان.
④ الكثافة العامة للسكان.

- ٢ أي من المدن المصرية الآتية تتسم بالتربة الرملية وتعتمد الزراعة فيها على مياه الأمطار؟
- ① الخارجة.
② مرسى مطروح.
③ طنطا.
④ البياويط.



- ٣ يعود عامل جذب المحافظة المظللة والمشار إليها في الخريطة المقابلة لسكان إلى قريبا من محافظة
- ① القاهرة.
② الإسكندرية.
③ المنوفية.
④ الشرقية.

- ٤ أكثر الأنشطة الاقتصادية الملائمة لمنطقة شمال الدلتا
- ① الرعي.
② الصناعة.
③ السياحة.
④ الإنتاج السمكي.

- ٥ تدل زيادة نسبة التلاميذ في التعليم الأساسي على ارتفاع نسبة
- ① العشوائيات.
② الإعالة.
③ البطالة.
④ الفقر.


- ٦ أي من وسائل النقل الآتية أكثر مناسبة لنقل خام الحديد من مناطق إنتاجه إلى مناطق تصنيعه؟
- ① السيارات.
② الشاحنات.
③ السفن النهرية.
④ السكك الحديدية.

- ٧ يؤدي توظيف القدرات العلمية إلى
- ① هجرة العقول المفكرة.
② تحقيق التنمية.
③ القضاء على العشوائيات.
④ ارتفاع معدل الإعالة.

- ٨ يسهم تداول المعلومات الاقتصادية مع المؤسسات العلمية في
- ① زيادة اتبادل التجاري.
② حل مشكلة الديون الخارجية.
③ حل مشكلات العمالة بالخارج.
④ الاهتمام بالتعليم ومحو الأمية.

اختبارات كتاب الامتحان

(طبقاً لمواصفات الورقة الامتحانية)



للتدريب على حل اختبارات إضافية إلكترونياً استخدم

QR Code



عن طريق تطبيق

تنويه

قم باستخدام QR في حالة حدوث أي تغييرات قد تطأ على مواصفات الورقة الامتحانية.

الاختبار الثاني

مهم • تطبيق • تحليل • تقويم • ابتكار

1 اختر الإجابة الصحيحة من بين البدائل التالية :

1 الصورة التي أمامك لمدرسة فنية والاهتمام بها

يؤدي إلى

- التوسع في برامج محو الأمية.
- دعم المشروعات الصغيرة.
- ارتفاع معدل التعليم أقل من المتوسط.
- الحد من هجرة العقول المفكرة.



2 يعيش الأغلبية العظمى من السكان بمصر في محافظات

- الوجه القبلي والقناة.
- الوجه البحري والحدود.
- الحدود والقناة.
- الوجه البحري والوجه القبلي.

3 تأتي واردات مصر من دول شرق أوروبا عبر ميناء

- الإسكندرية.
- الزعفرانة.
- السويس.
- العين السخنة.

4 «تعد مدينة السادس من أكتوبر إحدى المناطق الصناعية المهمة بمصر».

من المتوقع أن يكون أحد أسباب اختيار موقعها هو

- القرب من السكك الحديدية.
- القرب من الموانئ النهرية.
- القرب من مناطق الاستهلاك.
- القرب من مناطق التعدين.

5 توجد علاقة عكسية بين الزيادة السكانية وإنتاج محصول

- «قطن».
- الأرز.
- بنجر السكر.
- قصب السكر.

6 من أكثر العوامل المؤثرة في اجتذاب السكان إلى مدينة بورفؤاد

- التربة الخصبة.
- وفرة الأنشطة الصناعية.
- طرق النقل والمواصلات.
- التضاريس.

7 تعمل الهجرة الداخلية في الدولة على

- زيادة أعداد السكان.
- زيادة معدل المواليد.
- تحقيق فائض في الميزان التجاري.
- إعادة توزيع السكان.

8 من أهم المؤشرات المؤثرة في التنمية الاقتصادية لمصر

- الكثافة العامة.
- التركيب النوعي.
- التركيب العمري.
- نسبة الإناث.

مهم • تطبيق • تحليل • تقويم • ابتكار

9 يقوم النشاط التعديني في المناطق المظللة بالخريطة التي

أمامك على إنتاج

- الحديد.
- الغاز الطبيعي.
- الفحم.
- البتروئ.



10 يمكن التوسع في إنتاج القمح في مصر عن طريق

- الاعتماد على الأبحاث العلمية.
- تحسين الصرف الزراعي.
- توفير بيئة مدارية لزراعته.
- زيادة العمالة الزراعية.

11 أكبر المحافظات الآتية جذباً لخريجي السياحة والفنادق محافظة

- الإسماعيلية.
- بورسعيد.
- الفيوم.
- جنوب سيناء.

12 أكثر الأنشطة الاقتصادية أهمية في مدينتي مرسى مطروح وأسوان هو

- الزراعة.
- السياحة.
- الصناعة.
- التعدين.

ب اختر إجابتين صحيحتين من بين البدائل التالية :

13 العامل الرئيسي في صعوبة استغلال خامات الحديد المغناطيسية بمصر

- قلة مصانع الحديد.
- كفاية الإنتاج من باقي المناجم.
- الموقع الجغرافي.
- مظاهر السطح.
- التطرف المناخي.

ج أسئلة مقالية :

14 «كان حضر قناة السويس نقطة تحول بالنسبة لتوزيع سكان المنطقة التي تمر بها».

ماذا تتوقع في المستقبل لنفس المنطقة بعد افتتاح قناة السويس الجديدة ؟

15 في رأيك كيف :

يمكن القضاء على المشكلات التي تواجه المحافظات الطاردة للسكان ؟

16 ماذا يحدث إذا :

استمرت الزيادة في معدلات البطالة بين الشباب ؟

الاختبار الثالث

فهم • تطبيق • تحليل • تقويم • ابتكار

اختر الإجابة الصحيحة من بين البدائل التالية :

١. يُعد من الأبعاد الاقتصادية للمشكلة السكانية في مصر

- (أ) ارتفاع نسبة الأمية. (ب) انتشار العشوائيات.
(ج) ارتفاع نسبة الإعالة. (د) الفجوة بين الإنتاج والاستهلاك.

٢. يمكن التحكم على الأداء الاقتصادي للدولة من خلال

- (أ) حجم الواردات. (ب) التجارة الداخلية. (ج) التجارة الخارجية. (د) حجم الصادرات.

٣. يمثل أحد مصادر الدخل التي تساهم في تعديل الميزان التجاري بمصر


- (أ) المنجنيز. (ب) الفحم. (ج) الملح. (د) الحديد.

٤. في ضوء الهرم السكاني المقابل، إذا

زادت الفئة العمرية رقم (٧) فإن ذلك

سوف يؤدي إلى

- (أ) ارتفاع معدل الإعالة.
(ب) وصول مصر لمرحلة الاستقرار السكاني.
(ج) قلة المتطلبات الحياتية.
(د) تحقيق التنمية المطلوبة.



الهرم السكاني لمصر عام ٢٠١٧ م.

٥. من المقومات الطبيعية للسياحة في محافظة الوادي الجديد

- (أ) المناخ. (ب) الأودية الجافة. (ج) الكثبان الرملية. (د) الموقع الجغرافي.

٦. تتشابه كل من محافظتي كفر الشيخ وأسوان في

- (أ) ارتفاع نسبة الذكور عن الإناث.
(ب) انخفاض نسبة الذكور عن الإناث.
(ج) وفرة فرص العمل.
(د) ارتفاع مستوى المعيشة.

٧. أدى الاهتمام بمد خطوط النقل والمواصلات في مدينة القططرة إلى

- (أ) زيادة أعداد العمالة الزراعية.
(ب) زيادة النشاط السياحي.
(ج) انتشار العشوائيات.
(د) إعادة توزيع السكان.



٨. تختلف المنطقتان (١) و (٢) في نوع التربة، ولكن

يتشابهان في إنتاج محصول

- (أ) الفصح.
(ب) القطن.
(ج) الأرز.
(د) بنجر السكر.



فهم • تطبيق • تحليل • تقويم • ابتكار

٩. من الأنشطة الاقتصادية التي تتميز بها المدينة المشار

إليها بالخريطة المقابلة

- (أ) الصناعة.
(ب) السياحة.
(ج) التعدين.
(د) الزراعة.

١٠. تعتمد الأراضي الزراعية بمحافظة سوهاج على نهر النيل وترعة

- (أ) أصقون. (ب) الجرجاوية. (ج) النوبارية. (د) الإبراهيمية.

١١. أكثر ما يميز إقليم مريوط وجود

- (أ) الشعب المرجانية. (ب) الأودية الجافة. (ج) العيون الكبريتية. (د) القرى السياحية.

١٢. تتسم المدينة التي تقع على رأس خليج السويس بوجود

- (أ) صناعة الغزل والنسيج.
(ب) الصناعات الكيماوية والبتروولية.
(ج) صناعة الأخشاب.
(د) الصناعات المعدنية.

ب. اختر إجابتين صحيحتين من بين البدائل التالية :

١٣. الصورة التي أمامك تدعم

- (أ) السياحة التاريخية.
(ب) سياحة السفاري.
(ج) السياحة البيئية.
(د) السياحة الدينية.
(هـ) السياحة العلاجية.



صحراء البيضاء البيضاء.

ج. أسئلة مقالية :

١٤. «لدراسة وضع التجارة الخارجية لبحرأهمية كبيرة». فسرد ذلك.

١٥. من خلال دراستك استنتج: تأثير الهجرة الداخلية على منطقة الدلتا.

١٦. ما توقعاتك تجاه :

استفادة الدول العربية من تجارة الاتحاد الأوروبي في تكوين كتلة اقتصادي ٩

الاختبار الرابع

مهم • تفكير • تحليل • تقويم • ابتكار

اختر الإجابة الصحيحة من بين البدائل التالية :

١ يحتل الوطن العربي المركز الأخير في قائمة الدول المصدرة لمصر وذلك بسبب

- ١ تصدير الدول العربية لخاماتها إلى الدول الأوروبية. (⊖) استهلاك الدول العربية لمنتجاتها محلياً. (⊕)
٢ رفع الجمارك على منتجات الدول العربية. (⊕) عدم وجود رؤية استراتيجية عربية موحدة. (⊖)



٢ القاهرة التضاريسية المشار إليها على الخريطة التي أمامك

تعد منطقة جذب سياحي حيث يوجد بها

- ١ معبد هيبس. (⊖)
٢ مقبرة شندي. (⊕)
٣ آثار الأشموين. (⊖)
٤ عين السيليين. (⊕)

٣ من أوجه التشابه بين محافظتي الجيزة والمنيا

- ١ معدل الكثافة السكانية. (⊕) معدل البطالة. (⊖)
٢ ممارسة النشاط السياحي. (⊕) وجود عوامل الطرد السكاني. (⊖)



٤ الصورة التي أمامك توضح مشكلة توجد في محافظة القاهرة والتي

نتجت عن

- ١ زيادة المتطلبات الحياتية والاجتماعية. (⊕)
٢ الهجرة الداخلية. (⊖)
٣ ارتفاع نسبة الأمية. (⊖)
٤ زيادة البطالة بين النساء. (⊖)

٥ يُعد العامل المُستول عن مستوى الكثافة السكانية في محافظة مطروح هو

- ١ المساحة. (⊕) المناخ. (⊖) التضاريس. (⊖) الموارد. (⊕)

٦ توجد أهم حقول إنتاج الغاز الطبيعي بمصر في

- ١ الشمال الشرقي. (⊕) الجنوب. (⊖) الجنوب الشرقي. (⊖) الشمال. (⊖)

مهم • تفكير • تحليل • تقويم • ابتكار

٩ من الأسباب التي جعلت منطقة سيدى عبدالرحمن منطقة سياحية وجود

- ١ الشعاب المرجانية. (⊕) بيئة صحراوية. (⊖) مناخ معتدل. (⊕) نقل جوي داخلي. (⊖)

١٠ أكثر الصناعات انتشاراً في مصر الصناعات

- ١ الكيماوية والبتروولية. (⊕) الغذائية. (⊖)
٢ الهندسية والكهربائية. (⊕) المعدنية. (⊖)

١١ أشهر الطرق النهرية التي تستخدم للربط بين وسط الوادي وشماله ترعة

- ١ الإبراهيمية. (⊕) السوحاجية. (⊖) أصفون. (⊕) الجرجاوية. (⊖)

١٢ يعتبر من الآثار الإيجابية لمشروع السد العالي

- ١ استخدام المخضبات الكيماوية. (⊕) زيادة أعداد المصارف. (⊖)
٢ زيادة المساحة الزراعية. (⊕) الاكتفاء المحلي من القمح. (⊖)

ب اختر إجابتين صحيحتين من بين البدائل التالية :

- ١٣ يؤثر عامل التضاريس في ندرة عدد سكان محافظتي
- ١ البحر الأحمر. (⊕) الوادي الجديد. (⊖) مطروح. (⊕)
٢ شمال سيناء. (⊖) جنوب سيناء. (⊕)

ج أسئلة مقالية :

١٤ أمامك صورة توضح شكل من أشكال الهجرة غير الشرعية. في ضوء ذلك، اقترح حلولاً لهذه المشكلة.




١٥ حدد مصداقية العبارة الآتية :

أثرت الحالة السياسية في النصف الثاني من القرن العشرين في توزيع السكان في مصر.

١٦ من خلال دراستك للرسم البياني المقابل، استنتج :

أسباب الفجوة بين الإنتاج الحيواني والاستهلاك.

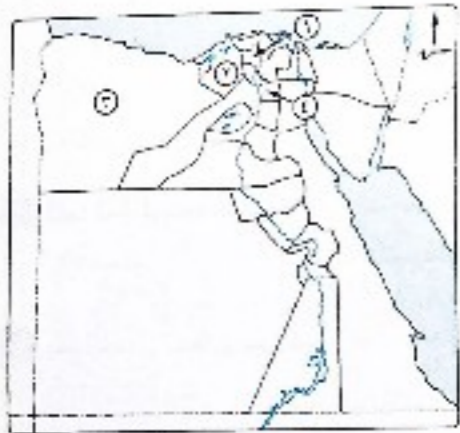


ملزمة. كوم

الاختبار الخامس

فهم • تطوير • تحليل • تقويم • ابتكار

اختر الإجابة الصحيحة من بين البدائل التالية :



١ في ضوء دراستك لخريطة المقابلة، تُعد أنسب منطقة لتحقيق تنمية إقليمية من أجل حل المشكلة السكانية

- المنطقة (١)
- المنطقة (٢)
- المنطقة (٣)
- المنطقة (٤)

٢ ساهم نهر النيل في تكوين التربة العينية الخصبة خاصة في محافظة

- أسيوط. (١)
- السويس. (٢)
- شمال سيناء. (٣)
- مطروح. (٤)

٣ يُعد السبب الرئيسي لتوطن صناعة السكر في مصر

- السياسة الحكومية. (١)
- رأس المال. (٢)
- المادة الخام. (٣)
- وسائل النقل. (٤)

٤ تُعد أكثر المناطق المصرية تنوعاً في مصادر الطاقة الحفوية

- الصحراء الشرقية. (١)
- شبه جزيرة سيناء. (٢)
- الوادي والدلتا. (٣)
- الصحراء الغربية. (٤)

٥ من الترع التي يمكن استخدامها في النقل النهري بالوجه القبلي

- المحمودية. (١)
- الإسماعيلية. (٢)
- النوبارية. (٣)
- الإبراهيمية. (٤)

٦ تؤدي الزيادة غير الطبيعية إلى تغيير حجم سكان الدولة من خلال

- الهجرة الداخلية. (١)
- الهجرة الخارجية. (٢)
- ارتفاع معدل المواليد. (٣)
- ارتفاع معدل الوفيات. (٤)


٧ يُعتبر أحد أبعاد المشكلة السكانية بمصر

- بطء النمو الاقتصادي. (١)
- زيادة فئة الملتحقين بالتعليم الفني. (٢)
- عدم وجود تشريعات كافية لردع الإدمان. (٣)
- عدم وجود خطط تنمية مستقبلية. (٤)

فهم • تطوير • تحليل • تقويم • ابتكار

٧ يتمثل وجه الشبه بين محافظتي الأقصر وبني سويف في

- تجانس التربة الزراعية. (١)
- افتقار تربتهما للمادة العضوية. (٢)
- قيام الزراعة بهما على مياه الأمطار. (٣)
- زراعة الأرز والقطن بهما. (٤)



٨ من خلال دراستك للشكل المقابل:

فإن تلك الدولة تعاني من

- ارتفاع نسبة كبار السن. (١)
- ارتفاع معدلات النمو السكاني. (٢)
- انخفاض نسبة الفئة المنتجة. (٣)
- قلة فرص العمل. (٤)

٩ يتم تصدير المنجنيز عن طريق ميناء

- القصور. (١)
- العين السخنة. (٢)
- نويبع. (٣)
- سقاجا. (٤)

١٠ تعمل مصر على خفض معدل المواليد ولكن هذا لم يحدث بالسرعة المطلوبة نتيجة

- ارتفاع معدلات الأمية. (١)
- انخفاض معدلات النمو السكاني. (٢)
- قلة الرعاية الصحية. (٣)
- انتشار الأمراض والأوبئة. (٤)

١١ تستثمر محافظة الفيوم الجزء الشمالي الغربي منها في استخراج

- الحديد. (١)
- الرخام. (٢)
- ملح الطعام. (٣)
- الجبس. (٤)

١٢ تصل المياه إلى ترعة الإسماعيلية بواسطة

- قناطر إستا. (١)
- قناطر أسيوط. (٢)
- قناطر إدفينا. (٣)
- القناطر الخيرية. (٤)

ب اختر إجابتين صحيحتين من بين البدائل التالية :

١٣ نتج عن النمو السكاني السريع في مصر

- زيادة القدرة الإنتاجية بالمجتمع. (١)
- تأثر الأراضي الزراعية سلباً. (٢)
- زيادة نسبة الإعاقة. (٣)
- زيادة القوة الشرائية. (٤)
- توازن التركيب النوعي. (٥)

➔ أسئلة مقالية :

١٤ دلل جغرافياً على صحة العبارة الآتية : لعب نهر النيل دوراً بارزاً في توزيع السكان في مصر.

١٥ استنتج : أسباب وجود نشاط سياحي في الصحراء الشرقية رغم صعوبة التضاريس.

١٦ من وجهة نظرك : كيف يمكن أن يصبح رأس المال المتداول أحد معوقات الصناعة في مصر؟

الاختبار السادس

فهم • تطبيق • تحليل • تقويم • ابتكار

اختر الإجابة الصحيحة من بين البدائل التالية :

١ تؤثر قلة المواد العضوية بالتربة على تنوع المحاصيل الزراعية في محافظة
 (أ) المنوفية. (ب) الغربية. (ج) الدقهلية. (د) مطروح.

٢ أى مما يلى يساهم بشكل أكبر في الحد من الزيادة السكانية الطبيعية في مصر؟

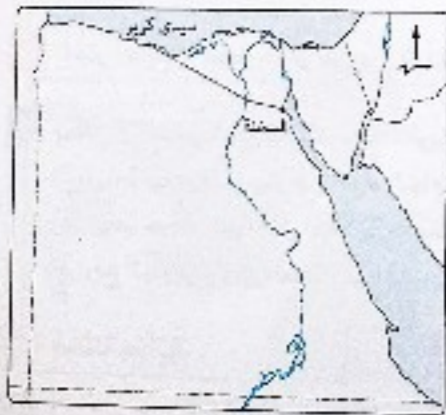


٣ أكثر العوامل جذبًا للسياحة بمحافظة الأقصر وأسوان

(أ) المناخ. (ب) التراث الحضارى. (ج) الموقع الجغرافى. (د) البيئة الطبيعية.

٤ تركز نسبة كبيرة من سكان مصر بمنطقة القاهرة الكبرى بسبب

(أ) المناخ المعتدل. (ب) الظروف السياسية والعسكرية. (ج) الأنشطة الاقتصادية. (د) مظاهر السطح.



٥ يمثل الخط المرسوم في الخريطة

التي أمامك

(أ) خط أنابيب بترول. (ب) أحد مشروعات الري. (ج) خط نقل غاز طبيعى. (د) خط سكة حديد.

٦ يتم صرف المياه الزائدة من الأراضي الزراعية التابعة لمحافظة الشرقية عن طريق مصرف

(أ) إيناسى البارود. (ب) زفتى. (ج) بحر البقر. (د) بحيرة قارون.

٧ المشاركة المجتمعية أحد الحلول لمشكلة

(أ) الهجرة. (ب) تفتت الملكية الزراعية. (ج) الإعالة. (د) الأمية.

فهم • تطبيق • تحليل • تقويم • ابتكار

٨ بدراستك للجدول التالى أمامك نجد أن:

أعلى المحافظات كثافة سكانية

(أ) الدقهلية. (ب) الشرقية. (ج) المنيا. (د) الغربية.

المصدر : الجهاز المركزى للتعبئة العامة والإحصاء، أبريل ٢٠١٦م

٩ للمنطقة الواقعة شرق الواحات الداخلة أهمية اقتصادية نتيجة لوجود خام

(أ) المنجنيز. (ب) نفوسفات. (ج) الحديد. (د) الذهب.

١٠ يتم التبادل التجارى بين مصر ودول الاتحاد الأوروبى عبر ميناء

(أ) الإسكندرية. (ب) نوريح. (ج) سفاجا. (د) الزعفرانة.

١١ نقص العمالة الزراعية مشكلة تعاني منها محافظة

(أ) شمال سيناء. (ب) الإسكندرية. (ج) سوهاج. (د) جنوب سيناء.

١٢ يُعد أحد المعالم السياحية الواقعة ضمن المناخ الدافئ شتاءً

(أ) دير سانت كاترين بجنوب سيناء. (ب) معبد هيبس بالخارجة. (ج) مقبرة شندى بالداخلة. (د) قلعة صلاح الدين بطابا.

ب اختر إجابتين صحيحتين من بين البدائل التالية :

١٣ أكثر العوامل تأثيرًا في تركز السكان بمحافظتى الغربية والمنوفية

(أ) وفرة المياه. (ب) جودة التربة. (ج) الأنشطة الصناعية. (د) طرق النقل والمواصلات. (هـ) اعتدال المناخ.

➔ أسئلة مقالية :

١٤ «توسعت مصر في ممارسة الزراعة المختلطة (أى ممارسة الزراعة وتربية الحيوان في آن واحد)»
 حدد تقييمك للعبارة السابقة.

١٥ استنتج : الأسباب التي جعلت منطقة جبل علبه تصنف من مناطق الجذب السياحى في مصر.

١٦ «توجد علاقة عكسية بين الزيادة السكانية وإنتاج القطن في مصر». وضح ذلك.



شعاب مرجانية

٨ تمثل الصورة المقابلة أحد مقومات السياحة المتوفرة بمدينة

- ① الغردقة.
② الإسكندرية.
③ مرسى مطروح.
④ السويس.

٩ يُعد من الحقول التي تتنوع بها مصادر الطاقة

- ① مرجان. ② أبو الغراديق. ③ الزقازق. ④ أبي ماضي.

١٠ تتم عمليات التصدير والاستيراد بين مصر ودول شرق آسيا من خلال ميناء

- ① دمياط. ② بورسعيد. ③ الإسكندرية. ④ سفاجا.

١١ ينتج عن الهجرة الداخلية إلى محافظة البحر الأحمر ارتفاع

- ① نسبة الذكور عن الإناث. ② نسبة الإناث عن الذكور.
③ نسبة العمالة الزراعية. ④ معدل الزيادة الطبيعية.

١٢ ترتبط مشكلة البطالة في الوقت الحالي ارتباطًا وثيقًا بـ

- ① خطط التنمية المستقبلية. ② التركيب النوعي.
③ حجم الاستثمارات في الدولة. ④ تدهور المرافق.

ب اختر إجابتين صحيحتين من بين البدائل التالية :

١٣ يمكن أن تسهم الشراكة المصرية الأفريقية في

- ① زيادة صادرات مصر من المواد الخام.
② زيادة حركة التجارة في المطارات المصرية.
③ رفع الجمارك على الصادرات المصرية.
④ تنمية الموارد المائية لنهر النيل.

➔ أسئلة مقالية :

١٤ استنتج : أهمية معرفة الكثافة السكانية في مصر.

١٥ حدد مصداقية العبارة الآتية :

أثرت طبيعة التكوينات الجيولوجية على مدى تركيز السكان في شرق مصر.

١٦ «قامت الحكومة المصرية في الفترة الأخيرة بالتوسع في إنشاء المزارع السمكية مثل مزرعة عليون ومزرعة شرق التصريفة». حدد الأثر المتوقع من هذه المشروعات.

الاختبار السابع

فهم • تطبيق • تحليل • تقويم • ابتكار

١ اختر الإجابة الصحيحة من بين البدائل التالية :

١ أكثر العوامل تأثيرًا في جذب السياح لمنطقة خليج العقبة


① البيئة الطبيعية. ② التنوع الاجتماعي. ③ التراث الحضاري. ④ الموقع الجغرافي.

٢ إذا استطعنا تحقيق الاكتفاء الذاتي من المحاصيل الغذائية فإن ذلك يعنى

- ① توفير فرص عمل للشباب. ② ارتفاع معدلات التنمية.
③ تقليل من التصدير للخارج. ④ نقص نصيب الفرد من المياه العذبة.

٣ من المتوقع أن يكون تراجع المدفوعات المصرية لسد العجز الموضح

المدفوعات للمصرية
في العود كإيرادات سياحة



المصدر : الجهاز المركزي للتعبئة والإحصاء

بالرسم البياني المقابل سببه

- ① تراجع مساحة الأعلاف الزراعية.
② زيادة مساحة المراعي الطبيعية.
③ التوسع في إنتاج الثروة السمكية.
④ زيادة حجم الصادرات من اللحوم.

٤ يمكن استخدام النقل النهري للوصول إلى الفيوم عبر ترعة

- ① النوبارية. ② السوهاجية. ③ المحمودية. ④ بحر يوسف.

٥ تعاني البحيرة المشار إليها في الخريطة من

التلوث بسبب

- ① استخدامها كمصرف زراعي.
② انشاء المصانع للمخلفات السائلة فيها.
③ الزحف العمراني حولها.
④ استخراج البترول منها.



٦ يفضل سكان غرب الدلتا الهجرة إلى

- ① محافظات القناة. ② البحر الأحمر. ③ الإسكندرية. ④ جنوب سيناء.

٧ أى مما يأتي يعبر عن مرحلة الانفجار السكاني ؟

- ① ارتفاع معدل الوفيات وانخفاض معدل المواليد.
② انخفاض معدل الوفيات وانخفاض معدل المواليد.
③ ارتفاع معدل الوفيات وارتفاع معدل المواليد.
④ انخفاض معدل الوفيات وارتفاع معدل المواليد.

الاختبار الثامن

مفهوم • تطبيق • تحليل • تقويم • ابتكار

اختر الإجابة الصحيحة من بين البدائل التالية :

١. يعد أقرب المعالم الأثرية للحدود المصرية السودانية
- Ⓐ آثار نونا الجبل. Ⓑ معبد أبو سمبل. Ⓒ عين السيليين. Ⓓ معبد حتشيسوت.

٢. يعد من النتائج المترتبة على هجرة السكان من الريف إلى المدن
- Ⓐ انخفاض مستوى المعيشة بالريف. Ⓑ ارتفاع نسبة البطالة في الريف. Ⓒ فتهور المناطق غير المخططة عمرانياً. Ⓓ انخفاض نسبة الأمية.



٣. من خلال الخريطة المقابلة نجد أن الطريق البري الذي يربط بين مراكز البترول على الساحل الشرقي لخليج السويس هو

- Ⓐ العين السخنة - الزعفرانة. Ⓑ العريش - نخل. Ⓒ السويس - الغردقة. Ⓓ السويس - الطور.

٤. من المتوقع أن يؤدي انضمام مصر لمنظمة الكوميسا إلى

- Ⓐ تشجيع الاستثمارات في المجالات الصناعية. Ⓑ زيادة حجم صادرات المواد الخام. Ⓒ خفض الجمارك على واردات الصناعات الأجنبية. Ⓓ منافسة المنتجات المصرية للمنتجات العالمية.

٥. يتركز إنتاج الرصاص والزنك في محافظة

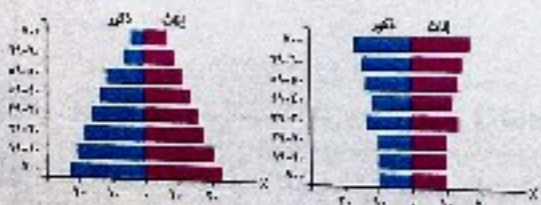
- Ⓐ مطروح. Ⓑ البحر الأحمر. Ⓒ الوادي الجديد. Ⓓ شمال سيناء.

٦. تعد قلة الوحدات السكنية أحد عوامل الطرد السكاني لمحافظة

- Ⓐ الدقهية. Ⓑ البحر الأحمر. Ⓒ الإسماعيلية. Ⓓ البحيرة.

٧. أمامك شكلين لهرمين سكانيين والذان يعبران عن

- Ⓐ ارتفاع معدل النمو السكاني. Ⓑ القدرة على تحقيق التنمية الاقتصادية. Ⓒ الوصول لمرحلة الاستقرار السكاني. Ⓓ زيادة المتطلبات الحياتية والاجتماعية.



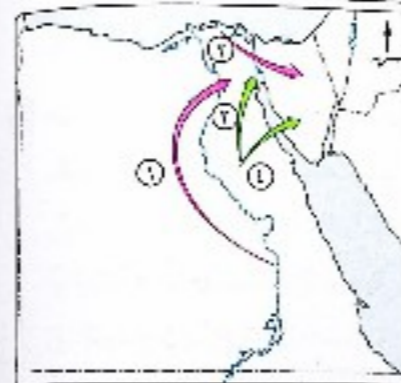
مفهوم • تطبيق • تحليل • تقويم • ابتكار

٨. «كان للانفتاح الاقتصادي الذي حدث في مصر بين عامي ١٩٧٥م - ١٩٨٥م أثر سلبي على الاقتصاد المصري».

- تتفق العبارة السابقة مع
- Ⓐ سياسات الإغراق التي تمارسها بعض الدول الخارجية. Ⓑ الاعتماد على الخارج في استيراد آلات التصنيع. Ⓒ منافسة المنتجات المحلية للصناعات العالمية. Ⓓ ضعف الأسواق المحلية بسبب التضخم.

٩. يظهر أثر المناخ واضحاً في ندرة الكثافة السكانية بمحافظة

Ⓐ شمال سيناء. Ⓑ مطروح. Ⓒ الوادي الجديد. Ⓓ الفيوم.



١٠. بملاحظة الخريطة التي أمامك، نجد أن تيار الهجرة المتجه إلى مناطق التعدين والسياحة معاً هو التيار

- Ⓐ رقم ١. Ⓑ رقم ٢. Ⓒ رقم ٣. Ⓓ رقم ٤.

١١. يظهر الخلل في توزيع سكان مصر واضحاً عند المقارنة بين سكان محافظتي

- Ⓐ انقاهرة ومطروح. Ⓑ القاهرة والجزيرة. Ⓒ مطروح والبحر الأحمر. Ⓓ البحر الأحمر والوادي الجديد.

١٢. يعتمد النشاط الزراعي بشكل أساسي على مياه الآبار والعيون في محافظة

- Ⓐ أسوان. Ⓑ جنوب سيناء. Ⓒ مطروح. Ⓓ الفيوم.

ب. اختر إجابتين صحيحتين من بين البدائل التالية :

١٣. تتشابه الإسكندرية والسويس بتفوقهما في الصناعات
- Ⓐ النسيجية. Ⓑ البترولية. Ⓒ المعدنية. Ⓓ الكهربائية. Ⓔ المعدنية.

ج. أسئلة مقالية :

١٤. ما رأيك في : التوسع في إنشاء ما توضحه الصورة المقابلة كأحد الحلول المقدمة للمشكلة السكانية ؟



١٥. «للجهاز المركزي للتعبئة العامة والإحصاء دور في مجالات التنمية». وضح ذلك.

١٦. حدد مدى مصداقية العبارة الآتية : تتأثر عملية التعدين بمظاهر السطح.

الاختبار التاسع

فهم • تطبيق • تحليل • تقويم • ابتكار

اختر الإجابة الصحيحة من بين البدائل التالية :

- ١ يُعد إنشاء الدولة لحي الأسمرات ومدينة نجيا مصر أحد جهود الدولة لمحاربة
- (أ) استخدام الأطفال كأيدي عاملة. (ب) تعشوائيات.
- (ج) الأمية ونقص التعليم. (د) البطالة.

- ٢ تتمثل أهم الصادرات المصرية في
- (أ) المواد الخام والسلع الاستهلاكية. (ب) السلع الغذائية والألات الحديثة.
- (ج) القمح والملابس الجاهزة. (د) الأجهزة المنزلية والزيوت النباتية.

- ٣ تحتل سيناء مكانة بارزة على خريطة السياحة في مصر بسبب عاملي
- (أ) التضاريس والمساحة. (ب) المناخ والموقع.
- (ج) التضاريس والمناخ. (د) المناخ والتضاريس.

- ٤ يتم تصدير مصادر الطاقة الحضرية إلى دول الاتحاد الأوروبي عبر ميناء
- (أ) سبدي كرير. (ب) نوبيع. (ج) دمياط. (د) السويس.



- ٥ من خلال دراستك : أي المحافظات الآتية يتجه منها تيارات الهجرة إلى المنطقة المظللة بالخريطة المقابلة ؟
- (أ) قنا. (ب) أسوان.
- (ج) أسيوط. (د) الفيوم.

- ٦ توجد علاقة طردية بين تحول مصر للري الدائم وزيادة
- (أ) العمالة الزراعية. (ب) محصول القمح. (ج) طغي النيل. (د) أعداد المصارف.

- ٧ من أهم الثروات الطبيعية المستغلة من منطقة ساحل البحر الأحمر
- (أ) البترول والفوسفات. (ب) الحديد وملح الطعام.
- (ج) انغاز طبيعي والجبس. (د) الذهب والكروم.

فهم • تطبيق • تحليل • تقويم • ابتكار

- ٨ يُعد من الأسباب التي جعلت ميناء الإسكندرية يتعامل مع أكثر من نصف تجارة مصر الخارجية
- (أ) تصديره للبترول المصري بكميات كبيرة. (ب) تعامله مع الدول الأوروبية كأكبر مصدر لمصر.
- (ج) تصديره للخامات المعدنية إلى دول شرق آسيا. (د) عبور ناقلات النفط من خلاله.



معدن دلتا

- ٩ تعبر الصورة التي أمامك عن أحد مقومات الجذب السياحي المتمثلة في
- (أ) البيئة الطبيعية. (ب) التنوع الاجتماعي.
- (ج) التراث الحضاري. (د) الموقع الجغرافي.

- ١٠ يرتبط وجود المراكز العمرانية في محافظة الوادي الجديد بـ
- (أ) المياه الجارية. (ب) المظهر التضاريسي. (ج) المناخ السائد. (د) تركيب الجيولوجي.



مدينة العاشر من رمضان

- ١١ تهدف المنطقة الصناعية التي أمامك إلى
- (أ) الحفاظ على الموارد البيئية. (ب) استيراد المادة الخام لصناعتها.
- (ج) خفض العجز في ميزان المدفوعات. (د) تصنيع آلات حديثة وتصديرها.

- ١٢ تتخلص محافظة البحيرة من مياه الصرف الزراعي عبر مصرف
- (أ) بحر القنطرة. (ب) إيشاي البارود. (ج) قارون. (د) زفتى.

اختر إجابتين صحيحتين من بين البدائل التالية :

- ١٣ يُعد من المحاصيل التي تمثل مصدرًا للعملة الصعبة وللدخل القومي في مصر
- (أ) القمح. (ب) الذرة. (ج) الأرز. (د) بنجر السكر. (هـ) القطن.

أسئلة مقالية :

- ١٤ « يشير الشكل المقابل إلى وجود أحد الأبعاد الرئيسية للمشكلة السكانية في مصر». وضح ذلك.



نسب الحالة السكانية في مصر عام ٢٠١٧

- ١٥ في رأيك وضح : أهم السمات التي يجب أن تتوفر في العاصمة الإدارية الجديدة حتى تصبح ضمن مناطق الجذب السكاني.
- ١٦ حدد تقييمك لمصادقية العبارة الآتية: ترتفع القيمة الاقتصادية لكافة مناجم الحديد بمصر.

الاختبار العاشر

فهم • تطبيق • تحليل • تقويم • ابتكار

اختر الإجابة الصحيحة من بين البدائل التالية :

1 تمثل الصورة المقابلة أحد جهود الدولة في مجال التنمية

الزراعية حيث تقوم بـ

- استصلاح هوامش الدلتا.
- استنباط سلالات زراعية جديدة.
- إدخال وسائل ري حديثة.
- دعم المزارعين بالأسمدة والأعلاف.



البنك الزراعي المصري
Agricultural Bank of Egypt

2 تكاد تقترب الكثافة العامة مع الكثافة الفعلية للسكان في محافظة

- الإسكندرية.
- جنوب سيناء.
- مطروح.
- البحر الأحمر.



3 من خلال دراستك للخريطة التي

أمامك تتشابه المحافظتين المظلتين

في وجود

- سياحة السفارى.
- سياحة العلاجية.
- السياحة التاريخية.
- سياحة المؤتمرات.

4 من المتوقع عند زيادة اهتمام الدولة بالتعليم الفنى حدوث

- زيادة الهجرة من الريف إلى المدن.
- ارتفاع نسبة الإمالة.
- زيادة فرص العمل.
- خفض نسبة المواليد.

5 يمكن لمصر والدول العربية الاستفادة من تجربة السوق الأوروبية المشتركة من خلال

- فصل السياسة عن التجارة.
- زيادة قيمة الواردات.
- استخدام رأس المال المتداول.
- تصدير المواد الخام.

6 لسد الفجوة الغذائية في مصر يجب اكتشاف سلالات جديدة من

- بنجر السكر.
- الشعير.
- الأرز.
- القمح.


7 تمثل أهمية دراسة الهجرة الداخلية في

- حساب الكثافة العامة.
- حساب الكثافة الحقيقية.
- وضع الخطط التنموية.
- توفير العمالة الزراعية في المحافظات الجاذبة.

8 تتركز مناجم الكروم بمصر في

- الصحراء الغربية.
- شبه جزيرة سيناء.
- الصحراء الشرقية.
- شمال الدلتا.

مليون نسمة



أعداد سكان مصر خلال بعض التعدادات والتقديرات

فهم • تطبيق • تحليل • تقويم • ابتكار

8 من خلال دراستك لتشكل البياني المقابل، نجد

أن أقل زيادة في أعداد السكان في مصر حدثت

خلال الفترة من

- عام 2006م إلى 2010م.
- عام 2010م إلى 2011م.
- عام 2011م إلى 2012م.
- عام 2012م إلى 2015م.

9 من خلال دراستك نستنتج أن أهم مناطق إنتاج الحديد الخام في مصر توجد بمحافظة

- الجيزة.
- البحر الأحمر.
- الوادي الجديد.
- مطروح.

10 اعتمدت أراضي محافظتي المنوفية وكفر الشيخ على الزراعة من المياه التي تصل إليها عبر

- قناطر إسنا.
- القناطر الخيرية.
- قناطر إدفينا.
- قناطر نجع حمادى.

11 إذا أردت القيام برحلة لممارسة سياحة المغامرات فإنت سوف تتجه إلى

- الساحل الشمالي.
- القاهرة الكبرى.
- الوحدات البحرية.
- الوجه القبلى.

12 أهم المحاصيل الزراعية التي تدخل في التجارة الخارجية لمصر

- قصب السكر.
- القمح.
- الذرة.
- الأرز.

ب اختر إجابتين صحيحتين من بين البدائل التالية :

13 تنتمى معظم المحافظات ذات الكثافة السكانية المنخفضة في مصر إلى

- الوادي.
- الصحراء الغربية.
- الصحراء الشرقية.
- الدلتا.
- شبه جزيرة سيناء.

ج أسئلة مقالية :

14 «يرى البعض أنه لكي يحدث توازن بين السكان والموارد الاقتصادية لا بد أن يكون معدل النمو الاقتصادي أكبر من معدل النمو السكاني». اقترح كيف يمكن تحقيق ذلك.

15 من وجهة نظرك : كيف يمكن تنمية القطاع السياحى في الوقت الحالى ؟

16 وضح : كيف يمكن التوفيق بين رؤية الدولة ورؤية المستثمرين لحل مشكلة الصناعة في مصر.

الاختبار الحادي عشر

فهم • تطبيق • تحليل • تقييم • ابتكار



اختر الإجابة الصحيحة من بين البدائل التالية :

- تهدف المبادرة الموضحة في الشعار المقابل إلى تنمية القرى الأكثر احتياجًا وتحقيق عدة أهداف يخرج عنها
- وقف تيارات الهجرة الداخلية.
 - زيادة دخل الاقتصاد المصري في النشاط الزراعي.
 - زيادة الوحدات السكنية.
 - تغيير حجم سكان الدولة.

تتم معظم التجارة الخارجية بين مصر ودول العالم عن طريق النقل

- الجوى.
- البحرى.
- البرى.
- النهرى.

أى المناطق السياحية الآتية توجد في المحافظة المظلة على الخريطة التى أمامك ؟



مقابر بني حسن.



معبد فيلة.



هرم ميدوم.



معبد حتشبسوت.

السبب الرئيسى لتناقص إنتاج القطن من عام لآخر هو

- التوسع الأفقى للزراعة.
- التوسع فى زراعة القمح.
- انخفاض إنتاجية الفدان.
- تجريف التربة.

يُعد من الثروات المعدنية التى تساعد فى دعم قطاعى الزراعة والصناعة فى مصر

- الفحم.
- الكروم.
- المنجنيز.
- الفوسفات.

يعتبر عجز الموازنة من التحديات التى تواجه الاقتصاد المصرى والذي يحدث نتيجة

- زيادة معدلات الاستيراد.
- انخفاض مستوى التقنيات.
- عدم الاستقرار السياسى.
- عودة العاملين من الدول العربية.

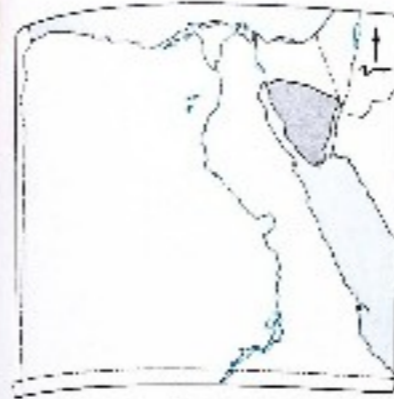
يُعد من الموانئ البحرية التى تقع على خليج العقبة

- نويبع.
- الزعفرانة.
- العردقة.
- العين السخنة.

«انخفاض معدل البطالة فى مصر نسبيًا ووصل إلى 24,8٪ لعام 2022م (وفقًا للجهاز المركزى للتعبئة العامة والإحصاء)». فى ضوء العبارة السابقة، من المتوقع أن يرجع هذا الانخفاض إلى

- تطوير التعليم الأساسى.
- الحد من عمليات الهجرة الداخلية.
- تطوير التعليم الأساسى.
- توظيف القدرات العلمية.
- تطوير التعليم الأساسى.
- توظيف القدرات العلمية.
- تطوير التعليم الأساسى.
- توظيف القدرات العلمية.

فهم • تطبيق • تحليل • تقييم • ابتكار



من خلال دراستك للخريطة التى أمامك نجد أن الجزء الرمادى يمثل محافظة بها

- عوامل جاذبة للسكان.
- كثافة سكانية متوسطة.
- تيارات هجرة نازحة.
- كثافة سكانية منخفضة.

أكثر العوامل تأثيراً فى نمو سكان محافظة القاهرة

- انخفاض التوقيتات.
- ارتفاع المواليد.
- الهجرة النازحة.
- الهجرة الخارجية.

توجد ظاهرة التصحر فى الأطراف الغربية لمحافظة


- الشرقية.
- البحيرة.
- كفر الشيخ.
- الداقية.

يمكن دعم المناخ الاستثمارى فى مصر عن طريق

- تشجيع المستثمرين الأجانب فى الصناعات الغذائية.
- توسيع فى مجالات التنمية الإقليمية.
- جذب الخبرات الفنية.
- توجيه الاستثمار نحو المشروعات المتنوعة.

اختر إجابتين صحيحتين من بين البدائل التالية :

من الرسم البيانى المقابل نستنتج



- وجود عجز فى الميزان التجارى.
- زيادة الصادرات من الحبوب الغذائية.
- زيادة الطلب على السلع الاستهلاكية.
- وفرة الإنتاج الحيوانى.
- ارتفاع معدلات التنمية.

أسئلة مقالية :

حدد مصداقية العبارة الآتية : تؤثر الزيادة فى أعداد السكان بالسلب على خطط التنمية الاقتصادية فى مصر.

«يُعد إنشاء المنوريل لربط القاهرة الكبرى بالمدن الجديدة نقطة تحول بالنسبة لتوزيع السكان فى مصر». ما رأيك فى العبارة السابقة ؟

ماذا يحدث إذا : استخدمت الأساليب العلمية والتكنولوجية فى عملية التعدين ؟

الاختبار الثاني عشر

فهم • تطبيق • تحليل • تقويم • ابتكار

اختر الإجابة الصحيحة من بين البدائل التالية :

- أخطر التحديات الاقتصادية التي تواجه الدولة المصرية للمعشلة السكانية
- (أ) عدم تحقيق الأمن المائي. (ب) ارتفاع معدلات الأمية.
(ج) ظهور العشوائيات. (د) استخدام عمالة الأطفال.

- استخدام التكنولوجيا القديمة وتقصي العمالة الماهرة في مصر أحد الأسباب التي أدت إلى
- (أ) انخفاض تكاليف الإنتاج. (ب) جذب الاستثمارات الخارجية.
(ج) عجز الميزان التجاري للدولة في القطاع الصناعي. (د) انتشار سياسة الإغراق.

- «تسعى الدولة لفرض عقوبات على البناء المخالف وغير القانوني».
- نشير العبارة السابقة إلى أحد أساليب مواجهة مشكلة
- (أ) عدم التوازن بين السكان والموارد. (ب) التوزيع العمري للسكان.
(ج) ارتفاع نسبة الأمية. (د) ارتفاع معدل البطالة.

يشير السهم بالخريطة التي أمامك إلى مصدر هام لرى أراضي غرب



- الوادي وهو
- (أ) بحريوسف. (ب) ترعة الإبراهيمية.
(ج) ترعة السوهاجية. (د) ترعة النويرية.

- يُعد من الحلول المقترحة لتعديل الهرم السكاني ليكون في صالح مصر
- (أ) تحسين الرعاية الصحية. (ب) تنظيم الأسرة.
(ج) تشجيع هجرة الشباب للخارج. (د) هجرة العقول المثكرة.

- أي من المعادن الآتية تتوفر شبه جزيرة سيناء بإنتاجه ؟
- (أ) الكروم. (ب) الجبس. (ج) المنجنيز. (د) النحاس.

- تُعد محافظة قنا من المحافظات الطاردة للسكان حيث تُخرج منها تيارات الهجرة إلى محافظة
- (أ) جنوب سيناء. (ب) الإسماعيلية. (ج) البحر الأحمر. (د) كفر الشيخ.

فهم • تطبيق • تحليل • تقويم • ابتكار

من خلال الخريطة التي أمامك، أي المحاصيل الآتية يزرع في



المنطقة الموضحة ؟

- (أ) القطن. (ب) الأرز.
(ج) القمح. (د) الذرة الشامية.


أشهر المدن التي تقام بها الصناعات الخشبية تقع بالقرب من ساحل

- (أ) خليج العقبة. (ب) خليج السويس. (ج) البحر الأحمر. (د) البحر المتوسط.

«توجد علاقة عكسية بين فقر التربة وكثافة السكان». تنطبق العبارة السابقة على أطراف محافظة

- (أ) الشرقية. (ب) المنوفية. (ج) القاهرة. (د) الغربية.

«تبذل مصر جهوداً للوصول إلى مرحلة الاستقرار السكاني». أي من الرسوم البيانية الآتية تمثل العبارة السابقة ؟



اختر إجابتين صحيحتين من بين البدائل التالية :

- أكثر العوامل تأثيراً في توزيع السكان بمحافظة الوادي الجديد و
- (أ) الزراعة. (ب) النقل والمواصلات. (ج) التعدين. (د) الصناعة. (هـ) المناخ.

أسئلة مقالية :

١٤ ما مقترحاتك ل: الحد من تناقص نسبة العاملين في الزراعة ؟

١٥ ماذا تتوقع إذا: استمر النمو السكاني في مصر بمعدله الحالي ؟

١٦ من خلال البيانات التي أمامك، استنتج :

أي من المحافظتين (س)، (ص) تتجه تيارات الهجرة إليها؟ ولماذا ؟

المحافظة	(س)	(ص)
عدد السكان	٣٨٩٨٥٠	٣٣٧٠٥١
المساحة	١٥٣٢ كم ^٢	٢٠٣٦٨٥ كم ^٢
النشاط الاقتصادي الرئيسي	الزراعة	السياحة والتعدين

الاختبار الثالث عشر

فهم • تطبيق • تحليل • تقويم • ابتكار


اختر الإجابة الصحيحة من بين البدائل التالية :

- ١ تُعد الكثافة العامة للسكان من أنواع الكثافات التي توضح
- ① التوزيع التقديري. ② الهجرة الداخلية.
③ التوزيع الفعلي. ④ الهجرة الخارجية.

- ٢ يُعد من الآثار الإيجابية لاستغلال مناجم الحديد المغناطيسي في مصر
- ① تشجيع الصادرات من خام الحديد. ② زيادة الواردات من خام المنتجين.
③ التوسع الصناعي. ④ زيادة الأسواق المتخصصة.

٣ من خلال دراستك للمشكلة السكانية والرسم البياني المقابل، نستنتج أن مصر

- ① تحقق الاكتفاء الذاتي من الإنتاج الحيواني.
② تستورد ما تحتاجه من المنتجات الحيوانية.
③ تحقق التوازن في الميزان التجاري للسلع الغذائية.
④ تصدر الفائض من الإنتاج الحيواني.



٤ إذا أردت الاستثمار في سيناء فمن الأفضل التركيز على الصناعات

① الهندسية. ② الجلدية. ③ الكهربائية. ④ الكيماوية.

٥ السبب الرئيسي في انتشار زراعة محصول الأرز في مصر الوسطى

① بناء السد العالي. ② ارتفاع منسوب المياه الجوفية.
③ التغيرات المناخية. ④ الزيادة السكانية.

٦ تم مد خط سكة حديد للربط بين العاصمة وأهم ممر ملاحى في مصر عن طريق ميناء

① العين السخنة. ② سفاجا. ③ مرسى علم. ④ السويس.

٧ ظهر تأثير التقنيات الحديثة على الاقتصاد المصرى من خلال

① تشجيع الاستثمارات القومية والأجنبية. ② الاهتمام بالتعليم الفنى.
③ تعديل البيانات المرتبطة بالدراسات الاقتصادية. ④ زيادة التبادل التجارى مع الدول الأوروبية.

فهم • تطبيق • تحليل • تقويم • ابتكار

٨ يرجع زيادة الإقبال على الأسماك في مصر إلى

① ارتفاع قيمتها الغذائية عن اللحوم. ② ضخامة الإنتاج السمكى.
③ نقل الدواجن تكثير من الأمراض. ④ تعويض النقص من البروتين الحيوانى.

٩ أكثر وسائل النقل شيوعاً في مصر

① السكك الحديدية. ② الطرق البرية. ③ النقل البحري. ④ النقل النهري.

١٠ أكثر العوامل تأثيراً في تركيز السكان في الوادى والدلتا

① عامل المناخ. ② عامل النقل والمواصلات.
③ عامل السطح. ④ العامل السياسى والعسكرى.

١١ يترتب على النشاط الاقتصادى السائد في مصر

① ظهور العشوائيات في المدن. ② الاكتفاء الذاتى من الغذاء.
③ ارتفاع مستوى المعيشة في الريف. ④ ارتفاع معدلات البطالة بين النساء.

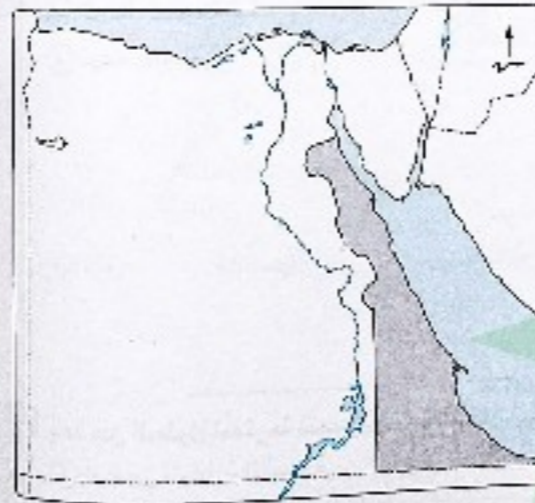
١٢ يظهر التباين الشديد بين المساحة وحجم السكان في محافظة

① الغربية. ② البحيرة. ③ القليوبية. ④ الوادى الجديد.

ب اختر إجابتين صحيحتين من بين البدائل التالية :

١٣ تشير الخريطة المقابلة إلى محافظة جاذبة للسكان بسبب توافر

① الزراعة. ② السياحة.
③ الصناعة. ④ النقل والمواصلات.
⑤ التعدين.



→ أسئلة مقالية :

١٤ حدد مصداقية العبارة الآتية : توجد علاقة بين الموقع الجغرافى لمصر وأهمية الموانى البحرية بها.

١٥ استنتج : الأسباب التى جعلت منطقة السهل الساحلى للصحراء الغربية منطقة جذب سياحى بمصر.

١٦ حدد الأثر السلبى لـ : التمو السكاني المرتفع على الاقتصاد المصرى.

الاختبار الرابع عشر

فهم • تطبيق • تحليل • تقويم • ابتكار

اختر الإجابة الصحيحة من بين البدائل التالية :



تمثل المرتبة القضاية التي أمامك أحد إنجازات النقل في مصر والتي يعود

إنشائها إلى عامل

- المناخ السائد.
- الموقع الفلكي.
- الموقع الجغرافي.
- المظهر التضاريسي.

أي مما يلي يُعد أحد العقبات التي تواجه النقل النهري في مصر؟

- ضعف الاستثمار الجيد لضفافه.
- قلة منسوبه طوال العام.
- سرعة جريانه.
- ارتفاع تكلفة استخدامه.

اهتمت الدولة بالتسويق السياحي لجنوب سيناء عن طريق

- إنشاء وزارة للثقافة والآثار.
- إنشاء كليات ومعاهد للسياحة.
- التوسع في إنشاء المطارات.
- المشاركة في المعارض العالمية.

يرجع السبب الرئيسي لزراعة بنجر السكر بمحافظات الوجه البحري إلى

- وفرة المصارف.
- وفرة الأيدي العاملة.
- الحرارة المعتدلة.
- التربة الطينية.

يؤدي عجز الموارد المالية المحلية عن تمويل المشروعات التنموية إلى ظهور مشكلة

- الإدمان.
- الإعانة.
- العشوائيات.
- الأمية.

يُعد صغر مساحة الملكيات الزراعية من العوامل المؤثرة سلبًا على محافظة

- البحيرة.
- شمال سيناء.
- الوادى الجديد.
- مطروح.

أكثر العوامل تأثيرًا في جذب السياح لمنطقة الساحل الشمالي المصري

- النقل.
- التنوع الاجتماعي.
- المناخ.
- الموقع الجغرافي.

فهم • تطبيق • تحليل • تقويم • ابتكار

يرجع وجود المناطق غير المخططة من الدولة والمفتقرة لشروط السكن الصحي بأطراف المدن الكبرى إلى

- حدوث الهجرة الخارجية.
- ارتفاع معدل الزيادة الطبيعية.
- حدوث الهجرة العائدة.
- قلة الخدمات في الريف.

يمكن زيادة مساحة الأراضي الزراعية لمحافظة كفر الشيخ بالاتجاه نحو أطرافها

- الشمالية.
- الجنوبية.
- الشرقية.
- الغربية.

أكثر الأنشطة الاقتصادية أهمية لسكان الوجه البحري

- الصناعة.
- الزراعة.
- السياحة.
- التعدين.

تتفرد محافظة شمال سيناء بوجود مناجم

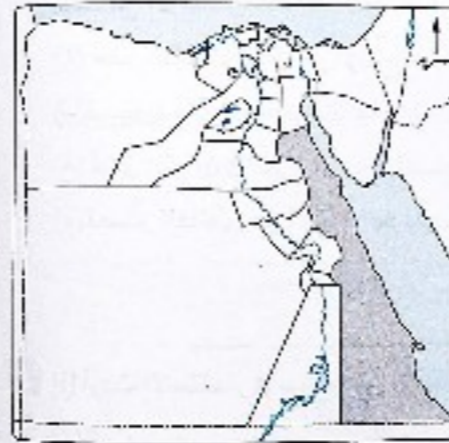
- الذهب.
- الحديد.
- الفحم.
- الفوسفات.

يرجع صعوبة استغلال المعدن الذي

توجد مناجمه بالمحافظة المظلة

بالخريطة المقابلة إلى

- المناخ السائد.
- انخفاض جودة الخام.
- قلة الأيدي العاملة.
- الطبيعة التضاريسية.



اختر إجابتين صحيحتين من بين البدائل التالية :

تشابه محافظة سوهاج مع محافظة المنوفية في ارتفاع

- نسبة الذكور.
- نسبة الإناث.
- مستوى المعيشة.
- معدل الأمية.
- مستوى الدخل.

أسئلة مقالية :

الإدمان - النمو السكاني المرتفع، استنتج العلاقة بين المشكلتين السابقتين.

ما رأيك في العبارة الآتية : تُعد محافظة الوادى الجديد من مناطق الجذب السياحي ؟

ما العلاقة بين : موارد المياه العذبة في مصر، وتوزيع السكان بها ؟

الاختبار الخامس عشر

فهم • تطبيق • تحليل • تقويم • ابتكار

اختر الإجابة الصحيحة من بين البدائل التالية :

- ١ ترتيب على الهجرة الخارجية في مصر
- نزوح الكفاءات المدربة.
 - انتشار بطانة المقنعة.
 - ظهور مشكلة العشوائيات.
 - ارتفاع معدل النمو السكاني.

- ٢ تؤدي زيادة معدلات الاستهلاك من السلع والمنتجات إلى
- انخفاض مستوى التقنيات بشكل عام.
 - زيادة الديون الخارجية والداخلية.
 - ارتفاع مستوى المعيشة.
 - استقرار الأوضاع السياسية.

- ٣ أي من المناطق الآتية تعد الأكثر إسهامًا في زيادة الإنتاج الزراعي في مصر بصورة غير مباشرة ؟
- وادي العلاقي.
 - السيامية والحاميد.
 - أم بجمة.
 - مناجم الجديدة.



٤ أمامك خريطة لمشروع تحت الدراسة، والذي يمكن من خلاله

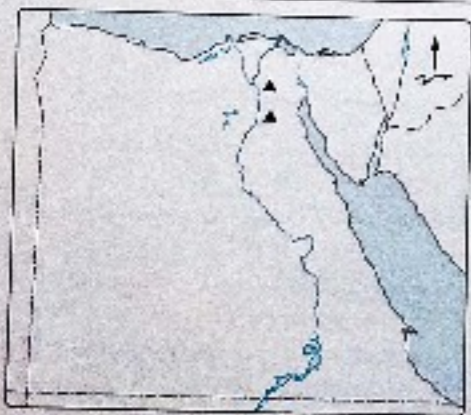
- تسهيل حركة تبادل تجاري والسياحي.
- تسهيل نقل البترول العربي إلى أوروبا.
- تسهيل نقل البترول المصري إلى السعودية.
- تعمية الشراكة المصرية الأفريقية.

٥ أكثر العوامل تأثيرًا في انخفاض الكثافة السكانية في محافظة كفر الشيخ

- موارد المياه.
- المناخ.
- التربة.
- النقل والمواصلات.

٦ لاستخدام الطرق التقليدية في الري بمصر بعض السلبيات والتي يمكن مواجهتها من خلال

- الاهتمام بزيادة بناء الحواجز المائية.
- استصلاح الأراضي بهوامش الدلتا.
- القيام بأعمال الصيانة على طول مجرى النهر.
- زيادة أعداد المصارف الزراعية.



٧ الخريطة التي أمامك توضح بعض مناطق

الصناعات المعدنية بمصر، ويرجع أسباب

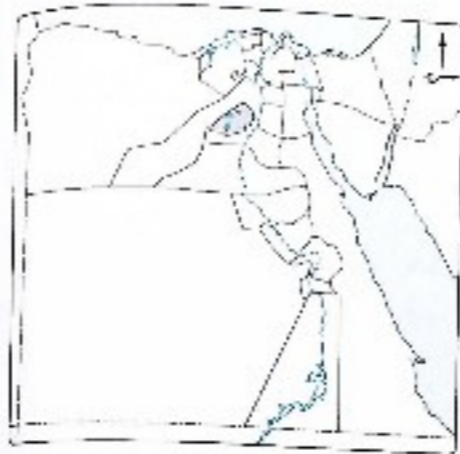
اختيارها إلى

- توافر الأيدي العاملة.
- القرب من موانئ التصدير.
- الابتعاد عن المناطق السكنية.
- القرب من مناطق الاستهلاك.

فهم • تطبيق • تحليل • تقويم • ابتكار

٨ المحافظة المظللة بالخريطة التي أمامك، تقوم

- باستخراج ملح الطعام والغاز الطبيعي.
- الجبس والقصدير.
- النحاس والليثيوم.
- الجبس والفحم.



٩ «الحرص على شراء كل ما هو مصري». يمكن تحقيق المقولة السابقة من خلال

- رفع الجمارك على الواردات من الصناعات العربية.
- إدخال صناعات حديثة مثل الإلكترونيات.
- تصدير دول الاتحاد الأوروبي آلات التصنيع لمصر.
- زيادة الواردات من المواد الخام اللازمة للصناعة.

١٠ يُعد أحد التحديات التي تواجه المجالات الإنتاجية في الاقتصاد المصري

- عودة العاملين من الدول العربية.
- نقص المواد الخام.
- زيادة معدلات الاستهلاك.
- قلة الاعتماد على التكنولوجيا الحديثة.

١١ تقوم الزراعة في منخفض الفيوم على

- نهر النيل.
- الأمطار الشتوية.
- الآبار والعيون.
- مخلة المياه المالحة.

١٢ يُعد من الأنشطة الاقتصادية التي تمارس في منطقة حمام فرعون

- الزراعة.
- الصناعة.
- التعدين.
- التجارة.

ب اختر إجابتين صحيحتين من بين البدائل التالية :

١٣ في توقعاتك أي المحافظات التالية يقل بها العشوائيات ؟

- القليوبية.
- الجيزة.
- المنيا.
- بني سويف.
- الإسكندرية.

ج أسئلة مقالية :


١٤ ماذا يحدث إذا أصبحت الكثافة الصافية للسكان في مصر ٩١,٨ نسمة/كم^٢ ؟

١٥ دال على صحة العبارة الآتية : تؤثر بعض الأنشطة الصناعية سلبيًا على الإنتاج الزراعي في مصر.


١٦ من وجهة نظرك ما الأسباب التي جعلت الدول العربية في المركز الأخير من قائمة الدول المصدرة لمصر ؟



إرشادات للإجابة



مهم • تصنيف • تحليل • تقويم • ابتكار



٨ يعبر الرسم البياني الذي أمامك عن أحد أبعاد المشكلة

- السكانية وهو البعد
- Ⓐ الأول.
 - Ⓑ الثاني.
 - Ⓒ الثالث.
 - Ⓓ الرابع.

٩ تعتمد السياحة في محافظة الجيزة على

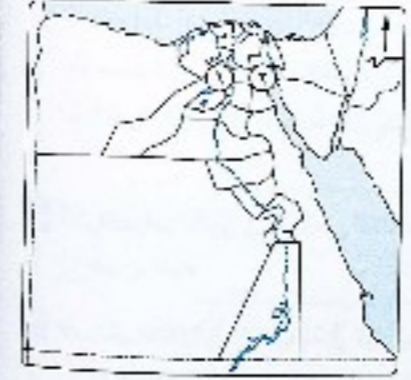
- Ⓐ التراث الحضاري والبيئة الطبيعية.
- Ⓑ التراث الحضاري والتنوع الاجتماعي.
- Ⓒ الموقع الجغرافي والمناخ المعتدل.
- Ⓓ المناخ المعتدل والتنوع الاجتماعي.

١٠ تصل مياه نهر النيل إلى ترعة الجرجاوية عبر قناطر

- Ⓐ أسبوط.
- Ⓑ إسنا.
- Ⓒ نجع حمادي.
- Ⓓ إدقينا.

١١ يمكن التغلب على مشكلة الازدحام في مدينة القاهرة من خلال

- Ⓐ وضع القيود على دخولها.
- Ⓑ تهجير سكان المناطق المزدهمة.
- Ⓒ التوسع في إنشاء الجامعات بالمدن الجديدة.
- Ⓓ زيادة الخدمات المرورية.



١٢ تتشابه المحافظين ١، ٢ في الخريطة التي أمامك في

- أتهما
- Ⓐ طاردتان للسكان.
 - Ⓑ ذات كثافة سكانية مرتفعة.
 - Ⓒ جاذبتان للسكان.
 - Ⓓ ذات كثافة سكانية منخفضة.

ب اختر إجابتين صحيحتين من بين البدائل التالية :

١٣ «الشراكة المصرية الأفريقية دور في تغيير الميزان التجاري لصر». ينتج عن العبارة السابقة

- Ⓐ زيادة الأسواق المتخصصة.
- Ⓑ تصدير مواد الخام لدول أفريقيا.
- Ⓒ تحقيق خطط التنمية الاقتصادية.
- Ⓓ زيادة الاهتمام بصناعة الإلكترونيات.
- Ⓔ تقليل الاستيراد من الاتحاد الأوروبي.

ج أمثلة مقالية :

١٤ فسر: استمرار الهيمنة الاقتصادية الغربية على معظم الدول العربية خاصة اليتولية.

١٥ «تتمتع شبه جزيرة سيناء بأهمية اقتصادية في مجالي التعدين ومصادر الطاقة». دلل على صحة العبارة السابقة.

١٦ «تعكس خريطة توزيع السكان في مصر التفاعل بين الإنسان وبيئته».

في ضوء العبارة السابقة، استنتج: عوامل تركيز السكان في محافظات الوجه القبلي.

الوحدة الثالثة

الدرس الأول

١	٢	٣	٤	٥
٦	٧	٨	٩	١٠
١١	١٢	١٣	١٤	١٥
١٦	١٧	١٨	١٩	٢٠
٢١	٢٢	٢٣	٢٤	٢٥
٢٦	٢٧	٢٨	٢٩	٣٠
٣١	٣٢	٣٣	٣٤	٣٥
٣٦	٣٧	٣٨	٣٩	٤٠
٤١	٤٢	٤٣	٤٤	٤٥
٤٦	٤٧	٤٨	٤٩	٥٠
٥١	٥٢	٥٣	٥٤	٥٥
٥٦	٥٧	٥٨	٥٩	٦٠
٦١	٦٢	٦٣	٦٤	٦٥

٦٥. زيادة مستوى الرعاية الصحية من خلال زيادة المستشفيات وخدمات تطعيم الأطفال ونشر الوعي الصحي.

٦٦. يترك للطلاب حرية الإجابة في ضوء :

- أن الإحصاءات الحيوية أكثر دقة لأنها تتم عن طريق تسجيل المواليد والوفيات وحالات الزواج والطلاق بأجهزة الدولة وبالتالي التي تكبت ذلك.

- أما التعدادات السكانية فبعضها جزء منها على عيّن السكان مما يعرضها لعدم الدقة.

٦٧. حيث يختلف التركيب النوعي للسكان نتيجة الهجرة فنجد :

- المحافظات الجاذبة للسكان تزداد بها نسبة الذكور عن الإناث.
- المحافظات الطاردة للسكان تقل بها نسبة الذكور عن الإناث.

٦٨. يترك للطلاب حرية الإجابة في ضوء :

- الاهتمام بتعليم الكبار وفصول محو الأمية.
- مشاركة المرأة في مجالات العمل المختلفة.
- الاعتماد بالتنمية الاقتصادية لرفع مستوى المعيشة للأسرة.
- الوعي بأهمية تنظيم الأسرة.

٦٩. يترك للطلاب حرية الإجابة في ضوء :

- انخفاض معدل النمو السكاني بالمدن.
- قلة المشكلات التي تعاني منها المدن مثل العشوائيات، الازدحام، البطالة.

٧٠. يترك للطلاب حرية الإجابة في ضوء :

- توفير فرص العمل للقضاء على البطالة والاهتمام بالخدمات الصحية والتعاقبية.
- زيادة الوحدات السكنية.
- تحسين مستوى معيشة السكان.

٧١. يترك للطلاب حرية الإجابة في ضوء :

- تزييد العبء والضغط على الخدمات في المدن.
- ظهور مشكلات عديدة تشمل تدوير المرفق وتلوث البيئة وزحف المياه على الأراضي الزراعية المحيطة وانتشار العشوائيات.
- حدوث ظاهرة هجرة العقول المفكرة.

٧٢. من أجل التخطيط المستقبلي في مجالات التعليم والصحة والاقتصاد وغيرها.

الدرس الثاني

١	٢	٣	٤	٥
٦	٧	٨	٩	١٠
١١	١٢	١٣	١٤	١٥
١٦	١٧	١٨	١٩	٢٠
٢١	٢٢	٢٣	٢٤	٢٥
٢٦	٢٧	٢٨	٢٩	٣٠
٣١	٣٢	٣٣	٣٤	٣٥
٣٦	٣٧	٣٨	٣٩	٤٠
٤١	٤٢	٤٣	٤٤	٤٥

٤٥. العبارة غير صادقة، لأن مظاهر السطح تؤثر في توزيع سكان مصر حيث:

- يتركز السكان في مناطق السهول خاصة الفيضية، بسبب:
♦ توافر التربة الخصبة والمياه العذبة.
♦ سهولة مد العروق.
♦ إنشاء المراكز العمرانية كالمدن.
- يندر السكان في المناطق الجبلية الوعرة مثل محافظتي البحر الأحمر وجنوب سيناء.

٤٦. تتمثل هذه العوامل في :

- وجود نهر النيل (مورد مائي عذب).
- وجود السهل الفيضي وقيام الزراعة.
- توافر وسائل النقل والمواصلات.

٤٧. يترك للطلاب حرية الإجابة في ضوء :

- المساهمة في زيادة الدخل القومي لمصر.
- جذب عدد كبير من السكان وقطوع مدن جديدة.
- زيادة الأنشطة الاقتصادية وتنوعها بالمنطقة.

٥٣ حيث تؤدي هجرة السكان من الريف للمدن إلى تضخم حجم المدن وازدحامها الشديد مما يؤدي إلى :
- الإضرار بيئتها وتدهورها . - انتشار العشوائية.

٥٤ يمثل في :

- نقص الغذاء وزيادة الطلب على السلع الاستهلاكية (تغذائية) ولا تفي المحاصيل الغذائية والثروة الحيوانية بحاجات السكان لذلك لجأت مصر لاستيراد هذه المحاصيل.
- نقص نصيب الفرد من المياه العذبة مما يؤثر على الزراعة واستصلاح الأراضي.

٥٥ يترك للطالب حرية الإجابة في ضوء :

توفير الكفاءات اللازمة لتطوير الصناعة مما ينعكس على زيادة فرص العمل وبالتالي قلة معدل البطالة بين السكان.

٥٦ يترك للطالب حرية الإجابة في ضوء :

أن نسبة كبيرة من سكان مصر فئة غير منتجة (صغار السن) تحتاج إلى العديد من الخدمات.

٥٧ يؤدي النمو السكاني المرتفع إلى انتشار البطالة التي تعد من أسباب اتجاه الشباب لتعاطي المخدرات وبالتالي الإدمان.

٥٨ يترك للطالب حرية الإجابة في ضوء :

- زيادة المدخرات المحلية وتشجيع الاستثمارات وبالتالي توفير فرص عمل.
- استثمار عوائد النمو الاقتصادي في رفع مستوى المعيشة في المجتمع.
- دعم وإنشاء المشروعات الصناعية ذات القيمة المضافة العالية.
- التنوع الاقتصادي بتنوع مصادر الدخل.

٥٩ يترك للطالب حرية الإجابة في ضوء :

- زيادة معدل الجريمة . - ارتفاع معدل الإدمان . - استمرار مشكلة المسكنية.

بلك أسئلة على الوحدة الثالثة

١	٢	٣	٤	٥
٦	٧	٨	٩	١٠
١١	١٢	١٣	١٤	١٥
١٦	١٧	١٨	١٩	٢٠
٢١	٢٢	٢٣	٢٤	٢٥
٢٦	٢٧	٢٨	٢٩	٣٠
٣١	٣٢	٣٣	٣٤	٣٥
٣٦	٣٧	٣٨	٣٩	٤٠
٤١	٤٢	٤٣	٤٤	٤٥
٤٦	٤٧	٤٨	٤٩	٥٠

٦٠ تعتبر المياه العذبة من العوامل الطبيعية المؤثرة في توزيع السكان حيث يتركز السكان في :

- وادي النيل والدلتا ومنخفض الفيوم لوجود نهر النيل.
- مناطق الواحات لوجود الآبار والعيون.

٦١ يترك للطالب حرية الإجابة في ضوء :

- توفر توارثه المدنية.
- أن تكون منطقة سهلة تسهولة مد طرق النقل والمواصلات.
- توفر الخدمات الصحية والتعليمية والاجتماعية.
- تركيز الإدارة والحكم والمنشآت الترفيهية والثقافية.

٦٢ يترك للطالب حرية الإجابة في ضوء :

سوف يؤدي ذلك إلى :
- حدوث تجانس بين عدد السكان ومساحات المحافظات.
- عدم ازدحام المدن وبالتالي عدم ظهور مشكلات مثل العشوائيات والتلوث.

٦٣ لأنه لا يعكس التوزيع الحقيقي لسكان ذلك لوجود مساحات واسعة غير معمورة وغير مستغلة اقتصادياً.

الدرس الثالث

١	٢	٣	٤	٥
٦	٧	٨	٩	١٠
١١	١٢	١٣	١٤	١٥
١٦	١٧	١٨	١٩	٢٠
٢١	٢٢	٢٣	٢٤	٢٥
٢٦	٢٧	٢٨	٢٩	٣٠
٣١	٣٢	٣٣	٣٤	٣٥
٣٦	٣٧	٣٨	٣٩	٤٠
٤١	٤٢	٤٣	٤٤	٤٥
٤٦	٤٧	٤٨	٤٩	٥٠

٦٤ حيث يؤدي اهتمام الدولة بإنشاء المدن الجديدة إلى :

- المساعدة في حل مشكلة التركز والازدحام السكاني.
- تقليل الضغط على الخدمات في المدن.
- الحد من انتشار العشوائيات وزحف المباني على الأراضي الزراعية المحيطة وبالتالي المساعدة في حل المشكلة السكانية بصفة عامة.

٦٥ بسبب التزايد السكاني الكبير والسرير (الناتج عن الزيادة الطبيعية أو غير الطبيعية) والذي يفسق كل معدلات التنمية الاقتصادية والاجتماعية ويهدد خطط التنمية المستقبلية.

الوحدة الرابعة

الدرس الأول

١	٢	٣	٤
٦	٧	٨	٩
١١	١٢	١٣	١٤
١٦	١٧	١٨	١٩
٢١	٢٢	٢٣	٢٤
٢٦	٢٧	٢٨	٢٩
٣١	٣٢	٣٣	٣٤
٣٦	٣٧	٣٨	٣٩
٤١	٤٢	٤٣	٤٤
٤٦	٤٧	٤٨	٤٩
٥١	٥٢	٥٣	٥٤
٥٦	٥٧	٥٨	٥٩
٦٠	٦١	٦٢	٦٣

٥٥	٥٦	٥٧	٥٨	٥٩
٦٠	٦١	٦٢	٦٣	٦٤
٦٥	٦٦	٦٧	٦٨	٦٩
٧٠	٧١	٧٢	٧٣	٧٤

- ٦٣ - تتمثل الطرق في : - إدخال وسائل حديثة في الري .
 - استنباط سلالات جيدة من المحاصيل الرئيسية .
- ٦٤ - حيث يعد تحريف التربة واستخدامها في صناعة الطوب الأحمر أحد الأنشطة الاقتصادية التي تعوق تحقيق التنمية الزراعية في مصر .
- ٦٥ - بسبب تنوع المصايد على سواحل البحرين الأحمر والتموزع بالإضافة إلى البحيرات الشمالية ونهر النيل ، وتوسع الدلتا لإنشاء المزارع السمكية .
- ٦٦ - يترك للعالم حرية الإجابة في ضوء :
 - الاهتمام بالإنتاج الزراعي من الحبوب الغذائية .
 - الاهتمام بثروة الحيوانية من خلال تقديم الرعاية البيطرية للحيوان .
 - زيادة مساحة الأراضي المروعة بالأعلاف .
 - التوسع في الإنتاج السمكي من خلال المزارع السمكية .
- ٦٧ - تتمثل في : - نقلت الملكية الزراعية و هجرة المزارعين ،
 - العمالة الزراعية غير المدربة .
 - النمو العمراني والتصحر .
 - انتشار الآفات وتحويل التربة .
 - استخدام الوسائل القديمة في الري والزراعة .
- ٦٨ - حيث تستثمر مصر بزراعة القطن طويل التيلة وتقوم بتصدير جزء منه إلى الخارج مما يساهم في زيادة الإيرادات من النقد الأجنبي وبالتالي يعود بالنفع على الاقتصاد المصري .
- ٦٩ - بسبب : - انتشار الآفات التي تؤدي إلى انخفاض إنتاجية القطن ،
 - استخدام الوسائل القديمة في عمليات الري والزراعة .

- ٧١ - سوف يساهم ذلك في معرفة القدرة الإنتاجية والحيوية لمصر في المستقبل كما يساهم في التخطيط المستقبلي في مجالات التعليم والصحة والاقتصاد وغيرها .
- ٧٢ - يترك للعالم حرية الإجابة في ضوء :
 - العمل على رفع الأجور وبالتالي رفع مستوى المعيشة .
 - إقامة مشروعات اقتصادية بها لتوفير فرص العمل .
 - الاهتمام بالخدمات الصحية والتعليمية والاجتماعية .
 - إنشاء مراكز عمرانية حديثة بها .
- ٧٣ - العبارة غير صادقة :
 لأن الهجرة الداخلية تساهم في إعادة توزيع السكان داخل الدولة أو المحافظة . بينما الهجرة الخارجية تساهم في خفض معدلات البطالة داخل الدولة .
- ٧٤ - يترك للعالم حرية الإجابة في ضوء :
 - استمرار المشكلة السكانية بمصر .
 - تهديد خطط التنمية المستقبلية .
 - استمرار الانحسار النسبي لقاعدة الهرم السكاني لمصر وبالتالي ارتفاع معدلات الإعالة وعدم الوصول لمرحلة الاستقرار السكاني .
- ٧٥ - يتسم توزيع السكان في مصر بالتركز الشديد في الوادي والدلتا ومنخفض الفيوم مما أدى إلى تزايد الجوع والضغط على الخدمات في المدن وتدهور المرافق .
- ٧٦ - العبارة غير صادقة :
 لأن دراسة التركيب السكاني لأي دولة لا يقتصر على التركيب العمري والتنوعي (الهرم السكاني) بل يشمل دراسة السكان من حيث الأنشطة الاقتصادية أو الحالة التعليمية .
- ٧٧ - ينتج عن الهجرة الداخلية تباين التركيب النوعي للسكان فزيادة عدد الذكور عن الإناث في المحافظات الجاذبة للسكان مثل البحر الأحمر وجنوب سيناء ، بينما يقل عدد الذكور عن الإناث في المحافظات الطاردة للسكان مثل كفر الشيخ والأقصر .
- ٧٨ - حيث : - يتركز السكان في مصر حول نهر النيل لوجود أنيابه ،
 - تزداد أعداد مراكز العمران في مناطق ذات التربة الخصبة مثل وسط الدلتا .

٧٠) يترك لطلاب حرية الإجابة في ضوء:

ميكيفي الإنتاج المبروق. حاجة مصر من اللحوم والمنتجات الحيوانية ولن تستورد مصر من الخارج.

الدرس الثالث

- ١) ٢) ٣) ٤) ٥) ٦) ٧) ٨) ٩) ١٠) ١١) ١٢) ١٣) ١٤) ١٥) ١٦) ١٧) ١٨) ١٩) ٢٠) ٢١) ٢٢) ٢٣) ٢٤) ٢٥) ٢٦) ٢٧) ٢٨) ٢٩) ٣٠) ٣١) ٣٢) ٣٣) ٣٤) ٣٥) ٣٦) ٣٧) ٣٨) ٣٩) ٤٠) ٤١) ٤٢) ٤٣) ٤٤) ٤٥) ٤٦) ٤٧) ٤٨) ٤٩) ٥٠) ٥١) ٥٢) ٥٣) ٥٤) ٥٥) ٥٦) ٥٧) ٥٨) ٥٩) ٦٠)

٦٠) - تتم بشكل أفقى من خلال: البحث في مناطق جديدة تتوافر بها الثروات المعدنية المختلفة أو متوقع وجودها فيها.

- تتم بشكل رأسى من خلال: تنمية الإنتاج في مناطق الإنتاج الحالية باستخدام الأساليب التكنولوجية والعلمية المتقدمة.

٦١) لأنه - مصدر للطاقة وأقل تلويثاً للبيئة.

- يستخدم كمادة خام في الصناعات البتروكيمياوية.

- يستخدم كوقود للسيارات.

- أدخل في كثير من المنازل كبدائل للبوتاجاز.

٦٢) يترك لطلاب حرية الإجابة في ضوء:

سوف يترتب على ذلك:

- تنمية الإنتاج في مناطق الإنتاج الحالية.

- إمكانية اكتشاف معادن جديدة.

- المساهمة في عمليات التنقيب والاستخراج في قطاع البترول

الذى تعتمد عليه مصر في دعم اقتصادها.

٦٣) يترك لطلاب حرية الإجابة في ضوء:

نقل القيمة الاقتصادية لهذه المناجم بسبب بعدها ووعورة التضاريس وتباعد المناجم.

٦٤) حيث يقتصر وجود النحاس في شبه جزيرة سيناء.

٦٥) بسبب انخفاض مستوى المعيشة وانخفاض الأجور مما أدى إلى ضعف الأسواق المحلية.

الدرس الثالث

- ١) ٢) ٣) ٤) ٥) ٦) ٧) ٨) ٩) ١٠) ١١) ١٢) ١٣) ١٤) ١٥) ١٦) ١٧) ١٨) ١٩) ٢٠) ٢١) ٢٢) ٢٣) ٢٤) ٢٥) ٢٦) ٢٧) ٢٨) ٢٩) ٣٠) ٣١) ٣٢) ٣٣) ٣٤) ٣٥) ٣٦) ٣٧) ٣٨) ٣٩) ٤٠) ٤١) ٤٢) ٤٣) ٤٤) ٤٥) ٤٦) ٤٧) ٤٨) ٤٩) ٥٠) ٥١) ٥٢) ٥٣) ٥٤) ٥٥)

٥١) بسبب وجود شبكة من الطرق البرية المرصوفة وغير المرصوفة الممتدة في جميع أنحاء مصر.

٥٢) سوف يؤدي ذلك إلى:

- تحسين البنية التحتية وبالتالي جذب الاستثمارات الأجنبية.

- تسهيل حركة نقل الركاب والبضائع وتنشيط التجارة الداخلية.

٥٣) يترك لطلاب حرية الإجابة في ضوء:

- تطوير الطرق والسكك الحديدية من أجل تنمية التجارة الداخلية.

- تطوير الموانئ القديمة وإنشاء موانئ حديثة وتطوير بناء السفن وزيادة أعدادها من أجل تنمية التجارة مع السوق الخارجية.

٥٤) تقع مصر على بحرين مهمين وهما البحر الأحمر بخليجه العقبة

والسويس والبحر المتوسط مما جعلها نقطة تنقل كثير من الخطوط

التجارية التي تمر بين الدول عن طريق الموانئ المختلفة، وأيضاً وجود

قناة السويس التي تعتبر من أهم الممرات الملاحية بالعالم.

٥٥) يترك لطلاب حرية الإجابة في ضوء:

أن التوسع الصناعي في مصر من خلال إنشاء المناطق الصناعية

الجديدة يساهم في زيادة معدل الصادرات للدولة وبالتالي تزداد

حركة التجارة الخارجية المصرية.

٥٦) بسبب - - مليحة الواردات المصرية.

- استمرار الهيمنة الاقتصادية الغربية على معظم

الدول العربية خاصة البترولية.

- التغيرات التي تتعرض لها المنطقة.

الدرس الرابع

- ١) ٢) ٣) ٤) ٥) ٦) ٧) ٨) ٩) ١٠) ١١) ١٢) ١٣) ١٤) ١٥) ١٦) ١٧) ١٨) ١٩) ٢٠) ٢١) ٢٢) ٢٣) ٢٤) ٢٥) ٢٦) ٢٧) ٢٨) ٢٩) ٣٠) ٣١) ٣٢) ٣٣) ٣٤) ٣٥) ٣٦) ٣٧) ٣٨) ٣٩) ٤٠) ٤١) ٤٢) ٤٣) ٤٤) ٤٥) ٤٦) ٤٧) ٤٨) ٤٩) ٥٠) ٥١) ٥٢) ٥٣) ٥٤) ٥٥)

٣٥) ساهم عدم استقرار الأوضاع السياسية في بعض الدول سلباً على الأوضاع الاقتصادية في مصر خاصة مع عودة العديد من العاملين بالدول العربية إلى مصر مما يضيف عبئاً على اقتصاديات البلاد.

٣٦) يترك للطلاب حرية الإجابة في ضوء :
حيث يوجد بها :
- تعيون العائنة الكهربائية والمعدنية الحارة في عدد كبير من الواحات.
- العديد من الآثار مثل : معبد هيبس بالخارجة ، ومقابر المزوفة ، وعشيرة شندي بالداخلة .
- مناطق جذب لسياحة السفارى حيث تتوفر بها خدمات السفارى .
- التكنبان الرملية والأشكال التضاريسية المتميزة .

٣٧) يترك للطلاب حرية الإجابة في ضوء :
- التوسع في إنشاء الفنادق بدرجاتها المختلفة .
- التوسع في إنشاء المطارات بالمناطق السياحية .
- إنشاء كليات ومعاهد السياحة لتوفير الكوادر .
- تطوير القرى السياحية والمنشآت .
- تحسين الطرق ووسائل النقل .
- المشاركة في المعارض العالمية .
- توعية المواطنين وإرشادهم بكيفية التعامل مع السياح .

٣٨) من جهود الدولة لتنمية السياحة بها إنشاء كليات ومعاهد سياحية لتوفير الكوادر العلمية والكفاءات في العمل السياحي .

٣٩) يؤدي زيادة النمو السكاني إلى زيادة معدلات الاستهلاك من السلع والمنتجات غير المتوفرة بالقدر الكافي مما يمثل عبئاً على الميزان التجاري المصري وزيادة معدلات الاستيراد .

٤٠) يترك للطلاب حرية الإجابة في ضوء :
سوف يساهم في :
- سهولة تداول المعلومات الاقتصادية مع المؤسسات العلمية .
- تحديث وتحديث البيانات والخرائط المرتبطة بالدراسات الاقتصادية .
- يساهم في تحسين طرق ووسائل الإنتاج الزراعي والصناعي .

بلك أسئلة على الوحدة الرابعة

- | | | | | |
|----|----|----|----|----|
| ١ | ٢ | ٣ | ٤ | ٥ |
| ٦ | ٧ | ٨ | ٩ | ١٠ |
| ١١ | ١٢ | ١٣ | ١٤ | ١٥ |
| ١٦ | ١٧ | ١٨ | ١٩ | ٢٠ |
| ٢١ | ٢٢ | ٢٣ | ٢٤ | ٢٥ |
| ٢٦ | ٢٧ | ٢٨ | ٢٩ | ٣٠ |
| ٣١ | ٣٢ | ٣٣ | ٣٤ | ٣٥ |

- | | | | | |
|----|----|----|----|----|
| ٣٦ | ٣٧ | ٣٨ | ٣٩ | ٤٠ |
| ٤١ | ٤٢ | ٤٣ | ٤٤ | ٤٥ |
| ٤٦ | ٤٧ | ٤٨ | ٤٩ | ٥٠ |
| ٥١ | ٥٢ | ٥٣ | ٥٤ | ٥٥ |
| ٥٦ | ٥٧ | ٥٨ | ٥٩ | ٦٠ |
| ٦١ | ٦٢ | ٦٣ | ٦٤ | ٦٥ |
| ٦٦ | ٦٧ | ٦٨ | ٦٩ | ٧٠ |
| ٧١ | ٧٢ | ٧٣ | ٧٤ | ٧٥ |
| ٧٦ | ٧٧ | ٧٨ | ٧٩ | ٨٠ |
| ٨١ | ٨٢ | ٨٣ | ٨٤ | ٨٥ |

٨٧) تسد حاجة السكان من الأسماك بدلاً من استيرادها خاصة وأن الأسماك تُعد بديلاً لنقص اللحوم والدواجن ومن أمثلة هذه المزارع السمكية مزرعة غليون .

٨٨) - تتم بشكل أقصى من خلال : البحث في مناطق جديدة تتوفر بها الثروات المعدنية المختلفة أو متوقع وجودها فيها .
- تتم بشكل رأسي من خلال : تنمية الإنتاج في مناطق الإنتاج الحالية باستخدام الأساليب التكنولوجية والعلمية المتقدمة .

٨٩) العبارة صادقة :
لأن عدم استقرار الأوضاع السياسية في دولة ما ينعكس بالسلب على اقتصادها والعكس صحيح .

٩٠) يترك للطلاب حرية الإجابة في ضوء :
زيادة إنتاج مصر من الحديد المغناطيسي عالي الجودة مما يساهم في تقدم الصناعة وتحقيق التنمية الاقتصادية .
٩١) أدى ارتفاع الزيادة السكانية في مصر إلى زيادة الطلب على السلع الاستهلاكية خاصة الغذائية وبالتالي اتجاه سياسات الحكومة بعصر إلى التوسع في زراعة المحاصيل الغذائية على حساب القطن .
٩٢) حيث تتميز به : - المناخ المعتدل .

- وجود القرى السياحية والتراث الحضاري .
- توافر شبكة جيدة من الطرق وتنوع وسائل النقل .
٩٣) يترك للطلاب حرية الإجابة في ضوء :
بمساعدة ذلك في تسهيل حركة نقل الأفراد والبضائع بين الدولتين مما يترتب عليه زيادة حركة التبادل التجاري والسياحي بينهما فيكون له أثر في تحقيق التكامل العربي .
٩٤) بسبب وجود ميناء الإسكندرية الذي من خلاله يتم التعامل مع أكثر من نصف تجارة مصر الخارجية إلى جانب ميناء بورسعيد الذي يُعد مدخل أو مخرج لقناة السويس .

إرشادات لإجابات الامتحانات الشهرية

امتحان شهر أبريل

الامتحان الأول

- ١ (د) ٢ (ب) ٣ (د) ٤ (د)
٥ (ب) ٦ (ب) ٧ (ب) ٨ (ب)

٩) حيث يعد تجريف التربة واستخدامها في صناعة الطوب الأحمر أحد الأنشطة الاقتصادية التي تعوق تحقيق التنمية الزراعية في مصر.

١٠) بسبب انخفاض مستوى المعيشة وانخفاض الأجر مما أدى إلى ضعف الأسواق المحلية.

الامتحان الثاني

- ١ (د) ٢ (ب) ٣ (ب) ٤ (ب)
٥ (ب) ٦ (ب) ٧ (د) ٨ (ب)

٩) تتمثل الطرق في :

- إدخال وسائل حديثة في الري.

- استنباط سلالات جيدة من المحاصيل الغذائية.

١٠) نعم من خلال البحث في مناطق جديدة تتوافر بها التروات المعدنية المختلفة أو متوقع وجودها فيها.

امتحان التهرى فبراير ومارس

الامتحان الأول

- ١ (ب) ٢ (ب) ٣ (ب) ٤ (د)
٥ (ب) ٦ (د) ٧ (د) ٨ (ب)

٩) حيث تتمثل :

- إيجابيًا: في تقليل البطالة وزيادة الدخل القومي من العمالة الأجنبية.

- سلبيًا: في تفرغ الدولة من العقول والكفاءات العلمية.

١٠) من أجل التخطيط المستقبلي في مجالات التعليم والصحة والاقتصاد وغيرها.

الامتحان الثاني

- ١ (ب) ٢ (ب) ٣ (ب) ٤ (ب)
٥ (ب) ٦ (ب) ٧ (ب) ٨ (ب)

٩) يترك للطالب حرية الإجابة في ضوء :

- العمل على رفع الأجر وبالتالي رفع مستوى المعيشة.

- إقامة مشروعات اقتصادية بها لتوفير فرص العمل.

- الاهتمام بالخدمات الصحية والتعليمية والاجتماعية.

- إنشاء مراكز عمرانية حديثة بها.

١٠) تعتبر المياه العذبة من العوامل الطبيعية المؤثرة في توزيع

السكان حيث يتركز السكان في :

- وادي النيل والدلتا ومنخفض الفيوم لوجود نهر النيل.

- مناطق الواحات لوجود الآبار والعيون.

٢٨ حيث :

- تقوم به الزراعة على مياه الأمطار.
- توجد به بعض الثروات المعدنية مثل الجبس.
- يقع عليه بعض الموانئ الهامة مثل مرسى مطروح والسويس.
- يعد أحد الأقاليم المسيحية الهامة في مصر.
- تربية الحيوانات على الحشائش التي تنمو عقب سقوط الأمطار.

٢٩ يترك للطالب حرية الإجابة في ضوء :

- التوسع في مجالات التنمية الإقليمية مناطق بعيدة عن التركيز السكاني.

٣٠ يترك للطالب حرية الإجابة في ضوء :

- اختيار الطالب محافظة القاهرة حيث أدى تركيز السكان بها لظهور عدة مشكلات تتمثل في :
 - تزايد العبء والضغط على الخدمات.
 - تدهور المرافق وتلوث البيئة.
 - انتشار العشوائيات.

٣١ حيث تتوسط مصر قارات العالم القديم (آسيا وأوروبا وأفريقيا) كما أنها تطل على بحرين مهمين (البحر المتوسط في الشمال والبحر الأحمر في الشرق) مما جعلها من الدول المهمة على خريطة العالم السياحية.

٣٢ بسبب عجز مخرجات المخلبة عن تمويل المشروعات اللازمة وبالتالي توجه الدولة للاقتراض من الخارج لتنفيذ تلك المشروعات.

٣٣ يمكن قيام :

- صناعات معدنية مثل الحديد والصلب، النحاس.
- صناعات غذائية مثل ملح الطعام.
- صناعات كيميائية وبترولية.
- صناعة مواد البناء مثل الجبس.
- صناعة الزجاج.

- ١ ٢ ٣ ٤ ٥
٦ ٧ ٨ ٩ ١٠
١١ ١٢ ١٣ ١٤ ١٥
١٦ ١٧ ١٨ ١٩ ٢٠
٢١ ٢٢

٢٢ أدى ارتفاع معدل النمو السكاني إلى انخفاض إنتاج مصر من القطن (المحاصيل النقدية) في السنوات الأخيرة نتيجة اتجاه الدولة نحو التوسع في زراعة المحاصيل الغذائية.

٢٤ يترك للطالب حرية الإجابة في ضوء :

- زيادة التبادل التجاري مع الدول العربية وبالتالي تقليل العجز في الميزان التجاري.
- التوسع الصناعي في مصر والدول العربية.

٢٥ حيث تعتمد الزراعة في :

- اسياحل الشعالي على مياه الأمطار.
- الواحات على مياه الآبار والعيون.
- منخفض الفيوم على مياه نهر النيل (عن طريق ترعة بحر يوسف).

٢٦ تتمثل في :

- هجرة المزارعين إلى المدن وإلى الخارج.
- تفتت الملكية الزراعية.
- الزحف العمراني على حساب الرقعة الزراعية.

٢٧

الأنشطة البشرية في جنوب سيناء	الأنشطة البشرية في شمال سيناء
• تركيز إنتاج البترول في منطقة خليج السويس.	• قيام النشاط الزراعي اعتماداً على مياه الأمطار ومياه الآبار والعيون.
• يتميز بوجود مساحة الغامرات والسفاري حيث المناطق الجبلية بالإضافة إلى إمكانية الفحص لرؤية الشعاب المرجانية.	• استخراج الفحم.

٣٤) يترك للمطالب حرية الإجابة في ضوء :

- تطوير التعليم وخاصة الفني وزيادة باحتياجات سوق العمل.
- توفير فرص عمل للسكان.
- تحفيز مؤسسات المجتمع المدني في دعم المشروعات الصغيرة.

٣٥) يترك للمطالب حرية الإجابة في ضوء :

- استخدام التقنيات الحديثة (الاستشعار من بُعد) في مجال البحث والتنقيب عن المعادن.

٣٦) عن طريق المشروعات الصناعية تزداد صادرات مصر من السلع والمنتجات وتقل وارداتها من الخارج.

٣٧) سوف يؤدي إلى التغلب على المشكلة السكانية وأكثرها الاقتصادية والاجتماعية.

٣٨) من خلال :

- تطوير بناء المصن وزيادة أعدادها.
- تطوير ائونات القديمة وإقامة موانئ جديدة.
- التوسع في شق الترع.

٣٩) - ينام يوم النشاط الزراعي اعتماداً على مياه النيل.

- قيام الصناعات الغذائية يوماً.

٤٠) يمكن عن طريق الإحصاءات السكانية التعرف على معدل الزيادة الطبيعية عن طريق تسجيلات المواليد والوفيات وبالتالي التعرف على المشكلة السكانية وبعدها وطرق التصدي لها.

٤١) زيادة الاستثمارات الاقتصادية في الدولة سوف يساهم في توفير فرص عمل للسكان (أثر إيجابي) بينما قلة الاستثمارات الاقتصادية في الدولة سوف يساهم في زيادة نسبة البطالة (أثر سلبي).

٤٢) يترك للمطالب حرية الإجابة في ضوء :

- التوسع في برامج التعليم والتدريب لتوفير العمالة المطلوبة في المشروعات التنموية.
- توفير التسهيلات للمستثمرين.
- الاهتمام بتحسين البنية التحتية.

٤٣) يترك للمطالب حرية الإجابة في ضوء :

- توفير الرعاية البيطرية.
- تحسين سالات الأبقار والأغنام.
- الأهتمام بالإرشاد الرعوي.

٤٤) يترك للمطالب حرية الإجابة في ضوء :

- الاشتراك في حملات التوعية للحفاظ على الثروة الزراعية.
- مساعدة الجهات الحكومية في اتخاذ الإجراءات اللازمة تجاه هذه الظاهرة.

٤٥) تعد طرق النقل بأنواعها المختلفة بمثابة شرايين الحياة بالنسبة للدولة لأن عن طريقها يتم نقل البضائع والمواد الخام والسكان مما يساهم في تحقيق التنمية الاقتصادية.



الاختبار الثالث

- ١٤ (١) ٢ (٣) ٤ (٥) ٥ (٦) ٦ (٧) ٧ (٨) ٨ (٩) ٩ (١٠) ١٠ (١١) ١١ (١٢) ١٢ (١٣) ١٣ (١٤) ١٤

١٤) يترك لطالب حرية الإجابة في ضوء :

- تحوير تعليمه وخاصة اتقني وربحته باحتياجات سوق العمل.
- توفير فرص عمل للسكان.
- تحفيز مؤسسات المجتمع المدني في دعم المشروعات الصغيرة.

١٥) العبارة صادقة، حيث :

- هاجر عدد كبير من سكان سيناء ومدن القناة إلى مناطق أخرى داخل مصر عندما احتلت إسرائيل سيناء عام ١٩٦٧م وما تبعها من أحداث حربية.
- عاد السكان إلى سيناء ومدن القناة وارتفعت بهم الكثافة السكانية بعد هزيمة إسرائيل عام ١٩٧٣م.

١٦) بسبب :

- نقص المساحات المزروعة بالأعلاف.
- استخدام الحيوانات في الأعمال الحقلية.
- انتشار الأمراض التي تفكك بانثره الحيوانية.
- قلة الإمكانيات البيطرية.
- ارتفاع أسعار الأعلاف المصنعة.

الاختبار الرابع

- ١٤ (١) ٢ (٣) ٤ (٥) ٥ (٦) ٦ (٧) ٧ (٨) ٨ (٩) ٩ (١٠) ١٠ (١١) ١١ (١٢) ١٢ (١٣) ١٣ (١٤) ١٤

١٤) حيث :

- يتركز السكان في مصر حول نهر النيل لوجود المياه.
- تزداد أعداد مراكز العمران في مناطق ذات التربة الخصبة مثل وسط الدلتا.

١٥) بسبب وجود فليبير جبلي (جبال البحر الأحمر) لقمصه الأودية التي تمثل مسالك وطرق داخل الصحراء يلم فيها السياحة البيئية.

١٦) يترك لطالب حرية الإجابة في ضوء :

- حيث إن الاعتماد على الآلات القديمة في العديد من المصانع (أيام الحال التداول) يصبح من معوقات الصناعة المصرية كما أن الاعتماد على الخارج في استيراد الآلات للتصنيع يعد من عتبات المعوقات.

الاختبار الأول

- ١ (٢) ٢ (٣) ٣ (٤) ٤ (٥) ٥ (٦) ٦ (٧) ٧ (٨) ٨ (٩) ٩ (١٠) ١٠ (١١) ١١ (١٢) ١٢ (١٣) ١٣ (١٤) ١٤

١٤) يترك لطالب حرية الإجابة في ضوء :

- جذب عدد كبير من السكان وظهور مدن جديدة.
- زيادة الأنشطة الاقتصادية وتنوعها بالمنطقة.
- الإسهام في زيادة لدخل القومي لمصر.

١٥) يترك لطالب حرية الإجابة في ضوء :

- توفير فرص العمل لاقضاء على البطالة والاهتمام بالخدمات الصحية والتعليمية.
- زيادة النوحات السكانية.
- تحسين مستوى معيشة السكان.

١٦) يترك لطالب حرية الإجابة في ضوء :

- زيادة معدل الجريمة.
- ارتفاع معدل الادمان.
- استمرار المشكلة السكانية.

الاختبار الثاني

- ١ (٢) ٢ (٣) ٣ (٤) ٤ (٥) ٥ (٦) ٦ (٧) ٧ (٨) ٨ (٩) ٩ (١٠) ١٠ (١١) ١١ (١٢) ١٢ (١٣) ١٣ (١٤) ١٤

١٤) لأنها تعكس :

- المستوى الاقتصادي بمصر.
- مستويات العلاقة بين مصر ودول العالم الخارجي.

١٥) سوف يؤدي ذلك إلى :

- حدوث نقص في العمالة الزراعية بها حيث أنها من المناطق الطاردة للسكان.
- انخفاض نسبة الذكور في محافظات الدلتا بالنسبة للإناث.

١٦) يترك لطالب حرية الإجابة في ضوء :

- رفع معدلات التنمية في كل الدول العربية.
- تحقيق الاعتماد المتبادل على الدول الأوروبية في الاستيراد.
- زيادة التبادل التجاري مع الدول العربية.

الاختبار السابع

- ١٤) أ ب ج د هـ
 ١٥) أ ب ج د هـ
 ١٦) أ ب ج د هـ

١٤) يترك لطلاب حرية الإجابة في ضوء :

- إشياء المدن الجديدة ووضع برامج تنموية شاملة يؤدي إلى حل المشكلة السكانية في مصر حيث يقل من :
 - تركيز السكان وعدم الضغط على خدمات منطقة القاهرة الكبرى.
 - ظهور العشوائيات.

١٥) حيث يقوم بإجراء التعدادات السكانية والتي تعتمد عليها الدولة في التخطيط المستقبلي للتنمية في المجالات المختلفة.

١٦) العبارة صادقة :

حيث يتم استغلال المناجم والقيام بعملية التعدين بسهولة في المناطق المستوية بينما يصعب استغلال المعادن في بعض المناطق بسبب وعورة التضاريس مثل عدم استغلال مناجم الحديد الغفطيسية من جبال البحر الأحمر حتى الآن.

الاختبار الثامن

- ١٤) أ ب ج د هـ
 ١٥) أ ب ج د هـ
 ١٦) أ ب ج د هـ

١٤) يشير الشكل إلى أن الأمية ترتفع بنسبة كبيرة بين سكان مصر وهو ما يشق حاجراً أمام مشروعات التنمية وهو أحد أبعاد المشكلة السكانية.

١٥) يترك لطلاب حرية الإجابة في ضوء :

- توافر الموارد المالية بها.
- توافر فرص عمل.
- ارتفاع الأجور ومستوى المعيشة.
- توافر الخدمات الصحية والتعليمية والاجتماعية.
- تركيز الإدارة والحكم والمنشآت الترفيهية والثقافية.

١٦) العبارة غير صادقة :

بسبب وجود مناجم حديد البحر الأحمر غير المستغلة حتى الآن بسبب إهداها ووعورة التضاريس وتباعدها المناجم مما يؤدي إلى خضن الشيبة الاقتصادية لهذه المناجم.

الاختبار التاسع

- ١٤) أ ب ج د هـ
 ١٥) أ ب ج د هـ
 ١٦) أ ب ج د هـ

١٤) يترك لطلاب حرية الإجابة في ضوء :

التجرب مصر إلى تربية الحيوانات اعتماداً على المساحات الشروية بالأحلاف. وذلك لتسد العجز في التربة الحيوانية.

١٥) بسبب وجود :

- تلويز جلي يمكن استخدامه في ممارسة رياضة تسلق الجبال.
- معدنية جين عليه والتي تحوي العديد من النباتات المفردة شديدة الجمال.
- تلويز ساحلي يتمثل في البحر الأحمر والذي يستخدم في ممارسة رياضة الغوص لمشاهدة الشعاب المرجانية.

١٦) أدت الزيادة السكانية إلى زيادة الطلب على المحاصيل الغذائية مما أدى إلى اتجاه السياسات الحكومية بمسرح نحو التوسع في زراعة المحاصيل الغذائية كالتجمع على حساب المحاصيل الأخرى كالتفاح مما أثر على إنتاج القطن في مصر.

الاختبار العاشر

- ١٤) أ ب ج د هـ
 ١٥) أ ب ج د هـ
 ١٦) أ ب ج د هـ

١٤) تُعد الكثافة انصافية، مؤشر الحقيقي للكثافة السكانية في مصر والتي تساعدنا على معرفة احتياجات الدولة في المجالات الصحية والتعليمية والاقتصادية وما يجب أن يتوفر منها في مناطق تركيز السكان.

١٥) العبارة صادقة :

حيث أدى وجود تكوينات الزمن الأركي شرق مصر (جبال البحر الأحمر) إلى ندرة السكان في هذه المنطقة بسبب الطبيعة التضاريسية الوعرة.

١٦) يترك لطلاب حرية الإجابة في ضوء :

تحويل النقص في الغذاء البروتيني من اللحوم والسمك وتحويل وتحقيق الاكتفاء الذاتي وتسيير الفائض إلى الخارج مما يحقق فائض في الميزان التجاري المصري.

الاختبار التاسع

١٤. ١. ٢. ٣. ٤. ٥. ٦. ٧. ٨. ٩. ١٠. ١١. ١٢. ١٣. ١٤. ١٥.

١٤. يترك للطالب حرية الإجابة في ضوء :

- زيادة المدخرات المحلية وتشجيع الاستثمارات وبالتالي توفير فرص عمل.
- استثمار عوائد النمو الاقتصادي في رفع مستوى المعيشة في المجتمع.
- دعم وإنشاء المشروعات الصناعية ذات القيمة المضافة العالية.
- التنويع الاقتصادي بتنويع مصادر الدخل ووضع هدفًا استراتيجيًا في معظم خطط التنمية المختلفة.

١٥. يترك للطالب حرية الإجابة في ضوء :

- التوسع في إنشاء الفنادق والمطارات والمناطق السياحية وتطويرها.
- إنشاء كليات ومعاهد السياحة.
- تطوير انقري السياحة والمنتجات.
- تحسين الطرق ووسائل النقل.
- المشاركة في المعارض العالمية وزيادة عملية التسويق السياحي في دول العالم.

١٦. عن طريق تشجيع الاستثمار في المجالات الصناعية وتقديم التسهيلات المناسبة لذلك، وفي ضوء ذلك يقوم المستثمرين باستغلال مثل هذه التسهيلات في مجالات الصناعة المختلفة وتسخين الأيدي العاملة المصرية وإنتاج منتجات صناعية تنافس الصناعات العالية.

الاختبار العاشر

١٤. ١. ٢. ٣. ٤. ٥. ٦. ٧. ٨. ٩. ١٠. ١١. ١٢. ١٣. ١٤. ١٥.

١٤. العبارة صادقة. حيث : ظهر الأثر السلبي للزيادة السكانية بمصر على خطط التنمية الاقتصادية في :

- نقص الغذاء وزيادة الطلب على السلع الاستهلاكية وخاصة الغذائية مما لجأت مصر لاستيراد هذه المعاصيل.
- نقص نصيب الفرد من المياه العذبة مما يؤثر على مشروعات التنمية الزراعية.

١٥. يترك للطالب حرية الإجابة في ضوء :

- سوف يؤدي ذلك إلى :
- جذب عدد كبير من السكان للمدن الجديدة.
- خفض الضغط على الخدمات في القاهرة الكبرى.
- القضاء على ظاهرة العشوائيات.

١٦. يترك للطالب حرية الإجابة في ضوء :

- سوف يترتب على ذلك :
- تنمية الإنتاج في مناطق الإنتاج الحالية.
- إمكانية اكتشاف معادن جديدة.
- المساعدة في عمليات التنقيب والاستخراج في قطاع البترول الذي تعتمد عليه مصر في دعم اقتصادها.

الاختبار الحادي عشر

١٤. ١. ٢. ٣. ٤. ٥. ٦. ٧. ٨. ٩. ١٠. ١١. ١٢. ١٣. ١٤. ١٥.

١٤. يترك للطالب حرية الإجابة في ضوء :

- مساعدة المزارعين بمنحهم القروض ومدهم بالأسمدة والأعلاف وتوريد محاصيلهم بأسعار مناسبة.
- دعم نقابة الفلاحين.

١٥. من المتوقع :

- استمرار المشكلة السكانية بمصر.
- تهديد خطط التنمية المستقبلية.
- ارتفاع معدلات الإعالة.
- عدم وصول مصر لمرحلة الاستقرار السكاني.

١٦. تتجه تيارات الهجرة من المحافظة (س) إلى المحافظة (ص) وذلك بسبب :

- توافر فرص العمل مثل السياحة والتعدين.
- ارتفاع الأجور.
- ارتفاع مستوى المعيشة.
- توافر المنشآت الترفيهية والترفيهية.

الاختبار الثاني عشر

١٤. ١. ٢. ٣. ٤. ٥. ٦. ٧. ٨. ٩. ١٠. ١١. ١٢. ١٣. ١٤. ١٥.

١٤) العبارة صادقة :

حيث تقع مسير على بحرين مهمين وهما البحر الأحمر
بخليجه العنية والسويس والبحر المتوسط مما جعلها تقطة
التقاء كثير من الخطوط التجارية التي تربط الدول عن طريق
الموانئ المختلفة.

١٥) تتمثل في :

- وجود عشرات القرى المسيحية به.
- كثرة الشواطئ الرملية.
- اشاح الدافق والشمس الساطعة.

١٦) تؤدي زيادة النمو السكاني إلى زيادة معدلات الاستهلاك من
السلع والمنتجات غير المتوفرة بالقدر الكافي مما يمثل عبئاً على
الميزان التجاري المصري وزيادة معدلات الاستيراد.

الاختبار الثالث عشر

- | | | | | |
|--------|--------|--------|--------|--------|
| ١) ١ | ٢) ٢ | ٣) ٢ | ٤) ٤ | ٥) ٥ |
| ٦) ٦ | ٧) ٧ | ٨) ٨ | ٩) ٩ | ١٠) ١٠ |
| ١١) ١١ | ١٢) ١٢ | ١٣) ١٣ | ١٤) ١٤ | ١٥) ١٥ |

١٤) يؤدي النمو السكاني المرتفع إلى انتشار البطالة التي تعد من
أسباب اتجاه الشباب لتعاطي المخدرات وباتصال الإدمان.

١٥) يترك للعالم حرية الإجابة في ضوء :

- حيث يوجد بها :
- العيون المائية الكبريتية والحديدية الحارة في عدد كبير من الواحات .
- العديد من الآثار ، مثل : معبد هيبس بالخارجة ، ومقابر الشروق .
- مقبرة شندي بالداخل .
- مناطق جذب لسياحة السفاري حيث تتوفر بها مخيمات السفاري .
- الكتيبان الرملية والأشكال التضاريسية المتميزة .

١٦) تعتبر المياه العذبة من العوامل الطبيعية المؤثرة في توزيع السكان
حيث يتركز السكان في مناطق وجودها مثل :
- وادي النيل والدلتا والفيوم بوجود نهر النيل .
- مناطق الواحات بوجود الآبار والعيون .

الاختبار الرابع عشر

- | | | | | |
|--------|--------|--------|--------|--------|
| ١) ١ | ٢) ٢ | ٣) ٣ | ٤) ٤ | ٥) ٥ |
| ٦) ٦ | ٧) ٧ | ٨) ٨ | ٩) ٩ | ١٠) ١٠ |
| ١١) ١١ | ١٢) ١٢ | ١٣) ١٣ | ١٤) ١٤ | ١٥) ١٥ |

١٤) يترك للعالم حرية الإجابة في ضوء :

- سوف يؤدي ذلك إلى :
- حدوث تجانس بين عدة السكان ومساحات المحافظات .
- عدم ازدهار المدن وبالتالي عدم ظهور مشكلات مثل
العشوائيات والتلوث .

١٥) حيث تعتمد صناعة الطوب الأحمر على تجريف التربة الزراعية
مما يعوق تحقيق التنمية الزراعية في مصر وذلك أصدرت الدولة
قوانين تمنع ذلك .

١٦) يترك للعالم حرية الإجابة في ضوء :

- أن الاتفاقيات بين الدول العربية ثنائية ، وليس وفقاً لقرارات
استراتيجية تتخذها المنظمات العربية .
- التغييرات التي تتعرض لها المنطقة .
- استمرار الهيمنة الاقتصادية الغربية على معظم الدول
العربية خاصة البترولية .
- تشابه المنتجات العربية كما أن معظمها مواد خام .

الاختبار الخامس عشر

- | | | | | |
|--------|--------|--------|--------|--------|
| ١) ١ | ٢) ٢ | ٣) ٢ | ٤) ٤ | ٥) ٥ |
| ٦) ٦ | ٧) ٧ | ٨) ٨ | ٩) ٩ | ١٠) ١٠ |
| ١١) ١١ | ١٢) ١٢ | ١٣) ١٣ | ١٤) ١٤ | ١٥) ١٥ |

١٤) بسبب :

- التغييرات التي تتعرض لها المنطقة .
- أن الاتفاقيات بين الدول العربية ليست وفقاً لقرارات
استراتيجية مما يصعب تحقيق الشراكة بينهم .
- تشابه المنتجات العربية كما أن معظمها خام .

١٥) حيث يوجد بها :

- الثروات المعدنية ، مثل : المنجنيز وتنجيس والنحاس وبغال الزجاج .
- مصادر الطاقة ، مثل :
- ♦ الفحم .
- ♦ البترول في الحقول البرية على الجبال تشقق لخليج السويس .

١٦) تتمثل هذه العوامل في :

- وجود نهر النيل (مورد مائي عذب) .
- توافر التربة الخصبة .
- وجود السهل الفيضي وقدم الزراعة .
- توافر وسائل النقل والتواصلات .

الفهرس

الصفحة	الموضوع
٥	الوحدة 3 سكان مصر.
٦	الدرس الأول نمو وتركيب السكان في مصر.
٢٦	الدرس الثاني توزيع السكان والكثافة السكانية في مصر.
٤١	الدرس الثالث المشكلات السكانية والاجتماعية وسرنا ريوهات المستقبل.
٥٧	بنك أسئلة على الوحدة الثالثة.
٦٧	الوحدة 4 الأنشطة الاقتصادية في مصر.
٦٨	الدرس الأول النشاط الزراعي في مصر.
٨٨	الدرس الثاني النشاط التعدين والصناعي في مصر.
١٠٦	الدرس الثالث النقل والتجارة في مصر.
١٢١	الدرس الرابع السياحة في مصر وتحديات الاقتصاد المصري.
١٣٣	بنك أسئلة على الوحدة الرابعة.
١٤٤	؟ امتحانات شهرية.
١٥١	؟ أسئلة استرشادية (من الكتاب المدرسي).
١٥٦	؟ اختبارات كتاب الامتحان.
١٨٧	✓ إرشادات للإجابة.

الرجاء الدعاء لمصور الكتاب
بالنجاح والتوفيق
وقفنا ووقفكم الله جميعا